



Kementerian Pendidikan dan Kebudayaan  
Republik Indonesia  
2013

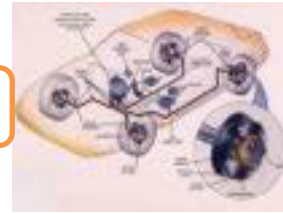


# Chassis Management System (CMS)

UNTUK SMK / MAK KELAS XI



1



## HALAMAN FRANCIS

**Penulis** : **Sudaryono**  
**Editor Materi** : **Toyibu**  
**Editor Bahasa** :  
**Ilustrasi Sampul** :  
**Desain & Ilustrasi Buku** :  
**Hak Cipta © 2013, Kementerian Pendidikan & Kebudayaan**

**MILIK NEGARA**  
**TIDAK DIPERDAGANGKAN**

Semua hak cipta dilindungi undang-undang.

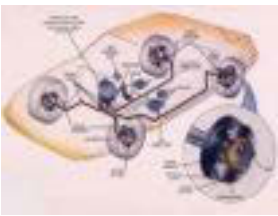
Dilarang memperbanyak (merekproduksi), mendistribusikan, atau memindahkan sebagian atau seluruh isi buku teks dalam bentuk apapun atau dengan cara apapun, termasuk fotokopi, rekaman, atau melalui metode (media) elektronik atau mekanis lainnya, tanpa izin tertulis dari penerbit, kecuali dalam kasus lain, seperti diwujudkan dalam kutipan singkat atau tinjauan penulisan ilmiah dan penggunaan non-komersial tertentu lainnya diizinkan oleh perundangan hak cipta. Penggunaan untuk komersial harus mendapat izin tertulis dari Penerbit.

Hak publikasi dan penerbitan dari seluruh isi buku teks dipegang oleh Kementerian Pendidikan & Kebudayaan.

Untuk permohonan izin dapat ditujukan kepada Direktorat Pembinaan Sekolah Menengah Kejuruan, melalui alamat berikut ini:

Pusat Pengembangan & Pemberdayaan Pendidik & Tenaga Kependidikan Bidang Otomotif & Elektronika:

Jl. Teluk Mandar, Arjosari Tromol Pos 5, Malang 65102, Telp. (0341) 491239, (0341) 495849, Fax. (0341) 491342, Surel: [vedcmalang@vedcmalang.or.id](mailto:vedcmalang@vedcmalang.or.id), Laman: [www.vedcmalang.com](http://www.vedcmalang.com)



## Chassis Management System (CMS)

### **DISKLAIMER (*DISCLAIMER*)**

Penerbit tidak menjamin kebenaran dan keakuratan isi/informasi yang tertulis di dalam buku teks ini. Kebenaran dan keakuratan isi/informasi merupakan tanggung jawab dan wewenang dari penulis.

Penerbit tidak bertanggung jawab dan tidak melayani terhadap semua komentar apapun yang ada didalam buku teks ini. Setiap komentar yang tercantum untuk tujuan perbaikan isi adalah tanggung jawab dari masing-masing penulis.

Setiap kutipan yang ada di dalam buku teks akan dicantumkan sumbernya dan penerbit tidak bertanggung jawab terhadap isi dari kutipan tersebut. Kebenaran keakuratan isi kutipan tetap menjadi tanggung jawab dan hak diberikan pada penulis dan pemilik asli. Penulis bertanggung jawab penuh terhadap setiap perawatan (perbaikan) dalam menyusun informasi dan bahan dalam buku teks ini.

Penerbit tidak bertanggung jawab atas kerugian, kerusakan atau ketidaknyamanan yang disebabkan sebagai akibat dari ketidakjelasan, ketidaktepatan atau kesalahan didalam menyusun makna kalimat didalam buku teks ini.

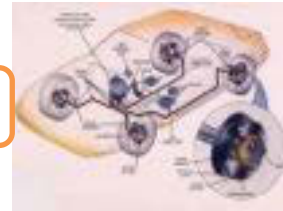
Kewenangan Penerbit hanya sebatas memindahkan atau menerbitkan mempublikasi, mencetak, memegang dan memproses data sesuai dengan undang-undang yang berkaitan dengan perlindungan data.

Katalog Dalam Terbitan (KDT)

Teknik Ototronik, Edisi Pertama 2013

Kementerian Pendidikan & Kebudayaan

Direktorat Jenderal Peningkatan Mutu Pendidik & Tenaga Kependidikan,  
th. 2013: Jakarta



### KATA PENGANTAR

Puji syukur kami panjatkan kepada Tuhan yang Maha Esa atas tersusunnya buku teks ini, dengan harapan dapat digunakan sebagai buku teks untuk siswa Sekolah Menengah Kejuruan (SMK) Bidang Studi Keahlian Ototronik, Chasis Management System (CMS)

Penerapan kurikulum 2013 mengacu pada paradigma belajar kurikulum abad 21 menyebabkan terjadinya perubahan, yakni dari pengajaran (*teaching*) menjadi BELAJAR (*learning*), dari pembelajaran yang berpusat kepada guru (*teachers-centered*) menjadi pembelajaran yang berpusat kepada peserta didik (*student-centered*), dari pembelajaran pasif (*pasive learning*) ke cara belajar peserta didik aktif (*active learning-CBSA*) atau *Student Active Learning-SAL*.

Buku teks " Chasis Management System (CMS)" ini disusun berdasarkan tuntutan paradigma pengajaran dan pembelajaran kurikulum 2013 diselaraskan berdasarkan pendekatan model pembelajaran yang sesuai dengan kebutuhan belajar kurikulum abad 21, yaitu pendekatan model pembelajaran berbasis peningkatan keterampilan proses sains.

Penyajian buku teks untuk Mata Pelajaran " Chasis Management System (CMS)" ini disusun dengan tujuan agar supaya peserta didik dapat melakukan proses pencarian pengetahuan berkenaan dengan materi pelajaran melalui berbagai aktivitas proses sains sebagaimana dilakukan oleh para ilmuwan dalam melakukan eksperimen ilmiah (penerapan *scientific*), dengan demikian peserta didik diarahkan untuk menemukan sendiri berbagai fakta, membangun konsep, dan nilai-nilai baru secara mandiri.

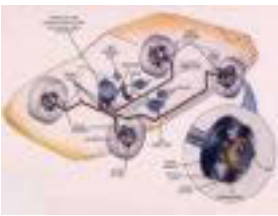
Kementerian Pendidikan dan Kebudayaan, Direktorat Pembinaan Sekolah Menengah Kejuruan, dan Direktorat Jenderal Peningkatan Mutu Pendidik dan Tenaga Kependidikan menyampaikan terima kasih, sekaligus saran kritik demi kesempurnaan buku teks ini dan penghargaan kepada semua pihak yang telah berperan serta dalam membantu terselesaikannya buku teks siswa untuk Mata Pelajaran Chasis Management System (CMS) kelas XI /Semester 1 Sekolah Menengah Kejuruan (SMK).

Jakarta, 12 Desember 2013

Menteri Pendidikan dan Kebudayaan

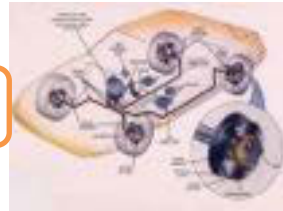
Prof. Dr. Mohammad Nuh, DEA



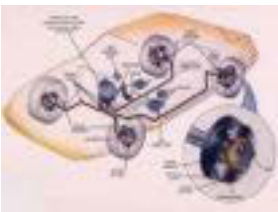


## DAFTAR ISI

<b>Halaman Francis</b> .....	<b>ii</b>
<b>Kata Pengantar</b> .....	<b>iv</b>
<b>Daftar Isi</b> .....	<b>v</b>
<b>Glosarium</b> .....	<b>x</b>
<b>Peta Kedudukan</b> .....	<b>xiii</b>
<b>1. PENDAHULUAN</b>	
1.1. Deskripsi .....	1
1.2. Prasyarat .....	2
1.3. Petunjuk Penggunaan .....	2
1.4. Tujuan Akhir .....	2
1.5. Kompetensi Inti dan Kompetensi Dasar.....	3
1.6. Cek Kemampuan Awal .....	3
<b>2. SISTEM REM</b>	
<b>2.1. Kegiatan Pembelajaran : <i>Pendahuluan Rem</i></b>	
2.1.1. Tujuan Pembelajaran .....	6
2.1.2. Uraian Materi .....	6
2.1.3. Rangkuman .....	15
2.1.4. Tugas.....	15
2.1.5. Tes Formatif.....	15
2.1.6. Lembar Jawaban Tes Formatif.....	16
2.1.7. Lembar Kerja siswa .....	16
<b>2.2. Kegiatan Pembelajaran : <i>Rem Tromol</i></b>	
2.2.1 Tujuan Pembelajaran .....	19
2.2.2 Uraian Materi .....	19
2.2.3 Rangkuman .....	28
2.2.4 Tugas.....	30
2.2.5 Tes Formatif.....	30
2.2.6 Lembar Jawaban Tes Formatif.....	31
2.2.7 Lembar Kerja siswa .....	32
<b>2.3. Kegiatan Pembelajaran : <i>Rem Cakram</i></b>	
2.3.1. Tujuan Pembelajaran .....	35
2.3.2. Uraian Materi.....	35
2.3.3. Rangkuman.....	46
2.3.4. Tugas.....	46
2.3.5. Tes Formatif .....	47
2.3.6. Lembar Jawaban Tes Formatif.....	47

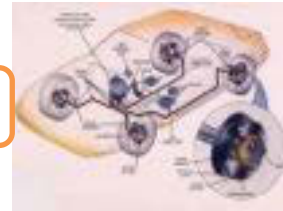


2.3.7.	Lembar Kerja siswa.....	48
<b>2.4.</b>	<b>Kegiatan Pembelajaran : <i>Hidrolik Rem dan Boster</i></b>	
2.4.1.	Tujuan Pembelajaran .....	50
2.4.2.	Uraian Materi.....	50
2.4.3.	Rangkuman.....	73
2.4.4.	Tugas .....	75
2.4.5.	Tes Formatif .....	75
2.4.6.	Lembar Jawaban Tes Formatif .....	75
2.4.7.	Lembar Kerja siswa.....	77
<b>2.5.</b>	<b>Kegiatan Pembelajaran : <i>Rem Tangan dan Parkir</i></b>	
2.5.1.	Tujuan Pembelajaran .....	81
2.5.2.	Uraian Materi.....	81
2.5.3.	Rangkuman.....	90
2.5.4.	Tugas .....	91
2.5.5.	Tes Formatif .....	92
2.5.6.	Lembar Jawaban Tes Formatif .....	92
2.5.7.	Lembar Kerja siswa.....	93
<b>2.6.</b>	<b>Kegiatan Pembelajaran : <i>Pengatur Tekanan Rem</i></b>	
2.6.1.	Tujuan Pembelajaran .....	95
2.6.2.	Uraian Materi.....	96
2.6.3.	Rangkuman .....	111
2.6.4.	Tugas .....	111
2.6.5.	Tes Formatif .....	112
2.6.6.	Lembar Jawaban Tes Formatif .....	112
2.6.7.	Lembar Kerja Siswa .....	113
<b>3.</b>	<b>SISTEM KEMUDI</b>	
<b>3.1.</b>	<b>Kegiatan Pembelajaran : <i>Sistem Kemudi</i></b>	
3.1.1.	Tujuan Pembelajaran .....	115
3.1.2.	Uraian Materi.....	115
3.1.3.	Rangkuman.....	132
3.1.4.	Tugas .....	133
3.1.5.	Tes Formatif .....	133
3.1.6.	Lembar Jawaban Tes Formatif .....	133
3.1.7.	Lembar Kerja siswa.....	134
<b>4.</b>	<b>SISTEM PEMINDAH TENAGA</b>	
<b>4.1</b>	<b>Kegiatan Pembelajaran : <i>Kopling</i></b>	
4.1.1.	Tujuan Pembelajaran .....	139
4.1.2.	Uraian Materi.....	139



## Chassis Management System (CMS)

4.1.3.	Rangkuman.....	149
4.1.4.	Tugas.....	150
4.1.5.	Tes Formatif.....	150
4.1.6.	Lembar Jawaban Tes Formatif.....	150
4.1.7.	Lembar Kerja siswa.....	151
<b>4.2 Kegiatan Pembelajaran : <i>Transmisi</i></b>		
4.2.1.	Tujuan Pembelajaran .....	157
4.2.2.	Uraian Materi.....	157
4.2.3.	Rangkuman.....	165
4.2.4.	Tugas.....	165
4.2.5.	Tes Formatif.....	166
4.2.6.	Lembar Jawaban Tes Formatif.....	166
4.2.7.	Lembar Kerja siswa.....	167
<b>4.3 Kegiatan Pembelajaran : <i>Poros Penggerak</i></b>		
4.3.1.	Tujuan Pembelajaran .....	169
4.3.2.	Uraian Materi.....	169
4.3.3.	Rangkuman.....	179
4.3.4.	Tugas.....	180
4.3.5.	Tes Formatif.....	180
4.3.6.	Lembar Jawaban Tes Formatif.....	180
4.3.7.	Lembar Kerja siswa.....	181
<b>4.4 Kegiatan Pembelajaran : <i>Penggerak Aksel</i></b>		
4.4.1.	Tujuan Pembelajaran .....	183
4.4.2.	Uraian Materi.....	183
4.4.3.	Rangkuman.....	190
4.4.4.	Tugas.....	191
4.4.5.	Tes Formatif.....	191
4.4.6.	Lembar Jawaban Tes Formatif.....	191
4.4.7.	Lembar Kerja siswa.....	193
<b>5. SISTEM SUSPENSI</b>		
<b>5.1 Kegiatan Pembelajaran : <i>Pendahuluan Suspensi</i></b>		
5.1.1.	Tujuan Pembelajaran .....	195
5.1.2.	Uraian Materi.....	195
5.1.3.	Rangkuman.....	205
5.1.4.	Tugas.....	206
5.1.5.	Tes Formatif.....	206
5.1.6.	Lembar Jawaban Tes Formatif.....	206
5.1.7.	Lembar Kerja siswa.....	207



## 5.2 Kegiatan Pembelajaran : *Macam-macam Suspensi*

5.2.1.	Tujuan Pembelajaran .....	208
5.2.2.	Uraian Materi.....	209
5.2.3.	Rangkuman.....	216
5.2.4.	Tugas .....	217
5.2.5.	Tes Formatif .....	217
5.2.6.	Lembar Jawaban Tes Formatif .....	217
5.2.7.	Lembar Kerja siswa.....	218

## 5.3 Kegiatan Pembelajaran : *Pegas dan Peredam Getaran*

5.3.1.	Tujuan Pembelajaran .....	220
5.3.2.	Uraian Materi.....	220
5.3.3.	Rangkuman.....	231
5.3.4.	Tugas .....	232
5.3.5.	Tes Formatif .....	232
5.3.6.	Lembar Jawaban Tes Formatif .....	233
5.3.7.	Lembar Kerja siswa.....	234

## 6.GEOMETRI RODA

### 6.1 Kegiatan Pembelajaran : *Pendahuluan Geometri Roda*

6.1.1.	Tujuan Pembelajaran .....	236
6.1.2.	Uraian Materi.....	236
6.1.3.	Rangkuman.....	242
6.1.4.	Tugas .....	242
6.1.5.	Tes Formatif .....	242
6.1.6.	Lembar Jawaban Tes Formatif .....	243
6.1.7.	Lembar Kerja siswa.....	243

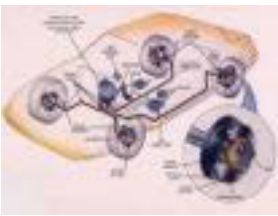
### 6.2 Kegiatan Pembelajaran : *Pengertian dan Fungsi Geometri Roda*

6.2.1.	Tujuan Pembelajaran .....	244
6.2.2.	Uraian Materi.....	245
6.2.3.	Rangkuman.....	267
6.2.4.	Tugas .....	267
6.2.5.	Tes Formatif .....	267
6.2.6.	Lembar Jawaban Tes Formatif .....	268
6.2.7.	Lembar Kerja siswa.....	268

### 6.3 Kegiatan Pembelajaran : *Letak Penyetelan Geometri Roda*

6.3.1.	Tujuan Pembelajaran .....	269
6.3.2.	Uraian Materi.....	270
6.3.3.	Rangkuman.....	274





## Chassis Management System (CMS)

6.3.4.	Tugas.....	276
6.3.5.	Tes Formatif.....	276
6.3.6.	Lembar Jawaban Tes Formatif.....	276
6.3.7.	Lembar Kerja siswa.....	278

## 7. BAN

### 7.1. Kegiatan Pembelajaran : *Ban*

7.1.1.	Tujuan Pembelajaran .....	280
7.1.2.	Uraian Materi.....	280
7.1.3.	Rangkuman.....	292
7.1.4.	Tugas.....	293
7.1.5.	Tes Formatif.....	293
7.1.6.	Lembar Jawaban Tes Formatif.....	293
7.1.7.	Lembar Kerja siswa.....	294

## 8. SISTEM REM DENGAN KONTROL ELEKTRONIK

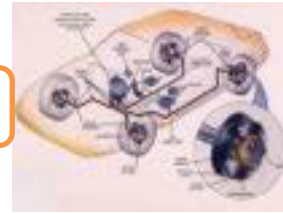
### 8.1. Kegiatan Pembelajaran : *Pendahuluan SRKE*

8.1.1.	Tujuan Pembelajaran .....	297
8.1.2.	Uraian Materi.....	297
8.1.3.	Rangkuman.....	312
8.1.4.	Tugas.....	313
8.1.5.	Tes Formatif.....	313
8.1.6.	Lembar Jawaban Tes Formatif.....	313
8.1.7.	Lembar Kerja siswa.....	314

### 8.2. Kegiatan Pembelajaran : *Anti-lock Brake System*

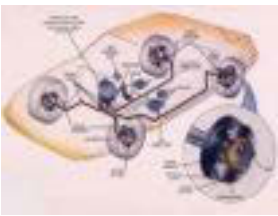
8.2.1.	Tujuan Pembelajaran .....	316
8.2.2.	Uraian Materi.....	316
8.2.3.	Rangkuman.....	320
8.2.4.	Tugas.....	322
8.2.5.	Tes Formatif.....	322
8.2.6.	Lembar Jawaban Tes Formatif.....	322
8.2.7.	Lembar Kerja siswa.....	323

Daftar Pustaka .....	325
----------------------	-----



### Glosarium

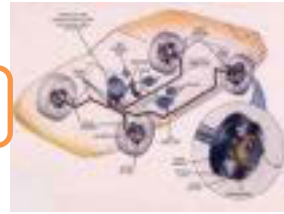
<i>Steering wheel</i>	: roda kemudi
<i>Steering column</i>	: kolom kemudi
<i>Steering gear</i>	: roda gigi kemudi
<i>Steering linkage.</i>	: sambungan kemudi
<i>Shaft</i>	: poros
<i>Column</i>	: kolom
<i>Pitman arm</i>	: lengan pitman
<i>Knuckle arm</i>	: lengan knuckle
<i>Recirculating ball</i>	: bola bersirkulasi
<i>Housing steering rack</i>	: rumah kemudi jenis rack
<i>Booth steer</i>	: karet penutup debu kemudi
<i>Power steering</i>	: penguat kemudi
<i>Hydraulic pump</i>	: pompa hidrolis
<i>Fluid reservoir</i>	: tempat cadangan cairan
<i>Flexibel joint</i>	: sambungan fleksibel
<i>Steering lock</i>	: pengunci kemudi
<i>Worm shaft</i>	: poros cacing
<i>Hidrolic power steering</i>	: penguat kemudi dengan sumber tenaga hidrolis
<i>Electronic power steering</i>	: penguat kemudi dengan sumber tenaga elektronik
<i>Akselerasi</i>	: percepatan
<i>Traksi</i>	: kemampuan roda menyalurkan gaya ke jalan
<i>Carcass</i>	: lilitan/lapisan kawat pada ban
<i>Tread</i>	: telapak ban
<i>Side wall</i>	: dinding samping ban
<i>Breaker</i>	: lapisan antara lilitan kawat dengan telapak ban
<i>Belt</i>	: sabuk
<i>Beads</i>	: butiran
<i>Shoulder</i>	: bahu ban



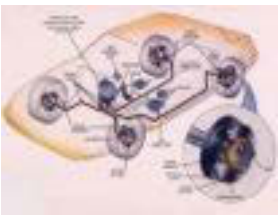
## Chasis Management System (CMS)

<i>Inner liner</i>	: lapisan karet anti air
<i>Tube – type</i>	: tipe menggunakan ban dalam
<i>Tube less</i>	: tipe tidak menggunakan ban dalam
<i>Aspek ratio</i>	: perbandingan antara tinggi dan lebar ban
<i>Tire marking</i>	: kode ban
<i>Speed index</i>	: indek kecepatan
<i>Load index</i>	: indek beban
<i>Fly rating</i>	: angka yang menunjukkan kekuatan ban
<i>Thread wear indicator</i>	: indikator keausan ban
<i>Clutch</i>	: kopling
<i>Disc clutch</i>	: piringan kopling
<i>Cone clutch</i>	: <i>kopling konis</i>
<i>One way clutch</i>	: kopling satu arah
<i>Driving shaft</i>	: poros penggerak
<i>Driven shaft</i>	: poros yang digerakkan
<i>Torsion spring damper</i>	: pegas peredam kejutan
<i>Rivet</i>	: paku keling
<i>Clutch cover</i>	: penutup kopling
<i>Fly wheel</i>	: roda gila
<i>Sliding gear</i>	: gigi geser
<i>Constan mesh</i>	: gigi tetap
<i>Cross joint</i>	: sambungan silang
<i>self energizing effect</i>	: gaya pengereman sendiri
<i>Fading</i>	: penurunan nilai koefisien gesek
<i>Fluida</i>	: cairan
<i>Vacum</i>	: tekanan dibawah atmosfer
<i>Port less</i>	: tanpa lubang kompensasi
<i>Boster</i>	: penguat gaya pengereman
<i>Yawing</i>	: gerakan kendaraan yang mengimpang ke sisi kanan dan kiri dari titik sumbu tengah kendaraan
<i>Rolling</i>	: gerakan bodi kendaraan miring ke kanan atau kekiri

## Chasis Management System (CMS)

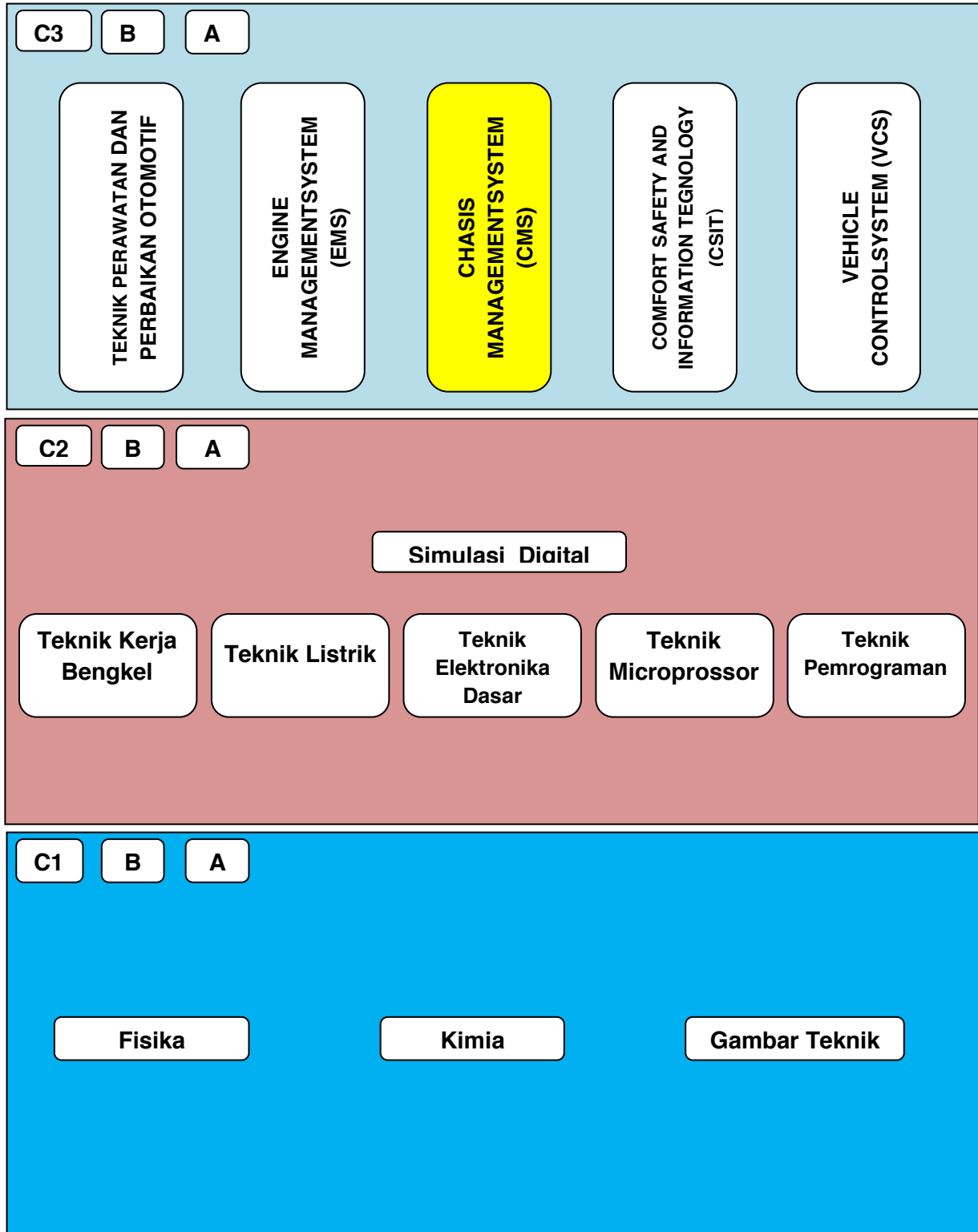


<i>Pitching</i>	:	gerakan turun naik pada bagian depan dan belakang kendaraan
<i>Bouncing</i>	:	gerakan naik turun pada keseluruhan bodi kendaraan
<i>Side force</i>	:	gaya samping
<i>Tractive force</i>	:	gaya traksi
<i>Tractive resistance.</i>	:	tahanan traksi
<i>Rigid</i>	:	kaku
<i>Geometri roda</i>	:	Sudut-sudut roda terhadap aksis horizontal, vertikal, memanjang, melintang
<i>Camber</i>	:	Kemiringan rodaterhadapaksis vertical dilihatdaridepankendaraan
<i>Caster</i>	:	Kemiringan king-pin terhadapaksis vertical dilihatdarisampingkendaraan
<i>Toe-in</i>	:	Sikaprodaterhadapaksismemanjangdilihatdariataskendaraan
<i>Inclinasi King-pin</i>	:	Kemiringansumbu king-pin terhadapaksis vertical dilihatdaridepankendaraan
<i>Lock Brake</i>	:	Roda terkunci (tidak berputar) saat pengereman dan kendaraan masih berjalan



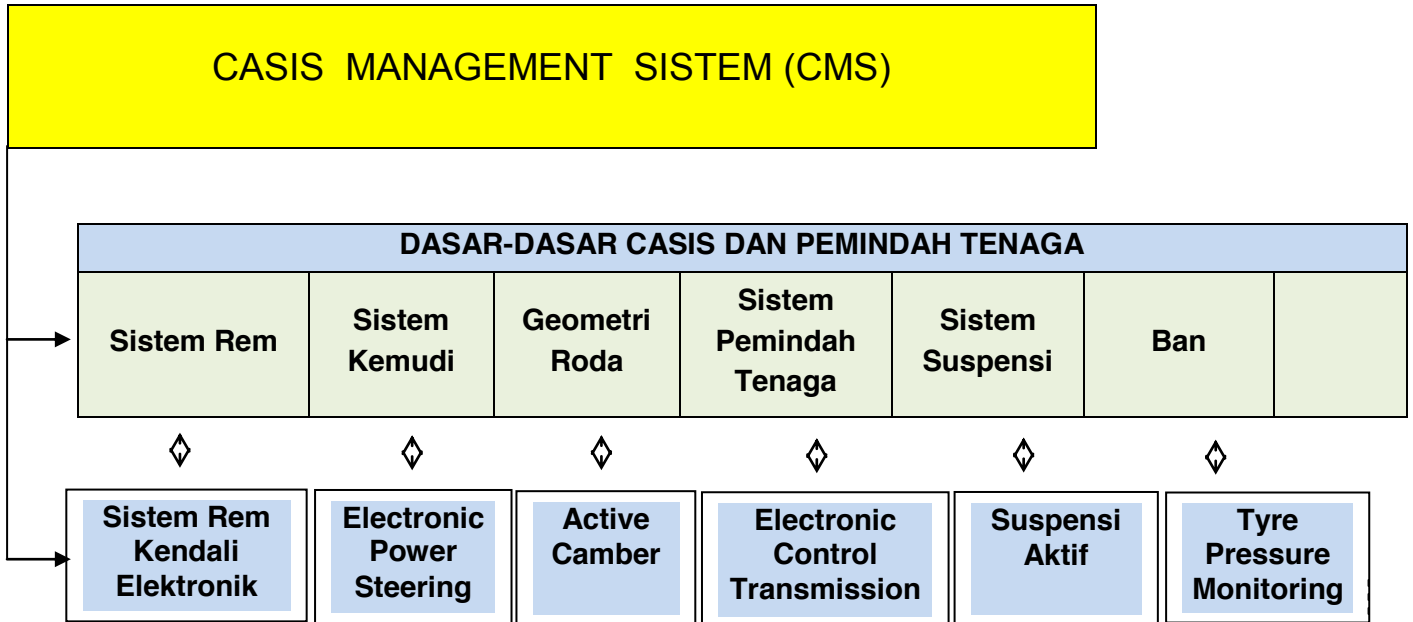
## Chassis Management System (CMS)

### Peta Kedudukan Bahan Ajar

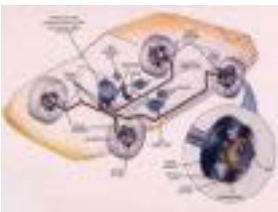




Rincian Materi Chasis Management System :







# BAB I PENDAHULUAN

## 1.1. Deskripsi

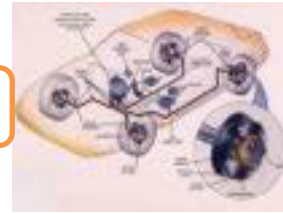
**Bahan Ajar Dasar-dasar Casis dan Sistem Pemindah Tenaga** merupakan salah satu sumber belajar siswa SMK jurusan Elektronika yang memuat materi dasar/basic system casis dan sistem pemindah tenaga pada kendaraan untuk mendukung pemahaman materi lanjutan yang berorientasi pada penerapan sistem kontrol elektronik ke sistem casis dan pemindah tenaga.

Ruang lingkup materi dasar/basic casis dan sistem pemindah tenaga adalah memberikan pemahaman fungsi dan cara kerja sistem serta keterampilan melaksanakan perawatan sehingga dapat memberikan penguasaan materi sistem mekanik sebelum dilanjutkan materi lanjutan tentang aplikasi kontrol pada sistem tersebut.

Seiring dengan perkembangan teknologi otomotif saat ini, sistem casis dan pemindah tenaga yang tadinya standar konvensional mulai tergantikan dengan sistem yang memanfaatkan teknologi kontrol elektronik, bahkan juga mulai banyak melibatkan teknologi IT (Information Teknologi) untuk meningkatkan kinerja dan memenuhi tuntutan standar teknis yang semakin tinggi, sebagai contoh pengembangan dari sistem konvensional yaitu : Anti-lock Break System, Electronic Power Steering, Electronic Transmission Control, Active Suspension, Active Camber, Tire Pressure Monitoring.

Dasar-dasar casis dan sistem pemindah tenaga pada kendaraan bermotor secara standar terdiri dari:

- Sistem Rem
- Sistem Kemudi
- Sistem Pemindah Tenaga
- Sistem Suspensi
- Geometri
- Ban



### 1.2. Prasyarat

Materi dasar-dasar casis dan pemindah tenaga memberikan bekal awal dalam memahami kompetensi casis manajemen sistem. Materi ini disampaikan pada kelas XI semester 1.

### 1.3. Petunjuk Penggunaan

Buku ini dibuat dengan memberikan penjelasan tentang pengetahuan dasar-dasar casis dan pemindah tenaga. Untuk memungkinkansiswa belajar sendiri secara tuntas, maka perlu diketahui bahwa isi buku ini pada setiap kegiatan belajar umumnya terdiri atas : Uraian materi, Rangkuman, Tugas, Tes Formatif, Lembar Jawaban Tes Formatif dan Lembar kerja peserta didik, sehingga diharapkan siswa dapat belajar mandiri (*individual learning*) dan *mastery learning* (belajar tuntas) dapat tercapai.

### 1.4. Tujuan Akhir

Tujuan akhir yang hendak dicapai adalah agar siswa mampu:

- Memahami dan menyajikan data hasil analisis berdasarkan pengamatan tentang fungsi, komponen dan cara kerja dari sistem rem.
- Memahami dan menyajikan data hasil analisis berdasarkan pengamatan tentang fungsi, komponen dan cara kerja dari sistem kemudi.
- Memahami dan menyajikan data hasil analisis berdasarkan pengamatan tentang fungsi, komponen dan cara kerja dari kopling.
- Memahami dan menyajikan data hasil analisis berdasarkan pengamatan tentang fungsi, komponen dan cara kerja dari transmisi
- Memahami dan menyajikan data hasil analisis berdasarkan pengamatan tentang fungsi, komponen dan cara kerja dari poros penggerak.



## Chasis Management System (CMS)

- Memahami dan menyajikan data hasil analisis berdasarkan pengamatan tentang fungsi, komponen dan cara kerja dari penggerak aksel.
- Memahami dan menyajikan data hasil analisis berdasarkan pengamatan tentang fungsi, komponen dan cara kerja dari suspensi.
- Memahami dan menyajikan data hasil analisis berdasarkan pengamatan tentang fungsi, komponen dan cara kerja dari geometri roda.
- Memahami dan menyajikan data hasil analisis berdasarkan pengamatan tentang fungsi, jenis-jenis, ukuran dan kerusakan dari ban

### 1.5. Kompetensi Inti dan Kompetensi Dasar

- 1) Menjelaskan dasar-dasar chasis dan pemindah tenaga
- 2) Memelihara sistem standar chasis dan pemindah tenaga

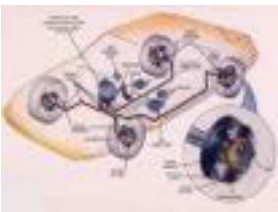
### 1.6. Cek Kemampuan Awal

- 1) Jelaskan fungsi sistem rem !
- 2) Sebutkan komponen-komponen sistem rem !
- 3) Jelaskan cara kerja sistem rem !
- 4) Jelaskan fungsi sistem kemudi !
- 5) Sebutkan komponen-komponen sistem kemudi !
- 6) Jelaskan cara kerja sistem kemudi !
- 7) Jelaskan fungsi kopling !
- 8) Sebutkan komponen-komponen kopling !
- 9) Jelaskan cara kerja kopling !
- 10) Jelaskan fungsi transmisi !
- 11) Sebutkan komponen-komponen transmisi !
- 12) Jelaskan cara kerja transmisi !
- 13) Jelaskan fungsi poros penggerak !
- 14) Sebutkan bagian-bagian poros penggerak !
- 15) Jelaskan fungsi penggerak aksel !
- 16) Sebutkan komponen-komponen penggerak aksel !

## Chasis Management System (CMS)




17) Jelaskan cara kerja penggerak aksel !



## BAB 2 SISTEM REM

### 2.1. Kegiatan Pembelajaran :Pendahuluan Rem



Dengan mengamati Gambardiatas diskusikan jawaban dari pertanyaan berikut ini:

Mengapa kendaraan tidak menabrak anak-anak yang sedang bermain didepannya jelaskan ?

---

---

---

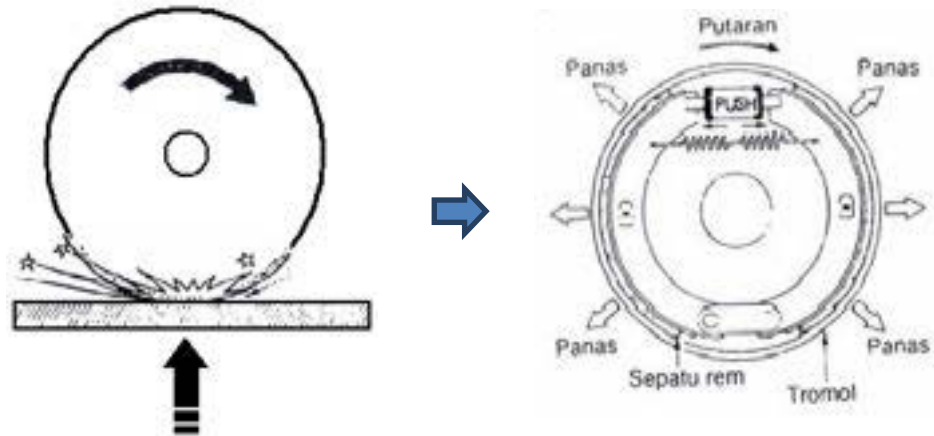
---

---

---

---

## Chasis Management System (CMS)



<http://terror-oxide.faa.im/sistem-rem-pada-mobil.xhtml>

Dengan mengamati Gambar diatas diskusikan jawaban dari pertanyaan berikut ini :

Faktor apa saja yang menentukan besarnya perlambatan kendaraan saat pengereman dan beri penjelasan?

---

---

---

---

---

---

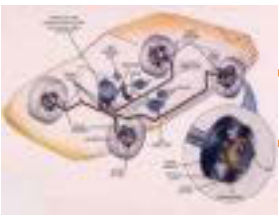
---

---

---

---





## Chassis Management System (CMS)

### 2.1.1. Tujuan Pembelajaran :

Setelah selesai proses pembelajaran siswa dapat :

- ✓ Menerangkan apa yang dimaksud sistem rem pada kendaraan
- ✓ Menjelaskan fungsi sistem rem pada kendaraan
- ✓ Menerangkan prinsip kerja rem gesek
- ✓ Menjelaskan kegunaan sistem pada kendaraan
- ✓ Mengidentifikasi macam-macam sistem pada kendaraan


### 2.1.2. Uraian Materi :

Sistem rem merupakan bagian kendaraan yang merupakan aspek *pengaman* yang paling penting, yang harus dapat melaksanakan perlambatan kendaraan dengan baik, stabil dan nyaman serta membuat kendaraan tetap berhenti.

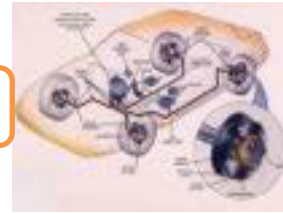
#### A. Fungsi Rem

Kendaraan dengan sistem rem dalam menjalankan fungsinya harus memiliki kemampuan :

- 1) Dapat menghentikan kendaraan dengan cepat.
- 2) Gaya rem harus dapat diatur sesuai dengan kehendak sopir



Gambar 2.1 Fungsi Rem



### **B. Prinsip Kerja Rem Gesek**

Hingga saat ini kendaraan jalan raya masih menggunakan rem gesek, yang pada dasarnya rem gesek pada kendaraan secara fisikis adalah merupakan proses perubahan energi gerak (kinetik) menjadi energi panas.

#### **1) Energi kinetik (laju kendaraan) :**

$$E_k = \frac{1}{2} \cdot m \cdot v^2$$

$$\text{sedangkan daya} = \frac{E_k}{t} = \frac{m \cdot v^2}{2 \cdot t} \quad (\text{Watt})$$

dimana :

$E_k$  = Energi Kinetik (Nm = joule)

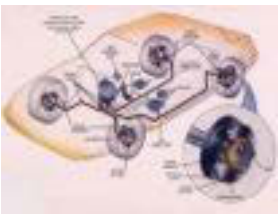
$m$  = massa (Kg)

$v$  = Kecepatan (m/detik)

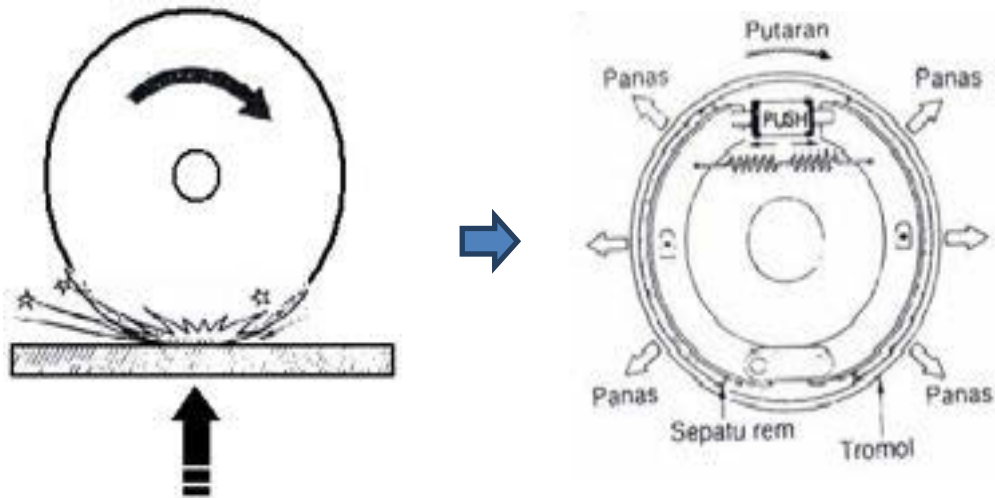
$t$  = Waktu (detik)

Pengereman kendaraan hingga kendaraan dapat berhenti dalam prosesnya adalah proses gesek yang diperoleh dari :

- ✓ Kemampuan gesekan antara ban dengan permukaan jalan (Traksi)
- ✓ Kemampuan gesekan antaraanvas dengan tromol/cakram (gesekan rem)



## Chassis Management System (CMS)

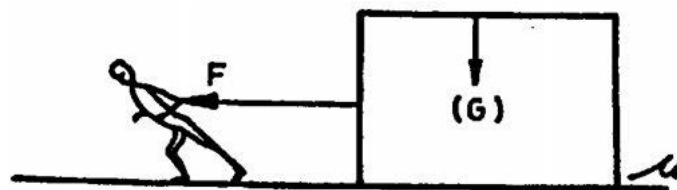


Gambar 2.2 Proses Pengereman Kendaraan

<http://terror-oxide.faa.im/sistem-rem-pada-mobil.xhtml>

Antara traksi dan gesekan rem keduanya mempengaruhi besarnya pengereman kendaraan yang besarnya sebesar gaya gesek itu sendiri, semakin besar gesekan diperoleh perlambatan yang besar dan begitu pula jika gesekannya kecil diperoleh perlambatan yang kecil.

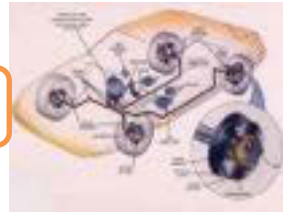
Gesekan adalah gaya akibat dari dua benda yang permukaannya saling menempel dalam keadaan *diam* atau *bergerak*



Gambar 2.3 Gesekan

### 2) Hukum Coulombe (1736-1805)

$$F = F_n \cdot \mu \quad \rightarrow \quad F_n = \frac{G \text{ (Berat)}}{g \text{ (gravitasi)}}$$



$$\mu = \frac{F}{F_n}$$

Keterangan :

$F_n$  = Gaya normal (Newton)

$F$  = Gaya gesek (Newton)

$\mu$  = Koefisien gesek

Besarnya koefisien gesek tidak dipengaruhi **luas permukaan** bidang gesek **Gaya gesek** dua buah benda besarnya ditentukan oleh gaya yang bekerja pada permukaan geseknya (Aksi dan Reaksi) dan koefisien gesek yang dihasilkan dari permukaan kontak dua benda tersebut yang besarnya dipengaruhi oleh jenis bahan dari kedua benda tersebut.

Gaya gesek kanvas dengan tromol/cakram (Rem) :

$$F_R = F_n \cdot \mu \cdot i$$

Dimana :

$F_n$  = Gaya normal (Newton) → Gaya yang bekerja pada sepatu rem/balok rem

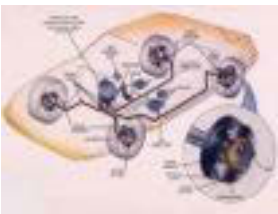
$F_R$  = Gaya Rem (Newton)

$\mu$  = Koefisien gesek

$i$  = Jumlah pasangan gesek

Nilai “ $\mu$ ” pada system rem ditinjau dari bahan kanvas rem :

- ✓ Kanvas rem *organic* → Koefisien gesek tinggi,  $\mu$  sekitar 0,2 – 0,5
- ✓ Kanvas rem *metalik (sinter)* → Koefisien gesek kecil,  $\mu$  sekitar 0,1 – 0,2



## Chassis Management System (CMS)

### 3) Gaya gesek ban dengan permukaan jalan (Traksi) :

$$F_T = F_n \cdot \mu$$

Dimana :

$F_n$  = Gaya normal (Newton) → diperoleh dari akibat berat kendaraan

$F_T$  = Gaya Traksi (Newton)

$\mu$  = Koefisien gesek

Tabel koefisien gesek antara ban dan berbagai macam bahan dan permukaan kondisi jalan ;

Kondisi jalan	$\mu$
	0,9
1	0,8
	0,7
2	0,6
3	0,5
4	0,4
5	0,3
6	0,2
7	0,1

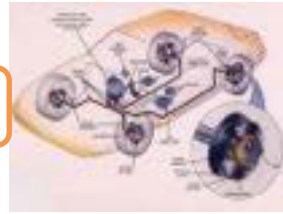
#### Keterangan :

1. Jalan beton dan aspal yang kering
2. Jalan makadam dan plester yang kering
3. Jalan beton dan aspal yang basah
4. Jalan makadam yang basah
5. Jalan plester yang basah
6. Jalan makadam yang berlumpur

Gambar 2.4. " $\mu$ " dan kondisi jalan

### 4) Gaya gesek Rem :

Besarnya gaya pengereman diperoleh dari proses gesekan antara kanvas rem dengan tromol/cakram :



$$F_R = F_n \cdot \mu$$


Dimana :

$F_n$  = Gaya normal (Newton) → diperoleh dari Injakan kaki

$F_R$  = Gaya Rem (Newton)

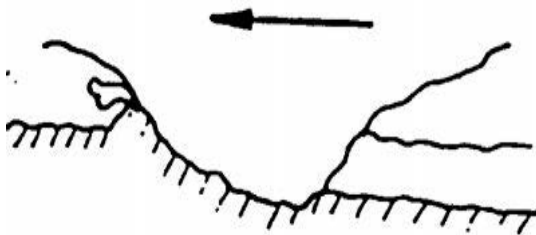
$\mu$  = Koefisien gesek → Untuk gesekan besi dengan asbes sekitar 0,25-0,35

### 5) Yang mempengaruhi Gesekan :



Gambar 2.5. Gesekan adhesive

- ✓ Molekul adhesif  
Apabila tekanan kontak besar antara *tromol* dan *kanvas rem*, dengan demikian gesekan akan menjadi *lebih besar pula*



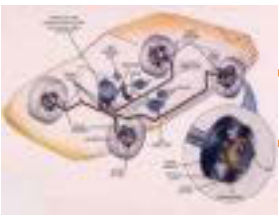
Gambar 2.6 Gesekan pengikisan

- ✓ Pengikisan  
Benda yang keras (*tromol*) masuk dalam benda benda yang lemah (*kanvas rem*), apabila terjadi perubahan *elastis* dan *plastis* maka gesekan yang timbul menjadi besar dan keausan juga besar

Tiga hal yang mempengaruhi nilai gesek.kanvas

- a) Temperatur
- b) Kecepatan
- c) Lapisan





## Chassis Management System (CMS)

Koefisien gesek pada traksi dan gesekan rem adalah termasuk gesekan dua benda yang bergerak sehingga dalam proses gesekan tersebut akan timbul panas, semakin lama dan cepat gerakannya semakin tinggi temperatur yang ditimbulkannya juga jika pada gesekan tersebut terdapat lapisan diantara dua permukaan yang bergesekan maka akan terjadi perubahan koefisien gesek (nilai " $\mu$ ") yang semakin kecil. Penurunan nilai " $\mu$ " yang demikian berdampak buruk dan tidak diharapkan dalam pengereman kendaraan karena penurunan nilai " $\mu$ " berdampak langsung terhadap besarnya gaya gesek yang pada akhirnya kinerja pengereman menurun (kecil – hilang).

Peristiwa penurunan nilai " $\mu$ " disebut "*Fading*" diantaranya :

1. Penurunan akibat panas disebut : "*Fading temperature*"
2. Penurunan akibat kecepatan : "*Fading kecepatan*"
3. Penurunan akibat lapisan disebut : "*Fading lapisan*"

### **C. Kegunaan Rem pada Kendaraan**

Sistem rem kendaraan secara operasional untuk memenuhi kebutuhan perlambatan dan menghentikan kendaraan terdapat :

- ✓ Rem kaki : Untuk mengurangi sampai menghentikan kecepatan kendaraan. Rem kaki harus berfungsi untuk semua roda.
- ✓ Rem tangan/parkir : Untuk memacetkan putaran roda (parkir, dsb), dipasang untuk rem belakang. Juga dapat berfungsi sebagai rem cadangan, misalnya jika dalam perjalanan rem kaki tidak berfungsi

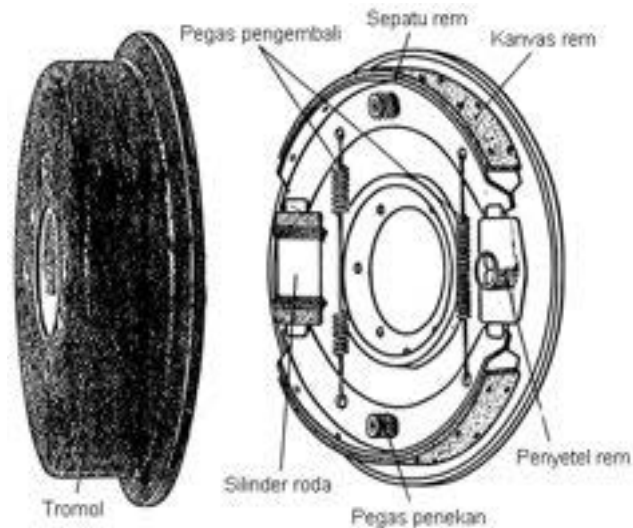
### **D. Macam-macam Rem**

Perkembangan sistem rem yang diaplikasikan pada kendaraan hingga kini masih pada kebanyakan mobil menggunakan rem tromol dan rem cakram



Beberapa varian menerapkan gabungan keduanya dan ada pula semua roda menggunakan rem cakram.

### 1) Rem tromol



Gambar 2.7. Rem tromol

Penggunaan : *Untuk Rem depan dan atau belakang*

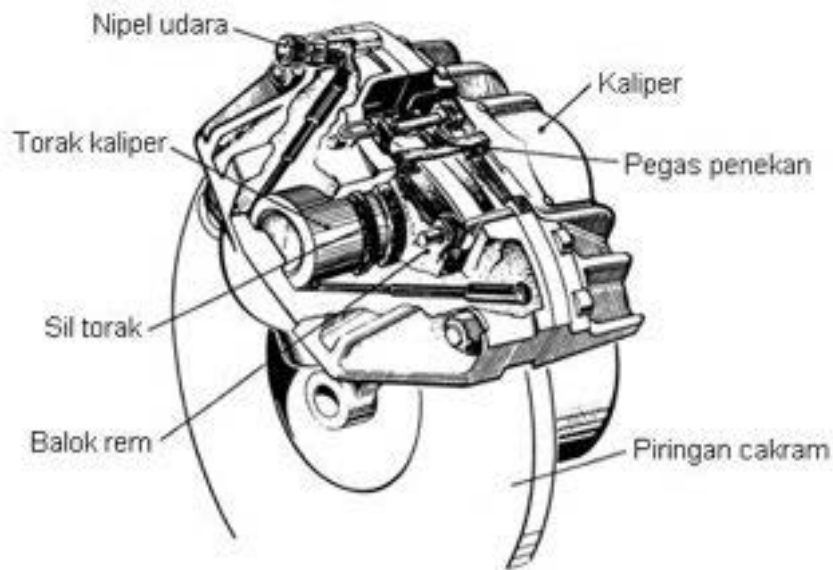
Keuntungan :

- *Mempunyai sifat penguatan gaya sendiri*
- *murah*

Kerugian :

- *Pendinginan/pemindahan panas kurang*
- *Pengontroan bagian dan fungsi rem lebih rumit*
- *Perawatan lebih banyak*
- *Jika terdapat sedikit kotoran, mudah “mbanting”.*

## 2) Rem cakram



Gambar 2.8. Rem tromol

Penggunaan :

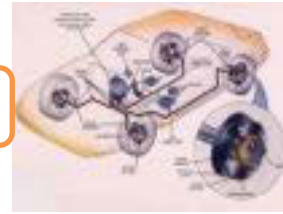
*Untuk rem depan (umumnya) atau depan belakang*

Keuntungan :

- *Pendinginan / pemindahan panas sangat baik*
- *Pengontrolan bagian dan fungsi rem mudah.*
- *Perawatan mudah.*

Kerugian :

- *Tidak mempunyai “ penguatan gaya sendiri”*
- *Jika dipakai sebagai rem tangan, lemah”*
- *Mahal.*



### 2.1.3. Rangkuman :

- 1) Fungsi Rem : Dapat menghentikan kendaraan dengan cepat dan Gaya rem harus dapat diatur sesuai dengan kehendak sopir.
- 2) Prinsip Kerja Rem Gesek : Pada dasarnya rem gesek pada kendaraan adalah merupakan proses perubahan energi gerak (kinetik) menjadi energi panas :

Energi kinetik (laju kendaraan) :  $E_k = \frac{1}{2} \cdot m \cdot v^2$

Gaya gesek ban dengan permukaan jalan (Traksi) :  $F_T = F_n \cdot \mu_{jalan}$

Gaya gesek rem (kanvas dengan tromol/cakram) :  $F_R = F_n \cdot \mu_{kanvas}$

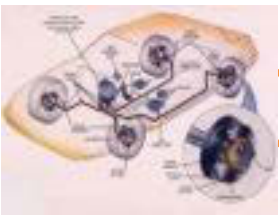
- 3) Penurunan nilai " $\mu$ " disebut "*Fading*" diantaranya : a, *Fading temperature*, b. *Fading kecepatan*, c. *Fading lapisan*
- 4) Kegunaan Rem pada Kendaraan : a. Rem kaki untuk mengurangi sampai menghentikan kecepatan kendaraan. b. Rem tangan/parkir untuk memacetkan putaran roda (parkir, dsb), Juga dapat berfungsi sebagai rem cadangan/darurat
- 5) Macam-macam Rem : a. Rem tromol digunakan pada *Rem depan dan atau belakang*, b. Rem cakram digunakan pada *rem depan (umumnya) dan depan belakang*

### 2.1.4. Tugas :

Buatlah makalah tentang penerapan prinsip gesekan untuk pengereman laju kendaraan.

### 2.1.5. Tes Formatif :

- 1) Terangkan kegunaan dan tuntutan pada sistem rem !
- 2) Jelaskan prinsip gesekan digunakan pada proses pengereman kendaraan !
- 3) Terangkan apa yang dimaksud dengan fading !
- 4) Jelaskan mengapa pendinginan rem tromol kurang baik dibandingkan rem cakram !



## Chassis Management System (CMS)

### 2.1.6. Lembar Jawaban Tes Formatif :

1) Kegunaan Rem pada Kendaraan : a. Rem kaki untuk mengurangi sampai menghentiklan kecepatan kendaraan. b. Rem tangan/parkir untuk memacetkan putaran roda (parkir, dsb), Juga dapat berfungsi sebagai rem cadangan/darurat

2) Prinsip Kerja Rem Gesek : Pada dasarnya rem gesek pada kendaraan adalah merupakan proses perubahan enenrgi gerak (kinetik) menjadi energi panas :

- ✓ Energi kinetik (laju kendaraan) :  $E_k = \frac{1}{2} \cdot m \cdot v^2$
- ✓ Gaya gesek ban dengan permukaan jalan (Traksi) :

$$F_T = F_n \cdot \mu_{jalan}$$

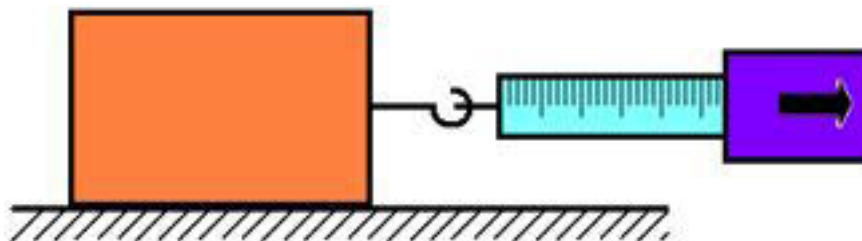
- ✓ Gaya gesek rem (kanvas dengan tromol/cakram) :

$$F_R = F_n \cdot \mu_{kanvas}$$

- 3) Penurunan nilai " $\mu$ " disebut "*Fading*" diantaranya : 1, *Fading temperature*, 2. *Fading kecepatan*, 3. *Fading lapisan*
- 4) Kontruksi pemasangan kanvas rem pada rem tromol terletak didalam ruangan tromolnya sehingga panas akibat gesekan antara kanvas rem dengan tromol terperangkap dan tidak secara langsung berhubungan dengan udara untuk melepaskan panas yang ditimbulkan.

### 2.1.7. Lembar Kerja Siswa :

Lakukan percobaan untuk membuktikan besarnya gaya gesek dengan balok kayu ditarik dengan newton meter diatas permukaan meja/permukaan rata.



## Chasis Management System (CMS)

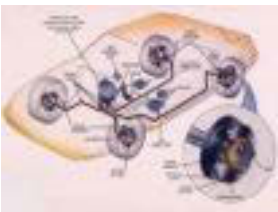


Lakukan percobaan seperti gambar diatas pada masing-masing permukaan (6 permukaan) balok tersebut dan catat hasil pengukurannya saat mulai bergerak dan selama bergerak.

Hasil pengukuran :

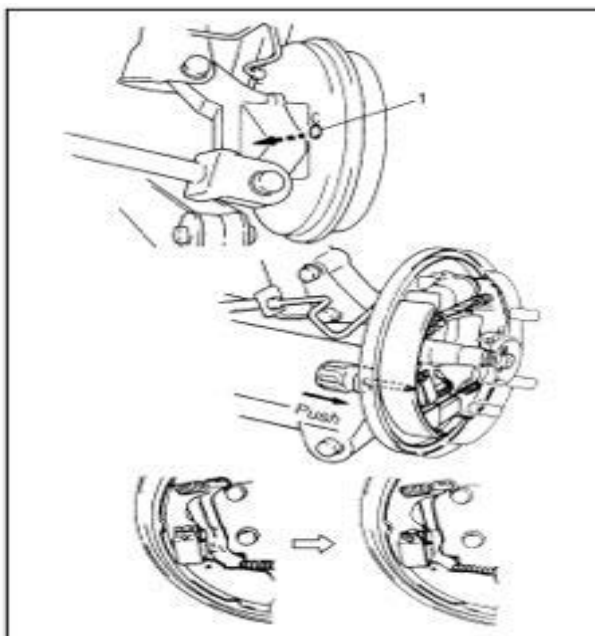
Berat balok ( Kg )	Gesekan pada permukaan	Saat mulai bergerak ( Newton )	Selama bergerak ( Newton )
	<b>1</b>		
	<b>2</b>		
	<b>3</b>		
	<b>4</b>		
	<b>5</b>		
	<b>6</b>		

Dengan rumus Gaya gesek cari/hitunglah besarnya koefisien gesek pada masing-masing hasil percobaan gesekan di keenam permukaan balok tersebut, kemudian bandingkan hasil perhitungan dan dianalisis untuk membuat kesimpulan hasil percobaan.



## Chasis Management System (CMS)

### 2.2. Kegiatan Pembelajaran : Rem Tromol



Dengan mengamati gambar diatas diskusikan jawaban dari pertanyaan berikut :

Termasuk jenis rem tromol apakah gambar tersebut dan bagaimana cara kerjanya ?

---

---

---

---

---

---

---



### 2.2.1. Tujuan Pembelajaran :

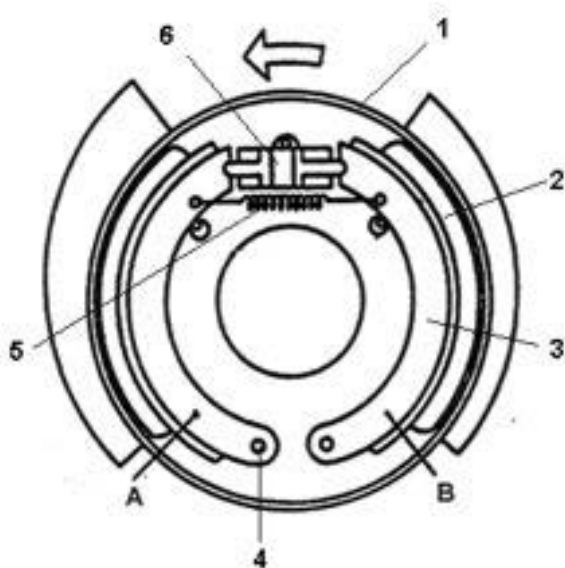
Setelah selesai proses pembelajaran siswa dapat :

- ✓ Menerangkan konstruksi dan nama komponen rem tromol
- ✓ Menjelaskan cara kerja rem tromol
- ✓ Menerangkan macam-macam rem tromol dan penggunaannya

### 2.2.2. Uraian Materi :

Macam-macam Rem Tromol

#### 1. Rem tromol simplek



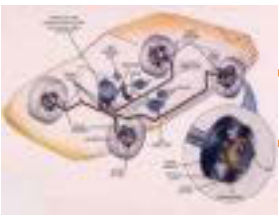
- A. Sepatu Primer
- B. Sepatu Sekunder

Gambar 2.9. Rem Tromol Simplek

**Nama komponen :**

1. Tromol
2. Kanvas rem
3. Sepatu rem
4. Anchor pin
5. Pegas pengembali
6. Silinder roda





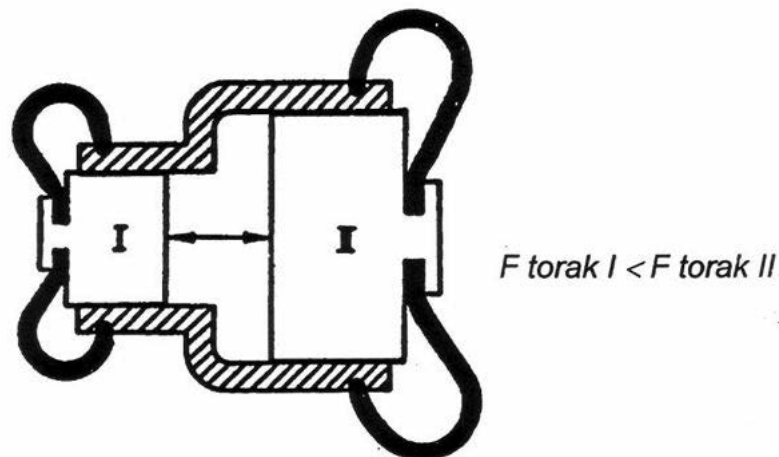
## Chassis Management System (CMS)

### Cara Kerja :

- Bila ada tekanan di dalam silinder roda, sepatu rem terdorong ke arah luar → terjadi gesekan antara permukaan gesek tromol dengan kanvas rem
- **Gaya pengereman sepatu primer (A) > Gaya pengereman sepatu sekunder (B)**
- Jika tromol berputar mundur \_ "B" sebagai sepatu **primer** dan "A" sebagai sepatu **sekunder**
- Gaya pengereman maju = gaya pengereman mundur
- Gaya pengereman pada sepatu primer 2 x lebih besar dari pada sepatu sekunder

### Keausan kanvas rem tromol simplek dan cara mengatasinya :

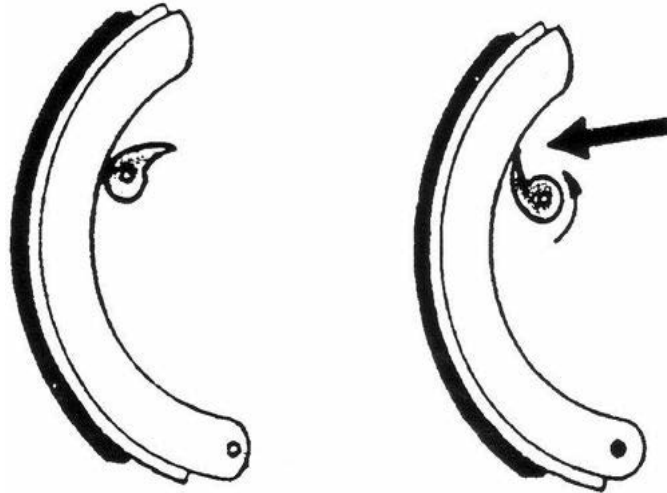
- Pada saat kendaraan maju, gaya pengereman yang diterima sepatu primer lebih besar dibanding sepatu sekunder, sehingga keausan sepatu primer lebih banyak.
- Jadi cara mengatasinya sepatu primer dibuat
  - Lebih tebal
  - Lebih keras
- Atau kemungkinan lain silinder roda dibuat bertingkat



Gambar 2.10. Silinder roda bertingkat



### Penyetelan rem tromol simplek



Gambar 2.11. Penyetel eksentrik

#### Sistem Eksentrik

Bila eksentrik diputar, sepatu rem menekan tromol

Keuntungan :

Waktu menyetel cepat

Kerugian :

Sulit untuk mengatur gerakan penyetelan yang sedikit

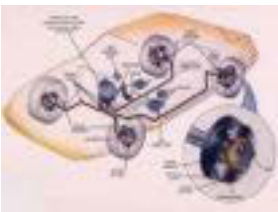
Penggunaan :

- Pada aksel belakang

## 2. Rem Tromol Model Duplek

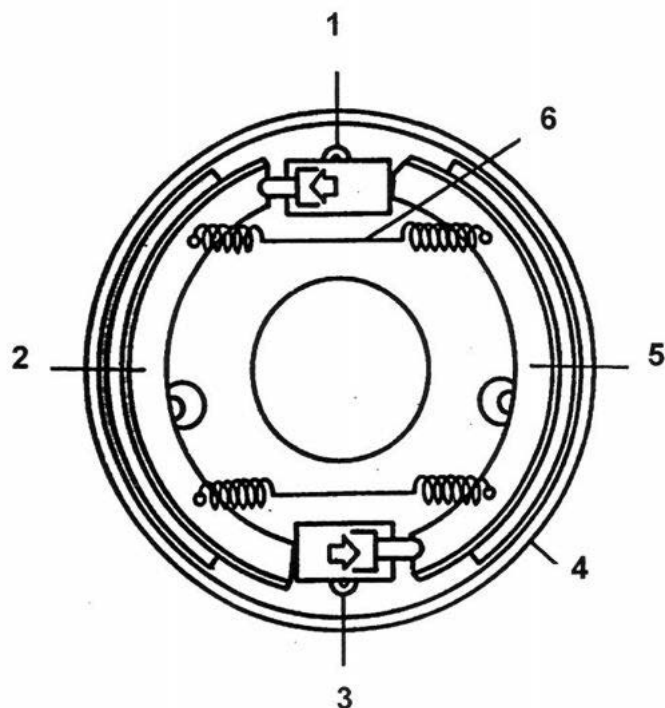
Rem tromol duplek dapat dibedakan menjadi dua yaitu :

- Rem tromol duplek satu torak (Duplek)
- Rem tromol duplek dua torak (Duo Duplek)



## Chassis Management System (CMS)

### Rem Tromol Model Duplek Satu Torak



Gambar 2.12. Rem Tromol Duplek

#### Nama komponen :

1. Silinder roda I
2. Sepatu rem I
3. Silinder roda II
4. Tromol
5. Sepatu rem II
6. Pegas

#### Cara kerja :

Gaya rem maju

- Kedua sepatu rem menekan tromol
- Masing-masing menjadi sepatu rem (primer) memberikan gaya pengereman sendiri.

*Gaya pengereman yang terjadi  $\approx 3,5 \times$  Lebih Besar*



Gaya rem mundur

- Kedua sepatu rem ditekan terbalik putaran tromol rem
- Keduas sepatu rem ( sekunder ) menerima gaya pengereman kecil

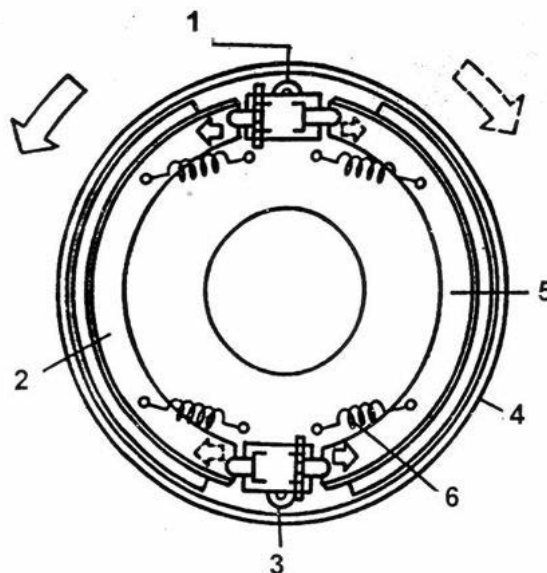
Penyetelan :

- secara manual dapat distel pada eksenter atau mur penyetel

Penggunaan :

- Pada aksel depan

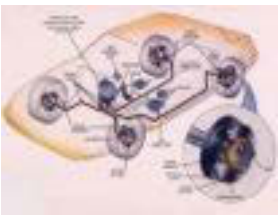
Rem Tromol Duplek Duo Duplek dua Torak



Gambar 2.13. Rem Tromol Duo Duplek

**Nama komponen :**

1. silinder roda I
2. Sepatu rem I
3. Silinder roda II
4. Tromol
5. Sepatu rem II
6. Pegas



## Chasis Management System (CMS)

### Cara kerja :

Gaya rem maju / mundur

- Kedua sepatu rem secara bersamaan menekan tromol
  - Jadi kedua sepatu rem terjadi gaya pengereman 4x lebih besar
- Gaya pengereman tromol berputar maju dan mundur sama*

Konstruksi :

- Menggunakan dua silinder roda
- Masing-masing silinder roda didalamnya terdapat dua torak

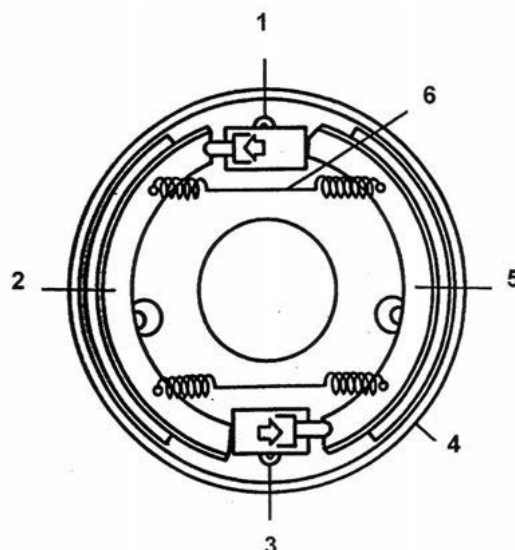
Penyetelan rem

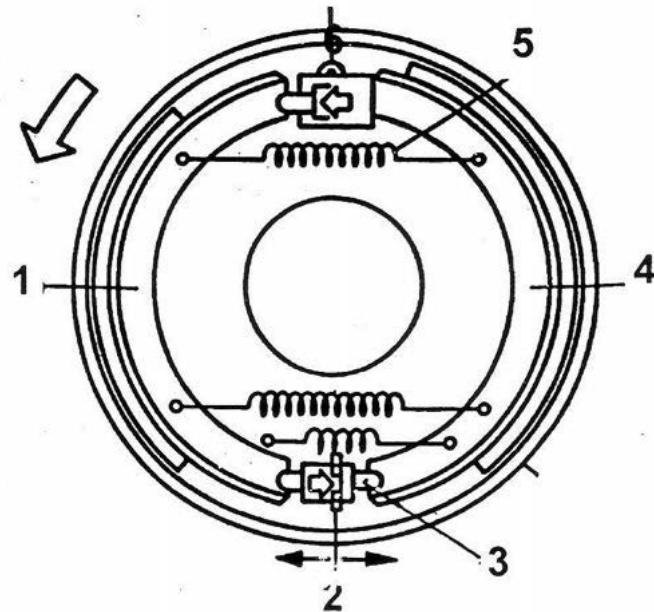
Dengan eksenter atau mur penyetel.

Penggunaan :

Pada aksel belakang

### 3. Rem Tromol Servo





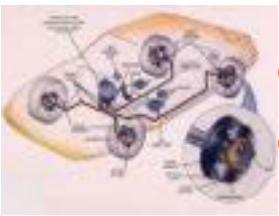
Gambar 2.14. Rem Tromol Servo

Nama komponen :

1. silinder roda I
2. Sepatu rem I
3. Silinder roda II
4. Tromol
5. Sepatu rem II
6. Pegas

**Konstruksi :**

- Menggunakan satu silinder roda dan satu torak
- Dilengkapi baut luncur yang dapat bergerak bebas diantara ujung kedua sepatu rem
- Kanvas rem II lebih panjang



## Chasis Management System (CMS)

### Cara kerja :

- Pada saat maju tekanan hidraulis menekan sepatu rem I ke tromol, mengakibatkan gaya reaksi untuk mendorong baut luncur ke kanan dan menekan sepatu rem II ke tromol
- Gaya bantu atau titik tumpu pada rumah silinder roda
- Pada saat mundur, kedua sepatu rem terjadi gaya pengereman yang sama saat maju

### Keuntungan :

- Gaya pengereman 3x lebih besar
- Memeberikan kekuatan pengereman sendiri ( self energizing effect )

### Kerugian :

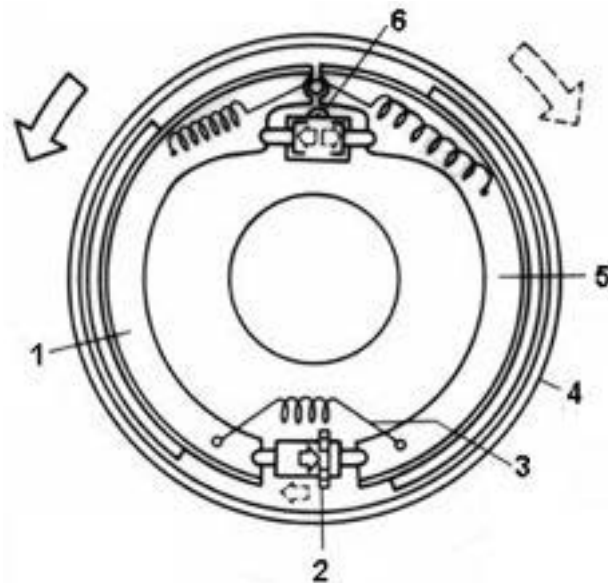
Kedua sepatu rem lebih cepat aus, karena gaya rem besar

### Penggunaan :

Aksel belakang



### Rem tromol duo servo



Gambar 2.15. Rem Tromol Duo Servo

Nama komponen :

1. Sepatu rem I
2. Gigi penyetel
3. Pegas
4. Tromol
5. Sepatu rem II
6. Silinder roda (dua torak)

**Cara kerja :**

- Sama seperti jenis servo, tetapi untuk jenis duo servo dilengkapi dengan dua torak di dalam silinder roda.
- Sehingga besar gaya yang diterima sepatu rem pada putaran maju dan mundur adalah sama besar.
- Titik tumpu terjadi pada anchor pin di atas silinder roda

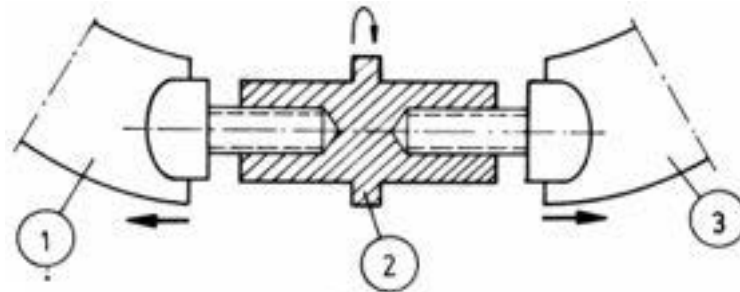
Keuntungan :

Besar gaya pengereman saat maju dan mundur sama



Penyetelan :

Pada mur di atas baut luncur



Gambar 2.16. Penyetel Rem Tromol Duo Servo

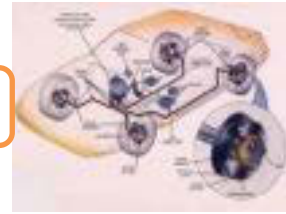
1. Sepatu rem I
2. Gigi penyetel
3. Sepatu rem II

Penggunaan :

Aksel belakang

### 2.2.3. Rangkuman :

- 1) Macam-macam Rem Tromol :
  - ✓ Rem tromol simplek
  - ✓ Rem tromol duplek
  - ✓ Rem tromol servo
  - ✓ Rem tromol duo servo
- 2) Nama komponen rem tromol simplek :
  - ✓ Tromol
  - ✓ Kanvas rem
  - ✓ Sepatu rem
  - ✓ Anchor pin
  - ✓ Pegas pengembali
  - ✓ Silinder roda



### 3) Cara Kerja rem tromol simplek :

- ✓ Bila ada tekanan di dalam silinder roda, sepatu rem terdorong kearah luar  
→ terjadi gesekan antara permukaan gesek tromol dengan kanvas rem
- ✓ Gaya pengereman sepatu primer (A) > Gaya pengereman sepatu sekunder (B)
- ✓ Jika tromol berputar mundur \_ "B" sebagai sepatu primer dan "A" sebagai sepatu sekunder
- ✓ Gaya pengereman maju = gaya pengereman mundur
- ✓ Gaya pengerasan pada sepatu primer 2 x lebih besar dari pada sepatu sekunder

### 4) Keausan kanvas rem tromolsimplek dan cara mengatasinya :

- ✓ Pada saat kendaraan maju, gaya pengereman yang diterima sepatu primer lebih besar dibanding sepatu sekunder, sehingga keausan sepatu primer lebih banyak.
- ✓ Jadi cara mengatasinya sepatu primer dibuat
  - Lebih tebal
  - Lebih keras
- ✓ Atau kemungkinan lain silinder roda dibuat bertingkat

### 5) Nama komponen rem tromol duplek :

- ✓ Silinder roda I
- ✓ Sepatu rem I
- ✓ Silinder roda II
- ✓ Tromol
- ✓ Sepatu rem II
- ✓ Pegas

### 6) Cara kerja rem tromol duplek :

Gaya rem maju

- ✓ Kedua sepatu rem menekan tromol
- ✓ Masing-masing ,menjadi sepatu rem (primer) memberikan gaya pengereman sendiri.

*Gaya pengereman yang terjadi  $\approx 3,5 \times$  Lebih Besar*



## Chassis Management System (CMS)

Gaya rem mundur

- ✓ Kedua sepatu rem ditekan terbalik putaran tromol rem
- ✓ Kedua sepatu rem ( sekunder ) menerima gaya pengereman kecil

7) Nama komponen rem tromol servo :

- ✓ silinder roda I
- ✓ Sepatu rem I
- ✓ Silinder roda II
- ✓ Tromol
- ✓ Sepatu rem II
- ✓ Pegas

8) Cara kerja rem tromol servo :

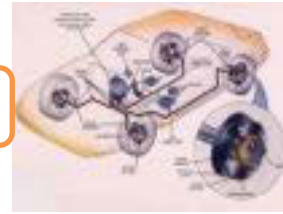
- ✓ Pada saat maju tekanan hidraulis menekan sepatu rem I ke tromol, mengakibatkan gaya reaksi untuk mendorong baut luncur ke kanan dan menekan sepatu rem II ke tromol
- ✓ Gaya bantu atau titik tumpu pada rumah silinder roda
- ✓ Pada saat mundur, kedua sepatu rem terjadi gaya pengereman yang sama saat maju

### 2.2.4. Tugas :

Lakukan identifikasi konstruksi jenis-jenis rem tromol dan sebutkan komponen serta cara kerjanya !

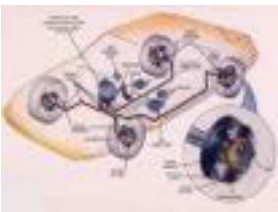
### 2.2.5. Tes Formatif :

- 1) Sebutkan konstruksi macam-macam rem tromol !
- 2) Sebutkan komponen/bagian-bagian rem tromol simplek !
- 3) Jelaskan cara kerja rem tromol simplek !
- 4) Jelaskan cara mengatasi keausan sepatu primer pada rem tromol simplek !
- 5) Jelaskan cara kerja rem tromol servo !



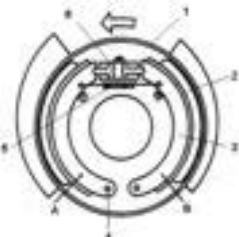
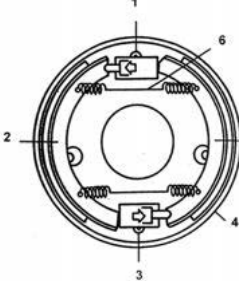
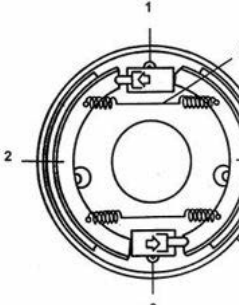
### 2.2.6. Lembar Jawaban Tes Formatif :

- 1) Macam-macam Rem Tromol :
  - ✓ Rem tromol simplek
  - ✓ Rem tromol duplek
  - ✓ Rem tromol servo
  - ✓ Rem tromol duo servo
- 2) Nama komponen rem tromol simplek :
  - ✓ Tromol
  - ✓ Kanvas rem
  - ✓ Sepatu rem
  - ✓ Anchor pin
  - ✓ Pegas pengembali
  - ✓ Silinder roda
- 3) Cara Kerja rem tromol simplek :
  - ✓ Bila ada tekanan di dalam silinder roda, sepatu rem terdorong kearah luar  
→ terjadi gesekan antara permukaan gesek tromol dengan kanvas rem
  - ✓ Gaya pengereman sepatu primer (A) > Gaya pengereman sepatu sekunder (B)
  - ✓ Jika tromol berputar mundur \_ "B" sebagai sepatu primer dan "A" sebagai sepatu sekunder
  - ✓ Gaya pengereman maju = gaya pengereman mundur
  - ✓ Gaya pengerasan pada sepatu primer 2 x lebih besar dari pada sepatu sekunder
- 4) Cara mengatasinya keausan sepatu primer pada rem tromol simplek.
  - a. Lebih tebal
  - b. Lebih keras
- 5) Cara kerja rem tromol servo :
  - ✓ Pada saat maju tekanan hidraulis menekan sepatu rem I ke tromol, mengakibatkan gaya reaksi untuk mendorong baut luncur ke kanan dan menekan sepatu rem II ke tromol
  - ✓ Gaya bantu atau titik tumpu pada rumah silinder roda
  - ✓ Pada saat mundur, kedua sepatu rem terjadi gaya pengereman yang sama saat maju



## Chassis Management System (CMS)

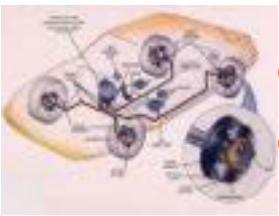
### 2.2.7. Lembar Kerja Siswa :

Konstruksi Rem	Komponen	Cara kerja
 <p>.....</p>	<p>-</p> <p>-</p> <p>-</p> <p>-</p> <p>-</p> <p>-</p> <p>-</p>	
 <p>.....</p>	<p>-</p> <p>-</p> <p>-</p> <p>-</p> <p>-</p> <p>-</p> <p>-</p>	
 <p>.....</p>	<p>-</p> <p>-</p> <p>-</p> <p>-</p> <p>-</p> <p>-</p> <p>-</p>	

# Chasis Management System (CMS)

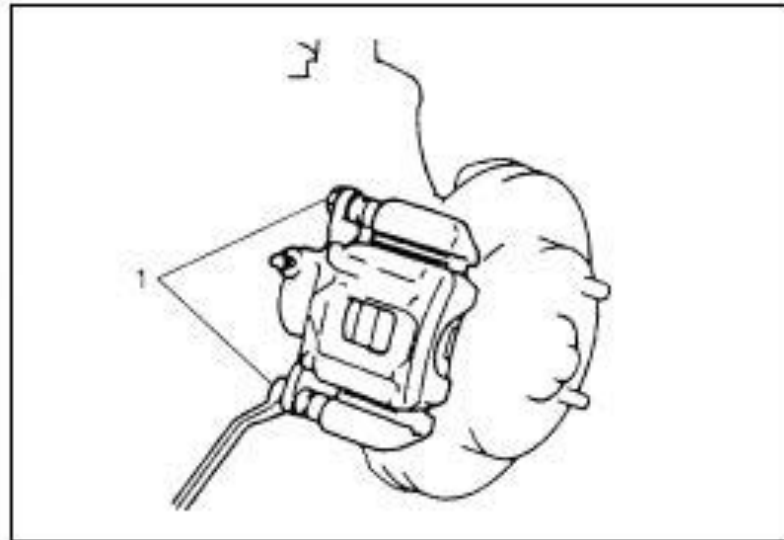


<p>.....</p>	<ul style="list-style-type: none"><li>-</li><li>-</li><li>-</li><li>-</li><li>-</li><li>-</li><li>-</li></ul>	
--------------	---	--



## Chassis Management System (CMS)

### 2.3. Kegiatan Pembelajaran : Rem Cakram



Dengan mengamati gambar diatas diskusikan jawaban dari pertanyaan berikut :

Termasuk jenis rem cakram apakah gambar tersebut dan bagaimana cara kerjanya ?

---

---

---

---

---

---

---

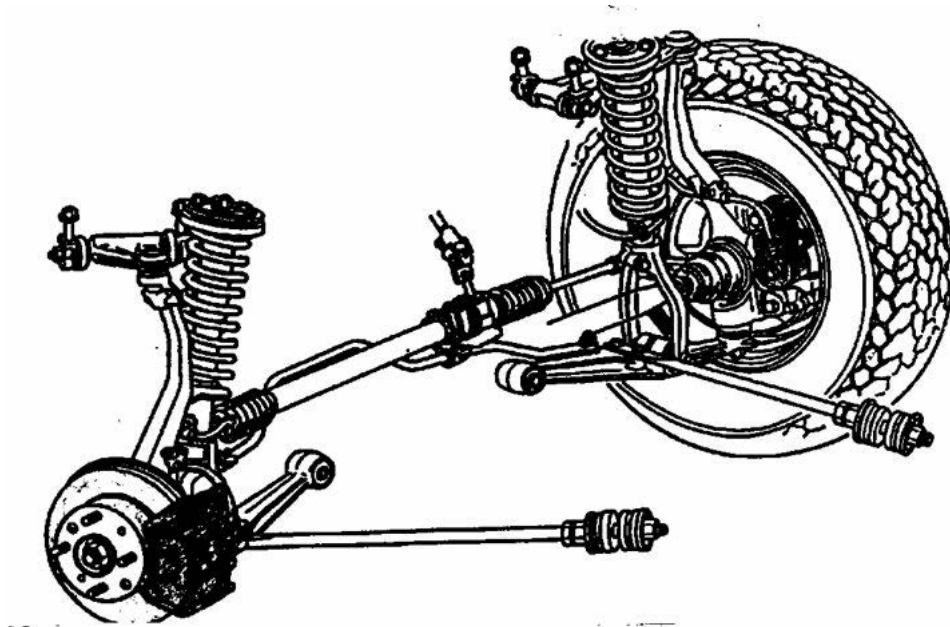


### 2.3.1. Tujuan Pembelajaran :

Setelah selesai proses pembelajaran siswa dapat :

- ✓ Menerangkan kontruksi dan nama komponen rem cakram
- ✓ Menjelaskan cara kerja rem cakram
- ✓ Menerangkan macam-macam rem cakram dan penggunaannya

### 2.3.2. Uraian Materi :

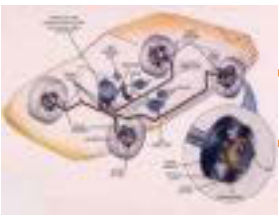


Gambar 2.17. Rem Cakram

Gaya gesek didapatkan dari gesekan antara cakram (piringan) dengan pad (balok rem)

- ✓ Piringan cakram → berputar bersama-sama roda
- ✓ Kaliper dan pad → terpasang pada aksel

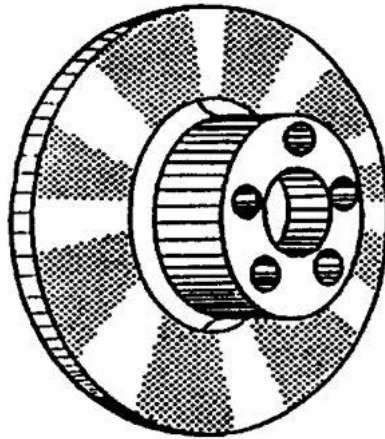




## Chasis Management System (CMS)

### Macam–Macam Piringan Cakram

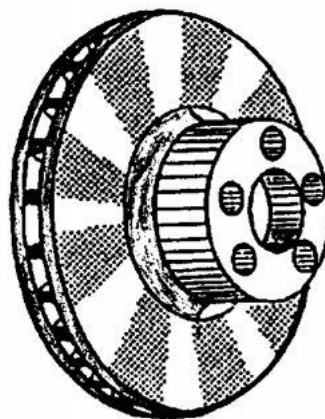
Cakram penuh



Gambar 2.18. Piringan Cakram Pejal

- ✓ Digunakan untuk mobil
  - ⇒ Ukuran sedang
  - ⇒ Kecepatan menengah
- ✓ Pendinginan cukup
- ✓ Harga Murah

Cakram dengan rusuk pendingin



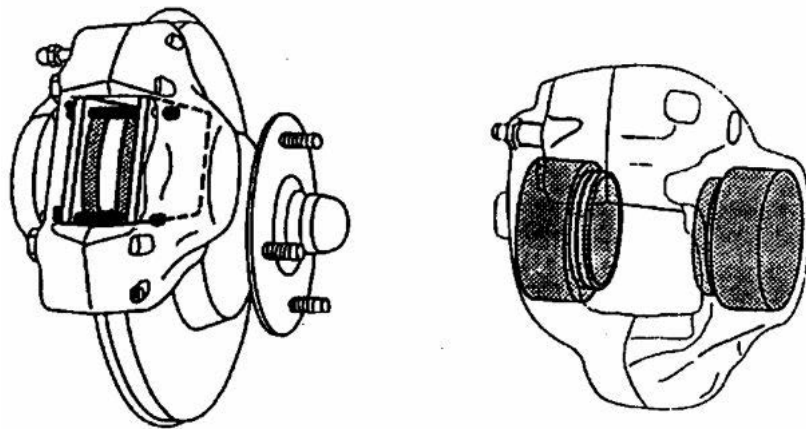
Gambar 2.19. Piringan Cakram Rusuk pendingin



- ✓ Digunakan untuk mobil
  - ⇒ Ukuran berat
  - ⇒ Kecepatan tinggi
- ✓ Pendinginan lebih baik
- ✓ Harganya Mahal

### Macam–Macam Kaliper

Kaliper tetap



Gambar 2.20. Rem Cakram Kaliper tetap

- ✓ Kaliper terpasang mati pada aksel
- ✓ Masing – masing sisi kaliper terdapat torak
- ✓ Pad dipasang pada kaliper dengan dua buah pin

### Cara kerja :

Pedal rem diinjak

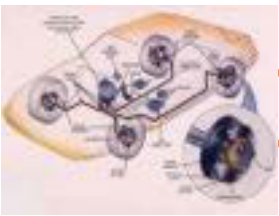
Tekanan cairan rem mendorong torak ke *balok rem* dan *mencepit cakram*

Pedal rem dilepas

Dua torak dikembalikan pada posisi semula oleh sil secara otomatis

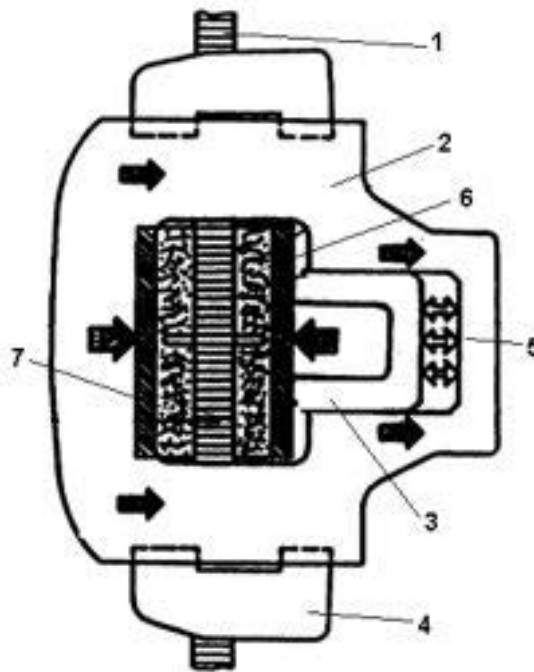
Digunakan :

Konstruksi sederhana dan murah tidak sering digunakan lagi



## Chassis Management System (CMS)

### Kaliper Luncur Satu Torak



Gambar 2.21. Kaliper Luncur satu Torak

Nama komponen :

1. Piringan cakram
2. Kaliper luncur
3. Silinder kaliper
4. Torak kaliper
5. Unit rangkakaaliper
6. Balok rem 1
7. Balok rem 2

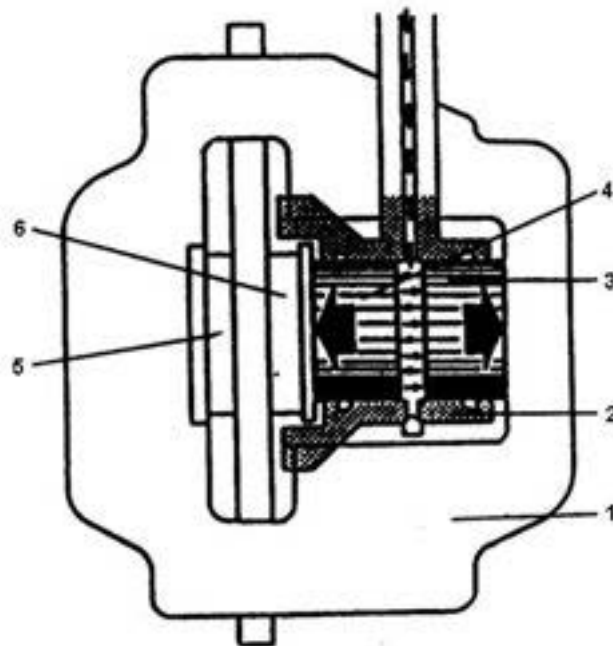
**Cara kerja :**

- Tekanan cairan rem dalam silinder menekan torak dan dasar *silinder*
- Torak bergerak *ke kiri* mendorong *balok rem 1* sampai kanvas menempel pada *permukaan gesek* cakram



- Untuk selanjutnya tekanan hidraulis disamping menekan torak juga menekan *dasar silinder* ⇒ unit silinder bergerak *ke kanan* mendorong *balok rem 2* dengan arah *berlawanan* dengan *balok rem 1*
- Balok rem 1 didorong ke kiri *oleh torak* dan balok rem 2 didorong ke kanan *oleh unit silinder*, ke arah permukaan gesek cakram
- Gerakan kedua balok rem dengan arah berlawanan selanjutnya menjepit *permukaan gesek cakram* cakram → terjadi pengereman

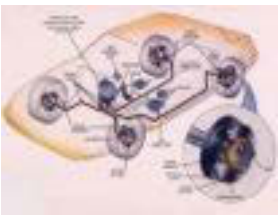
### Kaliper Luncur Dua Torak



Gambar 2.22. Kaliper Luncur dua Torak

Nama komponen :

1. Kaliper luncur
2. Unit rangka dan silinder kaliper
3. Torak caliper 1
4. Torak caliper 2
5. Balok rem 1
6. Balok rem 2

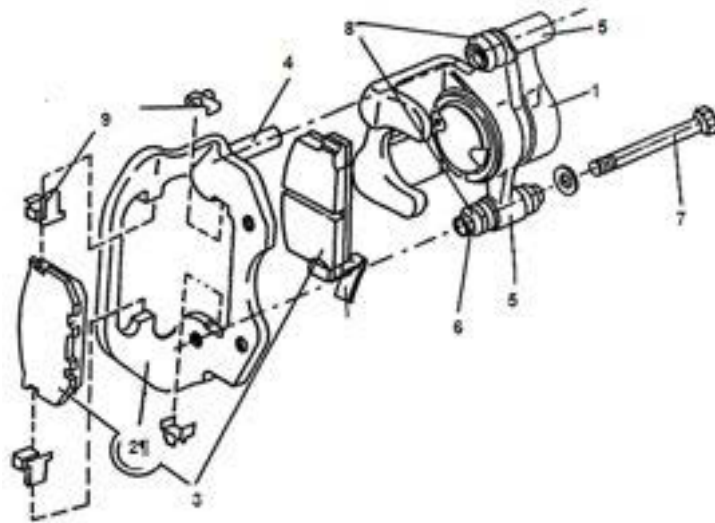


## Chasis Management System (CMS)

### Cara kerja :

- Tekanan cairan rem dalam silinder menekan *torak 1* dan *torak 2*
- Torak I bergerak ke *kiri* mendorong *balok rem* ke arah permukaan gesek cakram
- Torak II bergerak ke *kanan* mendorong *unit rangka luncur* ⇒ *balok rem 2* terdesak ke arah permukaan gesek cakram pada sisi yang lainnya
- Balok rem 1 di dorong ke kiri oleh *torak 1* dan *balok rem 2* di dorong ke kanan oleh *unit rangka luncur* ke arah permukaan gesek cakram
- Gerakan ke dua balok dengan arah yang berlawanan selanjutnya menjepit *permukaan gesek* cakram ⇒ terjadi pengereman

### Komponen Rem Cakram Jenis Kaliper Luncur ( Contoh : TOYOTA )



Gambar 2.23. Kaliper Luncur Toyota

### Nama komponen :

- |                     |                            |
|---------------------|----------------------------|
| 1. Kaliper luncur   | 6. Tabung pengantar        |
| 2. Rangka tetap     | 7. Baut pengantar          |
| 3. Balok rem        | 8. Karet pelindung kotoran |
| 4. Batang pengantar | 9. Klip                    |
| 5. Bushing          |                            |

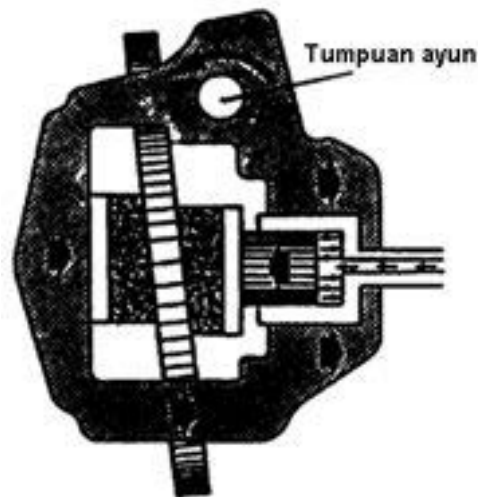


Keterangan :

- ✓ Konstruksi paling modern dan mudah memperbaikinya
- ✓ Mudah sekali untuk mengganti kanvas rem

### Kaliper Berayun

Pengertian : Kaliper berputar pada *pusat putar* secara berayun bila terjadi tekanan *cairan rem*



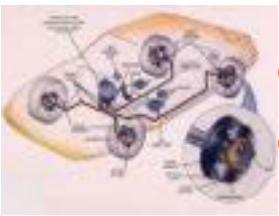
Gambar 2.24.Kaliper Ayun

Konstruksi :

- ✓ Unit kaliper terpasang menjadi satu dengan rangka
- ✓ Unit kaliper terpasang pada pusat putar
- ✓ Letak kedua balok rem tidak segaris dengan sumbu torak

Cara kerja :

- Tekanan cairan rem menekan *torak* dan *unit silinder*
- **Torak bergerak ke kiri mendorong *balok rem* ke arah permukaan gesek cakram**




## Chassis Management System (CMS)

- Selanjutnya tekanan cairan rem juga mendesak *dasar silinder* ⇒ unit kaliper bergerak mengayun mendorong balok rem 2 kekanan, ke arah permukaan gesek cakram
- Gerakan kedua balok rem dengan arah berlawanan kedua *permukaan* gesek cakram ⇒ cakram *terjepit* ⇒ terjadi pengereman

### Penyetelan Rem Cakram

Penyetelan rem cakram terjadi secara otomatis

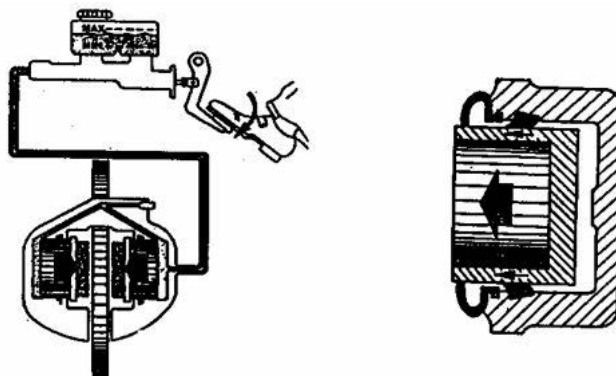
Keadaan netral ( pedal rem tidak tertekan )



Gambar 2.25. Sil Torak kaliper netral

- Tidak ada tekanan cairan rem
- Torak tidak bergerak
- Sil diam pada posisinya

Saat pengereman ( pedal rem ditekan )

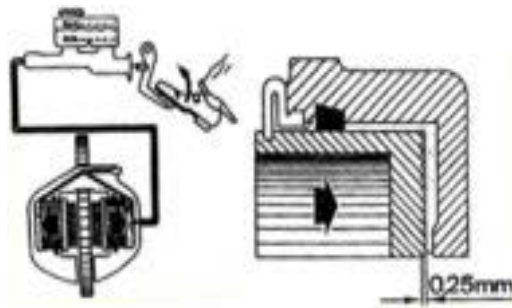


Gambar 2.25. Sil Torak kaliper bertekanan



- Tekanan cairan rem mendorong torak keluar silinder
- Bibir sil yang bergerak dengan torak *tertarik* mengikuti gerakan torak hingga penumpang sil *bengkok* (kebengkokan penampang sil terbatas)
- Jika celah kanvas terhadap cakram *cukup besar*  $\Rightarrow$  gerakan torak *melebihi* kemampuan bengkok penampang sil  $\Rightarrow$  torak *slip* terhadap sil

### Saat Pelepasan ( Pedal Rem Dilepas )



Gambar 2.26. Sil Torak kaliper lepas injakan

- Tekanan cairan rem *hilang*
- Sil menarik torak *kembali* pada posisi tidak mengerem
- Jalannya piston : 0,15 – 0,25 mm

Keterangan :

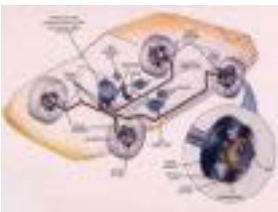
Penyetelan otomatis hanya berfungsi dengan baik apabila :

- Kelonjongan cakram tidak lebih *0,1 mm*
- Gerakan torak dalam silinder *tidak terganggu*
- Pada kaliper luncur gerakan luncur harus berfungsi baik

### Pad ( Balok Rem )

- Balok rem tanpa penunjuk keausan

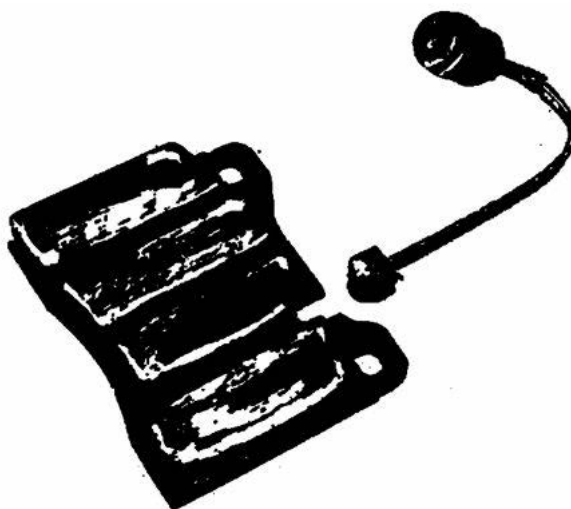


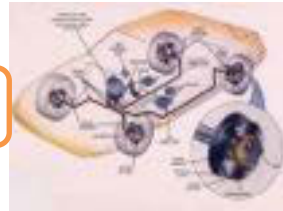


## Chasis Management System (CMS)



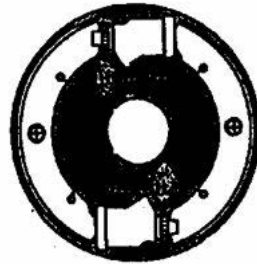
- Pad dengan penunjuk keausan secara elektrik



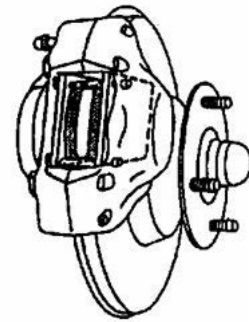


**Perbandingan Antara Rem Cakram Dan Rem Tromol**

**Rem Tromol**

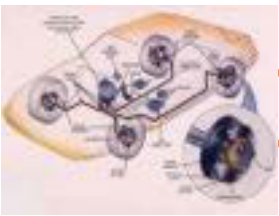


**Rem Cakram**



Sifat	Rem Tromol	Rem Cakram
• Gaya kerja	+ Memberikan kekuatan sendiri	Tidak memberi kekuatan sendiri
• Pendinginan	- Kurang	Baik
• Temperatur kerja	* Rendah	Tinggi
• Keausan kanvas	+ Sedikit	Banyak
• Cara menyetel	- Manual / setengah otomatis	Otomatis
• Waktu yang diperlukan servis	- Lama	Cepat
• Tempat yang perlu dan berat	* Lebih	Kurang

- ✓ Pada rem cakram diperlukan gaya hidraulis lebih tinggi untuk mendapatkan tekanan rem yang sama besarnya, rem cakram menjadi lebih panas ( $\pm 600^{\circ}\text{C}$ )
- ✓ Karena pendinginan rem cakram baik, maka tidak ada fading
- ✓ Fading sering terjadi pada rem tromol kalau panas
  - ⇒ Faktor  $\mu$  dari kanvas rem menjadi kecil
  - ⇒ Gaya rem kecil



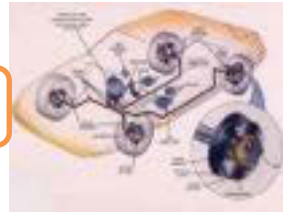
## Chasis Management System (CMS)

### 2.3.3. Rangkuman :

- 1) Kontruksi rem cakram terdiri dari :
  - ✓ Piringan cakram → berputar bersama–sama roda
  - ✓ Kaliper dan pad → terpasang pada aksel
- 2) Macam-macam piringan cakram :
  - ✓ Cakram penuh
  - ✓ Cakram dengan rusuk pendingin
- 3) Macam-macam kaliper :
  - ✓ Kaliper tetap
  - ✓ Kaliper luncur satu torak
  - ✓ Kaliper luncur dua torak
  - ✓ Kaliper berayun
- 4) Cara kerja kaliper luncur satu torak :
  - ✓ Tekanan cairan rem dalam silinder menekan torak dan dasar silinder
  - ✓ Torak bergerak ke kiri mendorong balok rem 1 sampai kanvas menempel pada permukaan gesek cakram
  - ✓ Untuk selanjutnya tekanan hidraulis disamping menekan torak juga menekan dasar silinder⇒ unit silinder bergerak ke kanan mendorong balok rem 2 dengan arah berlawananandengan balok rem 2
- 5) Jenis-jenis pad/balok rem :
  - ✓ Pad tanpa penunjuk keausan
  - ✓ Pad dengan penunjuk keausan elektrik

### 2.3.4. Tugas :

Lakukan pengamatan pada kendaraan dengan sistem rem cakram, kemudian diskusikan komponen dan cara kerjanya !

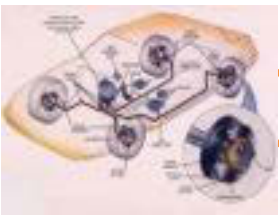


### 2.3.5. Tes Formatif :

- 1) Sebutkan konstruksi rem cakram !
- 2) Sebutkan jenis-jenis piringan cakram !
- 3) Sebutkan jenis-jenis kaliper !
- 4) Jelaskan cara kerja kaliper satu torak !
- 5) Sebutkan macam-macam pad !

### 2.3.6. Lembar Jawaban Tes Formatif :

- 1) Kontruksi rem cakram terdiri dari :
  - ✓ Piringan cakram → berputar bersama–sama roda
  - ✓ Kaliper dan pad → terpasang pada aksel
- 2) Macam-macam piringan cakram :
  - ✓ Cakram penuh
  - ✓ Cakram dengan rusuk pendingin
- 3) Macam-macam kaliper :
  - ✓ Kaliper tetap
  - ✓ Kaliper luncur satu torak
  - ✓ Kaliper luncur dua torak
  - ✓ Kaliper berayun
- 4) Cara kerja kaliper luncur satu torak :
  - ✓ Tekanan cairan rem dalam silinder menekan torak dan dasar *silinder*
  - ✓ Torak bergerak *ke kiri* mendorong *balok rem 1* sampai kanvas menempel pada *permukaan gesek* cakram
  - ✓ Untuk selanjutnya tekanan hidraulis disamping menekan torak juga menekan *dasar silinder*⇒ unit silinder bergerak *ke kanan* mendorong *balok rem 2* dengan arah *berlawanan* dengan *balok rem 1*
- 5) Jenis-jenis pad/balok rem :
  - ✓ Pad tanpa penunjuk keausan
  - ✓ Pad dengan penunjuk keausan elektrik



## Chasis Management System (CMS)

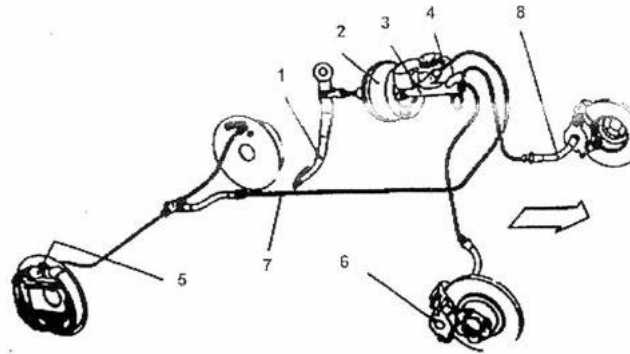
### 2.3.7. Lembar Kerja Siswa :

Catatan hasil pengamatan :

Komponen rem cakram	Cara kerja rem cakram
-	
-	
-	
-	
-	
-	
-	
-	



**2.4. Kegiatan Pembelajaran : Hidraulik Rem dan Boster**



Dengan mengamati Gambar diatas diskusikan jawaban dari pertanyaan berikut ini :

Apa fungsi komponen no. 1, 2, 3, 4, 5, 6, 7 dan 8 secara keseluruhan jelaskan ?

---

---

---

---

---

---



## Chassis Management System (CMS)

### 2.4.1. Tujuan Pembelajaran :

Setelah selesai proses pembelajaran siswa dapat :

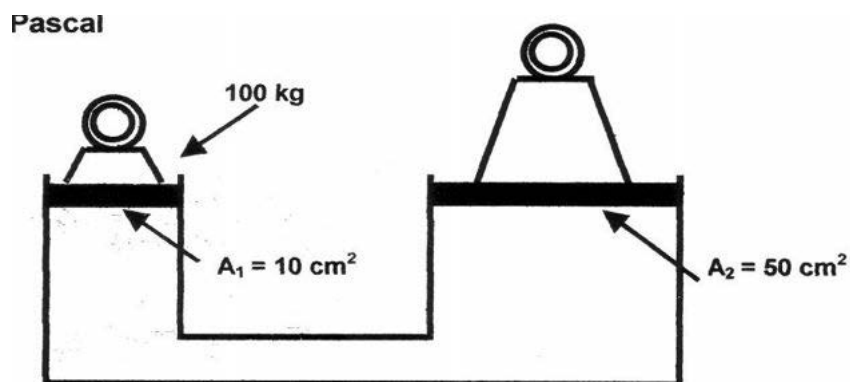
- ✓ Menerangkan nama komponen dan fungsi system hidraulis rem
- ✓ Menjelaskan macam-macam hubungan sirkuit hidraulik rem
- ✓ Menjelaskan komponen dan cara kerja silinder master
- ✓ Menjelaskan komponen dan cara kerja silinder roda
- ✓ Menerangkan jenis, sifat dan penggunaan cairan rem
- ✓ Menjelaskan fungsi, komponen dan cara kerja booster rem

### 2.4.2. Uraian Materi :

Prinsip dasar dari hidraulik rem :

- ✓ Menggunakan fluida ( cairan rem ) untuk memindahkan gaya dan gerak
- ✓ Fluida mempunyai sifat tidak dapat dimampatkan, sehingga sangat baik untuk maksud tersebut
- ✓ Hidraulik rem bekerja berdasarkan prinsip Hukum Pascal

Hukum Pascal



Gambar 2.30.Hukum Pascal

Tekanan pada salah satu bagian fluida akan diteruskan ke segala arah dan sama besarnya

## Chasis Management System (CMS)



$$P = \frac{F_1}{A_1} = \frac{F_2}{A_2}$$

Dimana :

$$P = \text{Tekanan} \quad \text{kg/cm}^2$$

$$A_{1,2} = \text{Luas penampang} \quad \text{cm}^2$$

$$F_{1,2} = \text{Gaya yang bekerja} \quad \text{kg}$$

**Contoh :**

$$A_1 = 10 \text{ cm}^2, F_1 = 100 \text{ kg}, A_2 = 50 \text{ cm}^2$$

Berapa gaya yang bekerja pada  $A_2$

$$\frac{F_1}{A_1} = \frac{F_2}{A_2}$$

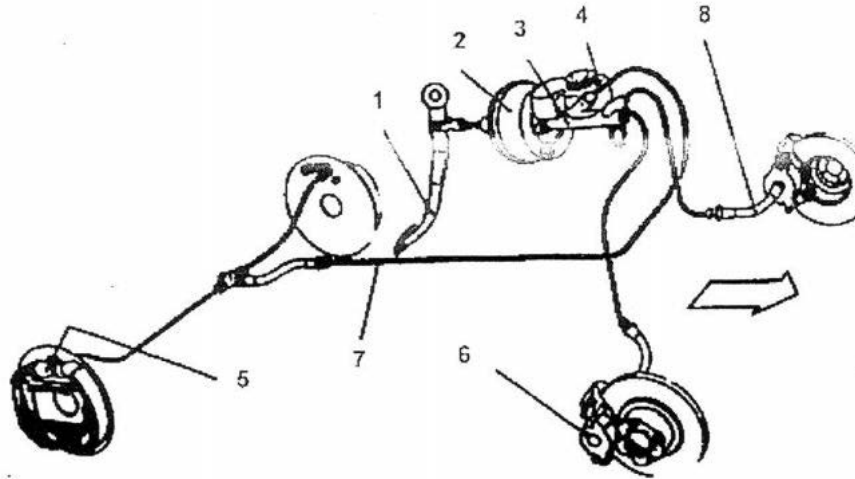
$$F_2 = F_1 \cdot \frac{A_2}{A_1}$$

$$F_2 = 100 \cdot \frac{50}{10}$$

$$F_2 = 100 \cdot 5 = 500 \text{ kg}$$

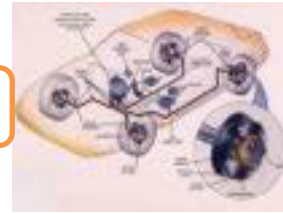


### Nama dan Fungsi Bagian-bagian Sistem Hidraulik Rem



Gambar 2.31. Bagian-bagian sistem rem hidraulik

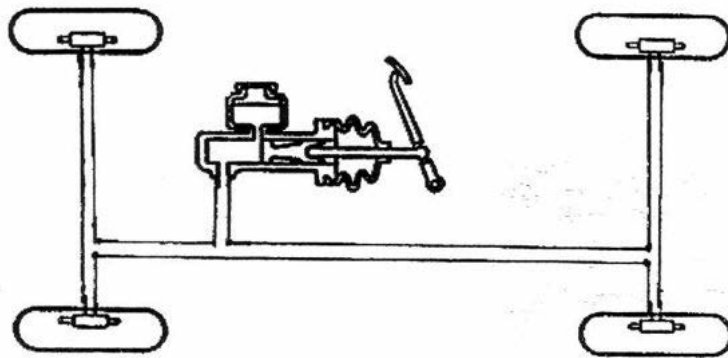
- |                                   |   |   |
|-----------------------------------|---|---|
| 1. Pedal rem                      | : | Menekan cairan rem ke dalam silinder master                                   |
| 2. Penguat tenaga rem             | : | Memperkuat gaya tekan pedal rem   |
| 3. Silinder master                | : | Membangkitkan tekanan cairan rem di dalam sistem hidraulik                    |
| 4. Reservoir                      | : | Tempat persediaan cairan rem  |
| 5/6 Silinder roda dan kaliper rem | : | Menerima tekanan hidraulik dari master rem untuk mendorong torak → sepatu rem |
| 7/8 Pipa rem dan slang fleksible  | : | Sebagai saluran cairan rem  |



Hubungan Sirkuit Hidraulik Rem :

- ✓ Sistem satu sirkit
- ✓ Sistem dua sirkit pembagian aksial
- ✓ Sistem dua sirkit pembagian diagonal

Sistem satu sirkit

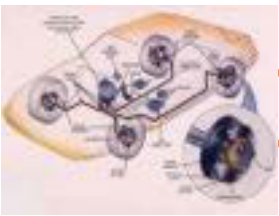


Gambar 2.32.Hidraulik rem satu sirkit

- ✓ Tekanan cairan dari silinder master yang diteruskan ke masing – masing silinder roda hanya menggunakan satu saluran semua roda.
- ✓ Kalau terjadi kebocoran roda, semua sistem rem hidraulik tidak berfungsi lagi
- ✓ Sistem ini dilarang di beberapa negara karena kurang begitu aman

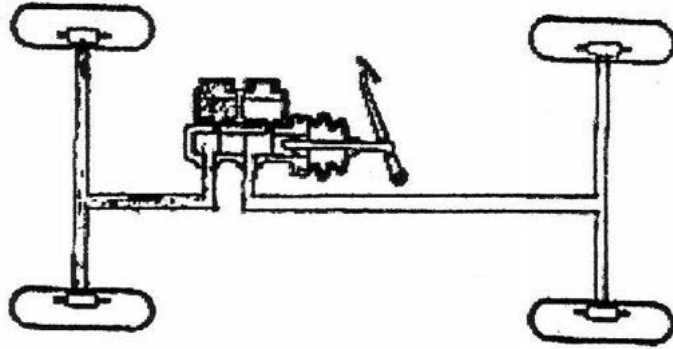
Sistem Dua Sirkit

- ✓ Pada sistem dua sirkit tekanan cairan rem dari silinder master ke silinder roda melalui dua saluran secara terpisah
- ✓ Perlu silinder master tandem ( pada dua piston )
- ✓ Bila satu pipa rem bocor, masih ada setengah gaya rem



## Chassis Management System (CMS)

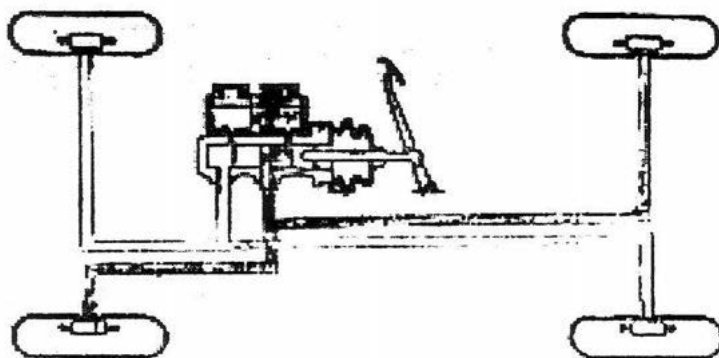
Pembagian Aksial :



Gambar 2.33.Hidraulik rem dua sirkuit aksial

- ✓ Aksel depan dan aksel belakang terdapat sirkuit sendiri – sendiri
- ✓ Bila ada rem cakram pada aksel depan rem tromol belakang, sederhana untuk mengatur tekanan
- ✓ Digunakan pada mobil penggerak belakang / depan

Pembagian Diagonal

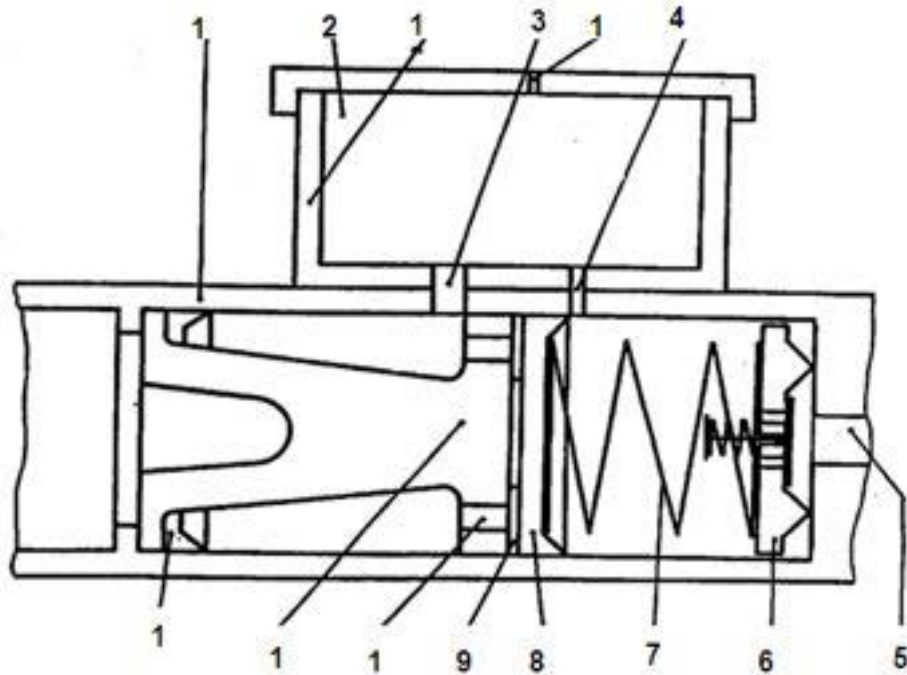


Gambar 2.34.Hidraulik rem dua sirkuit diagonal



- ✓ Digunakan pada mobil penggerak depan / motor depan, karena tenaga pengaman yang dibutuhkan terdapat di atas aksel depan
- ✓ Bila satu sirkit rusak roda depan dan belakang masih mampu memberikan pengereman yang stabil

Konstruksi Dan Nama – Nama Bagian – Bagian Silinder Master :

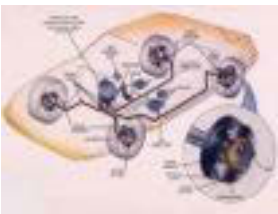


Gambar 2.35. Bagian-bagian silinder master

Bagian – bagian

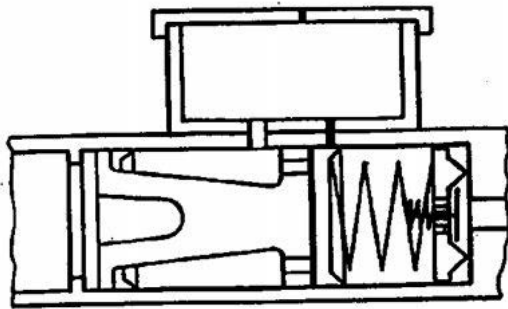
- |                             |                        |
|-----------------------------|------------------------|
| 1. Silinder                 | 8. Sil karet primer    |
| 2. Cairan rem               | 9. Cincin pelindung    |
| 3. Lubang penambahan        | 10. Lubang pengisian   |
| 4. Lubang kompensasi        | 11. Torak              |
| 5. Saluran ke silinder roda | 12. Sil karet sekunder |
| 6. Katup                    | 13. Reservoir          |
| 7. Pegas katup              | 14. Lubang ventilasi   |

Mengapa lubang komposisi dibuat lebih kecil dari lubang penambahan ?



## Chasis Management System (CMS)

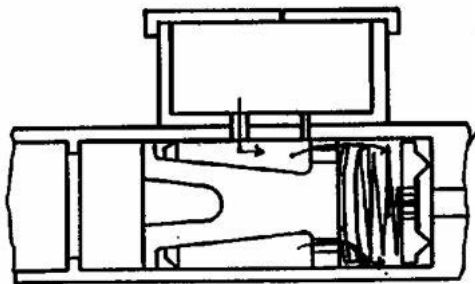
### Cara Kerja Master Silinder



#### *Langkah tekan*

Tekanan cairan rem terbentuk, setelah sil karet melewati lubang kompensasi

Gambar 2.36. Cara kerja master silinder saat tekan

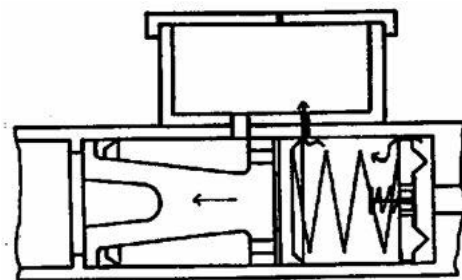


#### *Langkah lepas*

Tegangan pegas menekan sil karet kembali, makan ruang didepan sil karet membesar

( vacuum ), cairan rem dari reservoir mengalir keruang kerja

Gambar 2.37. Cara kerja master silinder saat lepas



Setelah itu, cairan rem silinder roda ( akibat gerak kembali toraknya ) mengalir ke silinder master dan kembali ke reservoir, setelah lubang kompensasi terbuka.

Gambar 2.38. Cara kerja master silinder saat kembali

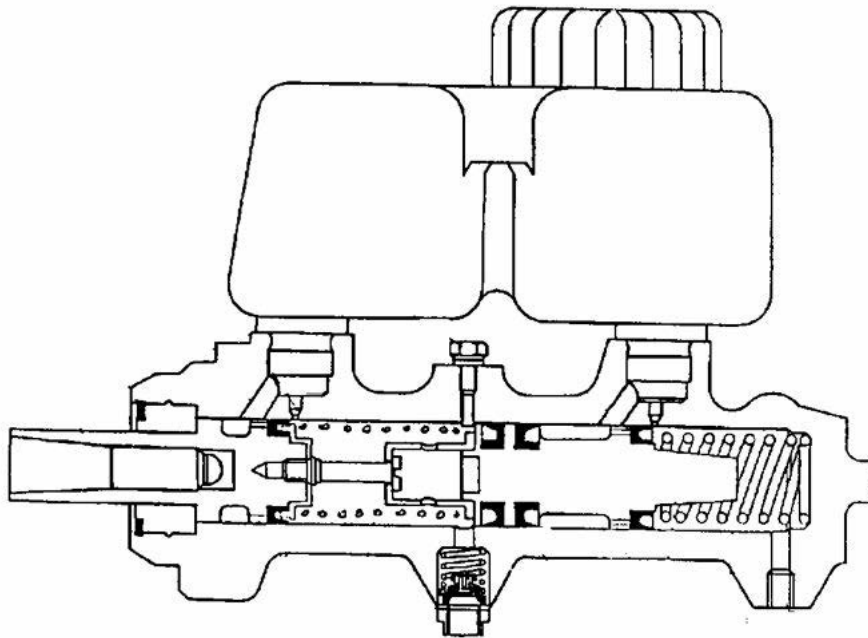


Macam – Macam Silinder Master :

Ada 3 macam silinder master :

- Silinder master satu torak
- Silinder master dua torak ( jenis tandem )
- Silinder master port less

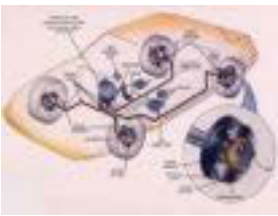
Silinder master dua torak ( tandem )



Gambar 2.39. Silinder master dua torak (tandem)

Nama komponen :

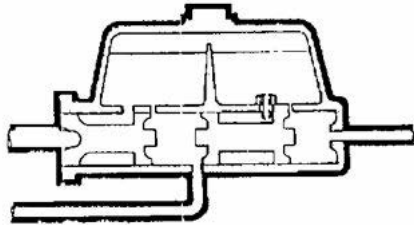
- |                                       |                                     |
|---------------------------------------|-------------------------------------|
| 1. Rumah batang pendorong ( torak I ) | 8. Pegas                            |
| 2. Cincin pengunci                    | 9. Pentil dasar                     |
| 3. Lubang penambah                    | 10. Sil karet sekunder              |
| 4. Lubang kompensasi                  | 11. Sil karet sekunder              |
| 5. Baut pembatas                      | 12. Torak II                        |
| 6. Lubang ventilasi                   | 13. Pegas                           |
| 7. Sil karet primer                   | 14. Saluran rem untie sistem aksial |



## Chasis Management System (CMS)

Cara Kerja Master Silinder Jenis Tandem

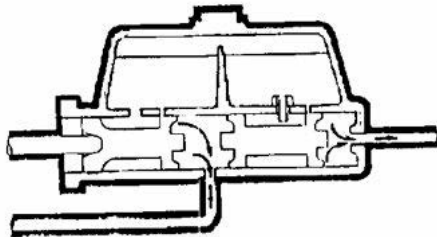
Keadaan normal



- Sil primer torak I dan II berada di antara lubang kompensasi dengan lubang penambahan
- Lubang penambahan dan kompensasi selalu berhubungan dengan reservoir

Gambar 2.40. Cara kerja silinder master tandem saat normal

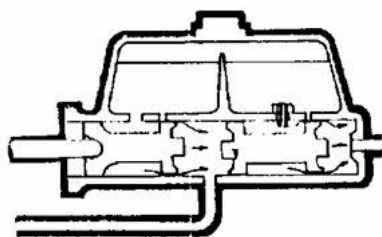
Saat pedal rem ditekan



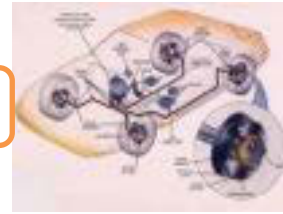
- Torak I bergerak maju dan menutup lubang kompensasi
- Timbul tekanan hidraulik di depan torak I dan mendorong torak II maju menutup lubang kompensasi
- Tekanan hidraulis di depan torak I dan II disalurkan ke masing – masing silinder roda

Gambar 2.41. Cara kerja silinder master tandem saat ditekan

Saat pedal rem dilepas injakan



- Torak I dan II bergerak kembali ke belakang oleh pegas
- Bersama dengan itu minyak rem di belakang sil primer mengalir ke depan torak I, II melalui lubang pengisian



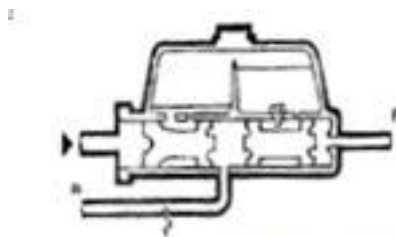
Bila minyak rem di depan torak (I dan II) sudah penuh, minyak rem mengalir dari silinder ke reservoir melalui lubang

**Gambar 2.42. Cara kerja silinder master tandem saat pedal rem dilepas**

### Bila Terjadi Kebocoran

Silinder master jenis tandem, dengan sistem 2 sirkit sekarang banyak digunakan pada kendaraan untuk mengatasi kebocoran pada salah satu sistem rem, maka sistem rem yang lain masih bisa berfungsi.

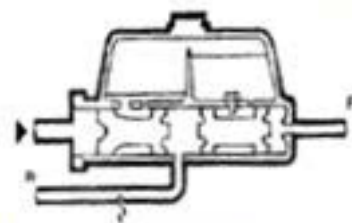
Kebocoran terjadi pada pipa R



Gambar 2.43. Kebocoran master pipa R

- Torak I slip, tekanan rem hidraulis pipa ( R ) nol
- Torak I mendorong torak II cairan rem sistem dua ditekan torak II maka pipa ( F ) bertekanan
- Cairan rem, sistem satu kurang

Kebocoran pada pipa F

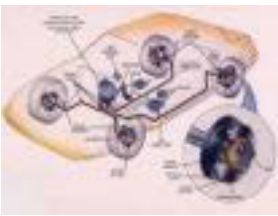


Gambar 2.43. Kebocoran master pipa R

- Torak I menekan cairan rem sistem satu maka pipa ( R ) bertekanan
- Tekanan rem hidraulis sistem satu mendorong torak II
- Torak II slip sampai pembatas, karena tekanan rem hidraulis pipa ( F ) nol
- Minyak rem sistem dua kurang

***Bila satu sistem bocor masih ada setengah gaya pengereman***



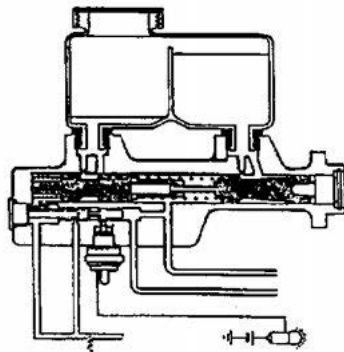
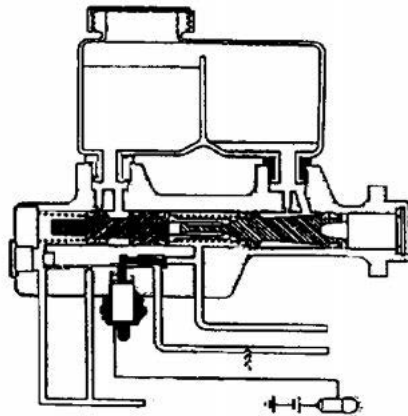


## Chassis Management System (CMS)

### Sistem Kontrol

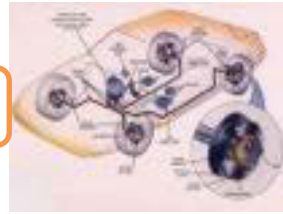
Sistem kontrol berfungsi untuk mengetahui kebocoran pada sirkit rem hidraulis

Sistem torak dengan satu saklar

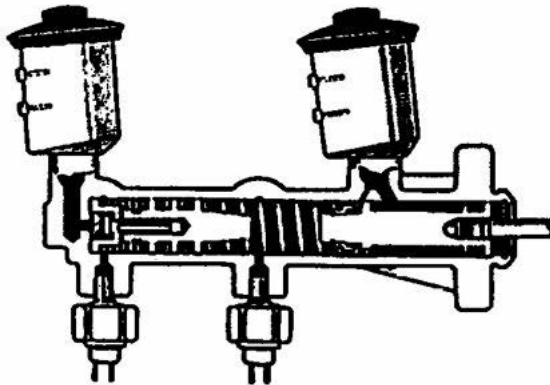


- Keadaan normal  
Bila kedua sirkit rem bekerja baik, tombol saklar bebas diantara torak kontrol dan lampu kontrol mati
- Sirkit satu bocor
  - ⇒ Tekanan cairan rem menekan
  - ⇒ torak kontrol ke kanan
  - ⇒ Tombol saklar di dorong torak
  - ⇒ kontrol ke bawah
  - ⇒ Lampu kontrol menyala
  - 1. *Torak kontrol*
  - 2. *Tombol saklar*
  - 3. *Saklar*
  - 4. *Lampu*
- Sirkit dua bocor
  - ⇒ Tekanan cairan rem menekan
  - ⇒ torak kontrol ke kiri
  - ⇒ Tombol saklar didorong torak
  - ⇒ kontrol ke bawah
  - ⇒ Lampu kontrol mati

Gambar 2.45. Indikator Kebocoran master Satu Torak Satu Saklar



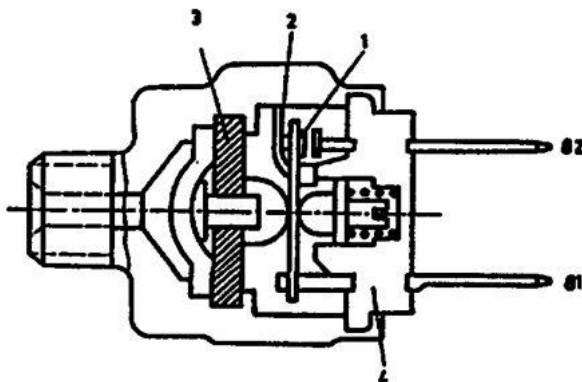
Sistem Listrik Dengan Dua Saklar



- Bila sistem rem hidraulis belum bekerja lampu mati
- Bila kedua sistem rem berfungsi lampu mati
- Bila sistem rem berfungsi hanya satu lampu menyala

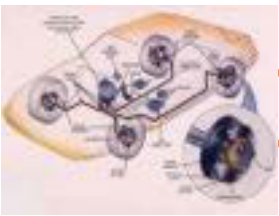
Gambar 2.46. Indikator Kebocoran master Dua Saklar

Saklar dan nama bagian - bagiannya



1. Lengan kontak
2. Terminal negatif
3. Diaphragma
4. Isolasi

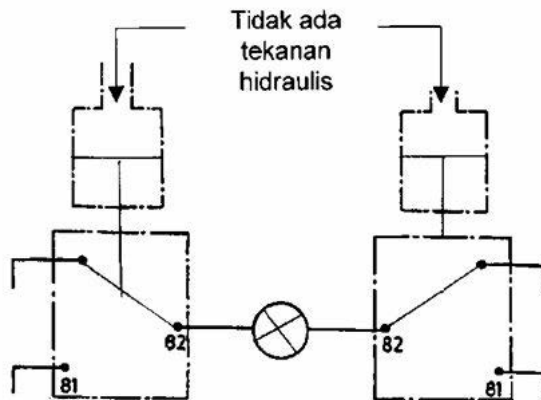
Gambar 2.47. Saklar Indikator Kebocoran master



## Chassis Management System (CMS)

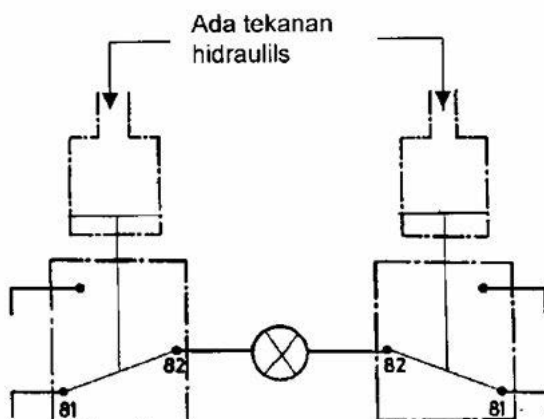
### Cara Kerja

#### Sistem rem belum bekerja



Gambar 2.48. Saklar Indikator Kebocoran master Saat Belum Bekerja

- Lengan kontak menghubungkan terminal 82 dengan terminal negatif
- Lampu pengontrol mati
- Terminal 81 berhubungan dengan arus positif
- Terminal 82 berhubungan dengan terminal lampu

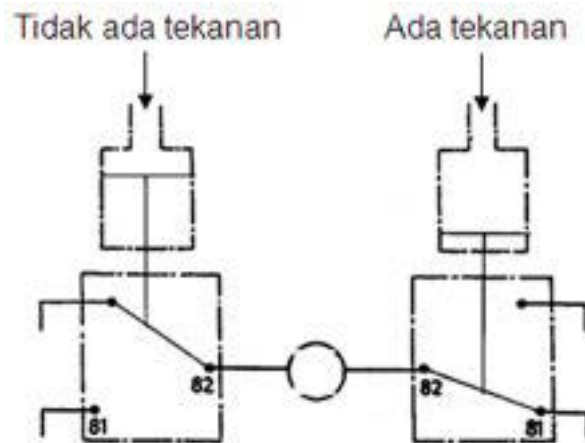


Gambar 2.49. Saklar Indikator Kebocoranmaster Saat Pengereman

- Tekanan hidrolik ada pada kedua saklar rem
- Kedua saklar dihubungkan dengan positif
- Lampu tidak menyala karena tidak dihubungkan dengan massa



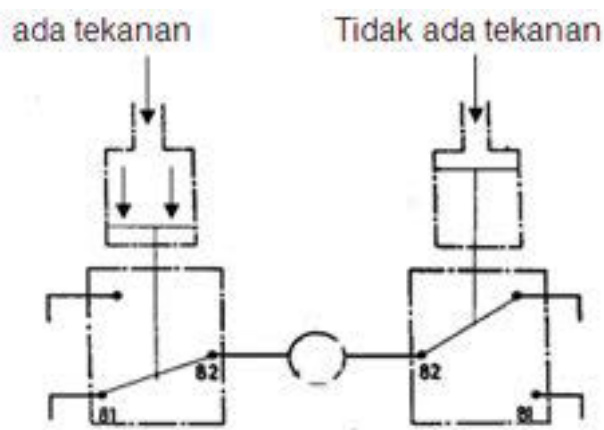
Sistem Rem I Hidraulis Bocor



Gambar 2.50. Saklar Indikator Kebocoran master Saat Bocor Saluran 1

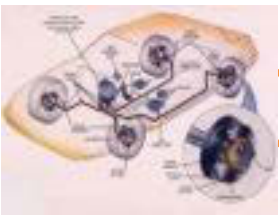
- Arus listrik dari terminal positif 81 ( II )  $\Rightarrow$  82 ( II ) dan 82 ( I )  $\Rightarrow$  massa
- Terjadi rangkaian tertutup
- Lampu kontrol menyala

Sistem rem II hidraulis bocor



Gambar 2.51. Saklar Indikator Kebocoran master Saat Bocor Saluran 2

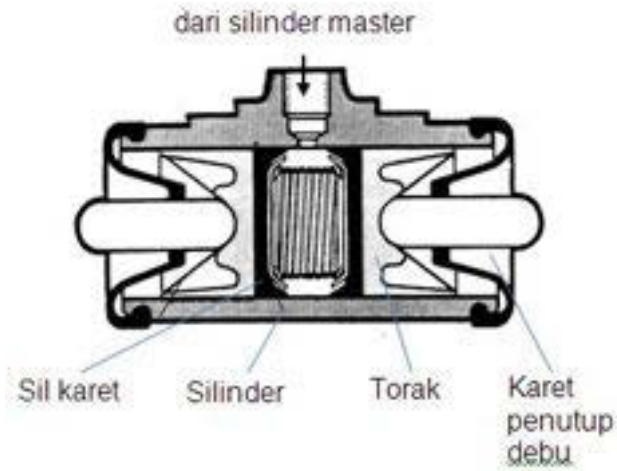
- Arus listrik dari terminal positif 81 ( I )  $\Rightarrow$  82 ( I )  $\Rightarrow$  lampu
- $\Rightarrow$  82 ( II )  $\Rightarrow$  massa
- Terjadi rangkaian tertutup
- Lampu kontrol menyala



## Chassis Management System (CMS)

### Silinder Roda

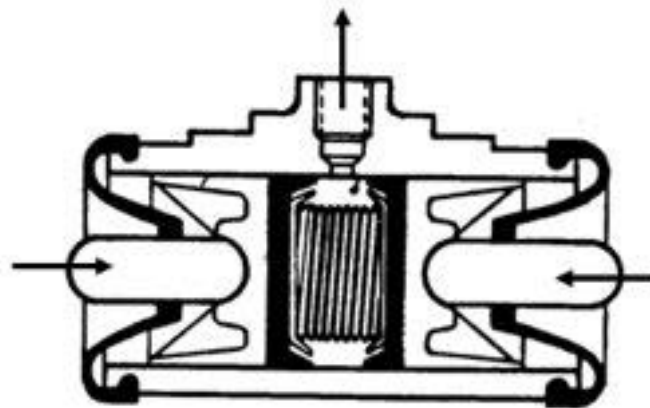
Nama Bagian – Bagian Dan Cara Kerja Silinder Roda



Gambar 2.52. Kontruksi Silinder Roda

#### Langkah tekan :

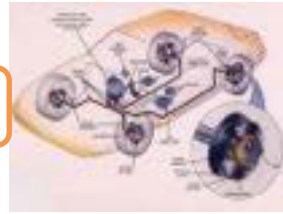
Tekanan cairan rem yang di bangkitkan silinder master menekan sil karet silinder roda



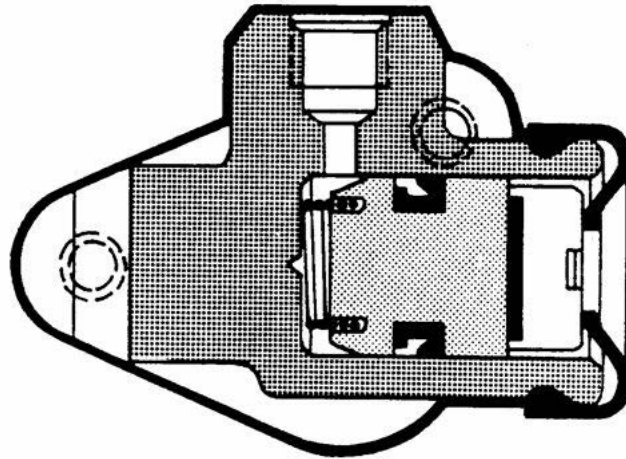
Gambar 2.53. Cara Kerja Silinder Roda

#### Langkah lepas :

Tekanan cairan rem tidak ada. Tegangan pegas pengembali sepatu rem tromol menekan sil karet silinder roda, cairan rem mengalir kembali ke silinder master



Silinder Roda Satu Torak

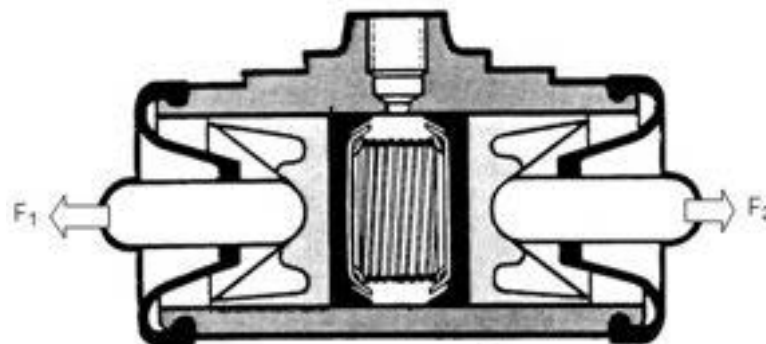


Gambar 2.54. Silinder Roda Satu Torak

Digunakan pada :

- Sistem dupleks
- Sistem servo

Silinder Roda Dua Torak Satu Silinder



Gambar 2.55. Silinder Roda Dua Torak

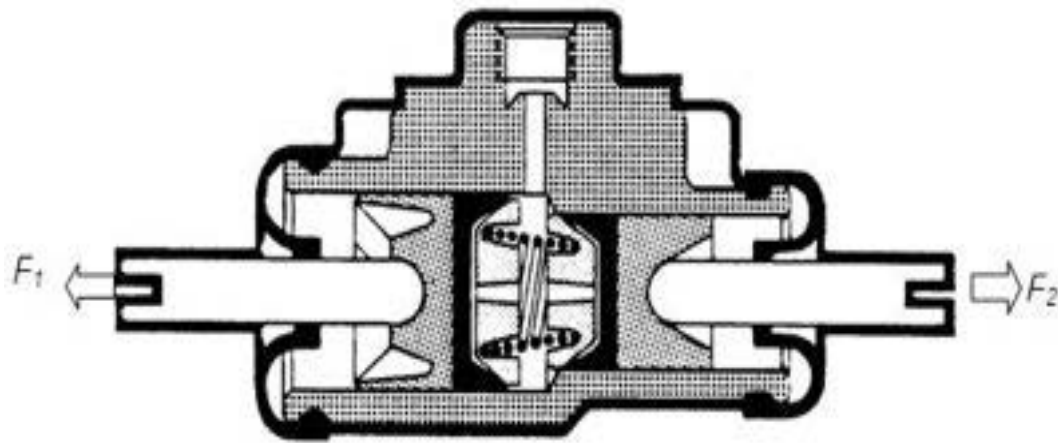
Digunakan pada :

- ⇒ Sistem duo dupleks
- ⇒ Sistem duo servo

$$F_1 = F_2$$

## Chassis Management System (CMS)

Silinder roda dua torak silinder bertingkat



Gambar 2.56. Silinder Roda Dua Torak Bertingkat

Keterangan ;

- ✓  $F_1 > F_2$

Digunakan pada :

- ✓ Sistem duo servo
- ✓ Sistem simpleks

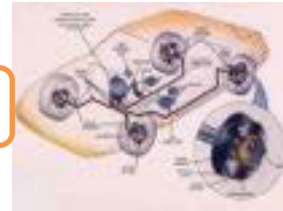
Cairan Rem :

Berdasarkan ketentuan DOT ( Department of Transport ) Amerika,

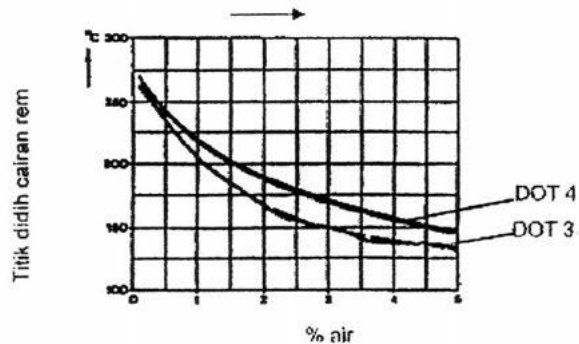
DOT 3 dan DOT 4 merupakan cairan rem biasa yang terbuat dari bahan dasar Glykol dan mempunyai sifat-sifat :

- ✓ Titik didid sampai = 2700 C
- ✓ Beracun dan merusak cat
- ✓ Dapat terbakar
- ✓ Mengabsorpsi air sehingga titik didid turun / korosi, maka harus diganti secara periodik



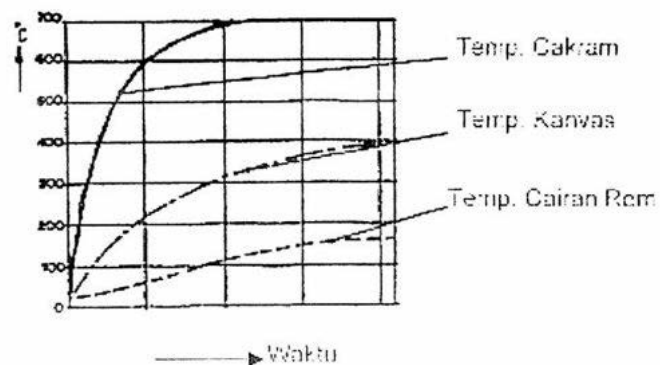


Pengaruh % air terhadap penurunan titik didih cairan rem



Gambar 2.57. Grafik Pengaruh Kandungan Air Di Cairan Rem

Pengaruh temperatur rem terhadap cairan rem

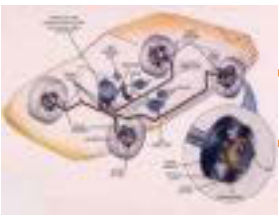


Gambar 2.58. Grafik Temperatur Cairan Rem Saat Pengereman

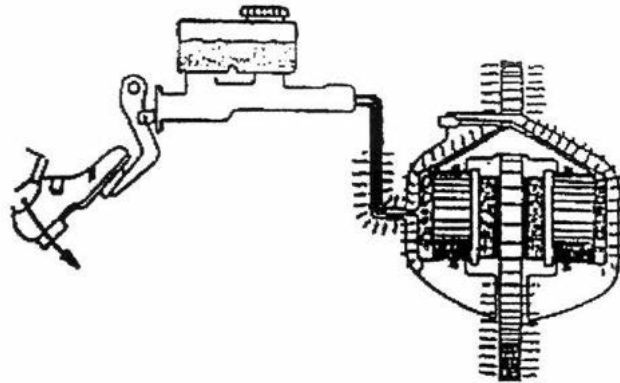
### Cairan Rem Dan Keamanan

Pengereman yang terus menerus dapat mengakibatkan tromol sepatu rem atau cakram – balok rem menjadi sangat panas. Oleh karena itu temperatur cairan rem terus naik, maka berbahaya ( mudah mendidih ) bagi kendaraan dan penumpang.






## Chasis Management System (CMS)



Gambar 2.59. Perambatan Panas Saat Pengereman

Panas merambat ke cairan rem, cairan rem mendidih terbentuk gelembung udara di dalam cairan rem efek pengereman turun

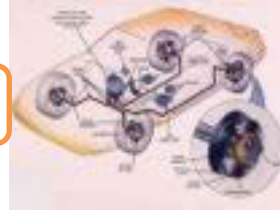


Gambar 2.60. Efek Cairan Rem Mendidih

DOT 5

Adalah cairan rem khusus yang terbuat dari bahan dasar olie silikon dan mempunyai sifat – sifat :

- Titik didih tinggi = 4000 C
- Anti korosi
- Tidak mengabsorsi air

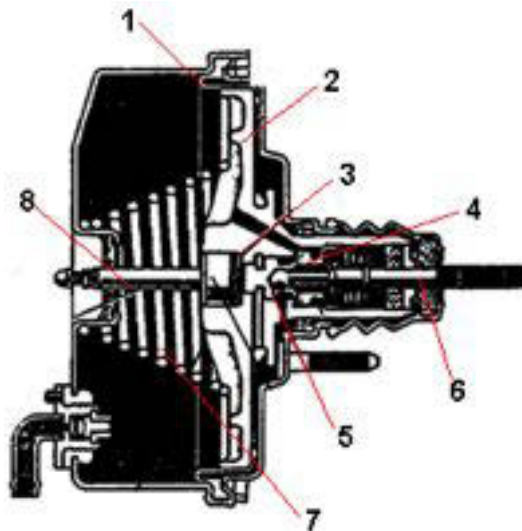


- Tidak perlu diganti
- Harganya mahal
- Tidak boleh dicampur DOT 3 – 4 ( sebaliknya )

### Boster (penguat tenaga rem)

Boster adalah perlengkapan tambahan pada sistem rem yang berfungsi untuk memperbesar gaya pengereman.

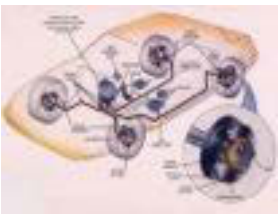
Komponen – komponen boster



Gambar 2.61. Kontruksi Boster

Nama komponen :

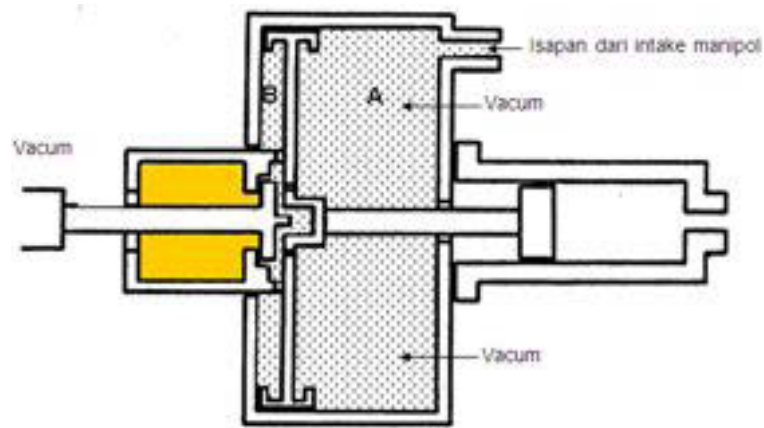
1. Diafragma
2. Torak boster
3. Piring karet reaksi
4. Katup kontrol
5. Katup udara
6. Torak batang dorong master rem
7. Pegas torak boster
8. Batang dorong master



## Chassis Management System (CMS)

### Prinsip kerja :

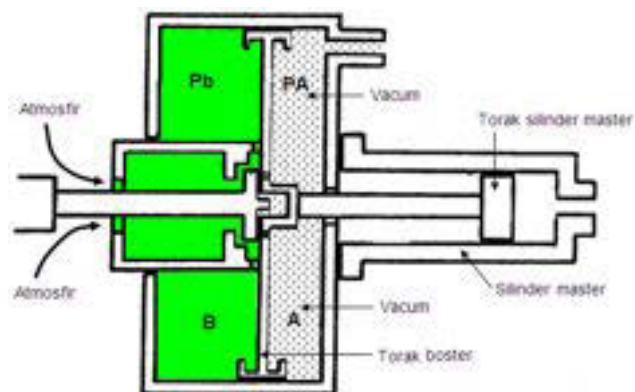
Saat bebas



Gambar 2.62.Prinsip Kerja Boster Saat Bebas

- Tidak ada gaya tekan pedal → pegas rekasi mendorong katup pengendali ke arah katup udara menutup dan katup vakum membuka
- Saluran vakum terbuka → ruang A berhubungan dengan ruang B
- Tekanan diruang A > ruang B, tekanan seimbang → tidak ada rekasi gaya dorong torak
- Pegas pengembali mampu menekan torak pada posisi belum bekerja

Saat Direm



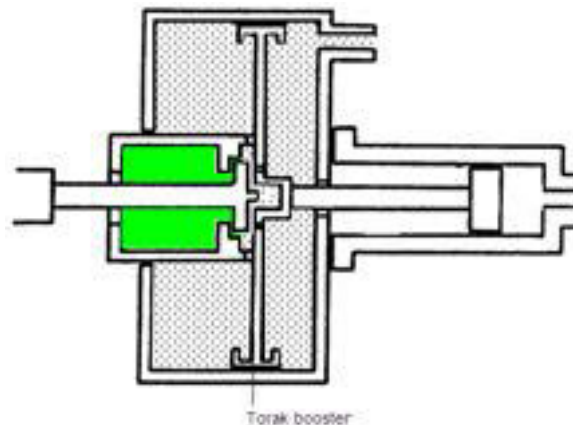
Gambar 2.63.Prinsip Kerja Boster Saat Direm



- Gaya pedal rem → pegas reaksi → katup vakum menutup saluran vakum → torak boster → batang dorong dan torak silinder master
- Saat katup vakum menutup saluran vakum → katup udara membuka saluran udara akibatnya ruang A tidak ada hubungan dengan ruang B
- Ruang A berhubungan dengan tekanan vakum dan ruang B berhubungan dengan tekanan atmosfer (udara) →  $P_B > P_A$  ada reaksi gaya dorong ke arah torak silinder master (boster bekerja)

**Gaya Pengereman = Gaya dorong pedal + Torak Boster**

Saat Pedal Rem Lepas Injakan

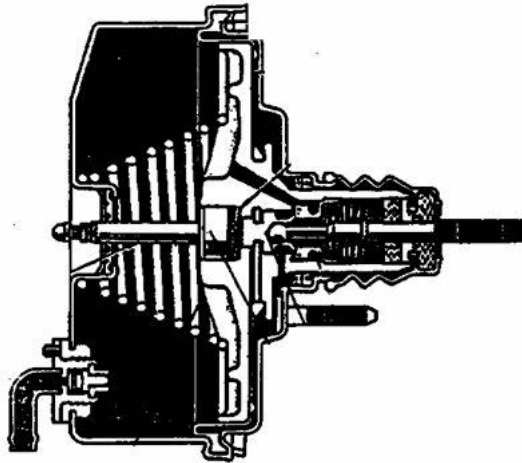


Gambar 2.64. Prinsip Kerja Boster Saat Lepas Injakan

- Tidak ada gaya dorong pedal → pegas katup pengendali mendorong katup pengendali ke arah menutup katup udara → saluran vakum terbuka
- Ruang A berhubungan dengan ruang B kembali → tekanan ruang B = ruang A = tekanan vakum → reaksi gaya dorong torak hilang karena tekanan di depan dan dibelakang torak seimbang (sama)
- Pegas pengembali torak boster terus mendorong pada posisi tidak direm
- Jika melepas injakannya sedikit → gerakan kembali katup pengendali terhenti → torak terus bergerak hingga saluran vakum tertutup lagi → ruang B kembali berhubungan dengan tekanan atmosfer → tekanan ke torak silinder master dipertahankan sesuai kehendak sopir

## Chasis Management System (CMS)

Katup Pengendali Dengan Piring Karet Reaksi

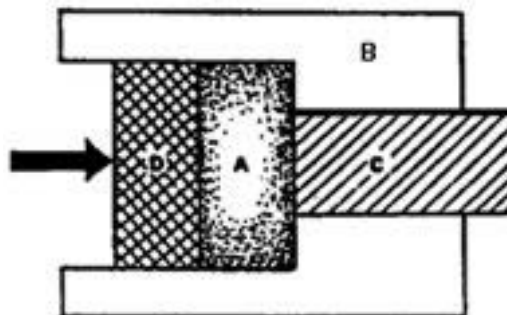


Gambar 2.65. Kontruksi Katup Pengendali Boster

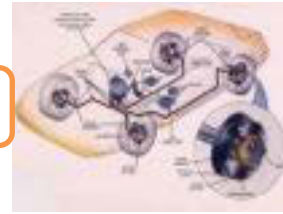
Nama komponen :

1. Diafragma
2. Torak boster
3. Piring karet reaksi
4. Katup kontrol
5. Katup udara
6. Torak batang dorong master rem
7. Pegas torak boster
8. Batang dorong master

Cara kerja :



Gambar 2.66. Prinsip Kerja Karet Reaksi Boster



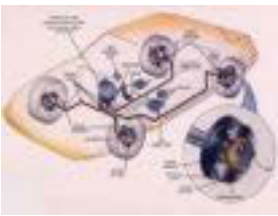
A=Karet reaksi,  
B=Torak boster,  
C=Batang dorong torak master,  
D= Katup pengendali,

- Karet reaksi ditempatkan di Ruang A yang memiliki elastisitas tertentu
- Bila katup pengendali D menekan karet reaksi A maka tekanan diteruskan permukaan B dan C
- Batang dorong torak boster C dan Torak boster B memberikan reaksi →Karet reaksi A berubah bentuk semakin menipis
- Dengan menipisnya karet reaksi A → Katup pengendali D bergerak mendekati permukaan dalam B →Katup vakum tertutup → Boster bekerja berbanding lurus antara gaya injakan pedal dg elastisitas karet reaksi

Pembukaan dan penutupan saluran vakum dengan saluran udara tergantung elastisitas karet reaksi.

### 2.4.3. Rangkuman :

- 1) Prinsip dasar dari hidraulik rem :
  - ✓ Menggunakan fluida ( cairan rem ) untuk memindahkan gaya dan gerak
  - ✓ Fluida mempunyai sifat tidak dapat dimampatkan, sehingga sangat baik untuk maksud tersebut
  - ✓ Hidraulik rem bekerja berdasarkan prinsip Hukum Pascal
- 2) Nama dan Fungsi Bagian-bagian Sistem Hidraulik Rem :
  - ✓ Pedal rem : Menekan cairan rem ke dalam silinder master
  - ✓ Penguat tenaga rem : Memeperkuat gaya tekan pedal rem
  - ✓ Silinder master : Membangkitkan tkanan cairan rem di dalam sistem hidraulik
  - ✓ Reservoir : Tempat persediaan cairan rem
  - ✓ Silinder roda dan kaliper rem : Menerima tekanan hidraulik dari master rem untuk mendorong torak → sepatu rem
  - ✓ Pipa rem dan slang fleksible : Sebagai saluran cairan rem



## Chasis Management System (CMS)

### 3) Hubungan Sirkuit Hidraulik Rem :

- ✓ Sistem satu sirkit
- ✓ Sistem dua sirkit pembagian aksial
- ✓ Sistem dua sirkit pembagian diagonal

### 4) Bagian-bagian silinder master :

- |                            |                      |
|----------------------------|----------------------|
| ✓ Silinder                 | ✓ Sil karet primer   |
| ✓ Cairan rem               | ✓ Cincin pelindung   |
| ✓ Lubang penambahan        | ✓ Lubang pengisian   |
| ✓ Lubang kompensasi        | ✓ Torak              |
| ✓ Saluran ke silinder roda | ✓ Sil karet sekunder |
| ✓ Katup                    | ✓ Reservoir          |
| ✓ Pegas katup              | ✓ Lubang ventilasi   |

### 5) Macam – Macam Silinder Master :

- ✓ Silinder master satu torak
- ✓ Silinder master dua torak ( jenis tandem )
- ✓ Silinder master port less

### 6) Cara kerja silinder master :

- ✓ *Langkah tekan*

Tekanan cairan rem terbentuk, setelah sil karet melewati lubang kompensasi

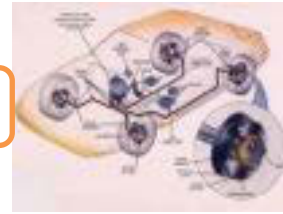
- ✓ *Langkah lepas*

Tegangan pegas menekan sil karet kembali, makan ruang didepan sil karet membesar ( vacuum ), cairan rem dari reservoir mengalir keruang kerja. Setelah itu, cairan rem silinder roda ( akibat gerak kembali toraknya ) mengalir ke silinder master dan kembali ke reservoir, setelah lubang kompensasi terbuka.

### 7) Cairan Rem yang digunakan berdasarkan ketentuan DOT ( Department of Transport ) Amerika, yang macamnya ada DOT 3, DOT 4 dan DOT 5.

### 8) Sifat – sifat cairan rem DOT 3 dan DOT 4 antara lain :

- ✓ Titik didih tinggi = 4000 C
- ✓ Anti korosi
- ✓ Tidak mengabsorsi air
- ✓ Tidak perlu diganti
- ✓ Harganya mahal



- ✓ Tidak boleh dicampur DOT 3 – 4 ( sebaliknya )
- 9) Boster adalah perlengkapan tambahan pada sistem rem yang berfungsi untuk memperbesar gaya pengereman.
- 10) Nama komponen boster antara lain :
- ✓ Diafragma
  - ✓ Torak boster
  - ✓ Piring karet reaksi
  - ✓ Katup kontrol
  - ✓ Katup udara
  - ✓ Torak batang dorong master rem
  - ✓ Pegas torak boster
  - ✓ Batang dorong master

#### 2.4.4. Tugas :

Lakukan pengamatan terkait dengan nama dan fungsi Bagian-bagian Sistem Hidraulik Rem pada mobil di bengkel sekolah, kemudian isikan hasilnya pada lembar kerja.

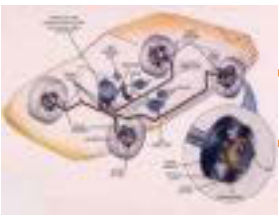
#### 2.4.5. Tes Formatif :

- 1) Jelaskan prinsip dasar dari hidraulik rem !
- 2) Sebutkan Nama dan Fungsi Bagian-bagian Sistem Hidraulik Rem !
- 3) Sebutkan jenis-jenis hubungan Sirkuit Hidraulik Rem !
- 4) Sebutkan bagian-bagian silinder master !
- 5) Sebutkan macam – macam silinder master !
- 6) Jelaskan cara kerja silinder master !
- 7) Jelaskan sifat – sifat cairan rem DOT 3 dan DOT 4 !
- 8) Jelaskan fungsi Boster !
- 9) Sebutkan nama komponen boster antara lain !

#### 2.4.6. Lembar Jawaban Tes Formatif :

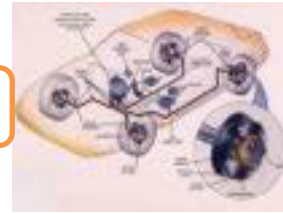
- 1) Prinsip dasar dari hidraulik rem :
  - ✓ Menggunakan fluida ( cairan rem ) untuk memindahkan gaya dan gerak





## Chasis Management System (CMS)

- ✓ Fluida mempunyai sifat tidak dapat dimampatkan, sehingga sangat baik untuk maksud tersebut
  - ✓ Hidraulik rem bekerja berdasarkan prinsip Hukum Pascal
- 2) Nama dan Fungsi Bagian-bagian Sistem Hidraulik Rem :
- ✓ Pedal rem : Menekan cairan rem ke dalam silinder master
  - ✓ Penguat tenaga rem : Memperkuat gaya tekan pedal rem
  - ✓ Silinder master : Membangkitkan tekanan cairan rem di dalam sistem hidraulik
  - ✓ Reservoir : Tempat persediaan cairan rem
  - ✓ Silinder roda dan kaliper rem : Menerima tekanan hidraulik dari master rem untuk mendorong torak → sepatu rem
  - ✓ Pipa rem dan slang fleksible : Sebagai saluran cairan rem
- 3) Hubungan Sirkuit Hidraulik Rem :
- ✓ Sistem satu sirkit
  - ✓ Sistem dua sirkit pembagian aksial
  - ✓ Sistem dua sirkit pembagian diagonal
- 4) Bagian-bagian silinder master :
- |                            |                      |
|----------------------------|----------------------|
| ✓ Silinder                 | ✓ Sil karet primer   |
| ✓ Cairan rem               | ✓ Cincin pelindung   |
| ✓ Lubang penambahan        | ✓ Lubang pengisian   |
| ✓ Lubang kompensasi        | ✓ Torak              |
| ✓ Saluran ke silinder roda | ✓ Sil karet sekunder |
| ✓ Katup                    | ✓ Reservoir          |
| ✓ Pegas katup              | ✓ Lubang ventilasi   |
- 5) Macam – Macam Silinder Master :
- ✓ Silinder master satu torak
  - ✓ Silinder master dua torak ( jenis tandem )
  - ✓ Silinder master port less
- 6) Cara kerja silinder master :
- ✓ *Langkah tekan*  
Tekanan cairan rem terbentuk, setelah sil karet melewati lubang kompensasi



✓ *Langkah lepas*

Tegangan pegas menekan sil karet kembali, makan ruang didepan sil karet membesar ( vacuum ), cairan rem dari reservoir mengalir keruang kerja. Setelah itu, cairan rem silinder roda ( akibat gerak kembali toraknya ) mengalir ke silinder master dan kembali ke reservoir, setelah lubang kompensasi terbuka.

7) Sifat – sifat cairan rem DOT 3 dan DOT 4 antara lain :

- ✓ Titik didih tinggi = 4000 C
- ✓ Anti korosi
- ✓ Tidak mengabsorsi air
- ✓ Tidak perlu diganti
- ✓ Harganya mahal
- ✓ Tidak boleh dicampur DOT 3 – 4 ( sebaliknya )

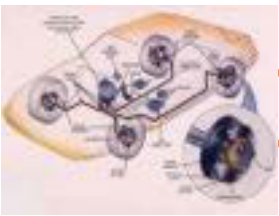
8) Boster adalah perlengkapan tambahan pada sistem rem yang berfungsi untuk memperbesar gaya pengereman.

9) Nama komponen boster antara lain :

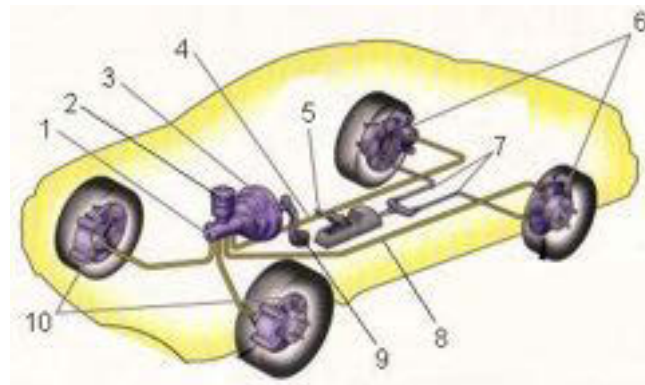
- ✓ Diafragma
- ✓ Torak boster
- ✓ Piring karet reaksi
- ✓ Katup kontrol
- ✓ Katup udara
- ✓ Torak batang dorong master rem
- ✓ Pegas torak boster
- ✓ Batang dorong master

### 2.4.7. Lembar Kerja Siswa :

Lakukan pengamatan dan identifikasi nama komponen serta fungsinya pada gambar dibawah ini :



**Chassis Management System (CMS)**



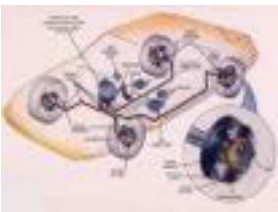
Hasil pengamatan nama dan fungsi bagian sistem hidraulik rem :

No	Nama Komponen	Fungsi Komponen
1		
2		
3		
4		
5		
6		
7		

## Chasis Management System (CMS)

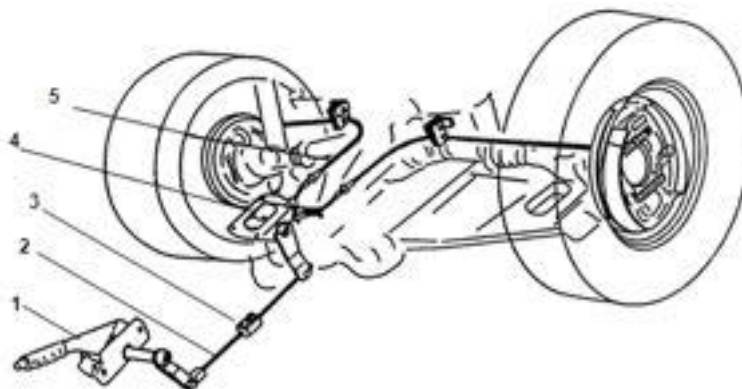


8		
9		
10		



## Chasis Management System (CMS)

### 2.5. Kegiatan Pembelajaran : Rem Tangan/Parkir



Dengan mengamati Gambar diatas diskusikan jawaban dari pertanyaan berikut ini :

Apa fungsi komponen no. 1, 2, 3, 4, dan5 secara keseluruhan jelaskan ?

---

---

---

---

---

---

---



### 2.5.1. Tujuan Pembelajaran :

Setelah selesai proses pembelajaran siswa dapat :


- ✓ Menerangkan penggunaan rem tangan/parkir
- ✓ Menjelaskan nama komponen, cara kerja dan macam-macam rem tangan/parkir
- ✓ Menjelaskan cara kerja penyetel otomatis pada rem tangan/parker

### 2.5.2. Uraian Materi :

Penggunaan Rem Tangan/Parkir

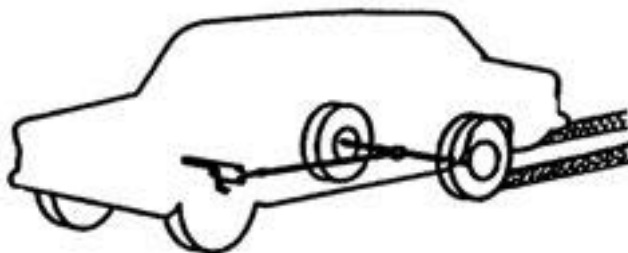
Mobil dalam keadaan berhenti diperlukan untuk mempertahankan tetap berhenti saat parkir di jalan yang datar maupun miring dan juga bisa digunakan sebagai rem darurat jika ada kegagalan fungsi pada rem kaki tetapi pelaksanaannya harus hati-hati karena kendaraan bisa melanting.

Rem tangan sebagai rem parkir

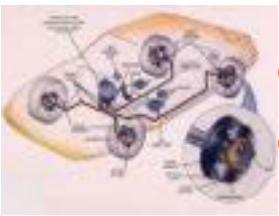


Gambar 2.67. Rem Tangan Sebagai Rem Parkir

Rem tangan sebagai rem darurat



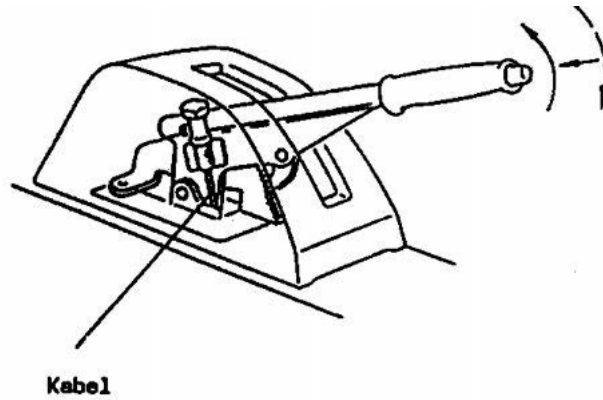
Gambar 2.68. Rem Tangan Sebagai Rem Darurat



## Chasis Management System (CMS)

Macam – Macam Lengan Pengoperasian

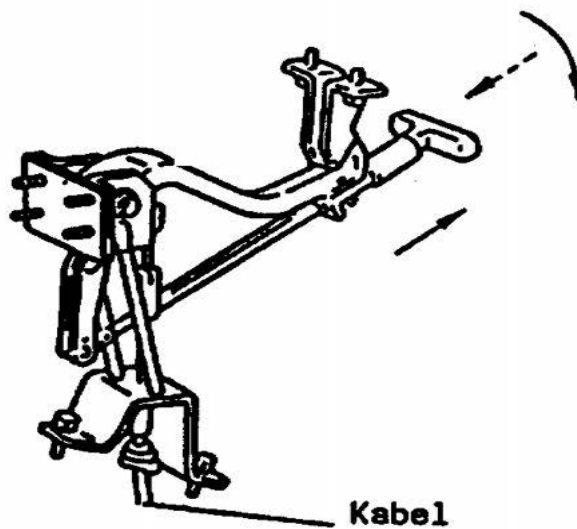
Lengan ditempatkan di samping atau di antara kursi



Gambar 2.69. Rem Tangan Model Lengan

- Tarik lengan untuk mengoperasikan rem tangan
- Tekan “knop” untuk melepas

Lengan batang tarik

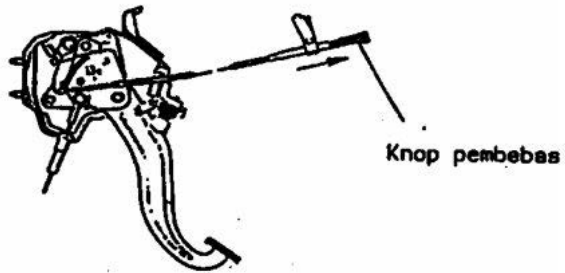


Gambar 2.69. Rem Tangan Model Tuas Tarik



- Tarik batang tarik untuk mengoperasikan rem tangan
- Putar untuk melepas

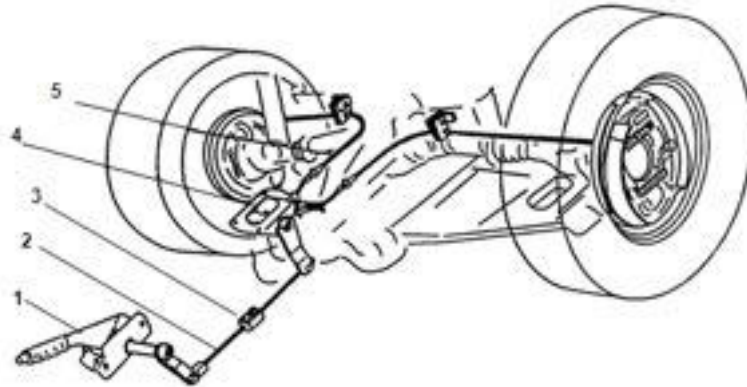
Lengan pedal



Gambar 2.70. Rem Tangan Model Pedal

- Tekan pedal untuk mengoperasikan rem tangan
- Tarik “knop” untuk melepas

Sistem Pemindah Tenaga Rem Tangan

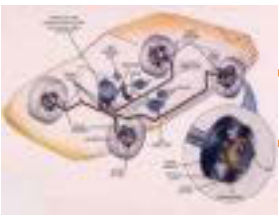


Gambar 2.71. Kontruksi Pemindah Tenaga Rem Tangan

Nama – nama bagian :

1. Lengan tangan
2. Batang tarik
3. Mur penyetel
4. Penyeimbang
5. Kabel rem

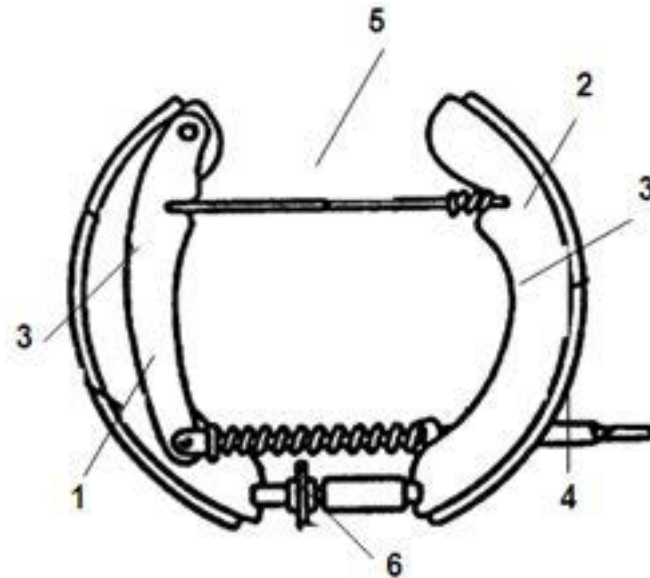




## Chassis Management System (CMS)

Macam–macam Pelaksanaan Pegereman Rem Tangan

Rem tangan tromol :



Gambar 2.72.Kontruksi Tenaga Rem Tangan Pada Rem Tromol

Nama komponen :

1. Sepatu rem I
2. Sepatu rem II
3. Lengan rem tangan
4. Kabel
5. Batang dorong
6. Gigi penyetel

Konstruksi

- ✓ Lengan rem tangan terpasang pada poros luncur di atas sepatu rem
- ✓ Batang dorong terpasang di antara lengan dengan sepatu rem II

Cara kerja :

- Lengan rem tangan ditarik oleh kabel secara manual



- Batang dorong menekan sepatu rem II dan mengangkat sepatu rem I untuk bersama - sama menekan tromol

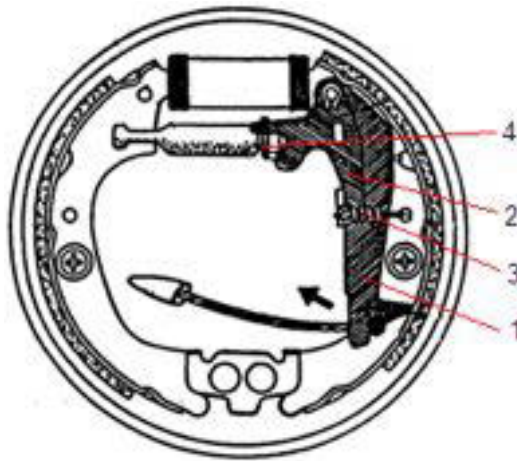
Penggunaan :

- ✓ Mobil kijang
- ✓ Hampir semua kendaraan

Penyetelan Automatis Pada Rem Tangan

Rem tangan pada tromol sering dipakai untuk menyetel rem secara otomatis

Konstruksi pada bagian – bagian khusus



Gambar 2.73.Kontruksi Penyetelan Otomatis Rem Tangan Pada Rem Tromol

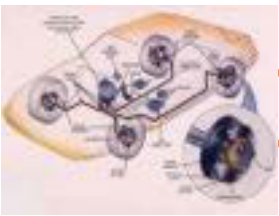
Nama Komponen :

1. Lengan penyetel
2. Plat penyetel
3. Pegas tarik
4. Baut penghubung ( batang dorong )

Bagian – bagian baut penghubung dan roda gigi penyetel



Gambar 2.74.Komponen Baut Penyetelan Otomatis



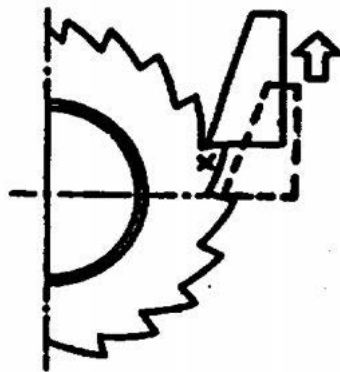
## Chassis Management System (CMS)

Cara Penyetelan Automatis :

Gerakkan angkat plat penyetel 2 karena didorong oleh lengan penyetel 1 dan dikembalikan lagi oleh pegas tarik 3

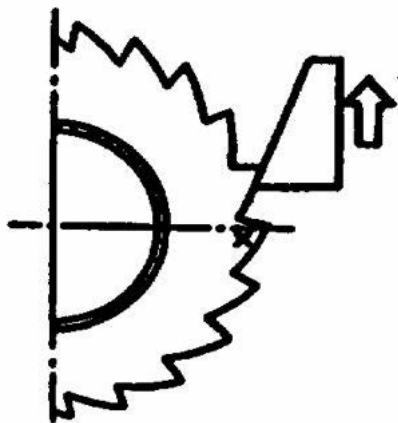
Cara kerja :

Saat celah kanvas besar



Gambar 2.75. Gerakan Tuas Penyetel

- Saat mengoperasikan rem tangan plat penyetel naik pada roda gigi penyetel
- Bila langkahnya cukup besar, plat penyetel bisa naik satu gigi lagi

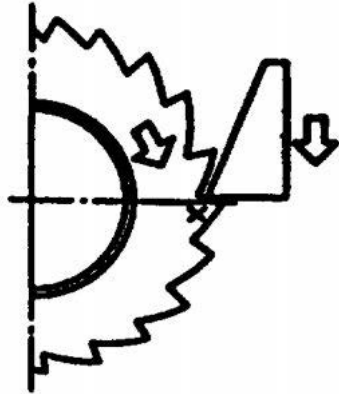


Gambar 2.76. Gerakan Tuas Penyetel

- Saat melepas rem tangan plat penyetel memutar roda gigi penyetel
- Putaran roda gigi penyetel akan memanjangkan baut penghubung dan mengurangi gerak bebas antara kanvas dan tromol



Saat celah kanvas sesuai

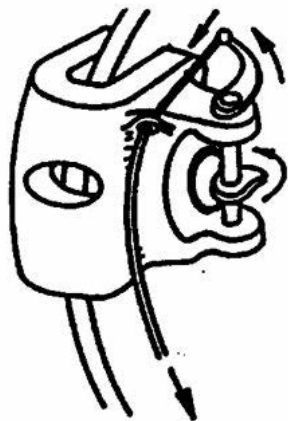


- Bila dilakukan pengoperasian rem tangan lagi, plat penyetel tidak bisa naik satu gigi lagi Jadi tidak meyetel lagi

Gambar 2.77. Gerakan Tuas Penyetel Saat Celah Baik

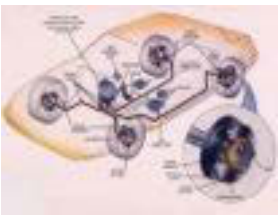
### Rem Tangan Pada Cakram

Jenis kaliper luncur



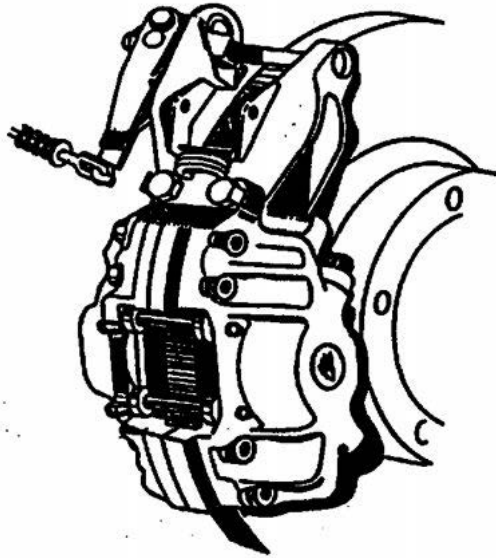
- Di belakang torak ada eksenter
- Bila rem tangan ditarik, eksenter menekan torak cakram

Gambar 2.78. Rem Tangan Pada Rem Cakram Kaliper Luncur



## Chassis Management System (CMS)


Jenis penjepit sendiri



- Pada kaliper dilengkapi dengan unit penjepit atau tang
- Unit penjepit digerakkan secara manual oleh kabel rem tangan untuk menjepit cakram
- Biasanya dipasang pada aksel belakang

Gambar 2.79. Rem Tangan Pada Rem Cakram Kaliper Tetap

Jenis tromol pada cakram



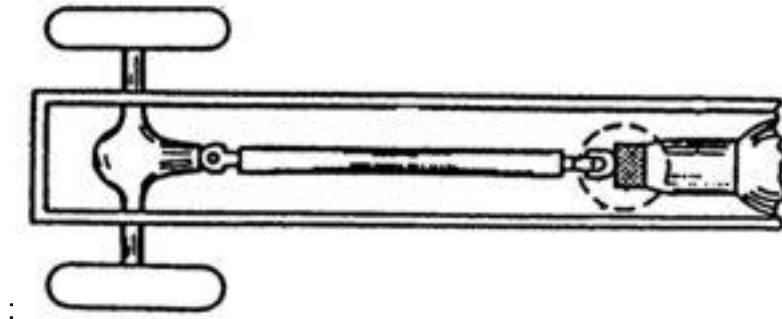
- Cara kerjanya seperti rem tromol
  - Digerakkan oleh kabel rem tangan
- Catatan :

Semua sistem rem tangan pada rem cakram tidak diperoleh gaya pengereman yang besar

Gambar 2.80. Rem Tangan Tromol Pada Rem Cakram Kaliper Tetap



Rem Tangan Pada Transmisi



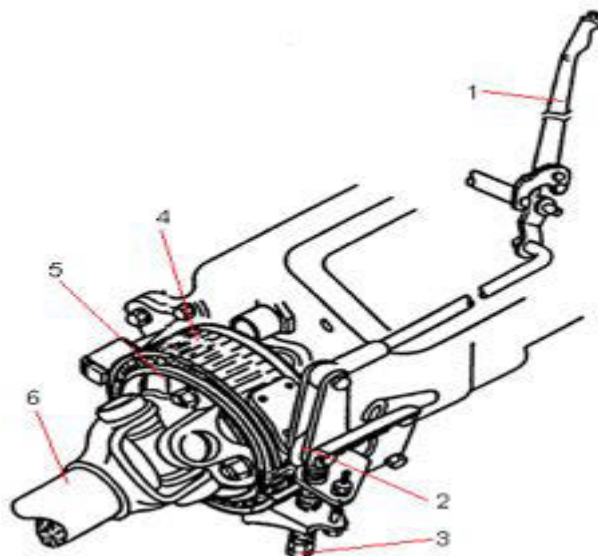
Gambar 2.81. Rem Tangan Pada Output Transmisi

Unit rem tangan di antara transmisi dengan poros propeller

Ada dua macam konstruksi :

1. Kanvas rem di dalam ( seperti rem tromol biasa )
2. Kanvas rem di luar

Kanvas rem di luar



Gambar 2.82. Kontruksi Rem Tangan Pada Output Transmisi



## Chassis Management System (CMS)

Nama komponen :

1. Lengan rem tangan
2. Anchor
3. Mur penyetel
4. Kanvas rem
5. Tromol rem
6. Poros propller

Cara kerja :

- Mekanisme lengan menekan kanvas di atas tromol
- Lengan rem tangan ditarik dengan melalui tuas kanvas rem, maka kanvas menjepit tromol rem.

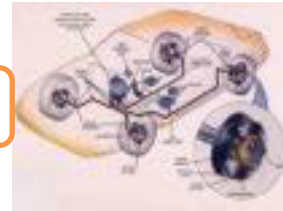
Penggunaan:

Daihatsu taft '82

### 2.5.3. Rangkuman :

- 1) Fungsi dari rem tangan adalah :
  - ✓ Rem tangan sebagai rem parkir
  - ✓ Rem tangan sebagai rem darurat
- 2) Macam – Macam Lengan Pengoperasian
  - ✓ Lengan ditempatkan di samping atau di antara kursi
  - ✓ Lengan batang tarik
  - ✓ Lengan pedal
- 3) Nama – nama bagian rem tangan :
  - ✓ Lengan tangan
  - ✓ Batang tarik
  - ✓ Mur penyetel
  - ✓ Penyeimbang
  - ✓ Kabel rem
- 4) Cara kerja rem tangan/parkir :

## Chasis Management System (CMS)



Lengan rem tangan ditarik oleh kabel secara manual kemudian batang dorong menekan sepatu rem II dan mengangkat sepatu rem I untuk bersama - sama menekan tromol

5) Nama Komponen penyetel otomatis :

- ✓ Lengan penyetel
- ✓ Plat penyetel
- ✓ Pegas tarik
- ✓ Baut penghubung ( batang dorong )

6) Prinsip kerja Penyetelan Automatis :

Gerakkan angkat plat penyetel disebabkan oleh dorongan lengan penyetel dan akan dikembalikan lagi oleh pegas tarik.

### 2.5.4. Tugas :

Lakukan pengamatan pada mobil yang ada disekeliling anda terkait dengan jenis-jenis lengan pengoperasian rem tangan kemudian tulis hasilnya pada lembar isian.

Lembar isian hasil pengamatan jenis lengan pengoperasian rem tangan :

No	Merk Mobil	Jenis Lengan Pengoperasian Rem Tangan





## Chassis Management System (CMS)

### 2.5.5. Tes Formatif :

- 1) Jelaskan Fungsi dari rem tangan adalah !
- 2) Sebutkan Macam – Macam Lengan Pengoperasian !
- 3) Sebutkan Nama – nama bagian rem tangan !
- 4) Jelaskan Cara kerja rem tangan/parkir !
- 5) Sebutkan Nama Komponen penyetel otomatis !
- 6) Jelaskan Prinsip kerja Penyetelan Automatis!

### 2.5.6. Lembar Jawaban Tes Formatif :

- 1) Fungsi dari rem tangan adalah :
  - ✓ Rem tangan sebagai rem parkir
  - ✓ Rem tangan sebagai rem darurat
- 2) Macam – Macam Lengan Pengoperasian
  - ✓ Lengan ditempatkan di samping atau di antara kursi
  - ✓ Lengan batang tarik
  - ✓ Lengan pedal
- 3) Nama – nama bagian rem tangan :
  - ✓ Lengan tangan
  - ✓ Batang tarik
  - ✓ Mur penyetel
  - ✓ Penyeimbang
  - ✓ Kabel rem
- 4) Cara kerja rem tangan/parkir :

Lengan rem tangan ditarik oleh kabel secara manual kemudian batang dorong menekan sepatu rem II dan mengangkat sepatu rem I untuk bersama - sama menekan tromol
- 5) Nama Komponen penyetel otomatis :
  - ✓ Lengan penyetel
  - ✓ Plat penyetel
  - ✓ Pegas tarik

## Chasis Management System (CMS)



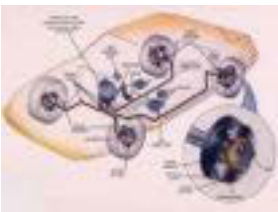
- ✓ Baut penghubung ( batang dorong )
- 6) Prinsip kerja Penyetelan Automatis :  
Gerakkan angkat plat penyetel disebabkan oleh dorongan lengan penyetel dan akan dikembalikan lagi oleh pegas tarik.

### 2.5.7. Lembar Kerja Siswa :

Lakukan pemeriksaan dan penyetelan rem tangan/parkir pada 3 macam kendaraan berdasarkan prosedur sesuai dengan buku manual masing-masing kendaraan kemudian catat langkah kerja dan hasil penyetelan pada lembar laporan kerja dibawah ini :

Lembar Laporan Pekerjaan

Kendaraan	Langkah Kerja	Hasil Kerja
1		

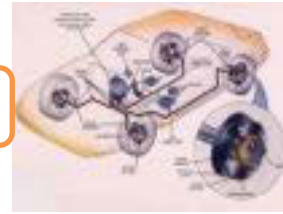


## Chasis Management System (CMS)

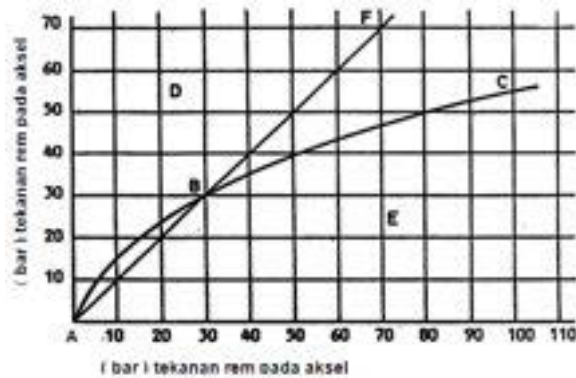
Kendaraan	Langkah Kerja	Hasil Kerja
2		
3		

Dari data hasil kerja pada Lembar Laporan Pekerjaan buatlah rangkuman garis besar secara umum Langkah kerja pemeriksaan dan penyetelan rem tangan/parker :

.....  
.....  
.....  
.....  
.....  
.....



## 2.6. Kegiatan Pembelajaran :Pengatur Tekanan Rem



Dengan mengamati Gambar diatas diskusikan jawaban dari pertanyaan berikut ini :

Jelaskan mengapa pada kurve A-B-F besar tekanan pengereman Rem depan sama dengan rem belakang ?

---

---

---

---

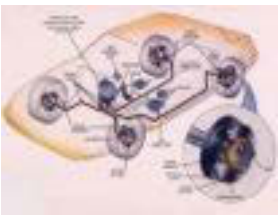
---

---

### 2.6.1. Tujuan Pembelajaran :

Setelah selesai proses pembelajaran siswadapat :

- ✓ Menerangkan kegunaan pengatur tekanan rem
- ✓ Menjelaskan nama komponen dan cara kerja pengatur tekanan jenis pembatas tekanan
- ✓ Menjelaskan nama komponen dan cara kerja pengatur tekanan jenis



## Chassis Management System (CMS)

katup pengatur proporsional

- ✓ Menjelaskan nama komponen dan cara kerja pengatur tekanan jenis bola pembatas tekanan
- ✓ Menjelaskan nama komponen dan cara kerja pengatur tekanan jenis katup proporsional sensor berat

### 2.6.2. Uraian Materi :

Pembagian Gaya Rem Pada Aksel Dan Katup Pembatas Tekanan

Syarat Pengereman :

- Pada saat mengerem, kendaraan harus dapat berhenti dengan stabil, untuk itu roda tidak boleh memblokir / hingga slip
- Supaya roda tidak memblokir, maka berat kendaraan pada roa saat berjalan harus lebih besar daripada gaya pengereman
- Hal tersebut dapat diformulasikan dalam bentuk rumus :

$$M \times g \times \mu > F_{\text{rem}}$$

$m$  = massa mobil

$g$  = gravitasi

$\mu$  = koefisien gesek

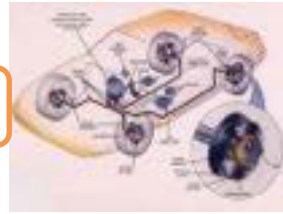
$F_{\text{rem}}$  = gaya pengereman

Berat Statis Dan Dinamis :

- ✓ Berat Statis : Berat pada aksel depan dan belakang saat mobil berhenti
- ✓ Berat Dinamis : Berat pada aksel depan dan belakang saat mobil berjalan

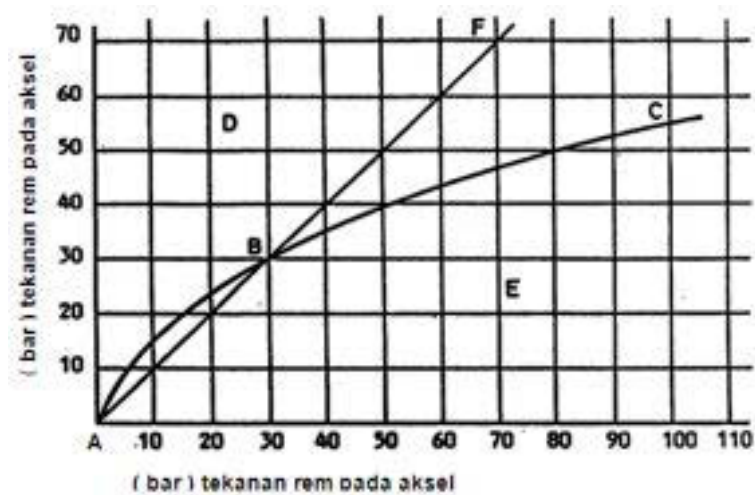
Pengereman Statis Dan Dinamis

- ✓ Pengereman Statis : Saat direm tidak terjadi perubahan berat aksel depan ataupun belakang (mobil diam)
- ✓ Pengereman Dinamis : Saat direm berat aksel depan dan belakang berubah (mobil berjalan)



Jika beban aksel berubah : beban aksel depan bertambah dan beban aksel berkurang sedangkan tekanan pengereman sama besar maka rem pada aksel belakang akan terjadi lock brake (roda terkunci). Hal sangat berbahaya karena roda belakang slip dan kendaraan akan melanting (yaw moment) → Pengereman tidak stabil, untuk itu tekanan rem pada aksel belakang harus dikoreksi sehingga tidak terjadi lock-brake.

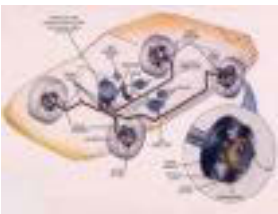
Diagram Tekanan Rem Maksimum



Gambar 2.83. Grafik Tekanan Rem Maksimum Pada Aksel Depan - Belakang

- Diagram ini menunjukkan tekanan rem maksimum dinamis pada aksel belakang, dibanding dengan tekanan rem pada aksel depan
- Kurve A-B-C batas tekanan maksimum rem belakang supaya rem belakang tidak memblokir ( slip )
- Kurve A-B-F adalah tekanan rem yang tidak diatur = tekanan rem roda depan sama dengan tekanan rem roda belakang
- Pada titik B = roda mulai memblokir

**Di atas kurve ABC roda belakang memblokir**  
**Di bawah kurve ABC roda belakang tidak memblokir**  
**Perlu pengatur tekanan rem ... !**



## Chassis Management System (CMS)

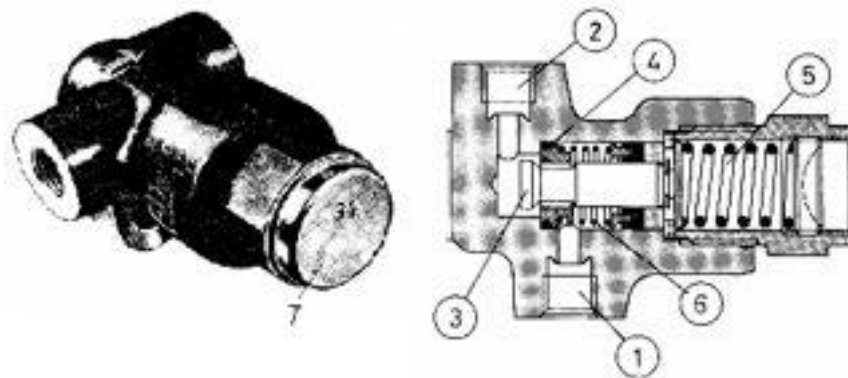
### Pengatur Tekanan Rem

Untuk mengatur tekanan rem pada aksel belakang agar pengereman dapat stabil tanpa terjadi melanting pada kendaraan umumnya ditambahkan katup pengatur tekanan rem, untuk keperluan tersebut katup pengatur yang dipakai pada kebanyakan kendaraan ada beberapa tipe :

1. Katup Pembatas Tekanan
2. Katup Pengatur Proporsional
3. Katup Pembatas Bola Perlambatan
4. Katup Pengatur Berdasarkan Perubahan beban

#### Katup Pembatas Tekanan

Pada tipe ini adalah pengatur tekanan rem ke roda belakang yang paling sederhana, jadi pada satu batas tekanan tertentu katup ini menutup saluran yang menuju rem aksel belakang sehingga tekanan tidak bisa naik lebih tinggi lagi dari pada batas tertentu.



Gambar 2.84. Kontruksi Katup Pembatas Tekanan

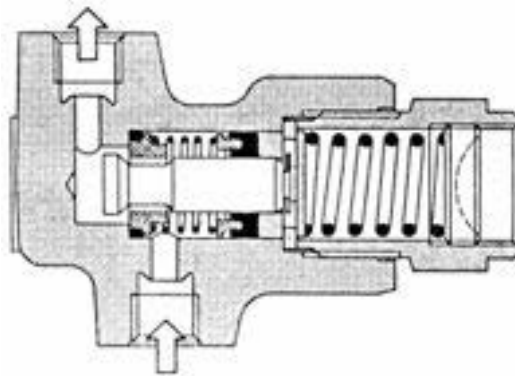
**In** = Tekanan dari silinder master

**Out** = Tekanan menuju silinder roda



### Cara Kerja

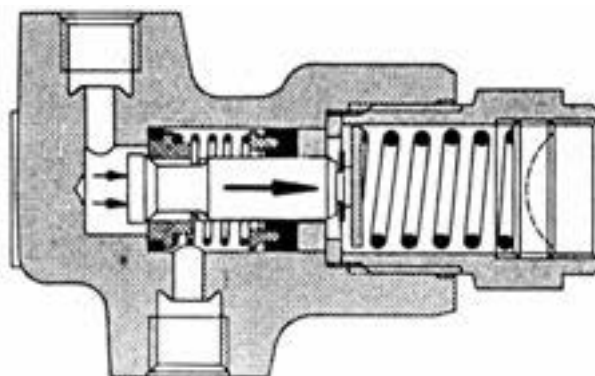
Tekanan masuk masih di bawah tekanan pegas pengatur



Gambar 2.86. Katup Pembatas Tekanan Belum Bekerja

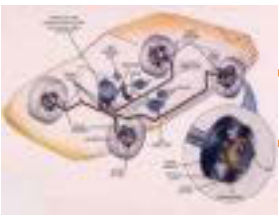
- Torak pengatur didorong ke kanan oleh pegas pengatur tekanan hidraulis
- Torak pengatur membuka saluran hidraulis
- Tekanan hidraulis dari silinder master dapat berhubungan langsung kesilinder roda belakang
- Tidak terjadi perbedaan tekanan antara silinder master dengan silinder roda belakang
- Sil pembuka ditekan oleh pegas pembuka

Tekanan masuk lebih besar daripada tekanan pegas pengatur



Gambar 2.87. Katup Pembatas Tekanan Saat Mulai Bekerja

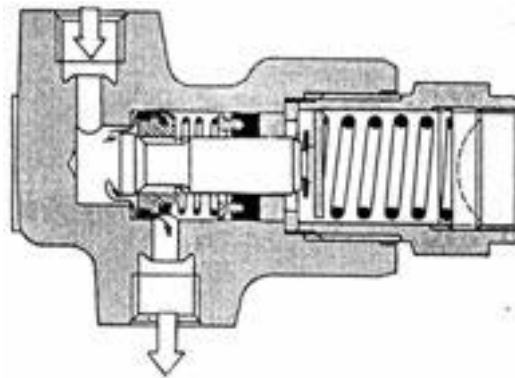




## Chassis Management System (CMS)

- Bila tekanan hidraulis silinder master lebih dari batas yang ditentukan, maka torak pengatur bergerak ke kiri dan menutup saluran pembatas
- Tekanan hidraulis silinder roda belakang dibatasi, agar roda tidak memblokir
- Tekanan hidraulis silinder roda dengan lebih besar dari silinder roda belakang

Pedal Dilepas



Gambar 2.88. Katup Pembatas Tekanan Saat Selesai Pengereman

- Tekanan hidraulis silinder master kurang lebih nol bar
- Maka tekanan hidraulis dari silinder roda mampu mendorong torak bersama sil pembuka
- Jadi sil pembuka bergerak ke kanan dan membuka saluran pembatas
- Sehingga tekanan hidraulis dari silinder roda dapat mengalir ke silinder master sampai tekanannya nol bar
- Bila sudah tidak terjadi perbedaan tekanan antara silinder roda dengan silinder master, maka, sil pembuka dan torak pengatur kembali ke posisi semula

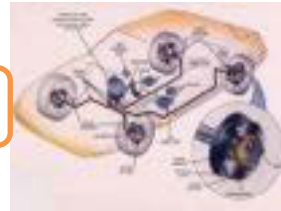
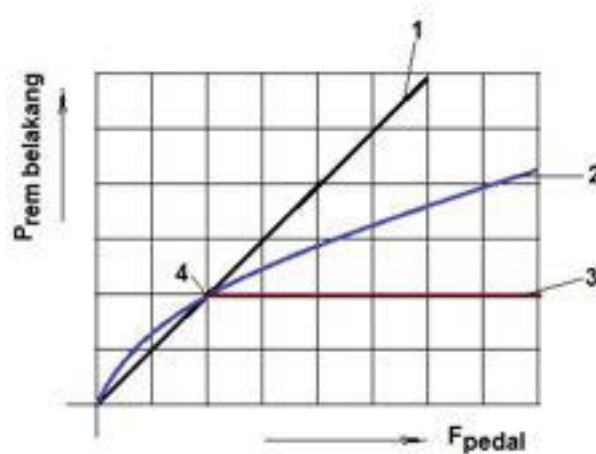


Diagram kerja katup pembatas



Gambar 2.88. Diagram Kerja Katup Pembatas Tekanan

Keterangan ;

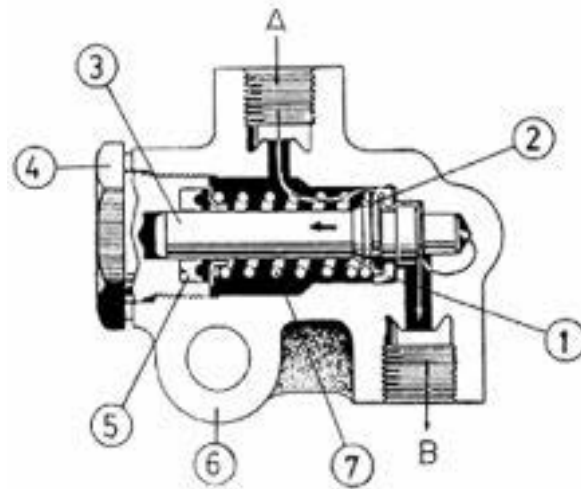
1. Tekanan silinder master
  2. Tekanan rem belakang ideal
  3. Tekanan katup pengatur tekanan
  4. Titik patah
- ✓ Sampai titik 4 tekanan depan dan tekanan belakang sama besarnya
  - ✓ Tekanan lebih dari 34 bar katup beraksi dan tekanan roda belakang tidak naik lagi
  - ✓ Roda tidak bisa memblokir ( tekanan di bawah kurve ABC )

Katup Pengatur Proporsional

Perbedaan antara katup pembatas dan katup pengatur proporsional adalah :

- ⇒ Katup pembatas : Membatasi tekanan secara konstan
- ⇒ Katup pengatur proporsional : Mengatur tekanan secara proporsional pengaturan ini diatur oleh torak

## Chassis Management System (CMS)



Gambar 2.89. Kontruksi Katup Proporsional

Nama komponen :

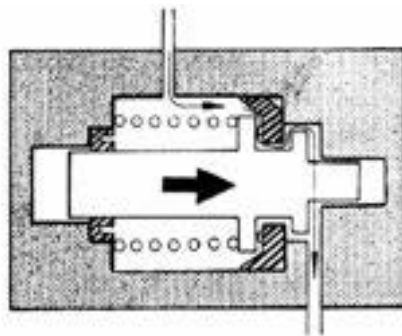
1. Sil pembuka
2. Ring penahan pegas
3. Torak pengatur ( bertingkat )
4. Pembatas tekanan
5. Sil perapat
6. Rumah katup pengatur
7. Pegas

A = Saluran masuk dari silinder master

B = Saluran keluar ke silinder roda belakang

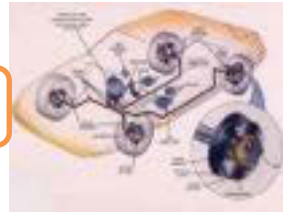
Cara kerja :

Pedal diinjak / belum bekerja :



Gambar 2.90. Prinsip Kerja Katup Proporsional Saat Normal

## Chasis Management System (CMS)



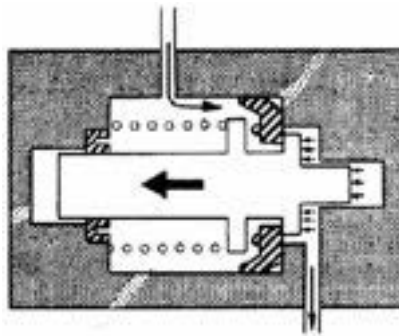
- Tekanan hidraulis dari silinder master  $\pm 30$  bar
- Maka tekanan hidraulis dapat diteruskan ke silinder roda belakang melalui lubang pemasukan
- Tidak terjadi perbedaan tekanan antara silinder master dengan silinder roda
- Torak dan sil pembuka terdorong ke kanan oleh pegas + gaya pada dinding torak A4

$$F \text{ Torak ke kanan} = \text{Pegas} + P \cdot A4$$

$$F \text{ Torak ke kiri} = P \cdot A3$$

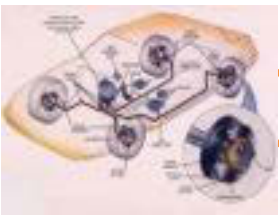
$F \text{ Torak ke kanan} > F \text{ torak ke kiri} \rightarrow$  torak diam tertahan oleh sil pembuka

Tekanan sudah diatur



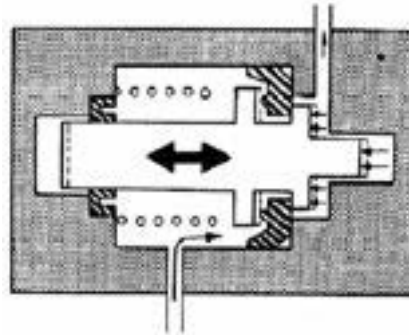
Gambar 2.91. Prinsip Kerja Katup Proporsional Saat Bekerja

- Tekanan hidraulis silinder master 50 bar
- Karena terdapat perbedaan luas penampang torak di belakang sil pembuka maka torak bergerak ke kiri melawan pegas
- Sehingga torak pengatur menutup lubang pemasukan
- Aliran hidraulis ke silinder roda terputus
- Terjadi perbedaan tekanan antara silinder master dan silinder roda



## Chassis Management System (CMS)

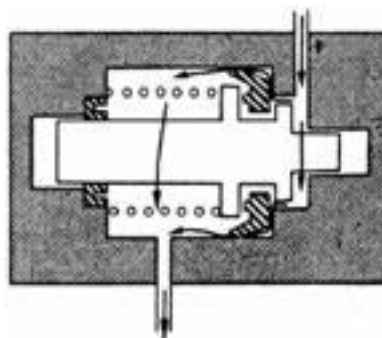
Tekanan silinder master dtambah



Gambar 2.92.Prinsip Kerja Katup Proporsional Saat Tekanan Ditambah

- Bila tekanan hidraulis ditambah lagi 80 bar
- Maka tekanan hidraulis silinder master lebih besar dari silinder roda belakang
- Sehingga torak pengatur dapat bergerak kekanan dan membuka lubang pemasukan
- Aliran hidraulis mengalir ke silinder roda melalui lubang pemasukan
- Setelah tekanannya sama, maka torak pengatur dapat bergerak ke kiri dan menutup lubang pemasukan lagi
- Ada penambahan tekanan silinder roda belakang
- Demikian seterusnya, sehingga tekanan silinder roda belakang dapat diatur

Pedal dilepas



Gambar 2.93.Prinsip Kerja Katup Proporsional Saat Tekanan Diturunkan

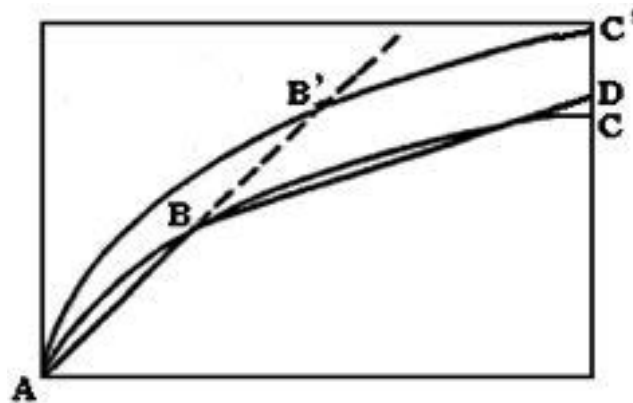


- Tekanan hidraulis silinder master nol bar
- Padahal silinder roda belakang masih bertekanan
- Jadi tekanan hidraulis silinder roda akan mendorong torak pengatur dan sil pembuka bersama – sama bergerak ke kiri
- Hidraulis dari silinder roda dapat mengalir ke silinder master melalui saluran pengembali
- Bila saluran masuk dan keluar tidak bertekanan, maka sil pembuka dan torak pengatur kembali ke posisi semula

$F \text{ torak ke kanan} < F \text{ torak ke kiri}$

$\text{Pegas} < P. A2$

Diagram kerja tekanan hidraulis



Gambar 2.94. Diagram Kerja Katup Proporsional

Kurve AB'C' = untuk mobil penuh

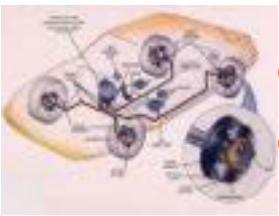
Kurve ABC = untuk mobil kosong

Keuntungan :

- Garis ABD sudah dekat dengan kurve ABC

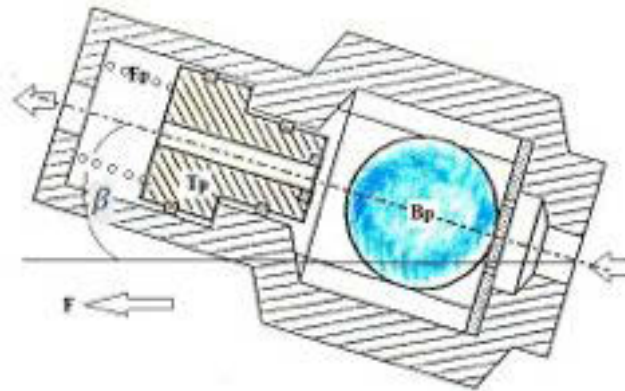
Kerugian :

- Untuk mobil dengan muatan penuh tidak bisa mengerem secara maksimal
- Untuk mobil dengan muatan penuh jarak rem menjadi panjang



## Chassis Management System (CMS)

Katup Pengatur berdasarkan Bola perlambatan



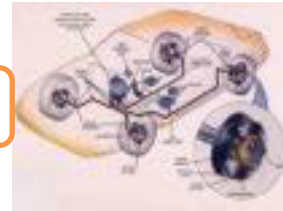
Gambar 2.95. Kontruksi Katup Pengatur Bola Perlambatan

Keterangan :

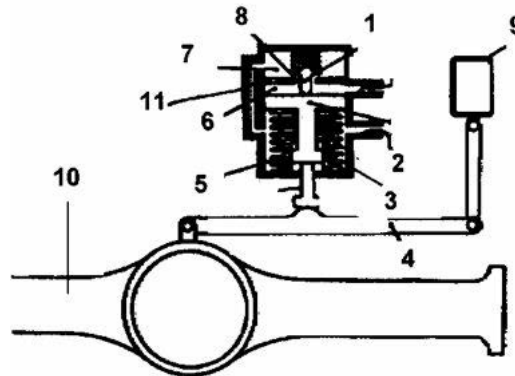
- Bp = Bola perlambatan
- Tp = Torak pengatur proporsional
- Fp = Pegas pengatur
- $\beta$  = Sudut pemasangan
- F = Arah pemasangan

Tekanan rem yang mengalir ke silinder roda tergantung dari Bp, Tp dan Fp sehingga bekerjanya merupakan gabungan antara tipe perlambatan dan katup proporsional.

Pada jenis ini pemasangan harus memperhatikan sudut ( $\beta$ ) dan arah (F) pemasangannya agar katup pengatur berfungsi dengan benar



Katup pengatur Proporsional Sensor Berat



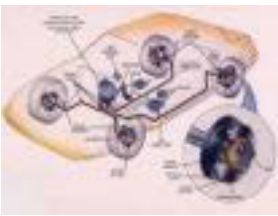
Gambar 2.96.Kontruksi Katup Proporsional Sensor Berat

Nama komponen :

1. Katup pentil
2. Torak pengatur
3. Pegas
4. Lengan torak
5. Ruang A
6. Ruang B
7. Ruang C
8. Saluran pemindah
9. Kerangka
10. Aksel
11. Saluran penghubung
12. Batang dorong torak
13. Rumah katup ( terpasang pada casis )

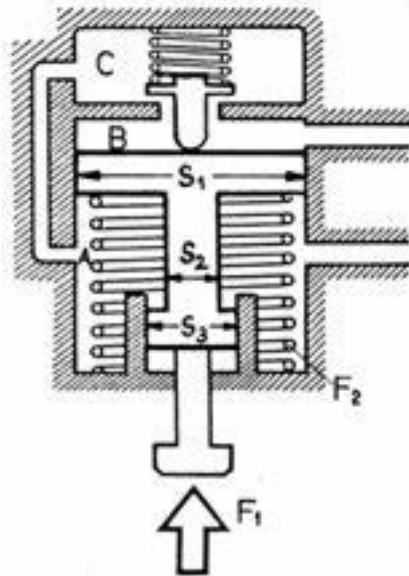
- Lengan torak menghubungkan antara aksel dengan bodi
- Batas gerakan torak pentaur ke bawah diatur oleh posisi lengan pengatur  
 $\int$  tekanan pengereman ke belakang dapat disesuaikan dengan beban kendaraan





## Chassis Management System (CMS)

Cara kerja :



Gambar 2.97. Cara Kerja Katup Proporsional Sensor Berat Saat Tanpa Beban

Keadaan tanpa beban :

Tekanan cairan rem dari silinder master ("P") dialirkan keruang A → saluran penghubung → C → B → terus ke silinder roda

Gaya dorong ke atas torak ( $F_{t1}$ ) :

$$F_{t1} = F_2 + P \cdot (S_1 - S_2)$$

Gaya dorong ke atas torak ( $F_{t2}$ ) :

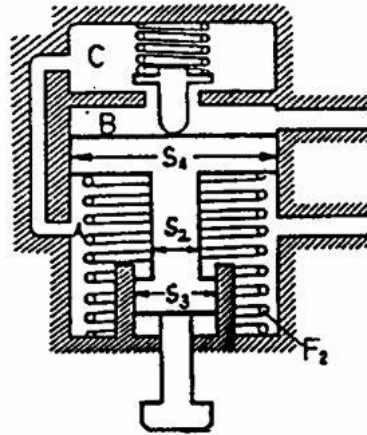
$$F_{t2} = P \cdot S_1 + P \cdot (S_3 - S_2)$$

$$F_2 = \text{Gaya pegas yang besar}$$

Jika tekanan "P" naik →  $F_{t2} > F_{t1}$  → torak pengatur turun sampai ujung batang dorong torak menyentuh lengan torak → katup menutup saluran pemindah → tekanan ke silinder roda belakang tidak dapat dilanjutkan → katup bekerja sesuai batas gerak ke bawah



Kendaraan beban ringan



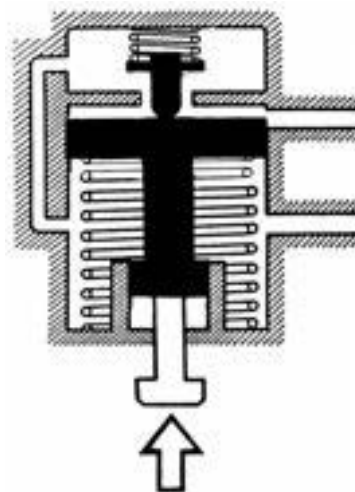
Gambar 2.98. Cara Kerja Katup Proporsional Sensor Berat Saat Beban Ringan

- Jarak A lebih dekat ujung batang dorong torak
- Bila tekanan silinder master "P"  $\rightarrow P(S_3 - S_2) > F_2 \rightarrow F_t > F_t \rightarrow$  torak bergerak ke bawah
- Dengan Bergeraknya torak ke bawah hingga batang dorong menyentuh lengan  $\rightarrow$  torak  $\rightarrow$  katup bergerak mendekati saluran pemindah

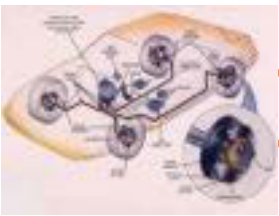
Aliran cairan rem dibatasi oleh pembukaan katup

$$P \text{ beban ringan} > P \text{ tanpa beban}$$

Kendaraan beban berat



Gambar 2.99. Cara Kerja Katup Proporsional Sensor Berat Saat Beban Berat

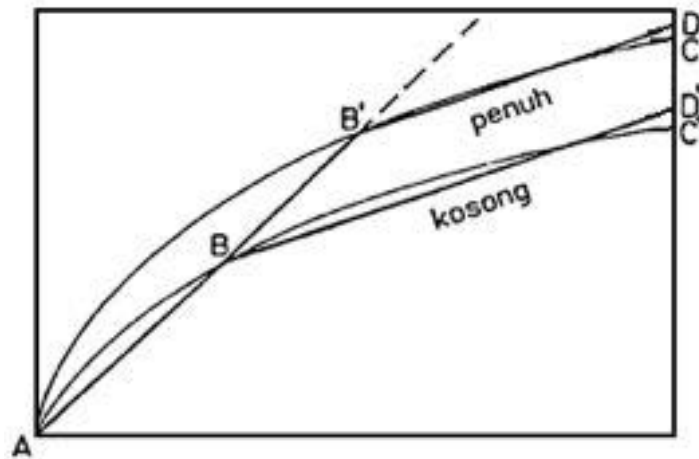


## Chassis Management System (CMS)

- Bila beban aksel belakang semakin berat  $TM$  lengan torak bergerak ke atas  $TM$  mendorong torak bergerak ke atas  $TM$  katup membuka semakin lebar
- Posisi katup dipertahankan dengan kuatnya oleh lengan torak  $TM$  katup tetap membuka walau "P" besar

**"P" silinder master = "P" silinder roda belakang**

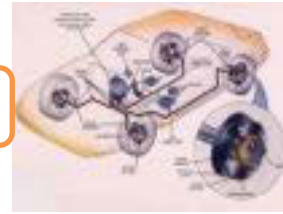
Diagram Tekanan



Gambar 2.100. Diagram Kerja Katup Proporsional Sensor Berat

Keuntungan :

- ✓ Mobil ringan : Tekanan sesuai dengan kurve ABC
- ✓ Mobil beban penuh : Tekanan diatur sesuai dengan kurve AB'D'
- ✓ Antara beban mobil kosong dan penuh tekanan diatur sesuai dengan beban aktual (BB' DD')
- ✓ Pada waktu pengereman beban aksel belakang berkurang dan katup segera mengurangi tekanan sesuai beban dinamis

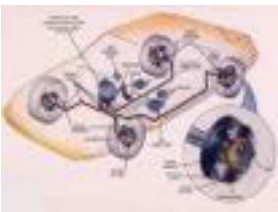


### **2.6.3. Rangkuman :**

- 1) Fungsi Pengatur Tekanan Rem : untuk mengatur tekanan rem pada aksel belakang agar pengereman dapat stabil tanpa terjadi melanting pada kendaraan
  
- 2) Jenis-jenis pengatur tekanan yang ada pada kendaraan :
  - ✓ Katup Pembatas Tekanan
  - ✓ Katup Pengatur Proporsional
  - ✓ Katup Pembatas Bola Perlambatan
  - ✓ Katup Pengatur Berdasarkan Perubahan beban
  
- 3) Prinsip kerja Katup Pembatas Tekanan  
Membatasi tekanan cairan rem yang ke aksel belakang secara konstan.
  
- 4) Prinsip kerja Katup Pengatur Proporsional  
Membatasi tekanan cairan rem yang ke aksel belakang secara proposional.
  
- 5) Prinsip kerja Katup Pembatas Bola Perlambatan  
Membatasi tekanan cairan rem yang ke aksel belakang secara proposional berdasarkan gerakan bola perlambatan.
  
- 6) Prinsip kerja Katup Pengatur Berdasarkan Perubahan beban  
Membatasi tekanan cairan rem yang ke aksel belakang secara proposional berdasarkan beban kendaraan.

### **2.6.4. Tugas :**

Lakukan pengamatan pada mobil yang ada disekeliling anda terkait dengan jenis-jenis pengatur tekanan rem kemudian tulis hasilnya pada lembar isian !  
Lembar isian hasil pengamatan jenis pengatur tekanan rem :



## Chassis Management System (CMS)

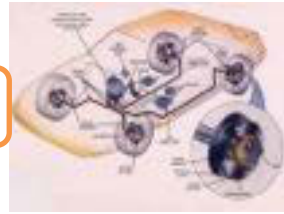
No	Merk Mobil	Jenis Pengatur Tekanan Rem

### 2.6.5. Tes Formatif

- 1) Jelaskan Fungsi Pengatur Tekanan Rem !
- 2) Sebutkan Jenis-jenis pengatur tekanan yang ada pada kendaraan !
- 3) Jelaskan Prinsip kerja Katup Pembatas Tekanan !
- 4) Jelaskan Prinsip kerja Katup Pengatur Proporsional !
- 5) Jelaskan Prinsip kerja Katup Pembatas Bola Perlambatan !
- 6) Jelaskan Prinsip kerja Katup Pengatur Berdasarkan Perubahan beban !

### 2.6.6. Lembar Jawaban Tes Formatif :

- 1) Fungsi Pengatur Tekanan Rem : untuk mengatur tekanan rem pada aksel belakang agar pengereman dapat stabil tanpa terjadi melanting pada kendaraan
- 2) Jenis-jenis pengatur tekanan yang ada pada kendaraan :
  - ✓ Katup Pembatas Tekanan
  - ✓ Katup Pengatur Proporsional
  - ✓ Katup Pembatas Bola Perlambatan
  - ✓ Katup Pengatur Berdasarkan Perubahan beban
- 3) Prinsip kerja Katup Pembatas Tekanan



Membatasi tekanan cairan rem yang ke aksel belakang secara konstan.

- 4) Prinsip kerja Katup Pengatur Proporsional  
Membatasi tekanan cairan rem yang ke aksel belakang secara proposional..
- 5) Prinsip kerja Katup Pembatas Bola Perlambatan  
Membatasi tekanan cairan rem yang ke aksel belakang secara proposional berdasarkan gerakan bola perlambatan.
- 6) Prinsip kerja Katup Pengatur Berdasarkan Perubahan beban  
Membatasi tekanan cairan rem yang ke aksel belakang secara proposional berdasarkan beban kendaraan.

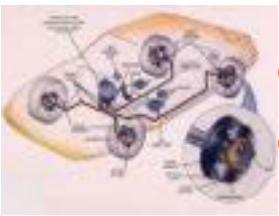
**2.6.7. Lembar Kerja Siswa :**

Lakukan pengukuran dan pengujian pengereman kendaraan pada berbagai kondisi sistem hidraulis rem :

1. Kendaraan dengan sistem hidraulik rem tidak menggunakan pengatur tekanan (a. kondisi pengereman roda depan, b. kondisi pengereman roda belakang, c. kondisi pengereman semua roda)
2. Kendaraan dengan sistem hidraulik rem menggunakan pengatur tekanan (a. kondisi pengereman roda depan, b. kondisi pengereman roda belakang, c. kondisi pengereman semua roda)

Catat hasil pengukuran dan pengujian pada lembar Laporan Pengukuran/Pengujian :

Kendaraan	Hasil Pengukuran			Sifat pengereman		
	Tekanan Rem Depan	Tekanan Rem belakang	Jarak pengereman	Lock Brake Roda depan	Lock Brake Roda belakang	Terjadi Jawing
Kendaraan-1.: Kondisi (a) Kondisi (b) Kondisi (c)						
Kendaraan-2.: Kondisi (a)						

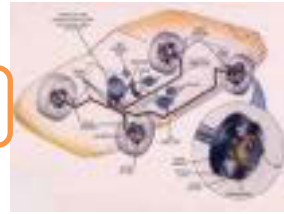


## Chasis Management System (CMS)

Kondisi (b)						
Kondisi (c)						

Dari hasil pengukuran dan pengujian buatlah analisis untuk membuat penjelasan mengapa Pengatur Tekakan pada sistem hidraulis rem sangat penting diaplikasikan pada sistem rem kendaraan :

.....  
.....  
.....  
.....



## BAB 3 SISTEM KEMUDI

### 3.1. Kegiatan Belajar 1 : Sistem Kemudi

Amati sistem kemudi yang ada pada mobil, kemudian diskusikan terkait dengan komponen-komponen dan cara kerjanya !



Gambar 3.1. Sistem Kemudi

#### 3.1.1. Tujuan Pembelajaran

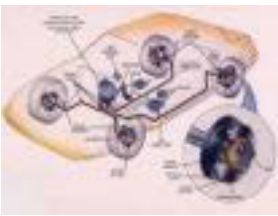
Setelah mempelajari materi ini siswa diharapkan dapat memahami tentang sistem kemudi dan menyajikan data hasil pengamatan tentang fungsi, jenis-jenis sistem kemudi, komponen dan cara kerja dari sistem kemudi serta dapat melakukan pemeliharaan pada sistem kemudi.

#### 3.1.2. Uraian Materi

##### A. Fungsi Sistem Kemudi

Fungsi sistem kemudi adalah untuk mengatur arah kendaraan dengan cara membelokkan roda depan. Cara kerjanya bila *steering wheel* (roda kemudi) diputar, *steering column* (batang kemudi) akan meneruskan tenaga putarnya ke *steering gear* (roda gigi kemudi). *Steering gear* akan memperbesar tenaga putar sehingga dihasilkan momen puntir yang lebih besar untuk diteruskan ke





## Chassis Management System (CMS)

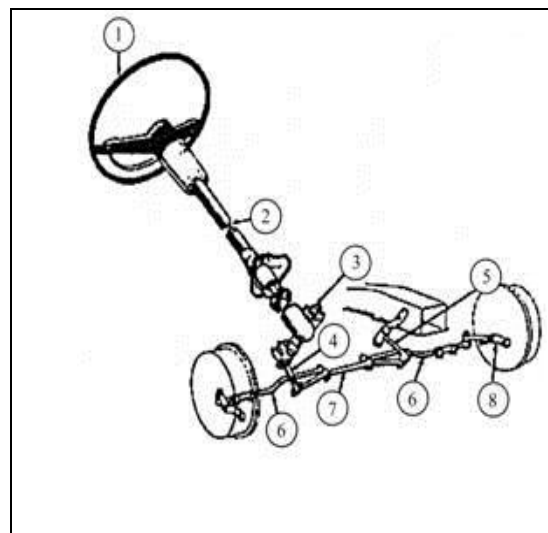
*steering linkage*. *Steering linkage* akan meneruskan gerakan steering gear ke roda-roda depan.

### B. Jenis-jenis Sistem Kemudi

Dilihat dari ada tidaknya bantuan untuk menggerakkan roda gigi kemudi, ada dua jenis sistem kemudi pada kendaraan komersil yaitu :

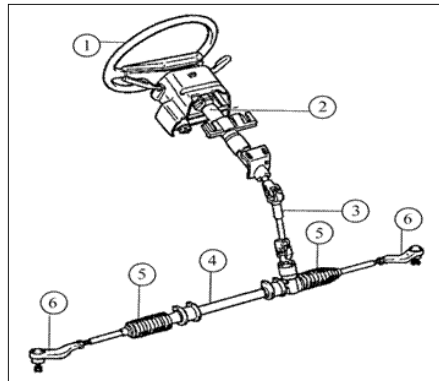
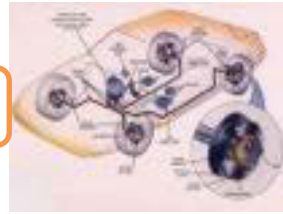
#### 1. *Manual steering*

Pada sistem *manual steering* tidak ada tambahan tenaga untuk membelokkan kemudi ke kanan dan ke kiri, pengemudi memerlukan tenaga yang cukup kuat. Sistem manual steering terdiri dari *steering wheel*, *shaft*, *column*, satu *manual gear box* dan *pitman arm*; *drag link* dan *knuckle arm*, *tie rod*.



1. *Steering wheel*
2. *Steering coloumn*
3. *Steering gear*
4. *Pitman arm*
5. *Idle arm*
6. *Tie rod*
7. *Relay rod*
8. *Knuckle arm*

Gambar 3.2. Sistem kemudi model *Recirculating ball*

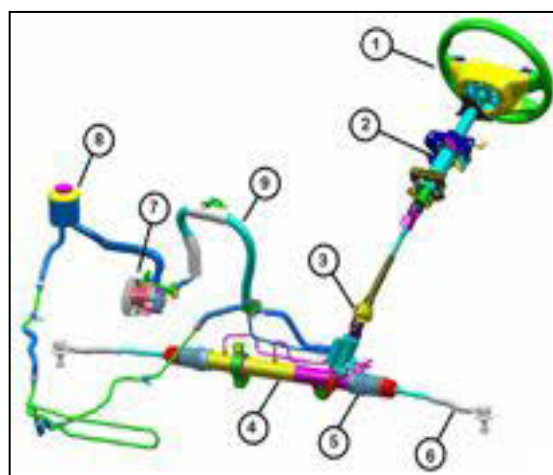


1. Steering wheel
2. Steering coulumn
3. Universal joint
4. Housing steering rack
5. Booth steer
6. Tie rod

Gambar 3.3. Sistem Kemudi model Rack dan pinion

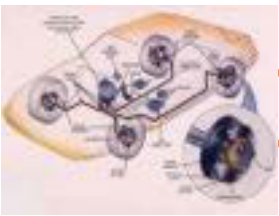
## 2. Power steering.

Dengan *power steering*, pengemudi hanya memerlukan sedikit tenaga untuk membelokkan kemudi karena dibantu dengan tenaga hidrolis. Komponen sistem kemudi pada power steering system ditambahkan satu *hydraulic pump*; *fluid reservoir*, hoses, lines; dan satu tenaga unit power yang dipasang atau menyatu, dengan powersteering gear assembly. Untuk melindungi pengemudi, seluruh steering columns dan shafts dirancang sedemikian rupa agar tidak melukai pengemudi pada saat terjadi tabrakan.



1. Steering wheel
2. Steering coulumn
3. Universal joint
4. Housing steering rack
5. Booth steer
6. Tie rod
7. hydraulic pump
8. Fluid reservoir
9. Hoses

Gambar 3.4. Sistem kemudi model Power Steering



## Chasis Management System (CMS)

Jenis sistem kemudi pada kendaraan menengah sampai besar yang banyak digunakan adalah model *recirculating ball* dan pada kendaraan ringan yang banyak digunakan adalah model *rack dan pinion*. Agar sistem kemudi sesuai dengan fungsinya maka harus memenuhi persyaratan seperti berikut :

- Kelincahannya baik.
- Usaha pengemudian yang baik.
- *Recovery* ( pengembalian ) yang halus.
- Pemindahan kejutan dari permukaan jalan harus seminimal mungkin.

### C. Komponen dan Cara Kerja Kemudi Manual

Pada umumnya konstruksi/komponen sistem kemudi terdiri dari tiga bagian utama yaitu :

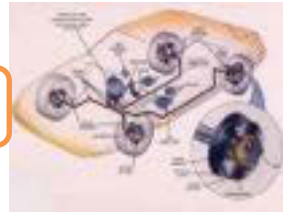
#### 1. *Steering Coulomn*.



Gambar 3.5. *Steering Coulomn*

*Steering coulomn* terdiri dari main shaft yang meneruskan putaran *steering wheel* ke steering gear dan *coulomn tube* yang mengikat main shaft ke body. Bagian ujung atas dari main shaft dibuat meruncing dan bergerigi sebagai tempat mengikatkan *steering wheel* dengan sebuah mur pengikat.

Bagian bawah main shaft dihubungkan dengan steering gear menggunakan *flexibel joint* atau *universal joint* yang berfungsi untuk



menahan dan memperkecil kejutan dari steering gear ke steering wheel yang diakibatkan oleh keadaan jalan.

Steering coulumn harus dapat menyerap gaya dorong dari pengemudi dan dipasangkan pada body melalui bracket coulumn tipe breakaway sehingga dapat bergeser turun pada saat terjadinya tabrakan.

Pada kendaraan tertentu, steering coulumn dilengkapi dengan :

- *Steering lock* yang berfungsi untuk mengunci main shaft.
- *Tilt steering* yang berfungsi untuk memungkinkan pengemudi menyetel posisi *vertikal steering wheel*.
- *Telescopic steering* yang berfungsi untuk mengatur panjang main shaft, agar diperoleh posisi yang sesuai.

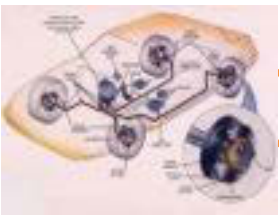
## 2. Steering Gear



Gambar 3.6. Steering Gear

*Steering Gear* berfungsi untuk mengarahkan roda depan dan dalam waktu yang bersamaan juga berfungsi sebagai gigi reduksi untuk meningkatkan momen agar kemudi menjadi ringan.

*Steering gear* ada beberapa type dan yang banyak di gunakan adalah type recirculating ball dan rack and pinion. Berat ringannya kemudi ditentukan oleh besar kecilnya perbandingan *steering gear* dan umumnya berkisar antara 18 sampai 20:1. Perbandingan steering gear yang semakin besar



## Chasis Management System (CMS)

akan menyebabkan kemudi semakin ringan akan tetapi jumlah putarannya semakin banyak, untuk sudut belok yang sama.

Perbandingan *steering gear* (*tipe recirculating ball*)

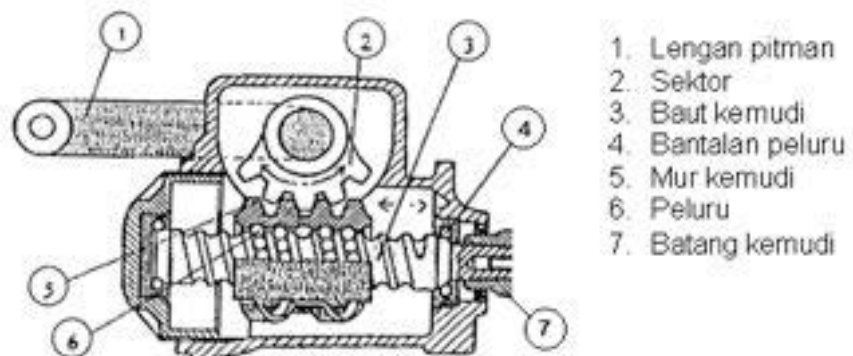
$$i = \frac{\text{Jumlah putaran roda kemudi (derajat)}}{\text{Jumlah gerakan pit man arm (derajat)}}$$

Perbandingan *steering gear* (*tipe rack and pinion*)

$$i = \frac{\text{Jumlah putaran roda kemudi (derajat)}}{\text{besarnya sudut belok roda depan(derajat)}}$$

Macam-macam tipe steering gear :

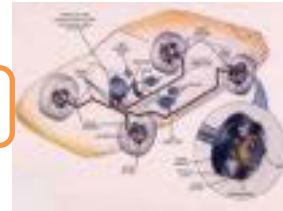
### 1) Tipe Recirculating Ball



Gambar 3.7. Steering gear tipe recirculation ball

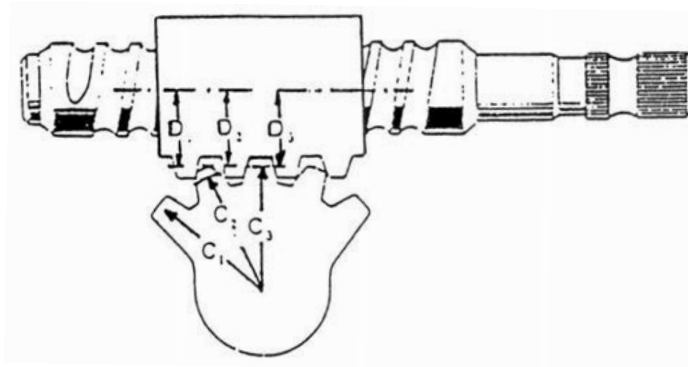
*Cara kerja :*

Bila roda kemudi diputar, maka gerakan ini diteruskan ke worm shaft/poros cacing/baut kemudi, sehingga mur kemudi akan bergerak mendatar kekiri atau kanan. Sementara mur kemudi bergerak, sektor shaft juga akan ikut berputar menggerakkan lengan pitman yang diteruskan ke roda depan melalui batang-batang kemudi/*steering linkage*.



Perbandingan gigi :

- Perbandingan gigi tetap

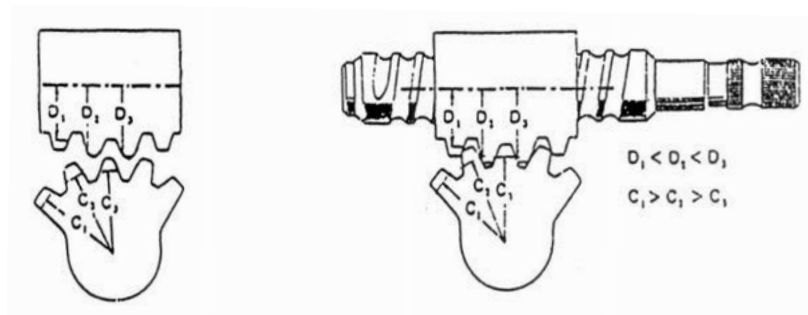


Gambar 3.8 Perbandingan gigi tetap sektor dan warm

Karena jarak gigi sektor sama ( $C_1=C_2=C_3$ ) dan jarak gigi warm juga sama ( $D_1=D_2=D_3$ ), maka perbandingan giginya selalu sama :

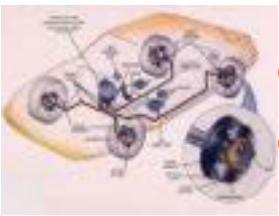
$$i = \frac{C_1}{D_1} = \frac{C_2}{D_2} = \frac{C_3}{D_3}$$

- Perbandingan bervariasi (tidak tetap)



Gambar 3.9 Perbandingan gigi tidak tetap sektor dan warm

Karena jarak gigi sektor tidak sama ( $C_1 > C_2 > C_3$ ) dan jarak gigi warm juga tidak sama ( $D_1 < D_2 < D_3$ ), maka perbandingan gigi juga tidak sama, yaitu :



## Chassis Management System (CMS)

$$i_1 = \frac{C_1}{D_1}, \quad i_2 = \frac{C_2}{D_2}, \quad i_3 = \frac{C_3}{D_3}$$

Dimana :  $i_1 > i_2 \cdot i_3$

### 2) Tipe rack and pinion



1. *Ball joint*
2. *Tie rod*
3. *Pinion*
4. *Rack*
5. *Karet Penutup (Booth)*
6. *Joint Peluru*

Gambar 3.10. Steering gear tipe rack dan pinion

Cara kerja :

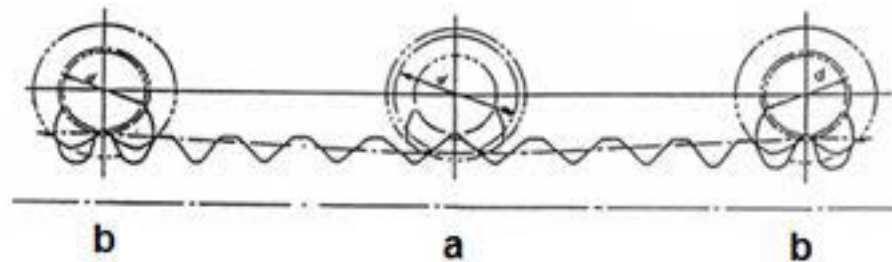
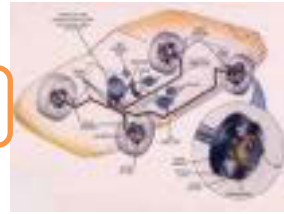
Bila roda kemudi diputar, maka gerakan diteruskan ke roda gigi pinion. Roda gigi pinion selanjutnya akan menggerakkan roda gigi rack searah mendatar. Gerakan rack ini diteruskan ke steering knuckle melalui tie rod sehingga roda membelok.

Ada dua kondisi atau situasi yang terkait pengemudian :

- Pada jalan raya, diperlukan pengemudian langsung ( Pengemudi merasakan gaya pengemudian pada roda kemudi )
- Pada saat parkir, diperlukan gaya pengemudian yang ringan

Maka dibutuhkan perbandingan gigi bervariasi pada sistem kemudi rak dan pinion. Untuk keperluan tersebut maka konstruksi dibuat :

- Jarak puncak gigi pada rak dibuat tidak sama
- Pada setiap putaran pinion, terjadi perubahan gerak rak dengan jarak yang berubah-ubah



Gambar 3.11. Perbandingan gigi rak dan pinion

**Saat pinion ditengah rak “ a “**

- Diameter kontak pinion besar
- Jarak gerak rak panjang
- Gaya kemudi berat, sudut belok roda besar

**Sudut pinion dipinggir rak “ b “**

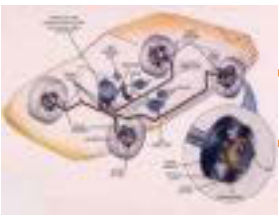
- Diameter kontak pinion kecil
- Jarak gerak rak pendek
- Gaya kemudi ringan,tetapi sudut belok roda kecil

**3. Steering Linkage**

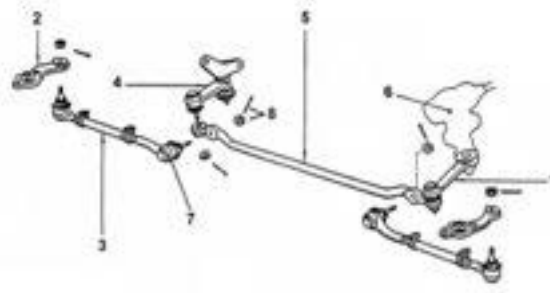
*Steering linkage* atau sambungan kemudi terdiri dari rod (batang) dan arm (lengan) yang meneruskan tenaga gerak dari steering gear ke roda depan. Gerakan roda kemudi harus diteruskan ke roda-roda depan dengan akurat walaupun mobil bergerak naik turun. Ada beberapa jenis sambungan kemudi/steering linkage yaitu :

- a. Sambungan kemudi pada gigi kemudi jenis bola sirkulasi atau pada gigi kemudi model cacing dan rol.





## Chassis Management System (CMS)



Gambar 3.12. Sambungan kemudi jenis bola sirkulasi

Nama-nama bagian :

- |                   |                               |
|-------------------|-------------------------------|
| 1. Lengan pitman  | 5. Lengan penghubung          |
| 2. Lengan knuckle | 6. Gigi kemudi                |
| 3. Tie rod        | 7. Sambungan bola             |
| 4. Lengan idler   | 8. Mur dan pengunci sambungan |

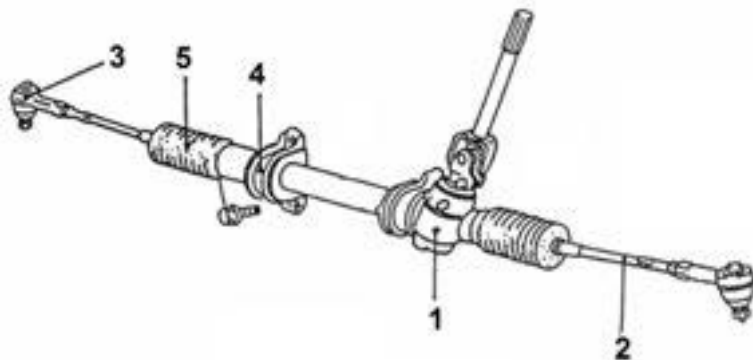
Keuntungan dari jenis ini adalah :

- Getaran dapat diredam dan mampu mengimbangi kerja suspensi
- Lebih ringan

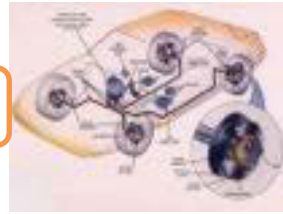
Sementara kerugiannya :

- Konstruksinya rumit
- Harganya relatif mahal

b. Sambungan Kemudi Pada Gigi Kemudi Jenis Rak Dan Pinion



Gambar 3.13. Sambungan kemudi jenis rak dan pinion

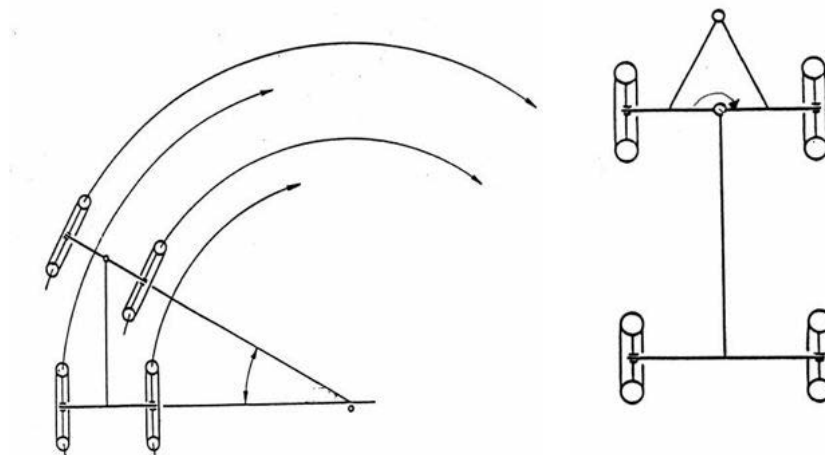


Nama-nama bagian :

1. Gigi kemudi
2. Tie rod
3. Sambungan peluru
4. Klem pengikat gigi kemudi ( Pada body )
5. Karet penutup

**Macam – Macam Lengan Sambungan Kemudi :**

- a. Sambungan Kemudi Lengan King-Pin

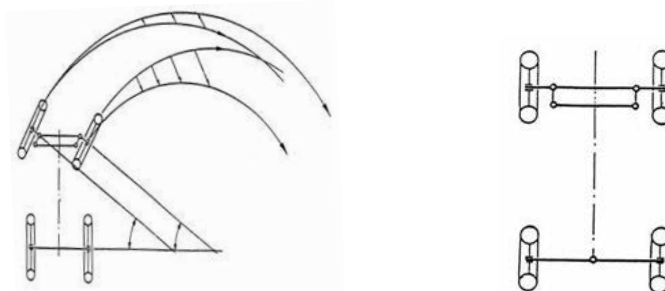


Gambar 3.14. Kemudi lengan King Pin

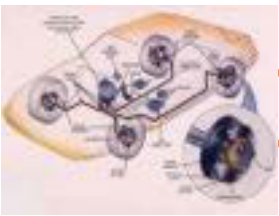
Pada konstruksi ini lengan kemudi menggerakkan aksel dan berputar pada titik pusat, maka sudut belok roda kiri = sudut belok roda kanan.

Contoh pemakaian : Truk Gandeng

- b. Sambungan Kemudi Lengan paralel



Gambar 3.15. Kemudi lengan paralel




## Chassis Management System (CMS)

Pada konstruksi Lengan kemudi paralel saat belok :

**Sudut belok kiri = sudutbelok kanan**

Dengan sudut belok yang sama tidak didapatkan titik pusat lingkaran belok yang sama akibatnya terjadi gesekan antara ban dengan jalan

### c. Sambungan Kemudi Lengan Trapezium

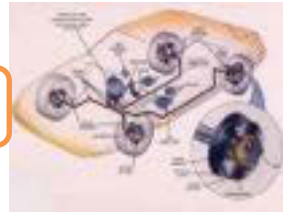


Gambar 3.16. Kemudi lengan trapesium

Pada konstruksi sambungan kemudi Lengan trapesium ( Prinsip Acherman Janteau ), pada saat belok :

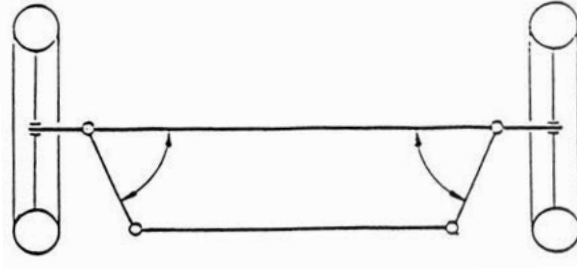
**Sudut belok roda kiri  $\neq$  sudut belok roda kanan**

Dengan prinsip Achermann Janteau didapatkan titik pusat lingkaran belok semua roda yang sepusat sehingga kendaraan dapat membelok dengan baik tanpamenimbulkan gesekan antara ban dengan permukaan jalan



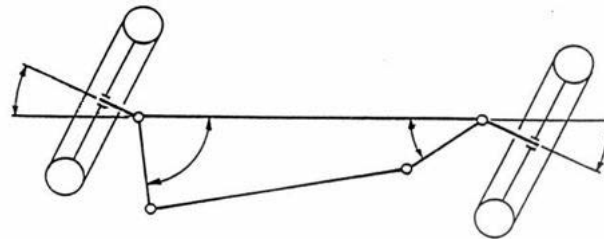
Sudut belok kendaraan lengan trapesium :

a. Kondisi Lurus



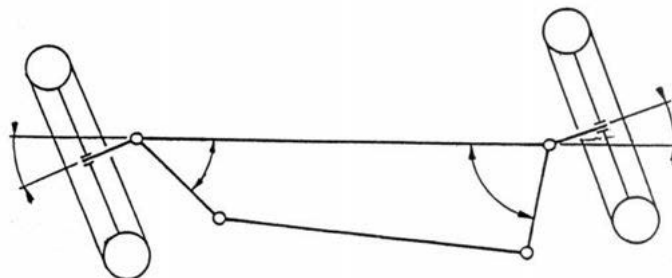
Gambar 3.17. Kemudi lengan trapesium posisi lurus

b. Kondisi belok ke kanan 30 derajat  
(Sudut belok kanan > sudut belok kiri)

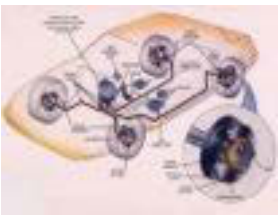


Gambar 3.18. Kemudi lengan trapesium posisi belok kanan

c. Belok ke kiri 20 derajat  
(Sudut belok kiri > sudut belok kanan)



Gambar 3.19. Kemudi lengan trapesium posisi belok kiri



## Chassis Management System (CMS)

### 4. *Komponen Kemudi Lainnya*

Komponen sistem kemudi lainnya bergantung pada jenis kemudi yang digunakan antara lain :

#### 1. Steering wheel.

Ada beberapa macam roda kemudi ditinjau dari konstruksinya yaitu :

##### a. Roda kemudi besar



Gambar 3.20. Roda kemudi besar

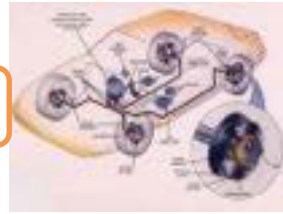
Bentuk ini mempunyai keuntungan, yaitu mendapatkan momen yang besar sehingga pada waktu membelokkan kendaraan akan terasa ringan dan lebih stabil.

##### b. Roda kemudi kecil



Gambar 3.21. Roda kemudi kecil

Mempunyai keuntungan tidak memakan tempat dan peka terhadap setiap gerakan yang diberikan pada saat jalan lurus, akan tetapi dibutuhkan tenaga besar untuk membelokkan kendaraan karena mempunyai momen kecil



c. Roda kemudi ellips

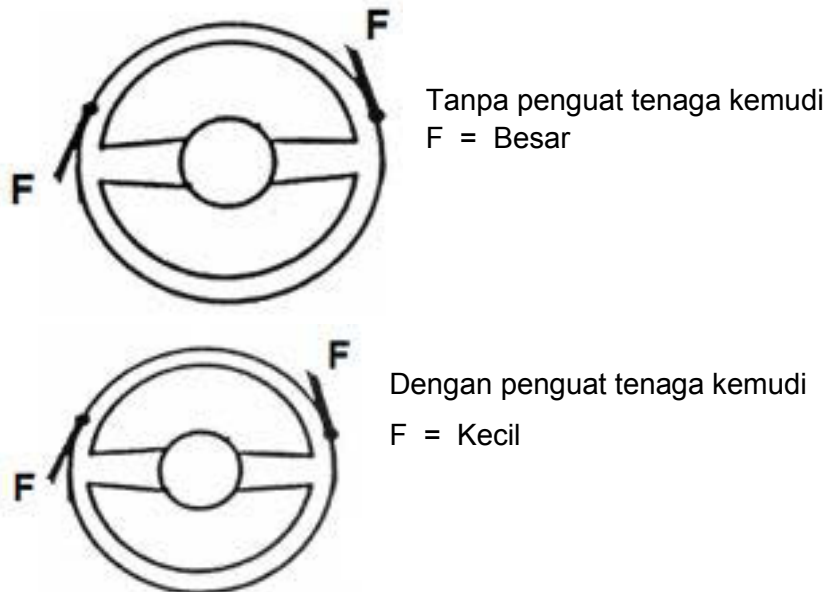


Gambar 3.22. Roda kemudi ellips

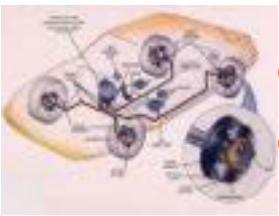
Model ini dapat mengatasi kedua-duanya karena merupakan gabungan roda kemudi besar dan kecil.

#### D. Penguat Tenaga Kemudi (Power Steering)

Penguat tenaga kemudi adalah peralatan tambahan pada sistem kemudi yang berfungsi untuk meringankan kerja pengemudian.



Gambar 3.23. Perbandingan tenaga kemudi



## Chassis Management System (CMS)

Hal – hal yang mempengaruhi beratnya kemudi adalah :

- Kecepatan rendah ( Contoh : parkir )
- Kesalahan penyetelan geometri roda
- Tekanan ban rendah
- Profil ban ( lebar ban )
- Perbandingan gigi kemudi yang tinggi
- Kerusakan pada sistem pompa

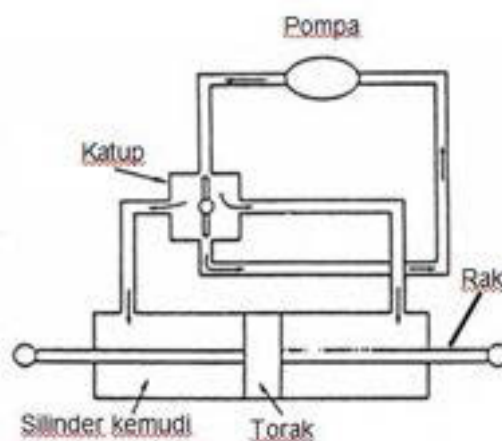
Jenis-jenis power steering :

- Hidrolic Power Steering
- Electronic Power Steering

Prinsip kerja hidrolic power steering :

- Penguat tenaga kemudi bekerja atas dasar tekanan fluida ( fluida yang digunakan biasanya ATF ), Automatic Transmission Fluida
- Tekanan fluida didapatkan dari pompa yang digerakkan oleh motor.
- Tekanan fluida diatur oleh katup untuk diarahkan ke silinder sebelah kiri atau kanan ( pada saat belok ) atau dikembalikan ke reservoir ( pada saat jalan lurus )

*Pada posisi jalan lurus :*

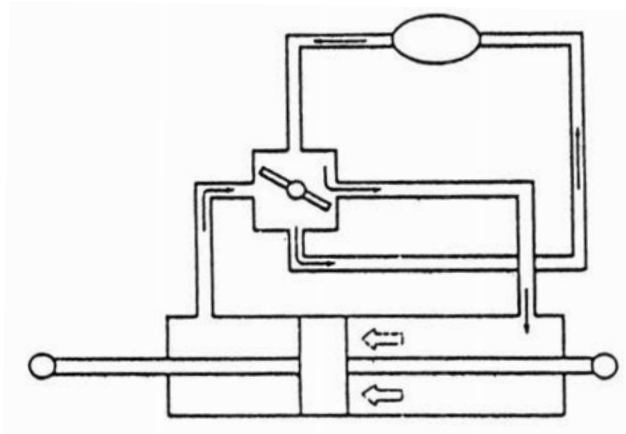


Gambar 3.24. Prinsip kerja hidrolic power steering saat lurus



Ketika katup pada posisi netral, tekanan fluida langsung kembali ke reservoir sehingga tekanan didalam silinder kanan dan kiri sama dan torak diam ( tidak ada tekanan fluida yang mendorongnya ).

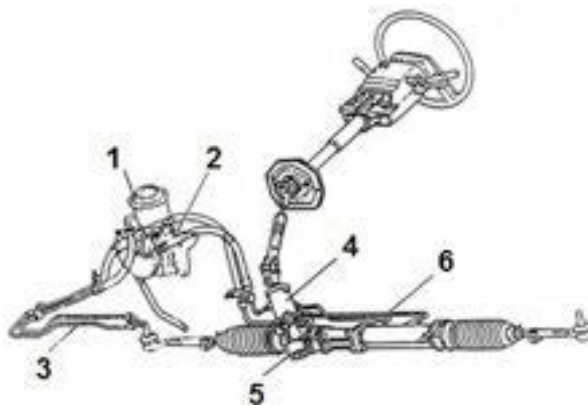
*Pada posisi belok :*



Gambar 3.25. Prinsip kerja hidrolis power steering saat belok

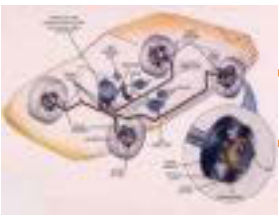
Ketika katup bergerak mengatur arah aliran tekanan fluida, maka fluida terdorong torak di dalam salah satu silinder sehingga ada bantuan tenaga. Selanjutnya tekanan fluida dari silinder dan mengalir kembali ke reservoir

### **Konstruksi Sistem Penguat Tenaga Kemudi/Power Steering**



Gambar 3.26. Konstruksi power steering





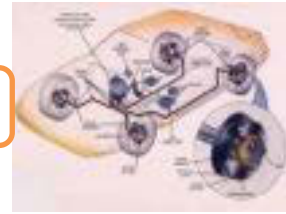
## Chasis Management System (CMS)

Keterangan :

1. Reservoir
2. Pompa
3. Pipa pendingin
4. Unit pengatur sirkit aliran minyak
5. Rumah gigi kemudi
6. Saluran pembagi

### 3.1.3. Rangkuman

1. Fungsi sistem kemudi adalah untuk mengatur arah kendaraan dengan cara membelokkan roda depan.
2. Dilihat dari ada tidaknya bantuan untuk menggerakkan gigi kemudi, ada dua jenis sistem kemudi pada kendaraan komersil yaitu :
  - Manual steering/kemudi manual
  - Power Steering/kemudi dengan tenaga penguat
3. Dilihat dari gigi kemudi, sistem kemudi dapat dikelompokkan menjadi :
  - Steering Gear tipe Recirculation Ball
  - Steering Gear tipe Cacing dan Roll
  - Steering Gear tipe Rack dan Pinion
4. Pada umumnya konstruksi/komponen sistem kemudi terdiri dari tiga bagian utama yaitu :
  - Steering Coloumn
  - Steering Gear
  - Steering Linkage
5. Komponen sistem kemudi pada power steering system sama dengan komponen sistem kemudi manual hanya ditambahkan satu *hydraulic pump; fluid reservoir*, hoses, lines; dan satu tenaga unit power yang dipasang atau menyatu, dengan powersteering gear assembly.



### 6. Cara kerja sistem kemudi manual :

Bila *steering wheel* (roda kemudi) diputar, *steering column* (batang kemudi) akan meneruskan tenaga putarnya ke *steering gear* (roda gigi kemudi). *Steering gear* akan memperbesar tenaga putar sehingga dihasilkan momen puntir yang lebih besar untuk diteruskan ke *steering linkage*. *Steering linkage* akan meneruskan gerakan *steering gear* ke roda-roda depan.

#### 3.1.4. Tugas

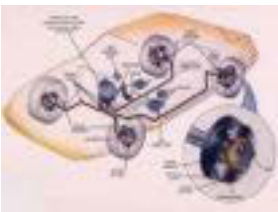
1. Lakukan pemeriksaan dan penyetelan gigi kemudi cacing pada kendaraan di bengkel sekolah anda sesuai dengan SOP !
2. Setelah itu lakukan penyetelan sambungan !

#### 3.1.5. Tes Formatif

1. Jelaskan fungsi sistem kemudi pada kendaraan !
2. Sebutkan jenis sistem kemudi berdasarkan ada tidaknya bantuan untuk menggerakkan gigi kemudi !
3. Sebutkan komponen utama sistem kemudi manual !
4. Sebutkan komponen utama sistem kemudi power steering !
5. Jelaskan cara kerja sistem kemudi

#### 3.1.6. Lembar Jawaban Tes Formatif

1. Fungsi sistem kemudi adalah untuk mengatur arah kendaraan dengan cara membelokkan roda depan.
2. Dilihat dari ada tidaknya bantuan untuk menggerakkan gigi kemudi, ada dua jenis sistem kemudi pada kendaraan komersil yaitu :
  - Manual steering/kemudi manual
  - Power Steering/kemudi dengan tenaga penguat
3. Komponen sistem kemudi manual terdiri dari tiga bagian utama yaitu :
  - Steering Coloumn
  - Steering Gear
  - Steering Linkage



## Chassis Management System (CMS)

### 4. Komponen sistem kemudi power steering :

Sama dengan komponen sistem kemudi manual hanya ditambahkan satu *hydraulic pump*; *fluid reservoir*, hoses, lines; dan satu tenaga unit power yang dipasang atau menyatu, dengan powersteering gear assembly.

### 5. Cara kerja sistem kemudi :

Bila *steering wheel* (roda kemudi) diputar, steering column (batang kemudi) akan meneruskan tenaga putarnya ke *steering gear* (roda gigi kemudi). *Steering gear* akan memperbesar tenaga putar sehingga dihasilkan momen puntir yang lebih besar untuk diteruskan ke *steering linkage*. *Steering linkage* akan meneruskan gerakan steering gear ke roda-roda depan.

### 3.1.7. Lembar Kerja Siswa

#### 1. ***Pemeriksaan dan penyetelan gigi kemudi cacing***

##### Tujuan pelajaran

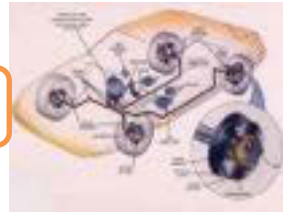
- Mengontrol banyaknya oli gigi kemudi
- Menambah/mengurangi oli gigi kemudi
- Menyetel gigi kemudi

##### Alat :

- Alat pengangkat mobil
- Penyangga
- Kotak alat
- Batang pengukur (kawat las)
- Pipet
- Kan oli

##### Bahan :

- Mobil



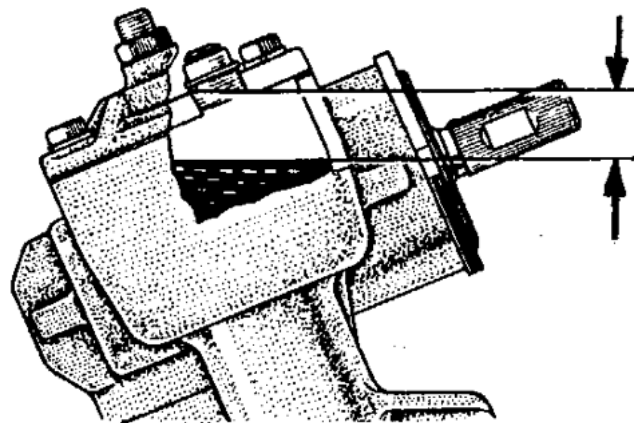
Keselamatan kerja :

Dilarang bekerja di bawah mobil yang diangkat tanpa penyangga yang baik.

Langkah kerja :

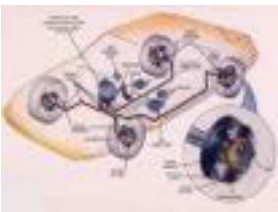
Pemeriksaan batas permukaan oli

- Buka baut pada lubang pengisi oli.
- Periksa batas permukaannya dengan batang pengukur, (dapat dengan kawat las).
- Jika terlalu rendah, tambahkan oli. gunakan oli mesin atau oli transmisi.
- Jika permukaan oli terlalu tinggi, kurangi oli dengan menggunakan karet pengisap (pipet).



Hasil Pemeriksaan
.....

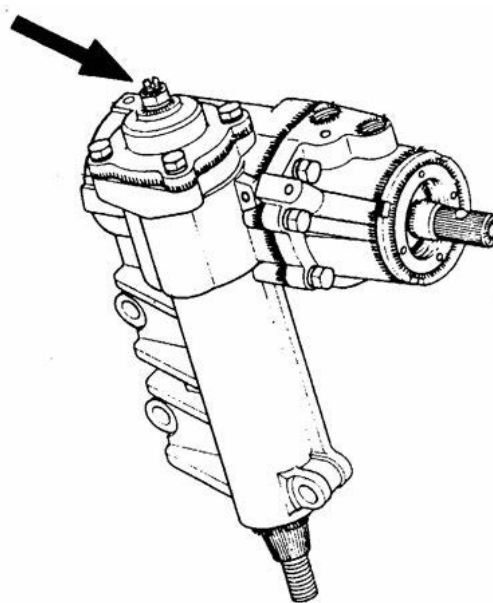
Gambar 3.27. Pemeriksaan permukaan oli gigi kemudi



## Chassis Management System (CMS)

### Pemeriksaan dan penyetelan gigi kemudi

- Angkat kendaraan, sehingga roda depan bebas dari lantai, dan luruskan posisi roda depan.
- Periksa kebebasan gigi kemudi, dengan cara menggerak-gerakkan roda kemudi ke kiri dan ke kanan sambil memperhatikan lengan pitmen mulai bergerak.
- Jika ada kebebasan, stel pada baut penyetelnya.

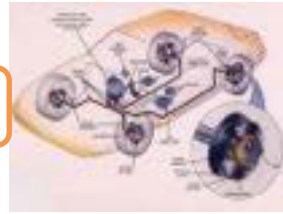


Hasil Pemeriksaan
.....

Gambar 3.28. Pemeriksaan dan penyetelan gigi kemudi

### Catatan :

Jika penyetelan dilaksanakan pada posisi roda yang tidak lurus (belok kiri/kanan), maka hasil penyetelannya tidak akurat. Karena pada saat roda tidak lurus, kebebasan gigi kemudinya adalah yang paling besar. Kalau penyetelan dilakukan pada posisi tersebut, maka pada pada posisi roda lurus, kebebasan kemudinya hilang, gigi kemudi menjadi rapat dan gerakan kemudi menjadi berat.

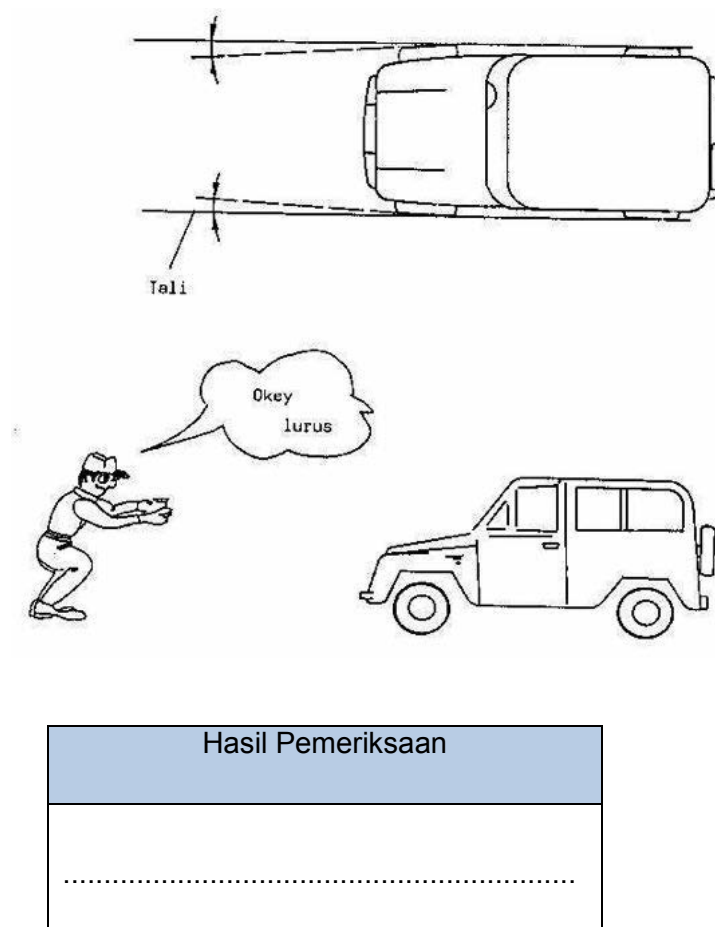


## 2. Penyetelan Sambungan Kemudi

### Langkah awal :

Tentukan posisi tengah gigi kemudi

- Simpangan roda ke kiri dan ke kanan harus sama
- Posisi lengan pit man harus kebawah atau lurus dengan mobil
- Luruskan posisi roda depan sehingga sejajar dengan mobil, dapat dicek dengan tali atau diperhatikan dengan penglihatan



Gambar 3.29. Menentukan posisi lurus kendaraan

### Langkah penyetelan

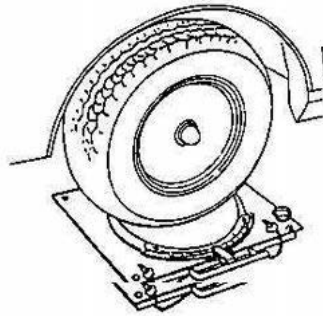
- Ukur toe-in dan stel sesuai dengan buku pedoman
- Ulangi pemeriksaan posisi tengah gigi kemudi, bila tidak tepat stel lagi sampai betul



## Chasis Management System (CMS)

### Pemeriksaan Sudut Belok Roda Depan

- Luruskan roda depan dan dorong, sehingga roda depan naik diatas meja pengukur sudut belok
- Tepatkan skala pada meja pengukur sudut beok ke posisi "O" dan lepas penguncinya

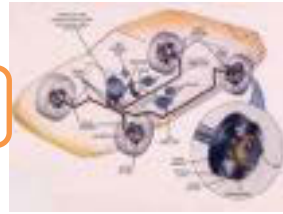


Gambar 3.30. Roda di atas meja skala

- Putar roda depan kekanan dan kekiri, sewaktu roda belok kekanan ataupun kekiri, periksa besar sudut luar dan sudut dalam, sudut dalam lebih besar daripada sudut luar
  - > Besar sudut luar maupun dalam pada waktu belok kekiri maupun kekanan harus sama
  - > Besar sudut luar dan dalam dapat dilihat pada buku manual

### Penyetelan sudut belok roda depan

- Penyetelan dilakukan setelah toe-in betul dan roda pada posisi lurus
- Stel baut penyetel pembatas belok sampai didapatkan harga yang sesuai
- Setelah penyetealan, kencangkan mur penguncinya

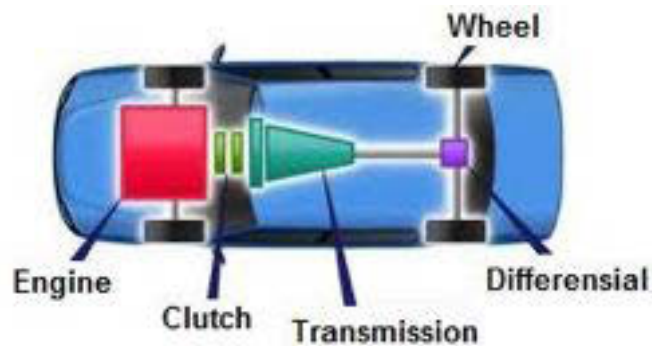


## BAB 4

### SISTEM PEMINDAH TENAGA

#### 4.1. Kegiatan Belajar : Kopling

- Amatilah komponen-komponen sistem pemindah tenaga pada kendaraan kemudian diskusikan : “apa terjadi seandainya kendaraan tidak pakai kopling/clutch ?”



Gambar 4.1. Komponen sistem pemindah tenaga pada kendaraan

- Diskusikan dengan teman anda, mengapa kopling perlu distel ?

#### 4.1.1. Tujuan Kegiatan Belajar

Setelah mempelajari materi ini siswa diharapkan dapat memahami kopling dan dapat menyajikan data hasil pengamatan tentang fungsi, komponen dan cara kerja kopling serta dapat melakukan pemeliharaan/penyetelan unit kopling.

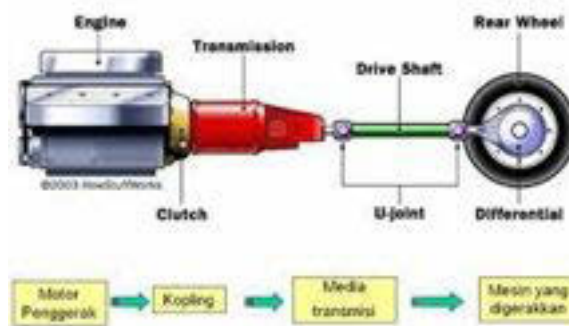
#### 4.1.2. Uraian Materi

##### A. Pengertian Kopling

Kopling dan komponen pengoperasiannya merupakan bagian dari sistem pemindah tenaga dari sebuah kendaraan, yaitu sistem yang berfungsi memindahkan tenaga dari sumber tenaga (mesin) ke roda kendaraan (pemakai/penggunaan tenaga). Kopling (*clutch*) terletak di antara mesin dan



transmisi dan berfungsi memutus dan menghubungkan putaran/tenaga dari mesin ke transmisi. Pemindahan tenaga dari mesin ke sistem penggerak pada kendaraan, tentunya diperlukan suatu proses yang halus tanpa adanya kejutan, yang menyebabkan ketidaknyamanan bagi pengemudi dan penumpang.



<http://faisalyusuf13.blogspot.com/>

Gambar 4.2. Konstruksi sistem pemindah tenaga pada kendaraan

Untuk itu diharapkan kopling harus memiliki syarat-syarat sebagai berikut:

- Harus dapat memutus dan menghubungkan putaran mesin ke transmisi dengan lembut.
- Harus dapat memindahkan tenaga mesin tanpa terjadi slip.
- Harus dapat memutuskan hubungan dengan sempurna dan cepat.

### B. Jenis-jenis kopling

#### 1) Kopling Gesek

Yaitu kopling yang melakukan pemindahan daya dengan memanfaatkan gaya gesek yang terjadi pada bidang gesek.

Kopling gesek dapat diklasifikasikan/dikelompokkan sebagai berikut :

- Dilihat dari bentuk bidang geseknya dibedakan menjadi 2 yaitu :
  - Kopling piringan (*disc clutch*)  
Kopling piringan adalah unit kopling dengan bidang gesek berbentuk piringan atau disc.
  - Kopling konis (*cone clutch*)



Kopling konis adalah unit kopling dengan bidang gesek berbentuk konis.

b) Dilihat dari jumlah piringan/ plat yang digunakan, kopling gesek dibedakan menjadi 2 yaitu :

➤ Kopling plat tunggal

Kopling plat tunggal adalah unit kopling dengan jumlah piringan koplingnya hanya satu.



[www.futuremotorsports.com](http://www.futuremotorsports.com)

Gambar 4.3. Konstruksi unit kopling plat tunggal

➤ Kopling plat ganda/ banyak

Kopling plat banyak adalah unit kopling dengan jumlah piringan lebih dari satu.



[www.futuremotorsports.com](http://www.futuremotorsports.com)

Gambar 4.4. Konstruksi unit kopling plat ganda



[www.learneasy.info](http://www.learneasy.info)

Gambar 4.5. Konstruksi unit kopling plat banyak

c) Dilihat dari media kerja, kopling dibedakan menjadi :

➤ Kopling basah

Kopling basah adalah unit kopling dengan bidang gesek (piringan atau disc) terendam cairan/ minyak.



Gambar 4.6. Kopling basah

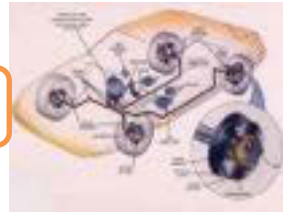
➤ Kopling kering

Kopling kering adalah unit kopling dengan bidang gesek (piringan atau disc) tidak terendam cairan/ minyak.



<http://www.orangetractor-talks.com>

Gambar 4.7. Kopling kering



d) Dilihat dari pegas penekannya, kopling dibedakan menjadi :

➤ Kopling pegas spiral

Adalah unit kopling dengan pegas penekannya berbentuk spiral. Kopling ini memiliki kelebihan : penekannya kuat dan kerjanya cepat/ spontan. Sedangkan kekurangannya : penekanan kopling berat, tekanan pada plat penekan kurang merata, jika kampas kopling aus maka daya tekan berkurang. Pemakaian banyak digunakan pada kendaraan menengah dan berat yang mengutamakan kekuatan dan bekerja pada putaran lambat.

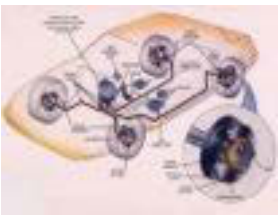


[www.rimmerbros.co.uk](http://www.rimmerbros.co.uk)

Gambar 4.8. Kopling gesek dengan pegas spiral

➤ Kopling pegas diaphragma

Adalah unit kopling dengan pegas penekannya berbentuk diaphragma. Kelebihannya adalah penekanan kopling ringan dan tekanan pada plat penekan merata,. Namun pegas diaphragma mempunyai kekurangan : konstruksinya tidak sekuat pegas spiral dan kurang responsive (kerjanya lebih lambat), Pemakaian pada kendaraan ringan yang mengutamakan kenyamanan.



## Chasis Management System (CMS)




[www.mooregoodink.com](http://www.mooregoodink.com)

Gambar 4.9. Kopling gesek pegas diafragma

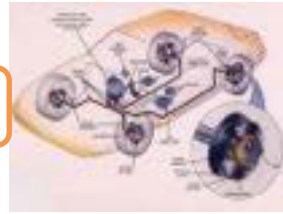
### 2) Kopling Magnet

Adalah suatu kopling yang memanfaatkan gaya magnet untuk melakukan pemindahan daya. Magnet yang digunakan adalah magnet remanent yang dibangkitkan dengan mengalirkan arus listrik ke dalam sebuah lilitan kawat pada sebuah inti besi. Listrik yang dibangkitkan atau tersedia dikendaraan adalah listrik arus lemah sehingga magnet yang dibangkitkan tidak cukup kuat untuk dijadikan sebagai kopling pemindah daya utama. Kopling jenis ini kebanyakan hanya digunakan sebagai kopling pada kompresor *air conditioner* (AC).



[www.made-in-china.com](http://www.made-in-china.com)

Gambar 4.10. Konstruksi unit kopling magnet



### 3) Kopling Satu Arah (*one way clutch/ free wheeling clutch/ over running clutch*)

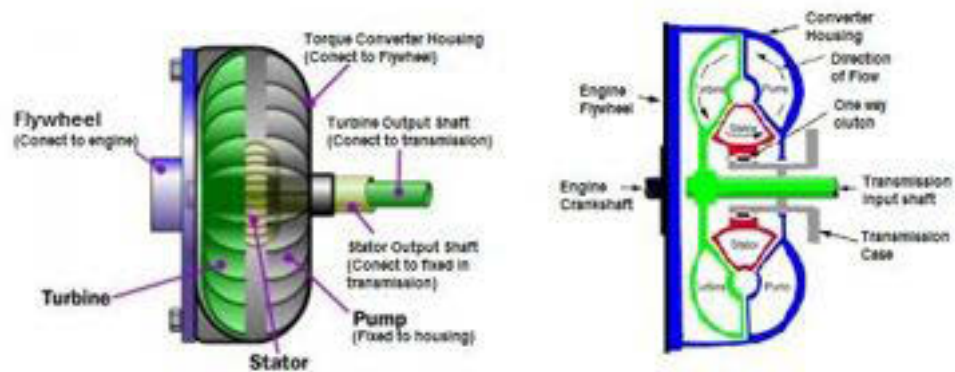
Kopling satu arah merupakan kopling otomatis yang memutuskan dan menghubungkan poros penggerak (*driving shaft*) dan yang digerakkan (*driven shaft*) tergantung pada perbandingan kecepatan putaran sudut dari poros-poros tersebut. Jika kecepatan *driving* lebih tinggi dari *driven*, kopling bekerja menghubungkan *driving* dan *driven*. Jika kecepatan *driving* lebih rendah dari *driven*, kopling bekerja memutuskan *driving* dan *driven*. Ada dua jenis *one way clutch* yakni *sprag type* dan *roller type*.



Gambar 4.11. Kopling satu arah tipe sprag dan tipe roller

### 4) Kopling Hidrolik

Dinamakan kopling hidrolik karena untuk melakukan pemindahan daya adalah dengan memanfaatkan tenaga hidrolis. Tenaga hidrolis didapat dengan menempatkan cairan/ minyak pada suatu wadah/ mekanisme yang diputar, sehingga cairan akan terlempar/ bersirkulasi oleh adanya gaya sentrifugal akibat putaran sehingga fluida mempunyai tenaga hidrolis. Fluida yang bertenaga inilah yang digunakan sebagai penerus/ pemindah tenaga.



[businesslocalarticles.com](http://businesslocalarticles.com)

Gambar 4.12. Konstruksi unit kopling fluida

Komponen utama pada unit kopling hidrolik adalah : pump impeller, turbin runner dan stator. Pump impeller merupakan mekanisme pompa yang membangkitkan tenaga hidrolis pada fluida. Turbin runner adalah mekanisme penangkap tenaga hidrolis fluida yang dibangkitkan pump impeller. Stator adalah mekanisme pengatur arah aliran fluida agar tidak terjadi aliran yang merugikan tetapi justru aliran yang menguntungkan sehingga didapatkan peningkatan momen/ torsi.

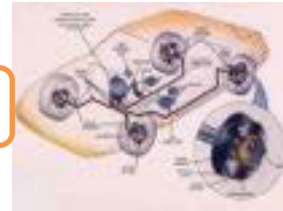
### C. Komponen Unit Kopling Gesek



[www.kseriesparts.com](http://www.kseriesparts.com)

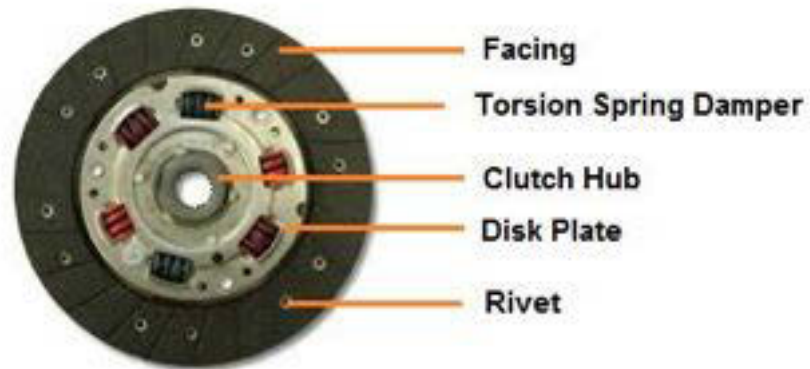
Gambar 4.13. Kopling gesek tipe plat tunggal





Komponen kopling gesek terdiri dari :

1) **Plat Kopling (Disc clutch)**



Gambar 4.14. Plat kopling

Plat kopling adalah komponen unit kopling yang berfungsi menerima dan meneruskan tenaga mesin dari roda penerus dan plat penekan ke input shaft transmisi. Bagian-bagian plat kopling terdiri dari :

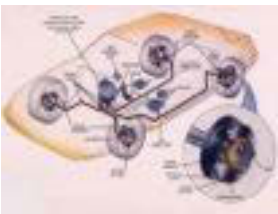
- Facing/Kanvas
- Torsion Spring Damper/Pegas peredam kejutan
- Clutch Hub
- Disc Plate/plat kopling
- Rivet/Paku keling

2) **Clutch Cover** (Rumah kopling, plat penekan dan pegas penekan)



Gambar 4.15. Rumah kopling, plat penekan, pegas diafragma





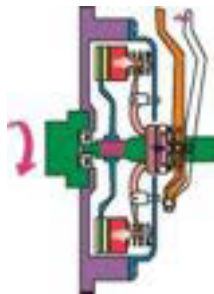
## Chassis Management System (CMS)

### D. Cara kerja kopling gesek

Kopling berfungsi untuk memindahkan tenaga secara halus dari mesin ke transmisi melalui adanya gesekan antara plat kopling dengan *fly wheel* dan plat penekan. Kekuatan gesekan diatur oleh pegas penekan yang dikontrol oleh pengemudi melalui mekanisme penggerak kopling.

*Saat pedal kopling ditekan penuh*

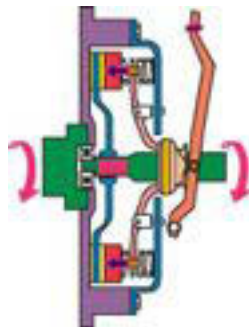
Jika pedal kopling ditekan penuh, tekanan pedal tersebut akan diteruskan oleh mekanisme penggerak sehingga akan mendorong plat penekan melawan tekanan pegas penekan sehingga plat kopling tidak mendapat tekanan. Gesekan antara plat kopling dengan *fly wheel* dan plat penekan tidak terjadi sehingga putaran mesin tidak diteruskan.



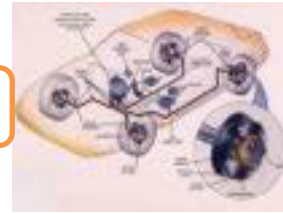
Gambar 4.16. Cara kerja kopling saat pedal ditekan

*Saat pedal kopling dilepas*

Apabila pedal dilepaskan maka gaya pegas akan kembali mendorong dengan penuh plat penekan. Plat penekan menghimpit plat kopling ke *fly wheel* dengan kuat sehingga terjadi gesekan kuat dan berputar bersamaan. Dengan demikian putaran dan daya mesin diteruskan sepenuhnya (100%) tanpa slip.



Gambar 4.17. Cara kerja kopling saat pedal dilepas



### 4.1.3. Rangkuman

1. Kopling (*clutch*) terletak di antara mesin dan transmisi dan berfungsi memutus dan menghubungkan putaran/tenaga dari mesin ke transmisi.
2. Jenis-jenis kopling antara lain :
  - Kopling gesek
  - Kopling magnet
  - Kopling satu arah
  - Kopling hidrolik
3. Komponen-komponen unit kopling gesek meliputi :
  - Plat kopling
  - Rumah kopling
  - Pegas penekan
  - Plat penekan
  - Bantalan penekan

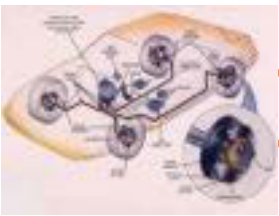
#### 4. Cara kerja kopling gesek :

- *Saat pedal kopling ditekan penuh*

Jika pedal kopling ditekan penuh, tekanan pedal tersebut akan diteruskan oleh mekanisme penggerak sehingga akan mendorong plat penekan melawan tekanan pegas penekan sehingga plat kopling tidak mendapat tekanan. Gesekan antara plat kopling dengan *fly wheel* dan plat penekan tidak terjadi sehingga putaran mesin tidak diteruskan.

- *Saat pedal kopling dilepas*

Apabila pedal dilepaskan maka gaya pegas akan kembali mendorong dengan penuh plat penekan. Plat penekan menghimpit plat kopling ke *fly wheel* dengan kuat sehingga terjadi gesekan kuat dan berputar bersamaan. Dengan demikian putaran dan daya mesin diteruskan sepenuhnya (100%) tanpa slip



## Chasis Management System (CMS)

### 4.1.4. Tugas

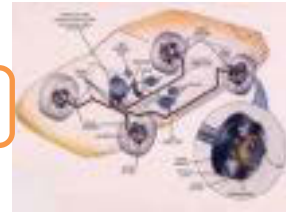
1. Amatilah komponen-komponen kopling dan diskusikan fungsinya !
2. Lakukan servis ringan berupa penyetelan kopling pada mobil yang ada di bengkel sekolah sesuai SOP !

### 4.1.5. Tes Formatif

1. Jelaskan pengertian kopling !
2. Sebutkan jenis-jenis kopling !
3. Sebutkan komponen-komponen kopling gesek !
4. Jelaskan cara kerja kopling gesek !

### 4.1.6. Lembar Jawaban Tes Formatif

1. Kopling (clutch) terletak di antara mesin dan transmisi dan berfungsi memutus dan menghubungkan putaran/tenaga dari mesin ke transmisi.
2. Jenis-jenis kopling antara lain :
  - Kopling gesek
  - Kopling magnet
  - Kopling satu arah
  - Kopling hidrolis
3. Komponen-komponen unit kopling gesek meliputi :
  - Plat kopling
  - Rumah kopling
  - Pegas penekan
  - Plat penekan
  - Bantalan penekan
4. Cara kerja kopling gesek :
  - *Saat pedal kopling ditekan penuh*  
Jika pedal kopling ditekan penuh, tekanan pedal tersebut akan diteruskan oleh mekanisme penggerak sehingga akan mendorong plat penekan melawan tekanan pegas penekan sehingga plat kopling tidak mendapat tekanan. Gesekan antara



plat kopling dengan fly wheel dan plat penekan tidak terjadi sehingga putaran mesin tidak diteruskan.

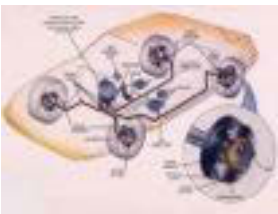
➤ *Saat pedal kopling dilepas*

Apabila pedal dilepaskan maka gaya pegas akan kembali mendorong dengan penuh plat penekan. Plat penekan menghimpit plat kopling ke fly wheel dengan kuat sehingga terjadi gesekan kuat dan berputar bersamaan. Dengan demikian putaran dan daya mesin diteruskan sepenuhnya (100%) tanpa slip.

**4.1.7. Lembar Kerja Siswa**

**KOMPONEN KOPLING**

NO	NAMA KOMPONEN	FUNGSI



## Chassis Management System (CMS)

### PETUNJUK

#### PENYETELAN GERAK BEBAS KOPLING

##### Tujuan pelajaran

Menyetel gerak bebas berbagai sistem penggerak kopling

##### Alat :

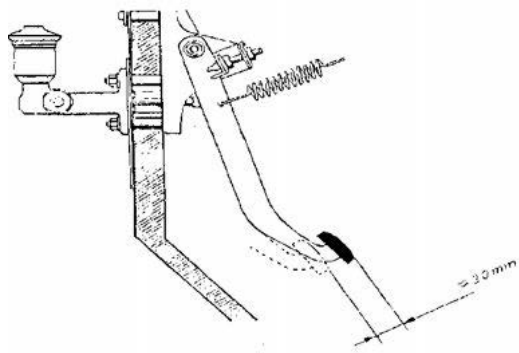
- Kotak alat
- Lampu kerja
- Alat penyangga mobil
- Penyangga

##### Bahan :

- Mobil

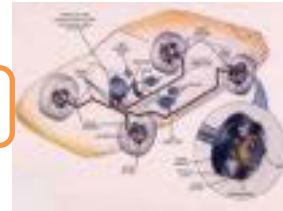
##### Langkah Kerja :

- Periksa kebebasan pada pedal, biasanya  $\approx 20$  mm

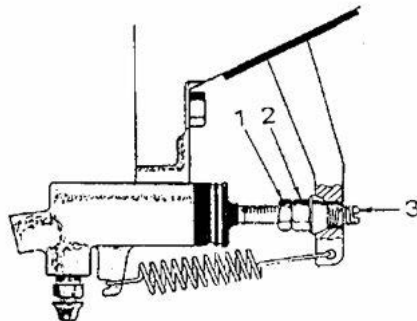


Gambar 4.18. Pemeriksaan kebebasan pedal kopling

Hasil Pengukuran	Data Manualbook	Kesimpulan
.....	.....	.....



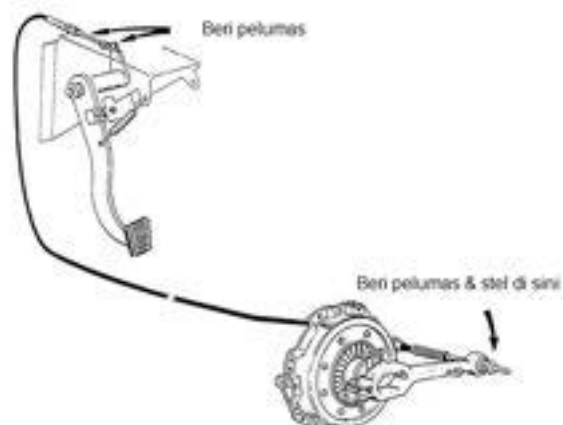
- Pada sistem penggerak hidraulis, letak sekrup penyetel biasanya pada batang penekan silinder kopling.



1. Mur kontra
2. Mur penyetel
3. Batang penekan

Gambar 4.19. Penyetelan gerak bebas kopling hidrolis

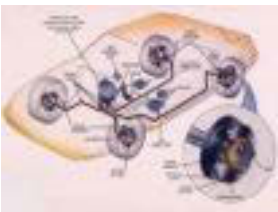
- Pada sistem penggerak mekanik biasanya dipakai kabel. Bagian penyetel dapat terletak pada ujung kabel di atas atau di bawah.



Gambar 4.20. Penyetelan gerak bebas kopling mekanik

### Mengapa gerak bebas kopling dapat berubah dan perlu distel ?

Keausan pada kanvas kopling menyebabkan pengurangan gerak bebas. Jika tidak ada gerak bebas, kopling berada dalam keadaan seperti ditekan sedikit, akibatnya kopling *mulai slip*



## Chasis Management System (CMS)

### GEJALA KERUSAKAN KOPLING

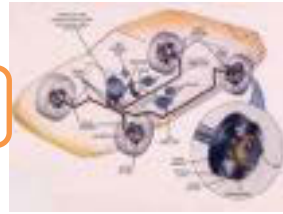
Gejala-gejala berikut ini menandakan bahwa terjadi kesalahan pada rangkaian kopling/kopling set (clutch assembly) :

1. Kopling selip
2. Bergetar
3. Gerakan kendaraan yang mengejut
4. Suara berisik yang tidak lazim
5. Tidak ada gerakan

Dari gejala-gejala di atas dapat dianalisis faktor penyebab, dan proses perawatan atau perbaikannya. Hasil analisis seperti terlihat pada tabel berikut ini.

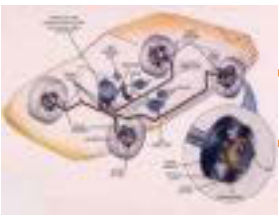
Gejala-gejala	Penyebab	Perawatan	Perbaikan
1. Kopling Slip	* Gerak bebas pedal kopling berlebihan	Stel kebebasan pedal kopling	
	* Terdapat oli pada permukaan disc		Bongkar & bersihkan
	* Permukaan Disc bergelombang		Bongkar & gerinda/ ganti
	* Pegas kopling lemah		Bongkar & ganti
	* Kabel kopling berkarat	Lepas beri oli	Lepas & ganti
	* Kapas kopling habis		Bongkar & ganti
2. Kopling bergetar	* Permukaan disc mengkilat		Perbaiki/ganti
	* Terdapat oli pada plat kopling		Bongkar & bersihkan atau ganti

## Chasis Management System (CMS)



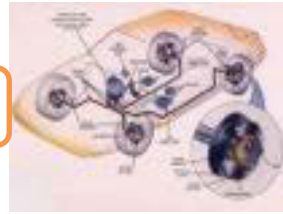
	* Dreg Lager menggeser		Bongkar & lumasi atau ganti
	* Pegas kopling lemah		Bongkar & ganti
	* Kelingan kampas lepas		Bongkar & ganti
	* Kontak permukaan disc rusak		Bongkar & gerinda atau ganti
	* Dudukan mesin atau trans-misi rusak		Periksa & ganti
3. Gerakan kendaraan yang mengejut	* Kebebasan pedal kopling terlalu kecil	Stel kebebasan pedal kopling	
	* Keausan pada sambungan pengoperasian kopling	Periksa & ganti	
	* Kabel kopling memanjang	Periksa & ganti	
	* Minyak rem habis	Periksa & isi	
4. Suara berisik yang tidak lazim	* Dreg Lager rusak		Bongkar & ganti
	* Pilot bearing rusak		Bongkar & ganti
	* Kebebasan pedal kopling berlebihan	Stel kebebasan pedal kopling	
5. Tidak ada gerakan	* Plat kopling habis		Bongkar & ganti
	* Kebebasan Pedal	Stel	





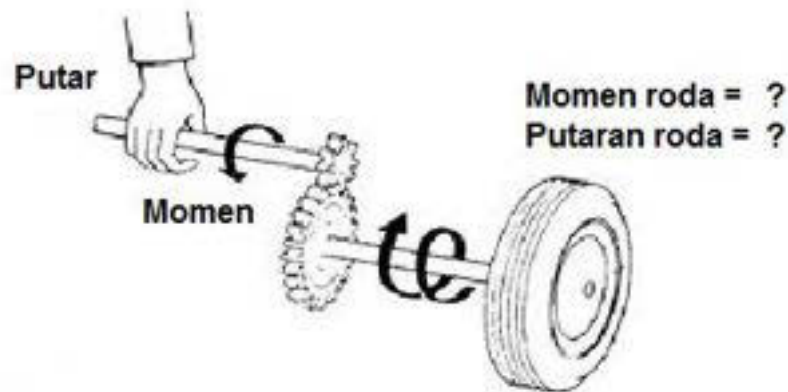
## Chasis Management System (CMS)

	kopling	kebebasan pedal kopling	
	* Baut pemegang unit rumah kopling kendora		Bongkar & keraskan



#### 4.2. Kegiatan Belajar : Transmisi

Amati gambar berikut, diskusikan dengan teman anda bagaimana momen dan putaran yang terjadi pada roda ?



Gambar 4.21. Prinsip kerja transmisi

##### 4.2.1. Tujuan Kegiatan Belajar

Setelah mempelajari materi ini siswa diharapkan dapat memahami transmisi dan menyajikan data hasil pengamatan tentang fungsi, jenis-jenis dan prinsip kerja transmisi sertadapat melakukan pemeliharaan/servis ringan pada unit transmisi.

##### 4.2.2. Uraian Materi

###### A. Fungsi Transmisi Manual

Transmisi merupakan salah satu komponen sistem pemindah tenaga yang berfungsi, antara lain :

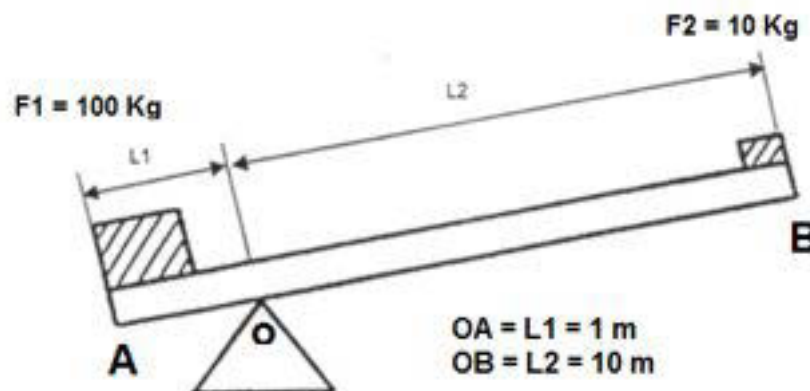
- Merubah dan mengatur Moment putar dan putaran pada roda penggerak sesuai dengan kebutuhan (posisi 1, 2, 3 ..... n)
- Memungkinkan kendaraan berhenti meskipun mesin dalam keadaan hidup (Posisi Netral)
- Memungkinkan kendaraan berjalan mundur (posisi R / mundur)

### B. Prinsip Kerja Transmisi

Prinsip kerja transmisi dapat dijelaskan dengan prinsip :

➤ Lengan Pengungkit

Pengaturan Moment putar dan putaran didasarkan pada prinsip lengan ungkit, seperti yang digambarkan dibawah ini.



Gambar 4.22. Prinsip kerja lengan pengungkit

Dengan lengan pengungkit yang panjang memungkinkan pemindahan beban yang berat dengan tenaga yang kecil. Dari gambar di atas kita dapat mengangkat beban 100 Kg cukup dengan gaya 10 Kg dengan cara mengatur titik tumpuan.

Keseimbangan Momen :

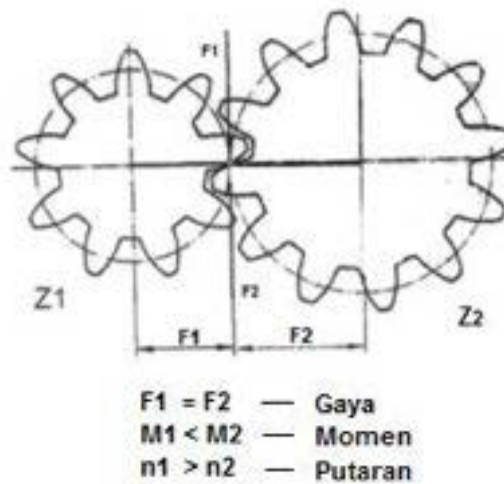
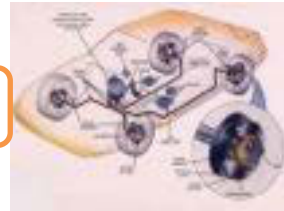
$$M_1 = M_2$$

$$F_1 \times L_1 = F_2 \times L_2$$

$$100 \times 1 = 10 \times 10$$

➤ Roda gigi

Pengaturan Moment putar dan putaran pada transmisi didasarkan pada prinsip kerja pasangan Roda gigi, seperti yang digambarkan dibawah ini.



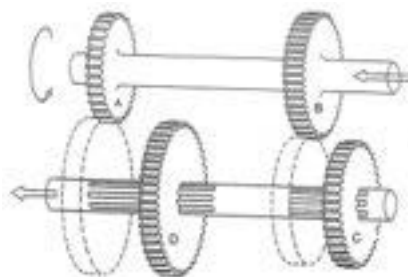
Gambar 4.23. Konsep pemindahan putaran dan momen pada roda gigi

Jika pasangan roda gigi di atas diputar, maka yang terjadi adalah :

- Pada Roda gigi kecil → putaran cepat tetapi momen putaranya kecil
- Pada Roda gigi besar putaran lambat tetapi moment putaranya besar

### C. Macam-macam Transmisi

- a. Dilihat dari posisi gigi.
  - 1) Dengan gigi geser (Sliding Gear)

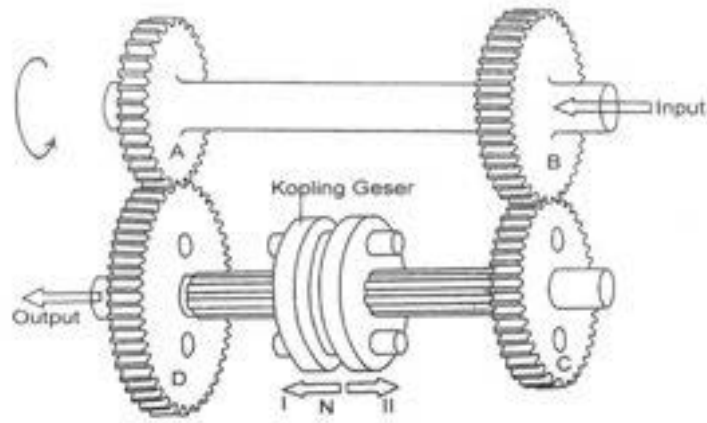


Gambar 4.24. Transmisi jenis sliding gear

Cara kerja :

- Gigi 1 : Roda gigi A – D dihubungkan, B – C lepas (putaran out put rendah/lambat)
- Gigi 2 : Roda gigi B – C dihubungkan, A – D lepas (putaran out put tinggi/cepat)

2) Dengan gigi tetap (Constan mesh)



Gambar 4.25. Transmisi jenis constan mesh

Cara kerja :

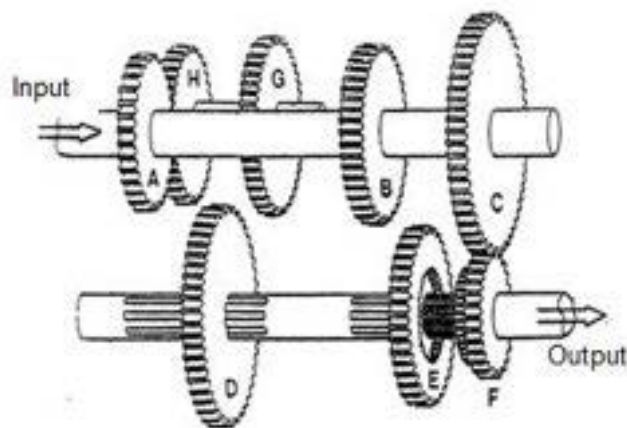
Posisi Gigi 1 : Kopling geser dihubungkan ke roda gigi D  
(Putaran out put rendah/lambat)

Posisi Gigi 2 : Kopling geser dihubungkan keroda gigi C  
(Putaran out put tinggi/cepat)

b. Dilihat dari jumlah poros

1) Transmisi Dua Poros

Yaitu transmisi yang terdiri dari dua poros (poros input dan poros output)



Gambar 4.26. Transmisi dua poros



### Kedudukan gigi

- Poros input : Roda – roda gigi tetap (permanen)
- Poros output : Roda – roda gigi terhubung dan dapat digeser

### Sistem kerja

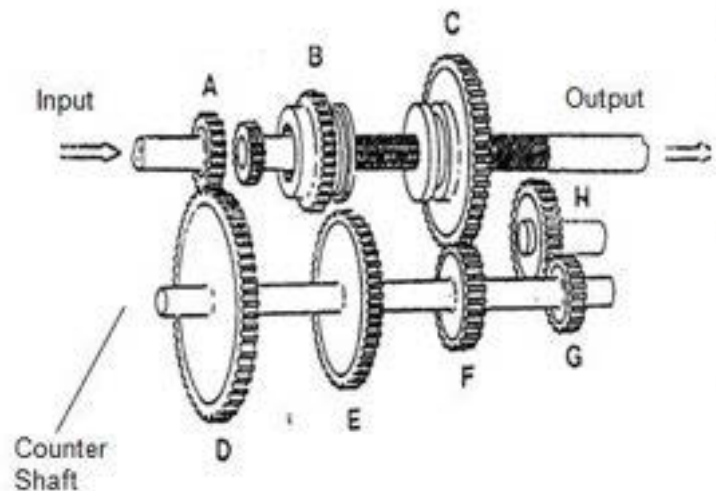
Roda gigi geser menghubungkan posisi gigi ( 1 – 3 dan mundur / R )

### Penggunaan :

Pada sepeda motor dan kendaraan dengan penggerak roda depan.

### 2) Transmisi Tiga Poros

Yaitu transmisi yang terdiri dari tiga poros (poros input, poros output dan poros bantu)



Gambar 4.27. Transmisi tiga poros

### Kedudukan gigi

- Poros input : Satu roda gigi tetap sebagai penggerak
- Poros Bantu : Roda – roda gigi (tetap permanen)
- Poros output : Roda – roda gigi terhubung dapat digeser

### Sistem kerja :

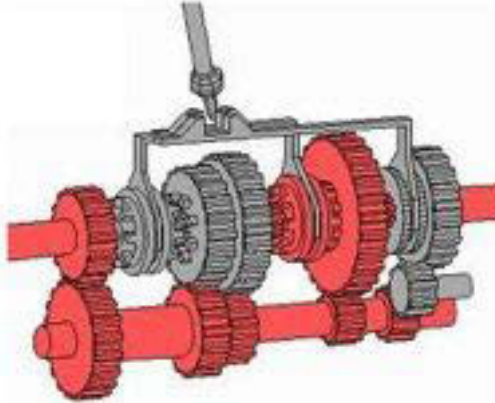
Gigi geser pada poros output mengatur posisi gigi ( 1 – 3 dan mundur / R )

### Penggunaan:

Pada kendaraan dengan penggerak standart

c. Dilihat dari penggunaan sinkromesh

1) Transmisi tanpa sinkromesh



Gambar 4.28. Transmisi tanpa sinkromesh


2) Transmisi dengan sinkromesh



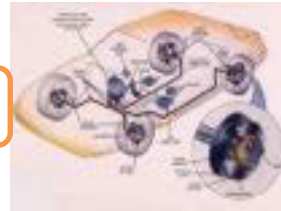
Gambar 4.29. Transmisi dengan sinkromesh

d. Dilihat dari Roda yang digerakkan

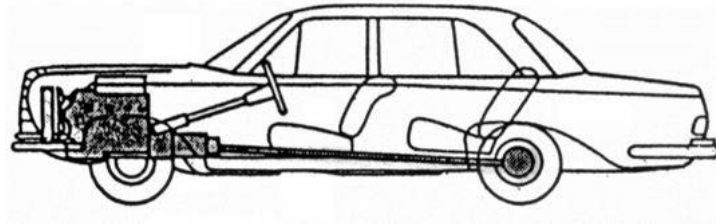
1) Transmisi penggerak Roda depan



Gambar 4.30. Transmisi penggerak roda depan



2) Transmisi penggerak Roda belakang



Gambar 4.31. Transmisi penggerak roda belakang

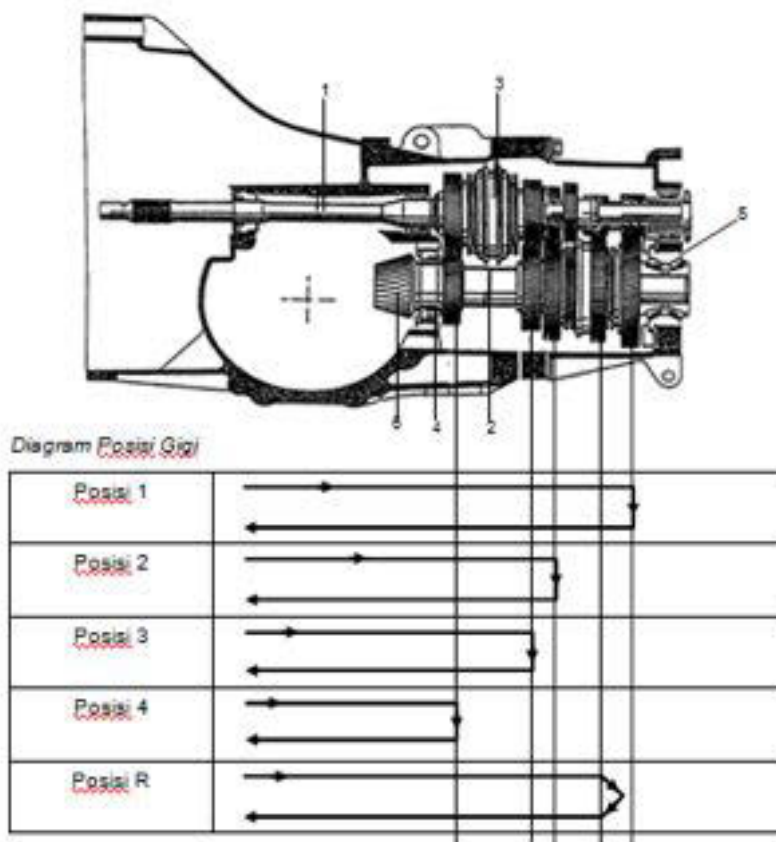
**D. Bagian-Bagian Transmisi dan Aliran Tenaga**

Transmisi Dua Poros :

Bagian – bagiannya

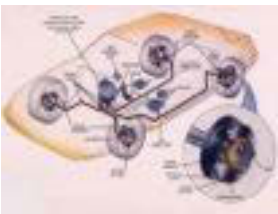
- |                   |                     |
|-------------------|---------------------|
| 1. Poros input    | 4. Bantalan rol     |
| 2. Poros output   | 5. Bantalan naf     |
| 3. Unit sinkromes | 6. Roda gigi pinion |

Aliran Tenaga :



Gambar 4.32. Aliran tenaga transmisi dua poros





## Chassis Management System (CMS)

### Transmisi Tiga Poros :

Bagian – bagiannya :

- |                   |                     |
|-------------------|---------------------|
| 1. Poros input    | 4. Bantalan rol     |
| 2. Poros output   | 5. Bantalan naf     |
| 3. Unit sinkromes | 6. Roda gigi pinion |

### Aliran Tenaga :

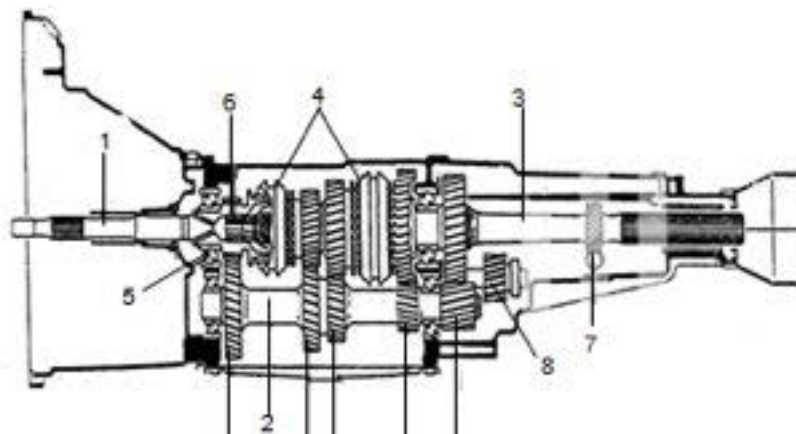
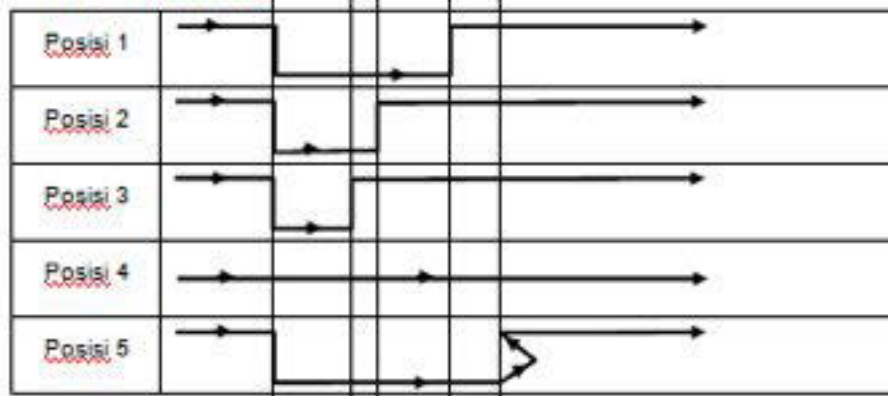
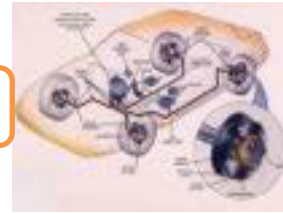


Diagram Posisi Gigi



Gambar 4.33. Aliran tenaga transmisi tiga poros

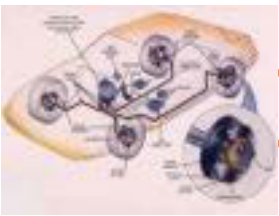


### 4.2.3. Rangkuman

1. Transmisi merupakan salah satu komponen sistem pemindah tenaga yang berfungsi, antara lain :
  - Merubah dan mengatur Moment putar dan putaran pada roda penggerak sesuai dengan kebutuhan (posisi 1, 2, 3 ..... n)
  - Memungkinkan kendaraan berhenti meskipun mesin dalam keadaan hidup (Posisi Netral)
  - Memungkinkan kendaraan berjalan mundur (posisi R / mundur)
2. Prinsip kerja transmisi dapat dijelaskan dengan lengan pengungkit dimana dengan pengungkit yang panjang memungkinkan pemindahan beban yang berat dengan tenaga yang kecil sementara itu.
3. Untuk pengaturan moment putar dan putaran pada transmisi didasarkan pada prinsip kerja pasangan Roda gigi, dimana :
  - Pada Roda gigi kecil → putaran cepat tetapi momen putaranya kecil
  - Pada Roda gigi besar putaran lambat tetapi moment putaranya besar
4. Macam-macam transmisi :
  - Dilihat dari posisi gigi : sliding mesh dan constan mesh
  - Dilihat dari jumlah poros : transmisi dua poros dan transmisi tiga poros.
  - Dilihat dari penggunaan sinkromesh : transmisi tanpa sinkromesh dan transmisi dengan sinkromesh
  - Dilihat dari penggerakannya : transmisi penggerak depan dan transmisi penggerak belakang.

### 4.2.4. Tugas

- Amati sistem transmisi dan komponen pengoperasiannya yang dipergunakan pada salah satu mobil yang ada di bengkel otomotif. Diskusikan cara kerja sistem transmisi tersebut disertai gambar skemanya.
- Lakukan servis ringan berupa pemeriksaan dan pengisian oli transmisi pada mobil di bengkel sekolah anda !



## Chassis Management System (CMS)

### 4.2.5. Tes Formatif

1. Jelaskan fungsi transmisi !
2. Jelaskan prinsip kerja pengaturan momen dan putaran pada transmisi !
3. Sebutkan macam-macam transmisi dilihat dari : posisi gigi, jumlah poros dan penggerakannya !

### 4.2.6. Lembar Jawaban Tes formatif

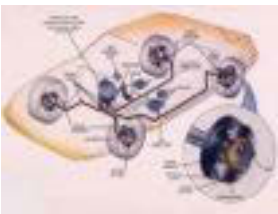
1. Fungsi transmisi antara lain :
  - Merubah dan mengatur Moment putar dan putaran pada roda penggerak sesuai dengan kebutuhan (posisi 1, 2, 3 ..... n)
  - Memungkinkan kendaraan berhenti meskipun mesin dalam keadaan hidup (Posisi Netral)
  - Memungkinkan kendaraan berjalan mundur (posisi R / mundur)
2. Pengaturan moment putar dan putaran pada transmisi didasarkan pada prinsip kerja pasangan Roda gigi, dimana :
  - Pada Roda gigi kecil → putaran cepat tetapi momen putaranya kecil
  - Pada Roda gigi besar → putaran lambat tetapi moment putaranya besar
3. Macam-macam transmisi :
  - Dilihat dari posisi gigi : sliding mesh dan constan mesh
  - Dilihat dari jumlah poros : transmisi dua poros dan transmisi tiga poros.
  - Dilihat dari penggerakannya : transmisi penggerak depan dan transmisi penggerak belakang.



#### 4.2.7. Lembar Kerja Siswa

Lembar hasil pengamatan sistem transmisi

Nama Komponen :
- - - - - - -
Cara Kerja :
Skema Aliran Tenaga :

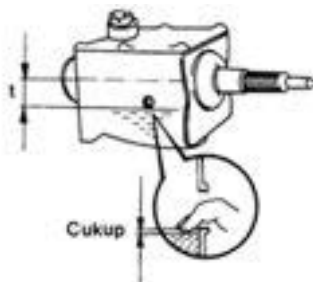


## Chassis Management System (CMS)

### Pemeriksaan dan Pengisian Oli Transmisi

#### Pemeriksaan

Lakukan pemeriksaan melalui baut pengontrol. Letak baut tersebut selalu di bawah garis sumbu poros (t). Oli cukup bila permukaannya masih dapat dicapai dengan jari. Permukaan oli yang terlalu rendah disebabkan karena ada kebocoran, misalnya pada sil-sil.



PEMERIKSAAN	KETERANGAN
Volume	.....
Kualitas	.....

Gambar 4.34. Pemeriksaan oli transmisi

#### Pengisian

Persyaratan : Kendaraan harus berada pada posisi datar (tidak miring) . Oli dapat diisi dengan menggunakan pompa tangan . Untuk transmisi diperlukan oli roda gigi dengan spesifikasi SAE 90 atau sesuai spesifikasi pabrik.



Gambar 4.35. Pengisian Oli Transmisi

DATA PENGISIAN	KETERANGAN
Volume Pengisian	.....
Spesifikasi Oli	.....
Km. Waktu Pengisian	.....



#### 4.3. Kegiatan Belajar : Poros Penggerak

Amatilah komponen-komponen pada poros penggerak (gambar di bawah) kemudian diskusikan dengan teman anda nama-nama bagiannya dan tunjukkan tempat-tempat yang kemungkinan terjadi kerusakan !



[www.import-car.com](http://www.import-car.com)

Gambar 4.36. Poros propeler/penggerak

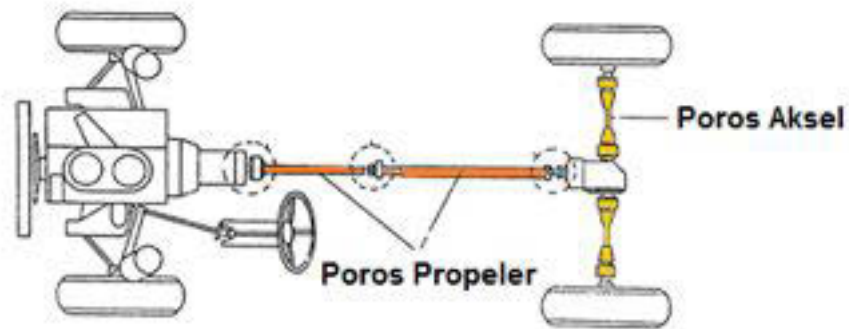
##### 4.3.1. Tujuan Kegiatan Belajar

Setelah mempelajari materi ini siswa diharapkan dapat memahami poros penggerak dan menyajikan data hasil pengamatan tentang fungsi, konstruksi, maca-macam poros penggerak/propeler sertadapat melakukan servis ringan berupa pemeriksaan poros penggerak.

##### 4.3.2. Uraian Materi

###### A. FungsiPoros Penggerak

Pada kendaraan konstruksi standart, yaitu mesin memanjang didepan dan penggerak aksel di belakang, untuk memindahkan tenaga dari transmisi ke penggerak aksel memerlukan poros penggerak aksel (*drive shaft*) dan untuk menggerakkan roda diperlukan poros aksel.



Gambar 4.37. Posisi poros penggerak dalam sistem pemindah tenaga

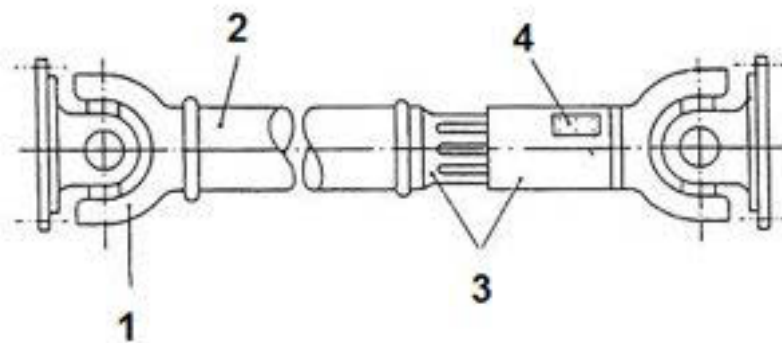
Sesuai dengan fungsinya memindahkan tenaga/putaran dari transmisi ke penggerak aksel maka persyaratan yang harus di penuhi oleh poros penggerak antara lain :

- Tahan terhadap momen puntir
- Dapat meneruskan putaran roda pada sudut yang bervariasi
- Dapat mengatasi perubahan jarak antara transmisi dan diferensial
- Dibuat seringan mungkin

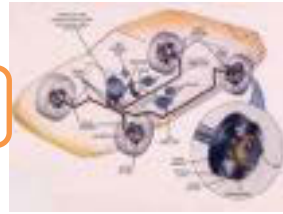
### B. Konstruksi poros penggerak

Konstruksi poros penggerak umumnya berbentuk silindris, terbuat dari pipa baja yang dikeraskan dengan ketelitian yang sangat tinggi.

#### 1) Konstruksi Poros Propeler



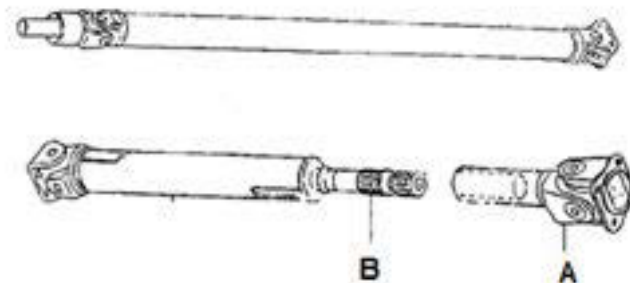
Gambar 4.38. Konstruksi poros penggerak aksel



Keterangan :

1. Garpu penghubung  
Bentuk garpu dan berlubang sebagaiudukan atau tumpuan penghubung salib.
2. Poros  
Bentuk pipa dengan maksud mengurangi berat tetapi tidak mengurangi kekuatannya.
3. Penghubung luncur  
Bentuk pejal dan pipa yang terhubung melalui alur-alur dan dapat bergeser sepanjang alur tersebut.
4. Timbangan balans  
Bentuk plat yang dilas titik terhadap poros propeler untuk menghindari gaya sentrifugal

Fungsi masing-masing komponen seperti yang terlihat pada gambar 4.36, dapat dijelaskan sebagai berikut :

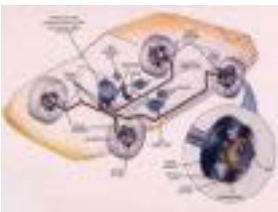


Gambar 4.39. Fungsi bagian-bagian poros penggerak aksel

Keterangan :

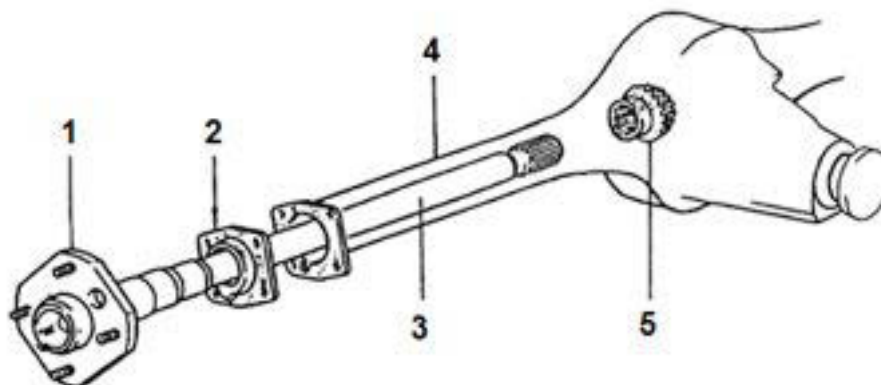
- A. Sambung salib (joint)  
Berfungsi meneruskan putaran dengan sudut yang bervariasi pada batas-batas tertentu
- B. Sambungan geser (luncur)  
Berfungsi mengatasi akibat gerakan aksel yang berpegas terjadi perubahan jarak aksel dan transmisi.





## Chassis Management System (CMS)

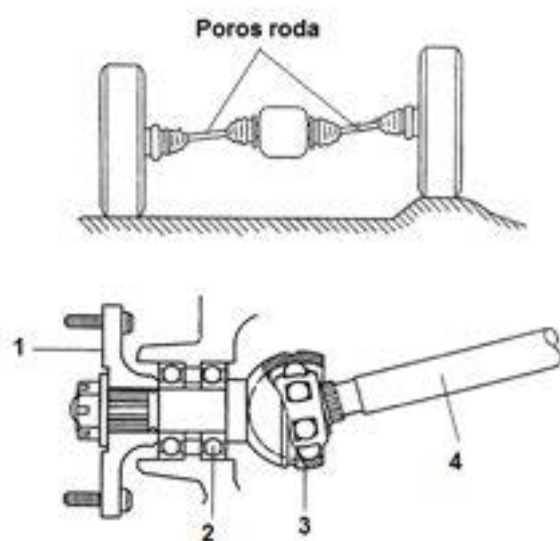
### 2) Konstruksi Poros Roda pada Aksel Rigid



Gambar 4.40. Konstruksi poros roda pada aksel rigid

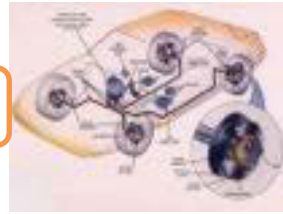
1. Flens Roda
2. Penahan bantalan
3. Poros aksel
4. Aksel
5. Roda gigi korona

### 3) Konstruksi Poros Roda pada Aksel Independen



1. Flens roda
2. Bantalan Naf
3. Penghubung Bola
4. Poros Aksel

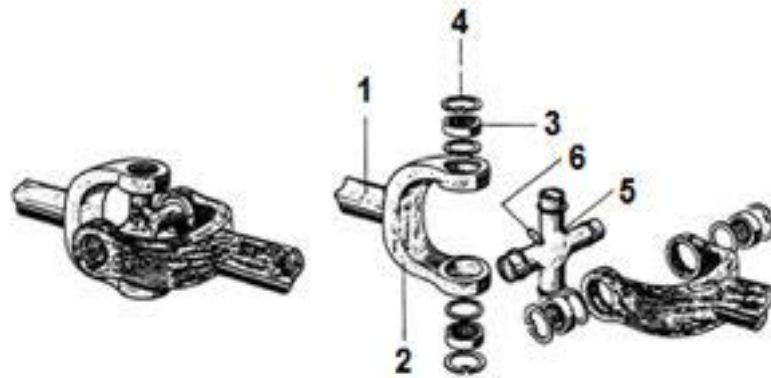
Gambar 4.41. Konstruksi Poros roda pada Aksel Independen



### C. Macam-macam sambungan pada penggerak aksel

Seperti ditunjukkan pada gambar 4.34, bahwa poros propeller di hubungkan dengan poros output transmisi dan penggerak aksel melalui sambungan salib (Cross joint ). Dalam pemakaiannya dikenal berbagai macam sambungan salib, yakni :

#### 1) Penghubung Salib Tunggal



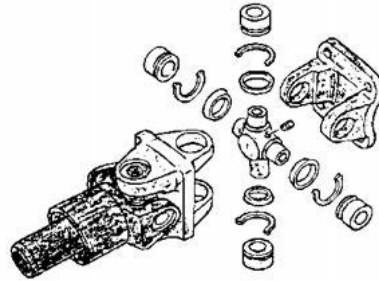
Gambar 4.42. Bagian-bagian penghubung salib tunggal

- |                     |                            |
|---------------------|----------------------------|
| 1. Poros penggerak  | 4. Cincin penahan/pengunci |
| 2. Garpu penghubung | 5. Salib penghubung        |
| 3. Bantalan         | 6. Nipel pelumasan/vet     |

Sifat-sifat :

- Kemampuan sudut penghubung meneruskan tenaga/putaran maksimum pada sudut 15 derajat.
- Penggunaan sebagai penghubung poros propeler terhadap poros out-put.
- Pelumasan menggunakan vet yang dimasukkan melalui nipel.

## 2) Penghubung salib ganda



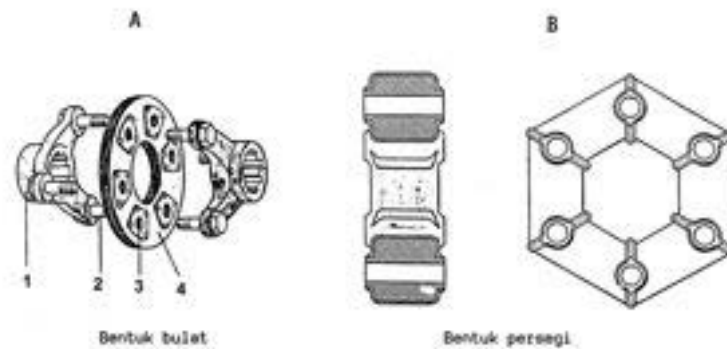
Gambar 4.43. Bagian-bagian penghubung salib ganda

Sifat-sifat :

Kemampuan sudut penghubung meneruskan tenaga/putaran maksimum pada sudut 30-45 derajat.

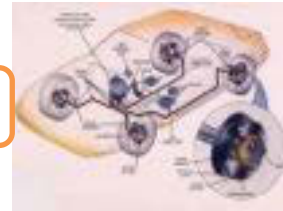
Penggunaan Pada poros depan kendaraan berat penggerak empat roda dan penghubung tenaga atau putaran dari traktor ke peralatan lain. Pelumasan menggunakan vet yang dimasukkan melalui nipel.

## 3) Penghubung fleksibel

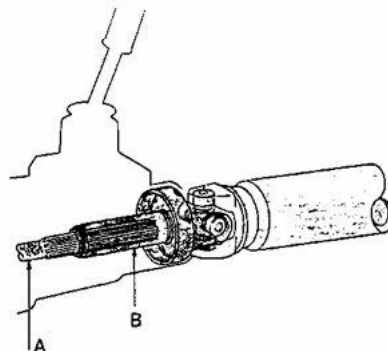


Gambar 4.44. Penghubung fleksibel

1. Garpu/flens penghubung
2. Baut penghubung/pengikat
3. Dudukan baut
4. Karet penghubung/perantara



#### 4) Penghubung luncur

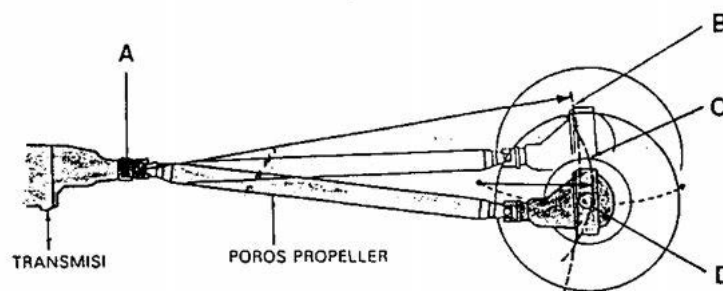


Gambar 4.45. Penghubung luncur

Penempatan : Ujung poros propeler terhadap out put transmisi atau diantara kedua penghubung salib

Konstruksi : A. Poros out put transmisi dengan gigi atau alur memanjang  
B. Poros luncur bentuk pipa dengan gigi alur dalam memanjang.

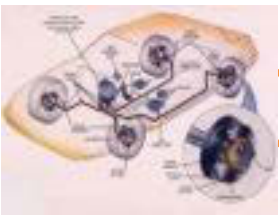
#### Fungsi penghubung luncur (A)



Gambar 4.46. Fungsi penghubung luncur

Fungsi penghubung luncur untuk mengatasi perbedaan jarak B dan C, dimana :

- B = Lingkaran gerak poros propeler
- C = Lingkaran gerak penggerak aksel
- D = Perbedaan jarak gerakan



## Chassis Management System (CMS)

### D. Pemeriksaan Poros Penggerak Aksel

Pemeriksaan dilakukan untuk mencegah suatu kerusakan atau untuk memastikan penyebab suatu kerusakan. Pemeriksaan pencegahan atau perawatan dilaksanakan secara berkala dan rutin untuk memeriksa / menjaga kondisi komponen dan kerjanya. Sedang pemeriksaan guna memastikan penyebab kerusakan harus dilakukan dengan betul-betul cermat dan perlu analisa kasus dan perlu pemeriksaan komponen dengan urutan yang cepat, tepat dan benar. Berikut dicontohkan pemeriksaan pada poros propeler :

Pemeriksaan sebelum dilepas :

a) Bunyi dari propeller shaft

Dengarkan ada atau tidak bunyi yang bersumber dari poros propeler. Lakukan dengan ketelitian dan kecermatan yang tinggi, karena pada kendaraan akan terdapat sumber bunyi yang kompleks sehingga kalau tidak cermat sering terkecoh pada bunyi-bunyi yang lain.

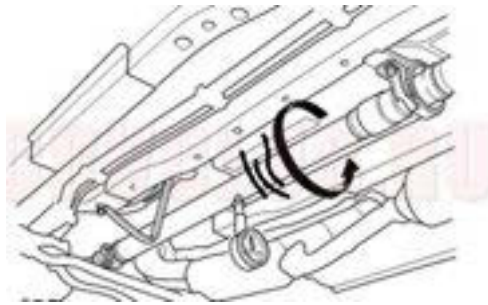


[www.import-car.com](http://www.import-car.com)

Gambar 4.47. Pemeriksaan bunyi poros propeler

b) Getaran dari propeller shaft

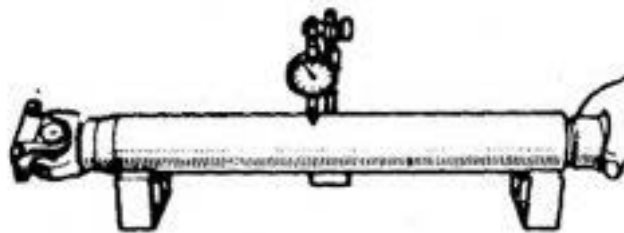
Angkat roda penggerak, dan hidupkan mesin pada posisi gigi transmisi masuk. Naikkan putaran mesin secara bertahap dan amati getaran dan bunyi dari propeller shaft. Jika ditemukan adanya getaran atau bunyi dari propeller shaft maka lakukan pemeriksaan baut-baut. Periksa universal joint.



Gambar 4.48. Pemeriksaan getaran pada poros propeler

Pemeriksaan setelah propeler dilepas :

1. Kebengkokan poros propeller  
Dengan menggunakan V-blok dan dial tester indikator ukurlah run-out poros (kebengkokan). Run-out max. = 0.8 mm



<http://dc395.4shared.com>

Gambar 4.49. Pemeriksaan kebengkokan poros propeler

2. Keausan dan kekocakan bantalan spider  
Putar spider dan pastikan bahwa tidak ada hambatan saat berputar. Periksa juga kebebasan aksial spider bearing oleh putaran yoke ketika tertahan poros dengan kuat. Kebebasan axial max. 0.05 mm.



Gambar 4.50. Pemeriksaan kekocakan dan keausan bantalan spider

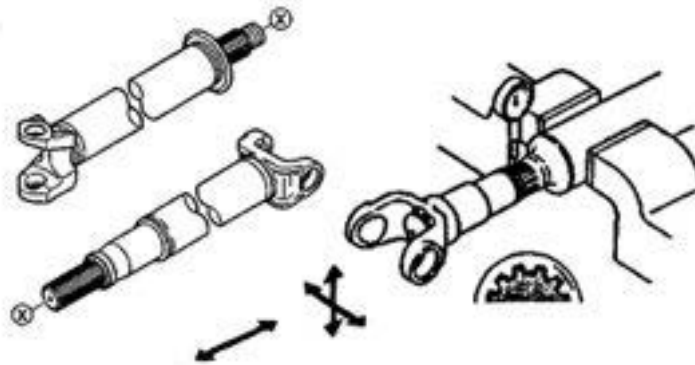
3. Keausan dan kerusakan center support bearing  
Periksalah bahwa bearing dapat berputar dengan bebas tanpa hambatan namun tidak longgar/ goyang/ kocak.



<http://dc395.4shared.com>

Gambar 4.51. Pemeriksaan keausan dan kerusakan center support bearing

4. Pemeriksaan keausan alur-alur sleeve yoke  
Lakukan pengamatan secara visual terhadap kondisi spline. Lakukan pengujian dengan memasang sleeve yoke ke poros lalu putar bolak-balik sleeve yoke dan gerakkan maju-mundur (axial). Pastikan tidak terjadi kekocakan yang berlebihan tetapi bisa bergerak maju-mundur dengan lancar.



<http://dc395.4shared.com>

Gambar 4.52. Pemeriksaan keausan alur-alur sleeve yoke

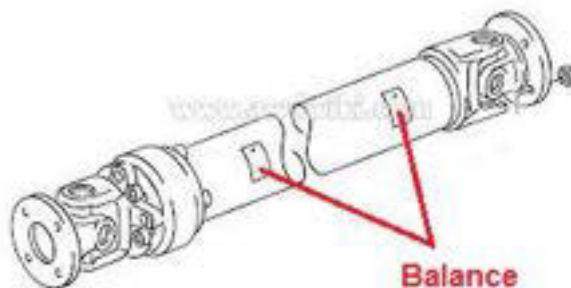
5. Pemeriksaan karet bushing pada center bearing. Lakukan pengamatan terhadap kondisi karet bushing maupun karet penutup debu pada center bearing.



[www.akkusan.com.tr](http://www.akkusan.com.tr)

Gambar 4.53. Pemeriksaan karet bushing

6. Pemeriksaan keseimbangan/ balance poros propeller.  
Menggunakan alat khusus (roller instrument) lakukan pengecekan ketidak seimbangan poros propeller. Bila ditemukan tidak seimbang (un-balance) maka lakukan balancing dengan memasang bobot pemberat tertentu



[www.awdwiki.com](http://www.awdwiki.com)

Gambar 4.54. Pemeriksaan keseimbangan/balance poros propeler

#### 4.3.3. Rangkuman

1. Fungsi poros penggerak / poros propeler adalah untuk memindahkan tenaga/putaran dari transmisi ke penggerak aksel.
2. Konstruksi poros penggerak umumnya berbentuk silindris, terbuat dari pipa baja yang dikeraskan dengan ketelitian yang sangat tinggi dan mempunyai bagian-bagian :





## Chassis Management System (CMS)

- Garpu penghubung
  - Poros
  - Penghubung luncur
  - Timbangan Balans
3. Macam-macam sambungan/penghubung pada poros penggerak :
- Penghubung salib tunggal
  - Penghubung salib ganda
  - Penghubung Fleksibel
  - Penghubung luncur
4. Pemeriksaan kerusakan pada poros propeler antara lain :
- Bunyi poros propeler
  - Getaran poros propeler
  - Kebengkokan poros propeler
  - Keausan dan kekocakan bantalan spider
  - Keausan dan kerusakan center support bearing
  - Keausan alur-alur sleeve yoke
  - Karet bushing pada center bearing
  - Keseimbangan/ balance poros propeller.

### 4.3.4. Tugas

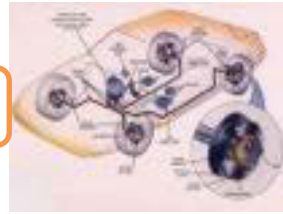
Lakukan pemeriksaan kerusakan pada poros penggerak pada mobil yang ada di bengkel sekolah anda ! Tulis hasilnya pada lembar kerja.

### 4.3.5. Tes Formatif

1. Jelaskan fungsi poros penggerak pada sistem pemindah tenaga !
2. Sebutkan nama bagian pada poros penggerak !
3. Sebutkan macam-macam sambungan/penghubung yang ada pada poros penggerak !
4. Sebutkan macam-macam kerusakan yang ada pada poros propeler

### 4.3.6. Lembar Jawaban Tes Formatif

1. Fungsi poros penggerak / poros propeler adalah untuk memindahkan tenaga/putaran dari transmisi ke penggerak aksel.
2. Nama bagian-bagian pada poros penggerak :

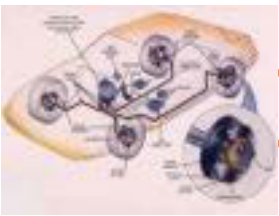


- Garpu penghubung
  - Poros
  - Penghubung luncur
  - Timbangan Balans
3. Macam-macam sambungan/penghubung pada poros penggerak :
- Penghubung salib tunggal
  - Penghubung salib ganda
  - Penghubung Fleksibel
  - Penghubung luncur
4. Pemeriksaan kerusakan pada poros propeler antara lain :
- Bunyi poros propeler
  - Getaran poros propeler
  - Kebengkokan poros propeler
  - Keausan dan kekocakan bantalan spider
  - Keausan dan kerusakan center support bearing
  - Keausan alur-alur sleeve yoke
  - Karet bushing pada center bearing
  - Keseimbangan/ balance poros propeller.

**4.3.7. Lembar Kerja Siswa**

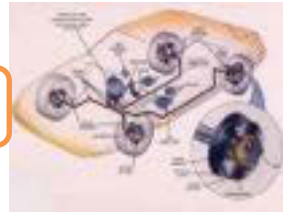
**Lembar isian hasil pemeriksaan poros penggerak :**

NO	PEMERIKSAAN	HASIL
<b>1</b>	.....	.....
<b>2</b>	.....	.....
<b>3</b>	.....	



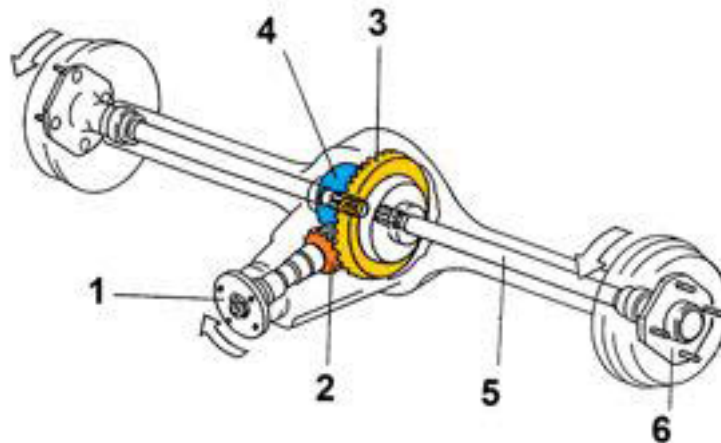
## Chasis Management System (CMS)

		.....
<b>4</b>	.....	.....
<b>5</b>	.....	.....
<b>6</b>	.....	.....
<b>7</b>	.....	.....



#### 4.4. Kegiatan Belajar : Penggerak Aksel

Amatilah gambar di bawah ini, diskusikan dengan teman anda nama-nama bagian dan cara kerja sistem dari sistem yang ada di gambar !



Gambar 4.55. Penggerak Aksel

##### 4.4.1. Tujuan Kegiatan Belajar

Setelah mempelajari materi ini siswa diharapkan dapat memahami penggerak aksel dan menyajikan data hasil pengamatan tentang fungsi, komponen dan cara kerja dari penggerak aksel dan diferensial serta dapat melakukan pemeliharaan pada penggerak aksel.

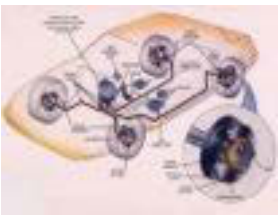
##### 4.4.2. Uraian Materi

Aksel adalah sesuatu yang menopang/memikul kendaraan. Sedangkan penggerak aksel adalah aksel yang di dalamnya ada mekanisme penggerak untuk menggerakkan roda. Di dalam penggerak aksel ada dua bagian yang harus diperhatikan, yaitu :

##### A. Penggerak Aksel

###### 1) Fungsi

Penggerak aksel berfungsi memperkecil putaran dari poros penggerak (propeler) untuk memperoleh momen yang besar pada roda. Penggerak aksel mempunyai dua komponen utama yaitu gigi penggerak (gigi pinion) dan gigi yang digerakkan (gigi korona). Dua pasangan gigi inilah nanti yang bertugas



## Chassis Management System (CMS)

mereduksi putaran untuk mendapatkan momen yang besar. Pada kendaraan dengan mesin memanjang pasangan gigi ini juga berfungsi merubah arah putaran poros propeler dengan sudut 90 derajat sehingga roda bisa berputar maju atau mundur.

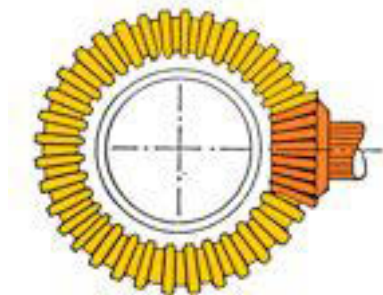
### 2) Bagian-bagian Penggerak Aksel

Penggerak aksel terdiri dari drive pinion (gigi pinion) dan ring gear (gigi korona). Tipe penggerak aksel ada antara lain bevel gear (dipakai pada kendaraan yang sudah tua/produksi awal 1900), *helical gear* (dipasang pada kendaraan penggerak roda depan) dan *hypoid bevel gear* (dipasang pada kendaraan penggerak roda belakang)

#### a. Bevel Gear

Adalah konstruksi penggerak aksel dimana pasangan antara drive pinion (gigi pinion) dan ring gear (gigi korona) berpotongan 90 derajat. Macam-macam penggerak aksel bevel gear, antara lain :

- Penggerak roda gigi lurus segaris (Bevel Gear)

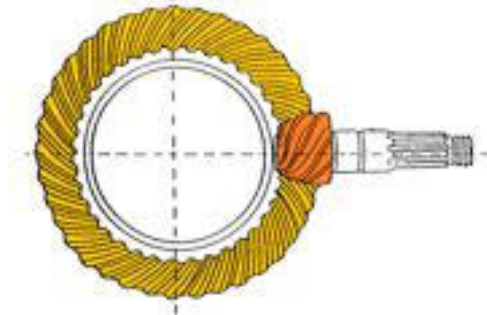


Gambar 4.56. Penggerak roda gigi lurus segaris (Bevel Gear)

Roda gigi pinion terpasang dengan garis tengah gigi korona dimana bentuk giginya lurus (seperti pada gambar 4.51) sehingga konstruksinya sederhana dan bidang gesekan kecil.



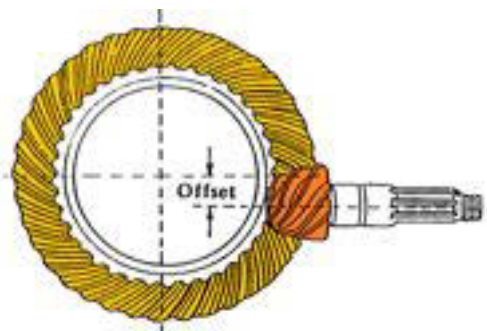
- Penggerak roda gigi spiral (Spiral Bevel Gear)



Gambar 4.57. Penggerak roda gigi spiral (Spiral Bevel Gear)

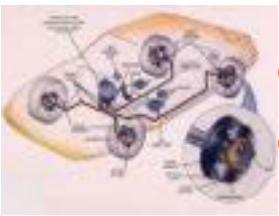
Roda gigi pinion terpasang dengan garis tengah gigi korona yang bentuk giginya miring (seperti pada gambar 4.52) sehingga permukaan kontakannya lebih banyak dan suara lebih halus.

- Penggerak roda gigi hypoid (Hypoid Bevel Gear)



Gambar 4.58. Penggerak roda gigi hypoid (hypoid Bevel Gear)

Roda gigi pinion terpasang offset dengan garis tengah gigi korona yang memiliki gigi miring (seperti pada gambar 4.53). Perbandingan persinggungan roda-roda giginya besar dan bekerjanya sangat halus serta dapat memindahkan tenaga lebih besar adalah keuntungan penggerak aksel tipe hypoid Bevel Gear. Dan selama roda-roda gigi saling berkaitan satu sama lainnya, tipe hypoid bevel gear harus dilumasi dengan oli yang memiliki oil film yang kuat.



## Chassis Management System (CMS)

### b. Helical Gear



Gambar 4.59. Penggerak roda helical (Helical Gear)

Pada helical gear untuk menghasilkan puntiran, gigi helical gear gigi pinion selalu bersinggungan dengan gigi korona pada lokasi yang sama tanpa ada celah antara gigi pinion dan gigi korona. Oleh sebab itu bunyi dan getaran yang timbul sangat kecil dan momen dapat dipindahkan dengan lembut, ini adalah keuntungan dari jenis helical gear.

Berdasarkan bentuk gigi korona dibedakan menjadi dua, yaitu :

#### a. Klingenberg

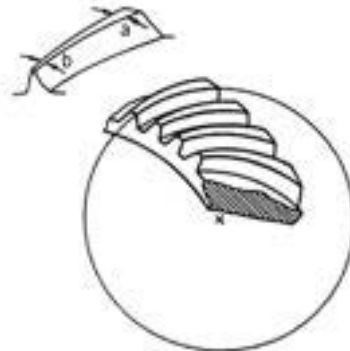


Gambar 4.60. Gigi korona tipe Klingenberg

Pada Klingenberg tebal puncak gigi bagian dalam dan bagian luar sama ( $A=B$ ). Disebut juga dengan gigi spiral karena bentuk gigi sebagian dari busur spiral. Pemakaian kebanyakan digunakan pada mobil Eropa dan Jepang.



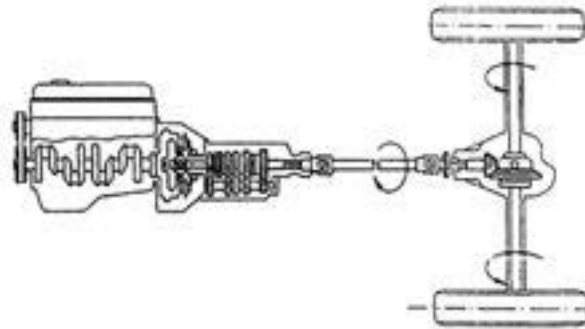
### b. Gleason



Gambar 4.61. Gigi korona tipe Gleason

Pada jenis Gleason tebal puncak gigi bagian dalam dan bagian luar tidak sama ( $a > b$ ). Disebut juga dengan gigi lingkaran karena bentuk – bentuk gigi sebagian dari busur lingkaran. Pemakaian kebanyakan digunakan pada mobil Amerika

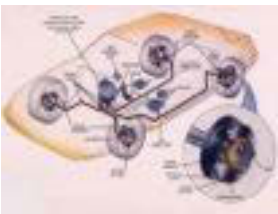
### 3) Cara Kerja Penggerak Aksel



Gambar 4.62. Cara kerja penggerak aksel

Putaran dari poros propeler diteruskan ke gigi pinion kemudian gigi pinion menggerakkan gigi korona. Karena jumlah gigi pinion lebih sedikit dibandingkan jumlah gigi korona maka putaran gigi korona menjadi lambat tetapi momennya besar.

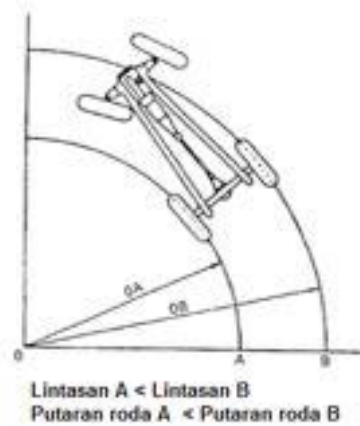




## Chassis Management System (CMS)

### B. Differensial

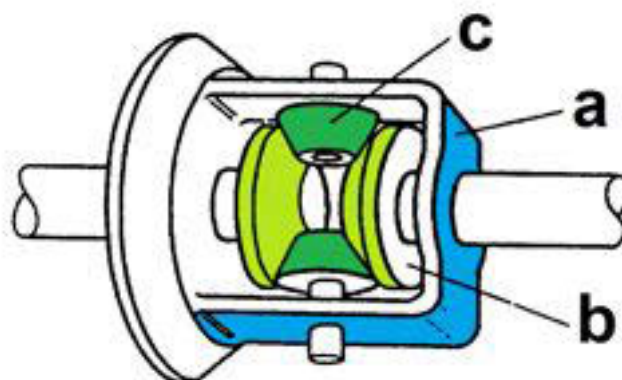
#### 1) Fungsi



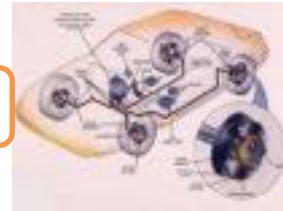
Gambar 4.63. Fungsi diferensial

Diferensial terdiri dari beberapa gigi dimana susunan roda gigi diferensial dibuat untuk menghasilkan kecepatan putaran roda sebelah dalam berbeda dengan kecepatan putaran roda sebelah luar pada kendaraan saat berbelok, sehingga roda kiri dan kanan tidak akan slip.

#### 2) Bagian-bagian Diferensial



Gambar 4.64. Bagian-bagian diferensial

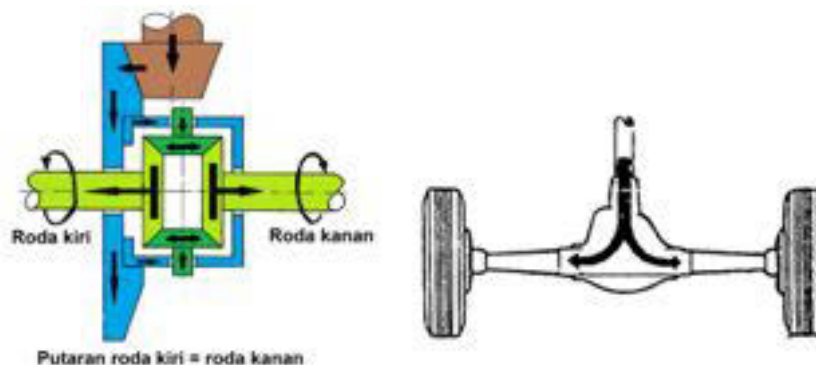


Bagian-bagian di dalam rumah diferensial, antara lain :

- a. Rumah dudukan poros roda gigi planet  
(Sebagai rumahnya gigi planet dan gigi matahari)
- b. Roda gigi matahari  
(Sebagai gigi samping yang akan berpasangan dengan gigi planet)
- c. Roda gigi planet  
(Sebagai gigi penyesuaian untuk menyesuaikan putaran)

### 3) Cara Kerja Diferensial

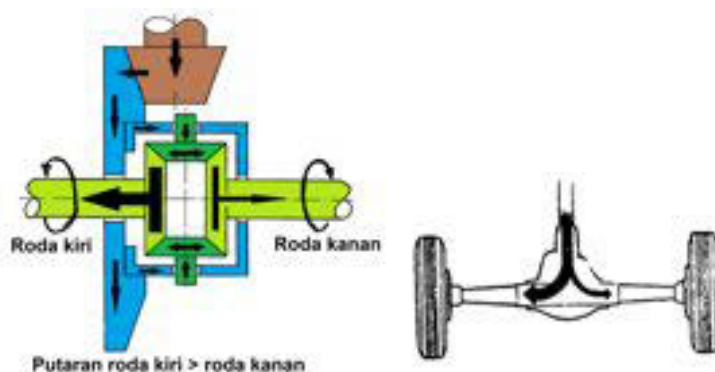
- a) Pada saat kendaraan berjalan lurus



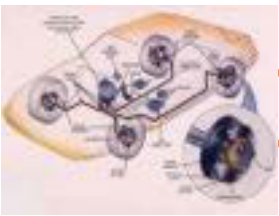
Gambar 4.65. Cara kerja diferensial saat lurus

Gigi pinion memutarakan gigi korona, gigi korona memutarakan rumah diferensial, rumah diferensial menggerakkan gigi planet melalui poros satelit kemudian gigi satelit memutarakan gigi matahari (samping) kiri dan kanan dengan rpm yang sama. Karena tahanan roda kanan dan kiri sama, maka putaran roda kanan dan kiri juga sama.

- b) Pada saat kendaraan belok



Gambar 4.66. Cara kerja diferensial saat lurus



## Chassis Management System (CMS)

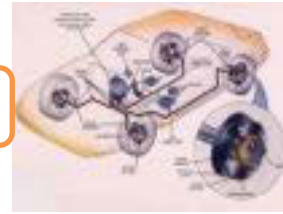
Gigi pinion memutarakan gigi korona, gigi korona memutarakan rumah diferensial, rumah diferensial menggerakkan gigi planet melalui poros satelit kemudian gigi satelit mengitari gigi samping/matahari yang tahanan gelindingnya besar, sehingga putaran roda kanan dan kiri menjadi tidak sama.

### 4.4.3. Rangkuman

1. Fungsi penggerak aksel adalah untuk mereduksi putaran dari poros penggerak (propeler) untuk memperoleh momen yang besar pada roda.
2. Bagian-bagian penggerak aksel terdiri dari :
  - Gigi pinion
  - Gigi Korona
3. Cara kerja penggerak aksel :

Putaran dari poros propeler diteruskan ke gigi pinion kemudian gigi pinion menggerakkan gigi korona. Karena jumlah gigi pinion lebih sedikit dibandingkan jumlah gigi korona maka putaran gigi korona menjadi lambat tetapi momennya besar.
4. Fungsi diferensial adalah membedakan kecepatanputaranroda sebelah dalam dengan kecepatan putaran roda sebelah luar pada saat berbelok, sehingga roda kiri dan kanantidak akan slip.
5. Bagian-bagian di dalam rumah diferensial, antara lain :
  - a. Rumah dudukan poros roda gigi planet  
(Sebagai rumahnya gigi planet dan gigi matahari)
  - b. Roda gigi matahari  
(Sebagai gigi samping yang akan berpasangan dengan gigi planet)
  - c. Roda gigi planet  
(Sebagai gigi penyesuai untuk menyesuaikan putaran)
6. Cara kerja diferensial :
  - Saat kendaraan berjalan lurus  

Gigi pinion memutarakan gigi korona, gigi korona memutarakan rumah diferensial, rumah diferensial menggerakkan gigi planet melalui poros satelit kemudian gigi satelit memutarakan gigi matahari (samping)



kiri dan kanan dengan rpm yang sama. Karena tahanan roda kanan dan kiri sama, maka putaran roda kanan dan kiri juga sama.

➤ Saat kendaraan berbelok

Gigi pinion memutarakan gigi korona, gigi korona memutarakan rumah diferensial, rumah diferensial menggerakkan gigi planet melalui poros satelit kemudian gigi satelit mengitari gigi samping/matahari yang tahanan gelindingnya besar, sehingga putaran roda kanan dan kiri menjadi tidak sama.

#### 4.4.4. Tugas

Lakukan pemeriksaan dan pengisian oli pada penggerak aksel kendaraan yang ada di bengkel sekolah anda ! Gunakan oli yang sesuai dan lihat spesifikasi volumenya !

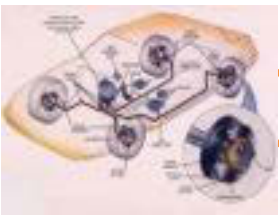
#### 4.4.5. Tes Formatif

1. Jelaskan fungsi dari penggerak aksel !
2. Sebutkan bagian-bagian aksel !
3. Jelaskan cara kerja penggerak aksel !
4. Jelaskan fungsi diferensial !
5. Sebutkan bagian-bagian diferensial !
6. Jelaskan cara kerja diferensial !

#### 4.4.6. Lembar Jawaban Tes Formatif

1. Fungsi penggerak aksel adalah untuk mereduksi putaran dari poros penggerak (propeler) untuk memperoleh momen yang besar pada roda.
2. Bagian-bagian penggerak aksel terdiri dari :
  - Gigi pinion
  - Gigi Korona
3. Cara kerja penggerak aksel :

Putaran dari poros propeler diteruskan ke gigi pinion kemudian gigi pinion menggerakkan gigi korona. Karena jumlah gigi pinion lebih sedikit dibandingkan jumlah gigi korona maka putaran gigi korona menjadi lambat tetapi momennya besar.

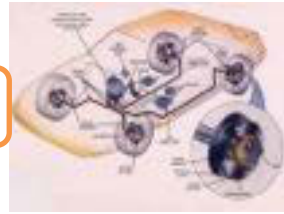


## Chasis Management System (CMS)

4. Fungsi diferensial adalah membedakan kecepatan putaran roda sebelah dalam dengan kecepatan putaran roda sebelah luar pada saat berbelok, sehingga roda kiri dan kanan tidak akan slip.
5. Bagian-bagian di dalam rumah diferensial, antara lain :
  - a. Rumah dudukan poros roda gigi planet
  - b. Roda gigi matahari
  - c. Roda gigi planet
6. Cara kerja diferensial :
  - Saat kendaraan berjalan lurus

Gigi pinion memutarakan gigi korona, gigi korona memutarakan rumah diferensial, rumah diferensial menggerakkan gigi planet melalui poros satelit kemudian gigi satelit memutarakan gigi matahari (samping) kiri dan kanan dengan rpm yang sama. Karena tahanan roda kanan dan kiri sama, maka putaran roda kanan dan kiri juga sama.
  - Saat kendaraan berbelok

Gigi pinion memutarakan gigi korona, gigi korona memutarakan rumah diferensial, rumah diferensial menggerakkan gigi planet melalui poros satelit kemudian gigi satelit mengitari gigi samping/matahari yang tahanan gelindingnya besar, sehingga putaran roda kanan dan kiri menjadi tidak sama.

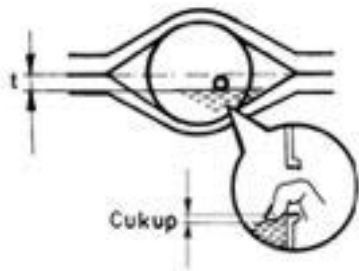


**4.4.7. Lembar Kerja Siswa**

**Pemeriksaan dan Pengisian Oli pada Penggerak Aksel**

Pemeriksaan

Pemeriksaan oli aksel dilakukan melalui baut pengontrol. Letak baut tersebut selalu di bawah garis sumbu poros (t). Oli cukup bila permukaannya masih dapat dicapai dengan jari. Permukaan oli yang terlalu rendah disebabkan karena ada kebocoran, misalnya pada sil-sil.



PEMERIKSAAN	KETERANGAN
Volume	.....
Kualitas	.....

Gambar 4.67. Pemeriksaan Oli pada Penggerak Aksel

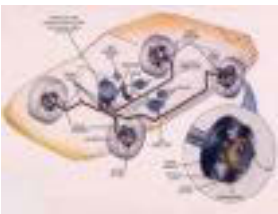
Pengisian

Persyaratan : Kendaraan harus berada pada posisi datar (tidak miring) . Oli dapat diisi dengan menggunakan pompa tangan . Untuk aksel diperlukan oli roda gigi dengan spesifikasi GL 5 atau 6. Pada transmisi bisa juga menggunakan oli mesin .



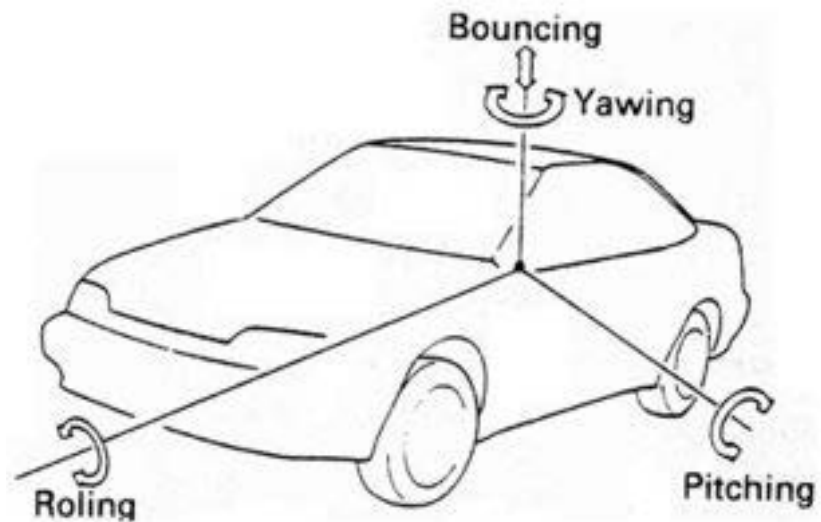
Gambar 4.68. Pengisian Oli pada Penggerak Aksel

DATA PENGISIAN	KETERANGAN
Volume Pengisian	.....
Spesifikasi Oli	.....
Km. Waktu Pengisian	.....



## **BAB 5 SISTEM SUSPENSI**

### **5.1. Kegiatan Pembelajaran : Pendahuluan Suspensi**



Dengan mengamati Gambar diatas diskusikan jawaban dari pertanyaan berikut ini :

Apa yang dimaksud dengan yawing, rolling pitching dan beri penjelasan penyebabnya ?

---

---

---

---

---



### 5.1.1. Tujuan Pembelajaran :

Setelah selesai proses pembelajaran siswa dapat :

- ✓ Menerangkan fungsi dan tuntutan sistem suspensi kendaraan
- ✓ Menjelaskan macam-macam guncangan kendaraan

### 5.1.2. Uraian Materi :


#### Jenis kendaraan

Kendaraan bermotor adalah kendaraan berjalan di jalan raya dengan tenaga motor.

Kendaraan penumpang, adalah kendaraan bermotor untuk mengangkut penumpang

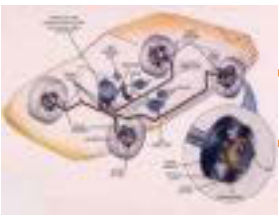


Gambar 5.1. Mobil tiga roda



Gambar 5.2. Jeep






## Chassis Management System (CMS)



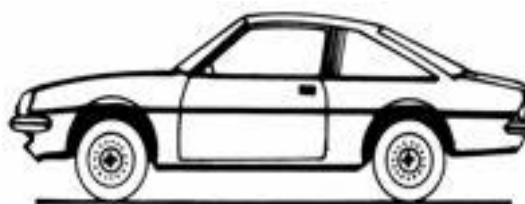
Gambar 5.3. Sedan



Gambar 5.4. Sedan hadback



Gambar 5.5. Sedan caravan



Gambar 5.6. Sedan sport



Gambar 5.7. Sedan coupe

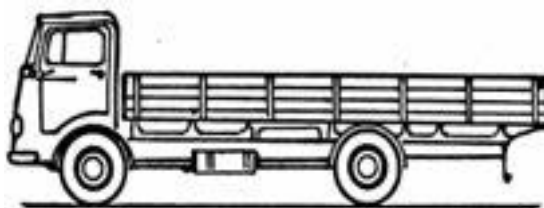
Kendaraan niaga, adalah kendaraan roda empat atau lebih untuk mengangkut barang



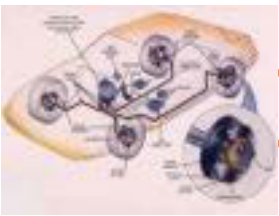
Gambar 5.8. Pick-up



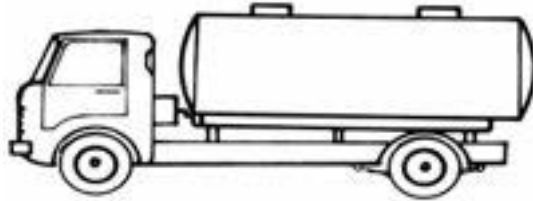
Gambar 5.9. Dump truk



Gambar 5.10. Truk




## Chasis Management System (CMS)

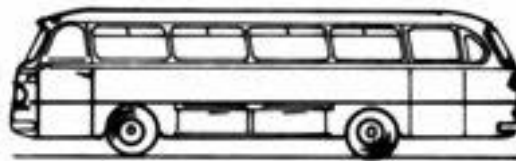


Gambar 5.11. Truk tangki

Bus, adalah kendaraan roda empat atau lebih untuk mengangkut penumpang.




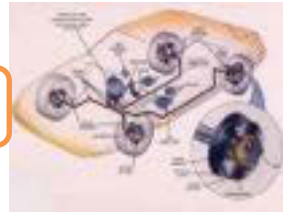
Gambar 5.12. Mini bus



Gambar 5.13. Bus



Gambar 5.14. Bus tingkat



Gambar 5.15. Bus gandeng

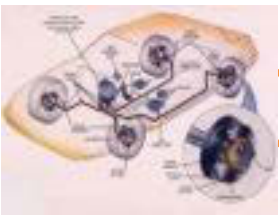
### **SUSPENSI**

Suspensi merupakan bagian kendaraan yang menghubungkan bodi kendaraan dengan roda, konstruksinya dibuat sedemikian rupa sehingga kendaraan dapat berjalan dengan nyaman dan aman.

#### **Peran Suspensi**

Jika kendaraan berjalan dengan roda-rodanya dipermukaan jalan yang halus, datar maka dia akan menerima guncangan sesuai dengan permukaan jalan. Dan apabila jalan yang dilalui terdapat banyak lubang dan benjolan maka roda-roda tersebut akan menggelinding mengikuti bentuk permukaan jalan yang berlubang maupu benjolan hal ini akan menimbulkan roda bergerak keatas/kebawah dan melalui suspensi gerakan diteruskan ke bodi kendaraan sehingga terjadi guncangan pada bodi tersebut, semakin besar lubang/benjolan permukaan jalan disertai semakin cepat gerak kendaraan maka guncangan yang ditimbulkan juga lebih kuat.

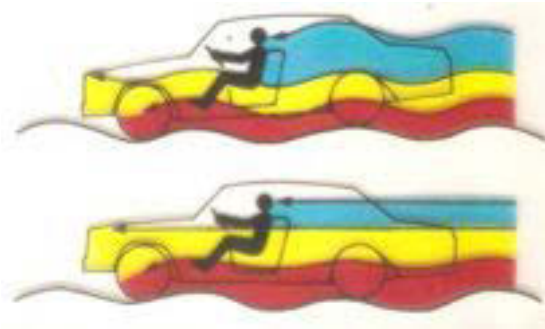
Jika tidak dipersiapkan sesuatu untuk mengurangi guncangan ini ketinggian kenyamanan yang dapat diterima, maka bisa menimbulkan beberapa masalah yaitu : Penumpang mengalami guncangan yang dirasa tidak nyaman, turun-naik dan tersentak. Mobil akan susah dikuasai pengendaliannya bila terjadi guncangan yang kuat serta dapat merusak kendaraan, penumpang dan barang bawaannya. Untuk meningkatkan kenyamanan dan kestabilan kendali, maka dibuatlah susunan pegas, lengan-lengandan peredam getaran yang kemudian dipasang diantara Roda dan bodi kendaraan yang fungsinya untuk mengurangi guncangan dan kejutan.



## Chassis Management System (CMS)

Suspensi menghubungkan bodi kendaraan dengan roda-roda, yang fungsinya adalah sebagai berikut :

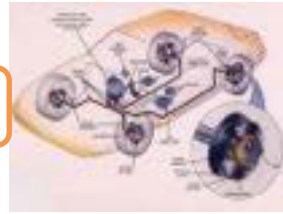
- ✓ Suspensi bersama-sama dengan ban menyerap dan meredam bermacam getaran, kejutan, dan turun-naik dari permukaan jalan untuk melindungi penumpang dan barang bawaan serta untuk meningkatkan kestabilan mengemudi.
- ✓ Menyalurkan gaya maju (percepatan), mengerem (perlambatan) dan gaya kesamping (sentrifugal saat manuver) yang dihasilkan karena gesekan antara permukaan jalan dengan roda ke body.
- ✓ Menopang body pada axles dan menjaga hubungan antara body dan roda-roda secara geometris.



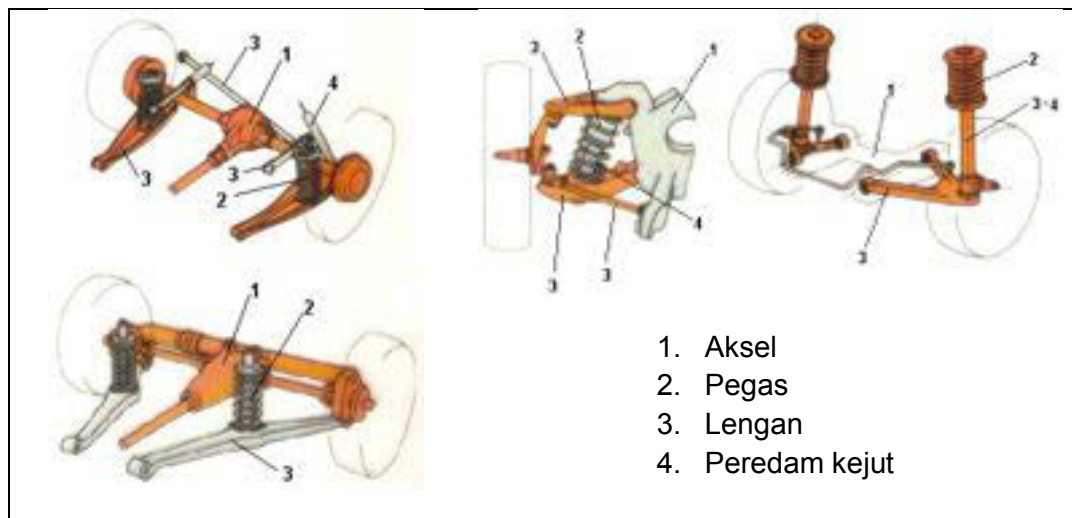
Gambar 5.16. Fungsi Suspensi

Untuk itu maka suspensi harus dapat :

- Mengantar gerakan roda
- Memungkinkan roda tetap menapak pada jalan
- Mengabsorsi dan meredam getaran bodi akibat kondisi jalan
- Meneruskan gaya pengemudian dan pengereman



### Komponen suspensi



Gambar 5.17. Komponen Suspensi

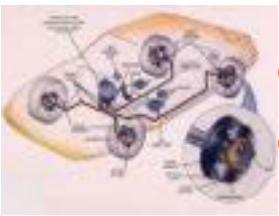
### Fungsi komponen :

1. Aksel → Pemikul bodi kendaraan
2. Pegas → Menyerap sumber guncangan
3. Lengan → Pengantar gerakan roda
4. Peredam kejut → Meredam kejutan-kejutan yang ditimbulkan

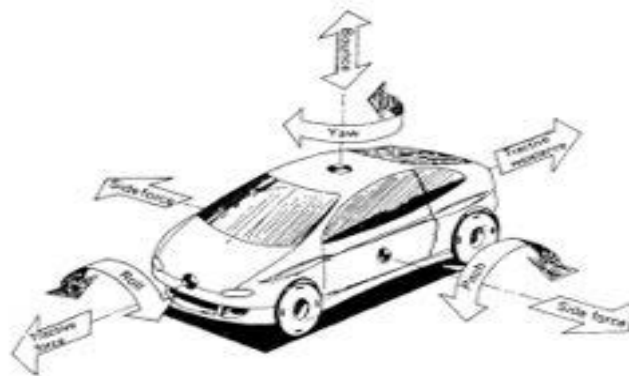
### Guncangan Kendaraan

Bodi kendaraan akan terjadi guncangan dari gaya-gaya yang bekerja padanya gaya tersebut bersumber dari gaya akibat percepatan, perlambatan dan sentrifugal (saat manufer) dan selanjutnya gaya ditopang oleh kemampuan traksi dimasing-masing rodanya sehingga gerak guncangan jika ditinjau dari aksis vertical, horizontal melintang dan dan horizontal memanjang akan terdapat beberapa macam guncangan :

- ✓ Terhadap aksis vertical timbul guncangan Yawing akibat dari side force dan timbul Bouncing
- ✓ Terhadap aksis horizontal melintang timbul Pitching akibat dari Tractive force dan tractive resistance.
- ✓ Terhadap aksis horizontal memanjang timbul Rolling akibat dari side force



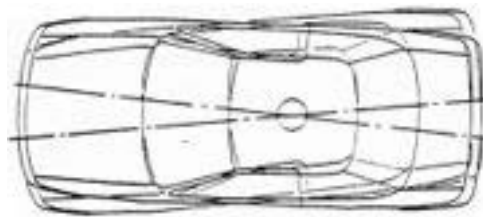
## Chassis Management System (CMS)



Gambar 5.18. Macam-macam Guncangan

### Yawing :

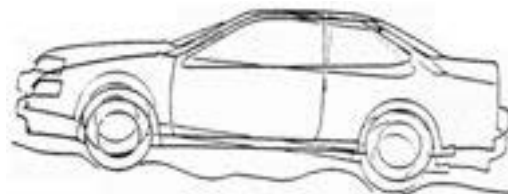
Yawing adalah gerakan kendaraan yang mengimpang ke sisi kanan dan kiri dari titik sumbu tengah kendaraan.



Gambar 5.19. Yawing

### Pitching

Pitching adalah gerakan turun naik pada bagian depan dan belakang kendaraan (seperti menganguk-anguk). Hal ini terjadi terutama apabila mobil melaju di jalan yang banyak benjolannya atau juga di jalan aspal yang tidak rata dan banyak lubang, gejala pitching lebih mudah terjadi bila spring yang digunakan lebih lembut dibandingkan dengan spring yang lebih keras.



Gambar 5.20. Pitching



### Rolling

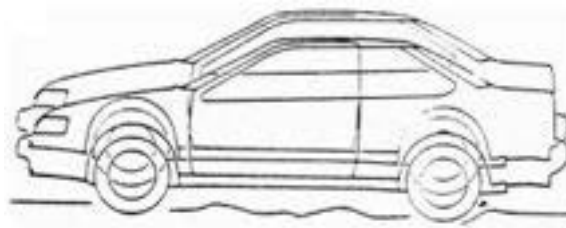
Adalah gerakan bodi kendaraan miring ke kanan atau kekiri. Ketika mobil berjalan atau berbelok di jalan yang bergelombang, salah satu sisi spring kendaraan akan mengembang, sedangkan sisi satunya lagi mengkerut. Hal ini disebabkan karena bodi kendaraan rolling (miring) ke salah satu sisi.



Gambar 5.21. Rolling

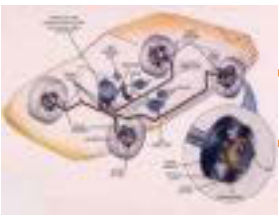
### Bouncing

Bouncing adalah gerakan naik turun pada keseluruhan bodi kendaraan. Bouncing terjadi umumnya ketika kendaraan berjalan pada jalan yang bergelombang dengan kecepatan tinggi. Juga bisa karena springs yang terlalu lembut.



Gambar 5.22. Bouncing

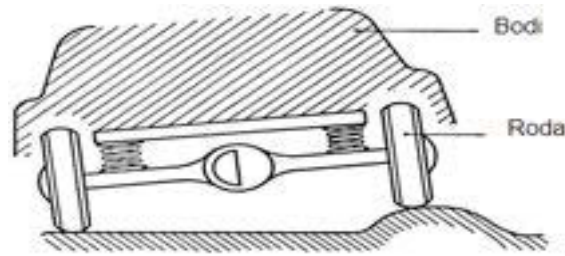




## Chassis Management System (CMS)

Komponen utama suspensi :

### Suspensi aksel rigid



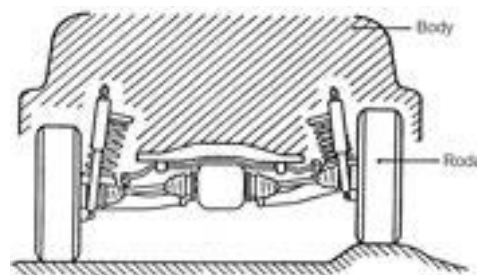
Gambar 5.23. Suspensi aksel rigid

Sifat – sifat :

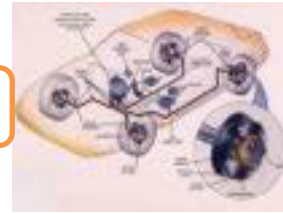
- Gerakan salah satu roda mempengaruhi roda yang lain
- Konstruksi sederhana, perawatan mudah
- Gerakan pemegasan sedikit mempengaruhi geometri roda
- Memerlukan ruang pemegasan yang besar
- Titik berat kendaraan tidak dapat rendah (kenyamanan kurang)
- Massa tak berpegas (aksel, roda) berat (kenyamanan kurang)
- Bodi sedikit miring pada saat belok

Penggunaan : Aksel belakang tanpa/dengan penggerak roda ( kendaraan ringan dan berat ), aksel depan ( kendaraan berat ) tanpa / dengan penggerak

### Suspensi Independen



Gambar 5.24. Suspensi Independen



Sifat – sifat secara umum :

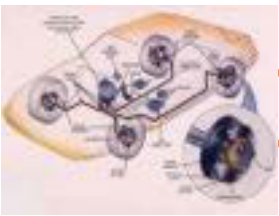
- ✓ Gerakan salah satu roda tidak mempengaruhi roda lain
- ✓ Konstruksi agak rumit
- ✓ Membutuhkan sedikit tempat
- ✓ Jarak roda dan geometri roda berubah saat pemegasan
- ✓ Titik berat kendaraan dapat rendah ( nyaman dan aman )
- ✓ Pegas dapat dikonstruksi lembut ( pegas tidak membantu mengantar gerakan roda
- ✓ Perawatan lebih sulit

Penggunaan :

- ✓ Aksel depan dan belakang ( kendaraan penumpang / sedan )
- ✓ Aksel depan saja ( kendaraan menengah dan berat )

### 5.1.3. Rangkuman :

- 1) Suspensi menghubungkan bodi kendaraan dengan roda-roda, yang fungsinya adalah sebagai berikut :
  - ✓ Suspensi bersama-sama dengan ban menyerap dan meredam bermacam getaran, kejutan, dan turun-naik dari permukaan jalan untuk melindungi penumpang dan barang bawaan serta untuk meningkatkan kestabilan mengemudi.
  - ✓ Menyalurkan gaya maju (percepatan), mengerem (perlambatan) dan gaya kesamping (sentrifugal saat manuver) yang dihasilkan karena gesekan antara permukaan jalan dengan roda ke body.
  - ✓ Menopang body pada axles dan menjaga hubungan antara body dan roda-roda secara geometris.
- 2) Untuk itu tuntutan suspensi harus dapat :
  - ✓ Mengantar gerakan roda
  - ✓ Memungkinkan roda tetap menapak pada jalan
  - ✓ Mengabsorpsi dan meredam getaran bodi akibat kondisi jalan
  - ✓ Meneruskan gaya pengemudian dan pengereman



## Chasis Management System (CMS)

### 3) Macam-macam guncangan pada mobil :

- ✓ Terhadap aksis vertical timbul guncangan Yawing akibat dari side force dan timbul Bouncing
- ✓ Terhadap aksis horizontal melintang timbul Pitching akibat dari Tractive force dan tractive resistance.
- ✓ Terhadap aksis horizontal memanjang timbul Rolling akibat dari side force

#### 5.1.4. Tugas :

Amati sistem suspensi pada kendaraan lalu diskusikan terkait dengan fungsi dan tuntutan suspensi !

#### 5.1.5. Tes Formatif :

- 1) Jelaskan fungsi suspensi !
- 2) Sebutkan tuntutan dari sistem suspensi !
- 3) Sebutkan macam-macam goncangan pada mobil !

#### 5.1.6. Lembar Jawaban Tes Formatif :

- 1) Suspensi menghubungkan bodi kendaraan dengan roda-roda, yang fungsinya adalah sebagai berikut :
  - ✓ Suspensi bersama-sama dengan ban menyerap dan meredam bermacam getaran, kejutan, dan turun-naik dari permukaan jalan untuk melindungi penumpang dan barang bawaan serta untuk meningkatkan kestabilan mengemudi.
  - ✓ Menyalurkan gaya maju (percepatan), mengerem (perlambatan) dan gaya kesamping (sentrifugal saat manuver) yang dihasilkan karena gesekan antara permukaan jalan dengan roda ke body.
  - ✓ Menopang body pada axles dan menjaga hubungan antara body dan roda-roda secara geometris.

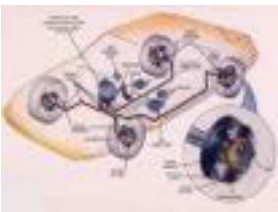
## Chasis Management System (CMS)



- 2) Untuk itu tuntutan suspensi harus dapat :
- ✓ Mengantar gerakan roda
  - ✓ Memungkinkan roda tetap menapak pada jalan
  - ✓ Mengabsorsi dan meredam getaran bodi akibat kondisi jalan
  - ✓ Meneruskan gaya pengemudian dan pengereman
- 3) Macam-macam guncangan pada mobil :
- ✓ Terhadap aksis vertical timbul guncangan Yawing akibat dari side force dan timbul Bouncing
  - ✓ Terhadap aksis horizontal melintang timbul Pitching akibat dari Tractive force dan tractive resistance.
  - ✓ Terhadap aksis horizontal memanjang timbul Rolling akibat dari side force

### 5.1.7. Lembar Kerja Siswa :

Fungsi Suspensi	Tuntutan Suspensi



## Chassis Management System (CMS)

### 5.2. Kegiatan Pembelajaran : Macam-macam Suspensi



Dengan mengamati Gambar diatas diskusikan jawaban dari pertanyaan berikut ini :

Apakah nama dan fungsi komponen yang berwarna biru dan merah ?

---

---

---

---

---

#### 5.2.1. Tujuan Pembelajaran :

Setelah selesai proses pembelajaran siswa dapat :

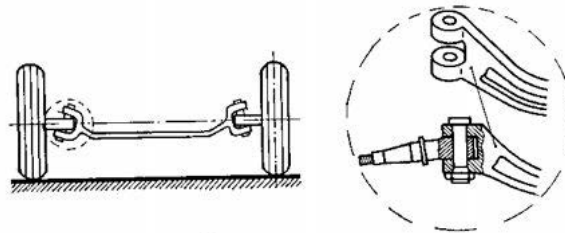
- ✓ Menjelaskan nama dan fungsi komponen sistem suspensi kendaraan
- ✓ Menjelaskan cara kerja dan penggunaan macam-macam sistem suspensikendaraan



### 5.2.2. Uraian Materi :

#### Macam–Macam Suspensi Aksel Rigid

##### Aksel Rigid Canggih



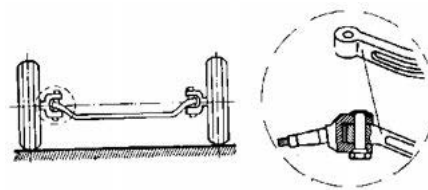
Gambar 5.25. Aksel Rigid Canggih

Ujung aksel berbentuk seperti cangkang atau garpu yang dihubungkan sumbu king pin dengan spindel

Penggunaan :

Aksel depan pada kendaraan berat

##### Aksel Rigid Kepalan Tinju

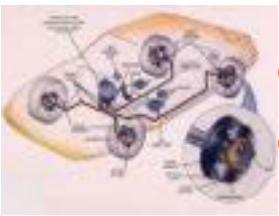


Gambar 5.26. Aksel Rigid Kepalan Tinju

Ujung aksel berbentuk seperti kepalan tinju yang dihubungkan sumbu king pin dengan spindel

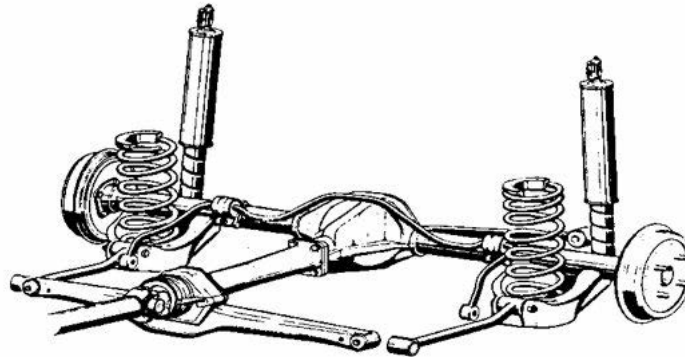
Penggunaan :

Aksel depan pada kendaraan berat



## Chasis Management System (CMS)

### Aksel Rigid Pipa Berpegas Koil



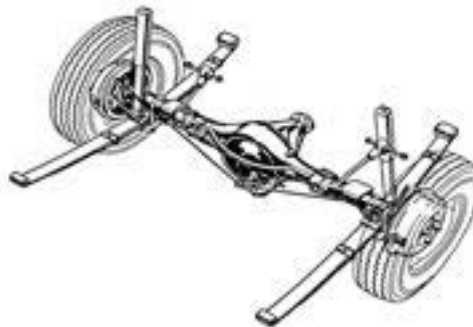
Gambar 5.27. Aksel Rigid Pipa Berpegas Koil

Lengan – lengan berfungsi untuk mengantar gerakan roda ( pegas koil tidak dapat menerima beban horisontal ) arah memanjang dan melintang

Penggunaan :

Aksel depan / belakang, dengan / tanpa penggerak roda

### Aksel Rigid Pipa Berpegas Daun



Gambar 5.28. Aksel Rigid Pipa Berpegas Daun

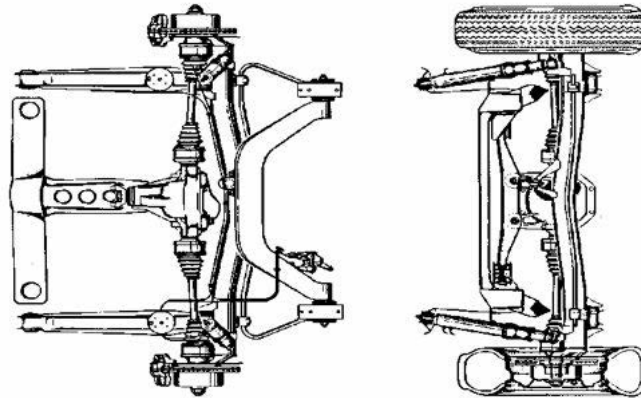
Tidak dibutuhkan lengan – lengan, karena pegas daun dapat meneruskan beban / gaya memanjang dan melintang

Penggunaan :

Aksel depan / belakang, dengan / tanpa penggerak roda



### Aksel Rigid De – Dion



Gambar 5.29. Aksel Rigid De-dion

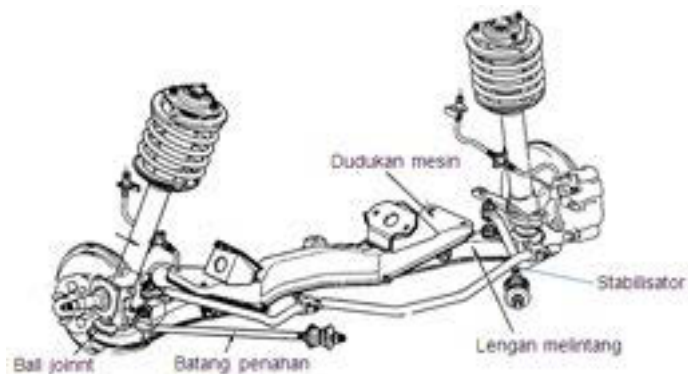
Kedua roda dipegang batang / aksel khusus, diferensial diikat pada bodi, perlu empat penghubung ( joint ) pada aksel roda, tidak ada perubahan geometri roda saat pemegasan, massa tak terpegas ringan

Penggunaan :

Aksel belakang dengan penggerak roda belakang

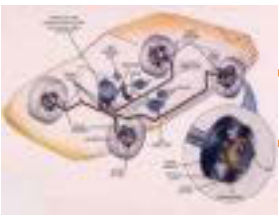
### Suspensi Independen

Mac. Pherson, dengan Lengan Melintang dan Batang Penahan



Gambar 5.30. Mac. Pherson Lengan melintang dan batang penahan





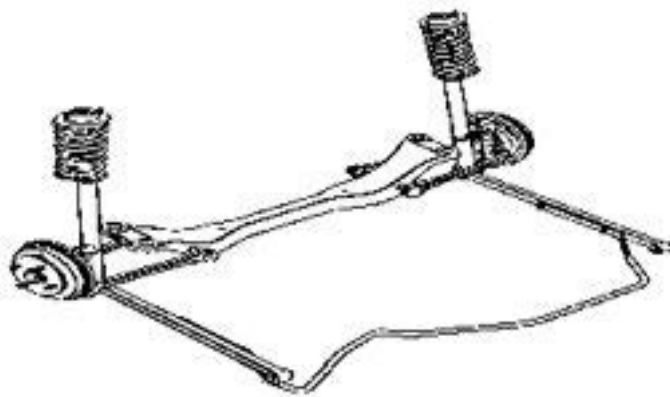
## Chasis Management System (CMS)

Lengan melintang : Mengantar gerakan roda (arah melintang) saat pemegasan

Batang penahan : Menahan gaya memanjang (rem, penggerak dsb.)

Penggunaan : Aksel depan dengan / tanpa penggerak roda

Suspensi Mac. Pherson, Dengan Lengan Melintang dan Memanjang



Gambar 5.31. Mac Pherson lengan melintang dan memanjang

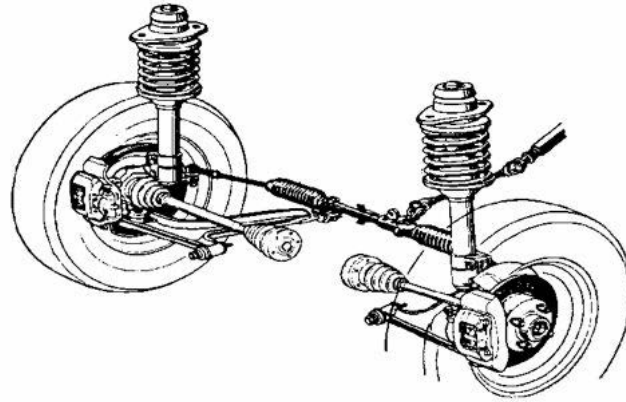
Lengan memanjang / melintang : Mengantar gerakan roda / mengatasi gaya melintang dan memanjang

Penggunaan :

Aksel belakang tanpa penggerak roda



### Suspensi Mac. Pherson, Dengan Lengan “ L “



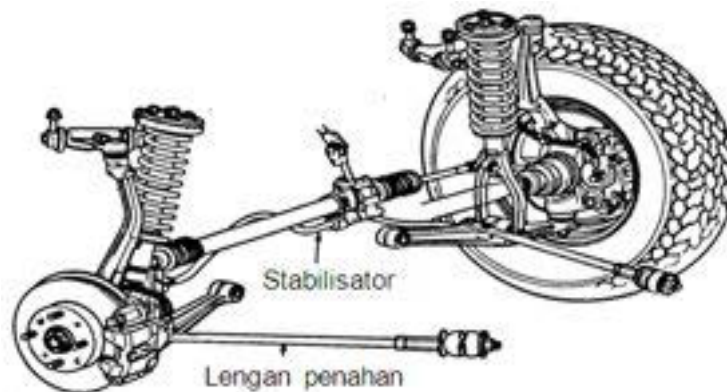
Gambar 5.32. Mac. Pherson Lengan L

Lengan “ L “ mengantar gerakan roda ( menahan gaya memanjang / melintang

Penggunaan :

Aksel depan, dengan / tanpa penggerak roda

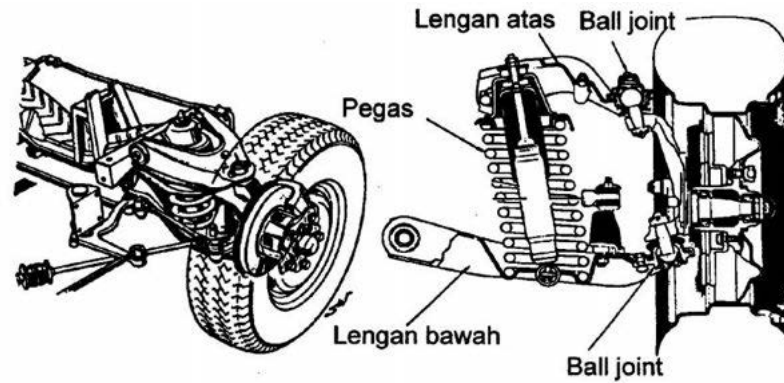
### Mac Pherson Sistem “ Honda “ ( Suspensi Lengan Melintang )



Gambar 5.33. Mac. Pherson Sistem Honda

Suspensi ini tergolong “ Suspensi Wish Bone “ atau lengan melintang yang dikembangkan dari suspensi Mac Pherson oleh Honda Penggunaan Aksel depan dengan penggerak roda

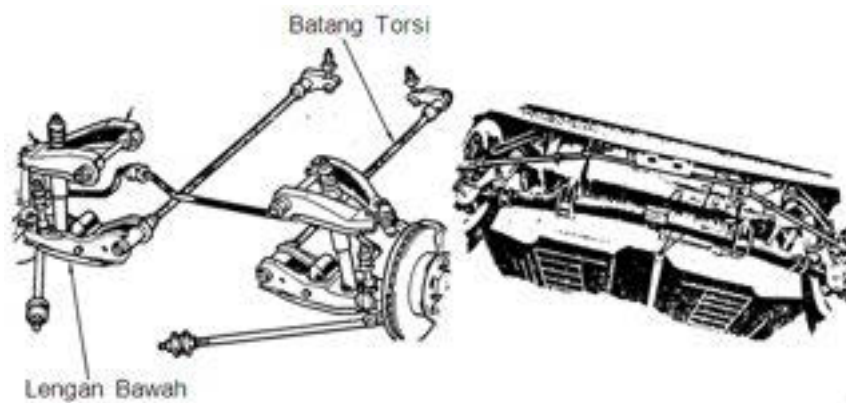
### Suspensi Wishbone, Dengan Pegas Koil



Gambar 5.34. Suspensi Whisbone pegas koil

Penggunaan : Aksel depan tanpa penggerak roda

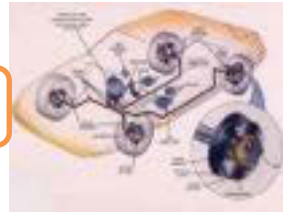
### Suspensi Wishbone, Dengan Pegas Torsi dan Pegas Daun




Gambar 5.35. Suspensi Wishbone pegas torsi dan daun

Pada suspensi Wishbone, lengan atas dibuat lebih pendek daripada lengan bawah, supaya saat pemegasan :

- ✓ Jarak roda tidak berubah ( keausan ban berkurang )
- ✓ Tumpuan roda saat pemegasan ( belok ) baik



### Suspensi Independen Dengan Aksel Lengan Torsi

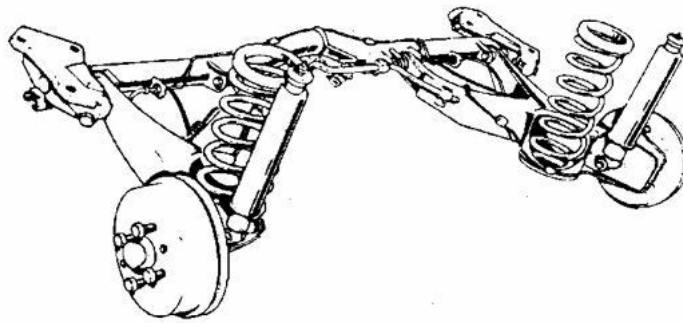


Gambar 5.36. Suspensi Independen Aksel lengan torsi

Pada saat salah satu roda terpegas ( juga pada saat belok ), maka lengan torsi menerima beban puntir sehingga berfungsi seperti stabiliator.

Penggunaan : Aksel belakang tanpa penggerak roda

Suspensi Independen Lengan Memanjang

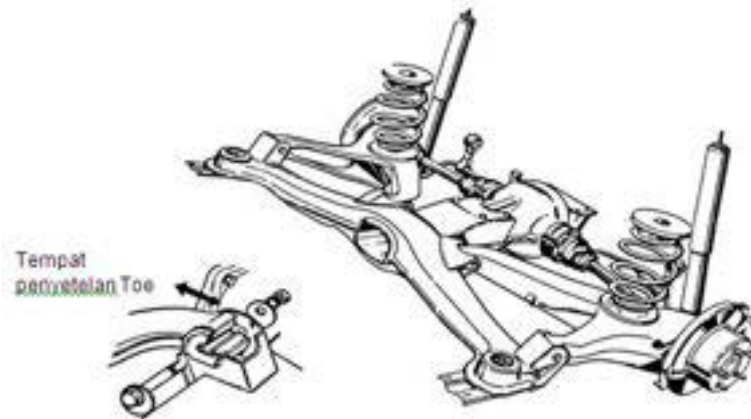


Gambar 5.37. Suspensi independen lengan memanjang

Lengan memanjang mengantar gerakan roda dan menahan gaya memanjang / melintang

Penggunaan : Aksel belakang tanpa penggerak roda

### Suspensi Independen Lengan Miring



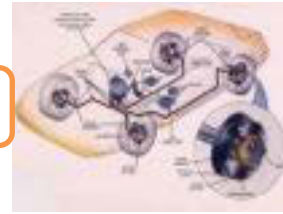
Gambar 5.38. Suspensi independen lengan miring

Lengan miring : untuk menahan gaya melintang & memanjang

Penggunaan : Aksel belakang dengan penggerak roda

#### 5.2.3. Rangkuman :

- 1) Fungsi lengan–lengan pada suspensi untuk mengantar gerakan roda ( pegas koil tidak dapat menerima beban horisontal ) arah memanjang dan melintang
- 2) Macam-macam suspensi pada aksel rigid :
  - ✓ Aksel Rigid Canggih
  - ✓ Aksel Rigid Kepalan Tinju
  - ✓ Aksel Rigid Pipa Berpegas Koil
  - ✓ Aksel Rigid Pipa Berpegas Daun
  - ✓ Aksel Rigid De – Dion
- 3) Macam-macam suspensi independen :
  - ✓ Mac. Pherson, dengan Lengan Melintang dan Batang Penahan
  - ✓ Suspensi Mac. Pherson, Dengan Lengan Melintang dan Memanjang
  - ✓ Suspensi Mac. Pherson, Dengan Lengan “ L “
  - ✓ Mac Pherson Sistem “ Honda “ ( Suspensi Lengan Melintang )
  - ✓ Suspensi Wishbone, Dengan Pegas Koil
  - ✓ Suspensi Wishbone, Dengan Pegas Torsi dan Pegas Daun
  - ✓ Suspensi Independen Dengan Aksel Lengan Torsi



- ✓ Suspensi Independen Lengan Memanjang
- ✓ Suspensi Independen Lengan Miring

### 5.2.4. Tugas :

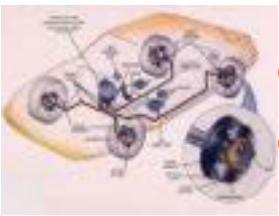
Lakukan identifikasi jenis-jenis suspensi disertai dengan gambar/foto pada kendaraan disekitar anda !

### 5.2.5. Tes Formatif :

- 1) Jelaskan fungsi lengan-lengan pada suspensi
- 2) Sebutkan macam-macam suspensi rigid !
- 3) Sebutkan macam-macam suspensi independen !

### 5.2.6. Lembar Jawaban Tes Formatif :

- 1) Fungsi lengan–lengan pada suspensi untuk mengantar gerakan roda ( pegas koil tidak dapat menerima beban horisontal ) arah memanjang dan melintang
- 2) Macam-macam suspensi pada aksel rigid :
  - ✓ Aksel Rigid Canggih
  - ✓ Aksel Rigid Kepala Tinju
  - ✓ Aksel Rigid Pipa Berpegas Koil
  - ✓ Aksel Rigid Pipa Berpegas Daun
  - ✓ Aksel Rigid De – Dion
- 3) Macam-macam suspensi independen :
  - ✓ Mac. Pherson, dengan Lengan Melintang dan Batang Penahan
  - ✓ Suspensi Mac. Pherson, Dengan Lengan Melintang dan Memanjang
  - ✓ Suspensi Mac. Pherson, Dengan Lengan “ L “
  - ✓ Mac Pherson Sistem “ Honda “ ( Suspensi Lengan Melintang )
  - ✓ Suspensi Wishbone, Dengan Pegas Koil
  - ✓ Suspensi Wishbone, Dengan Pegas Torsi dan Pegas Daun
  - ✓ Suspensi Independen Dengan Aksel Lengan Torsi
  - ✓ Suspensi Independen Lengan Memanjang
  - ✓ Suspensi Independen Lengan Miring



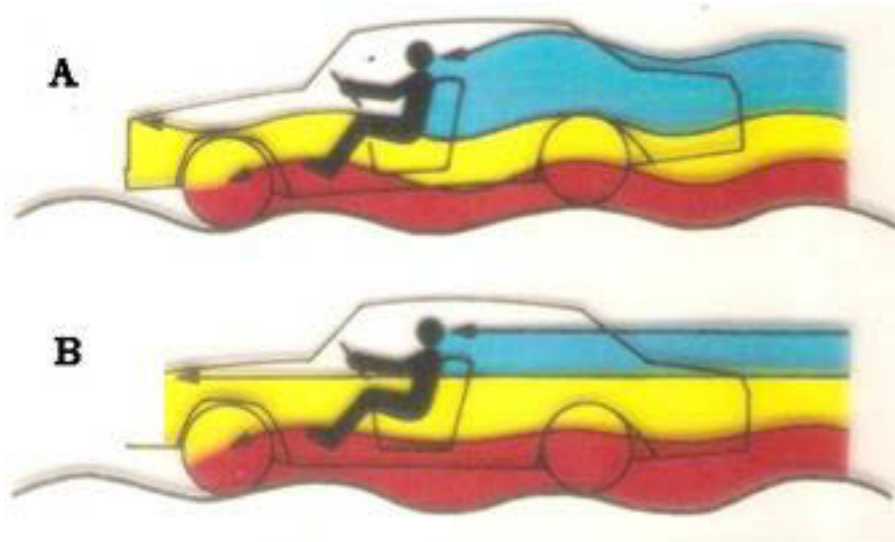
## Chasis Management System (CMS)

### 5.2.7. Lembar Kerja Siswa :

Jenis Kendaraan	Jenis Suspensi yang digunakan	Gambar/foto



5.3. Kegiatan Pembelajaran : Pegas dan Peredam Getaran



Dengan mengamati Gambar diatas diskusikan jawaban dari pertanyaan berikut ini :

Komponen suspensi apakah yang berperan menyerap dan meredam guncangan kendaraan beri penjelasan ?

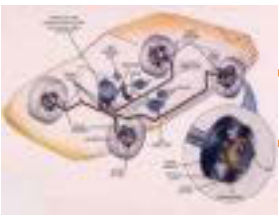
---

---

---

---





## Chassis Management System (CMS)

### 5.3.1. Tujuan Pembelajaran :

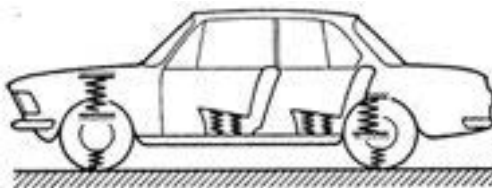
Setelah selesai proses pembelajaran siswa dapat :

- ✓ Menjelaskan fungsi pegas dan peredam kejut dalam sistem suspensi kendaraan
- ✓ Menjelaskan cara kerja dan penggunaan macam-macam pegas dan peredam kejut dalam sistem suspensikendaraan

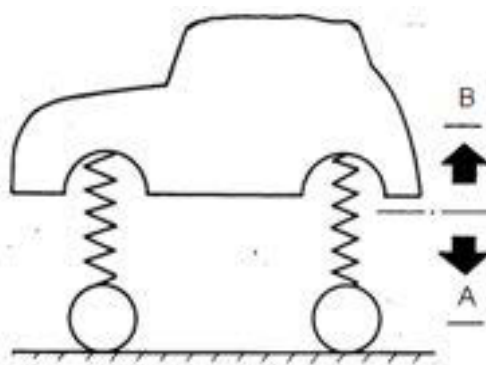
### 5.3.2. Uraian Materi :

#### Pegas Dan Stabilisator

Pegas berfungsi untuk menghilangkan getaran karoseri yang ditimbulkan oleh pukulan jalan pada roda, Selain itu juga menjamin roda tetap menapak pada jalan



Pemegasan pada kendaraan dihasilkan oleh : ban, pegas suspensi dan pegas tempat duduk

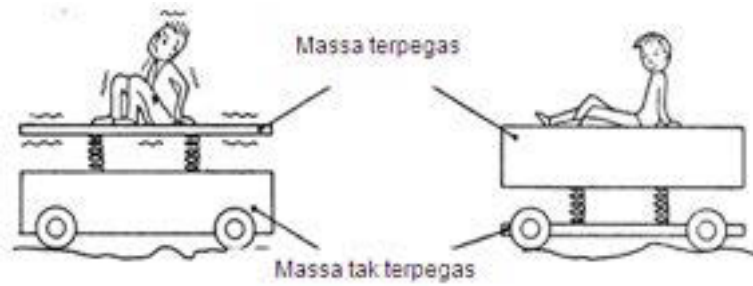


Massa tak terpegas ( A ), meliputi :

Roda, rem, aksel dan  $\frac{1}{2}$  pegas bagian bawah

Massa terpegas ( B ), meliputi :

Bodi dan semua komponen yang melekat pada bodi, penumpang barang dan  $\frac{1}{2}$  pegas bagian atas

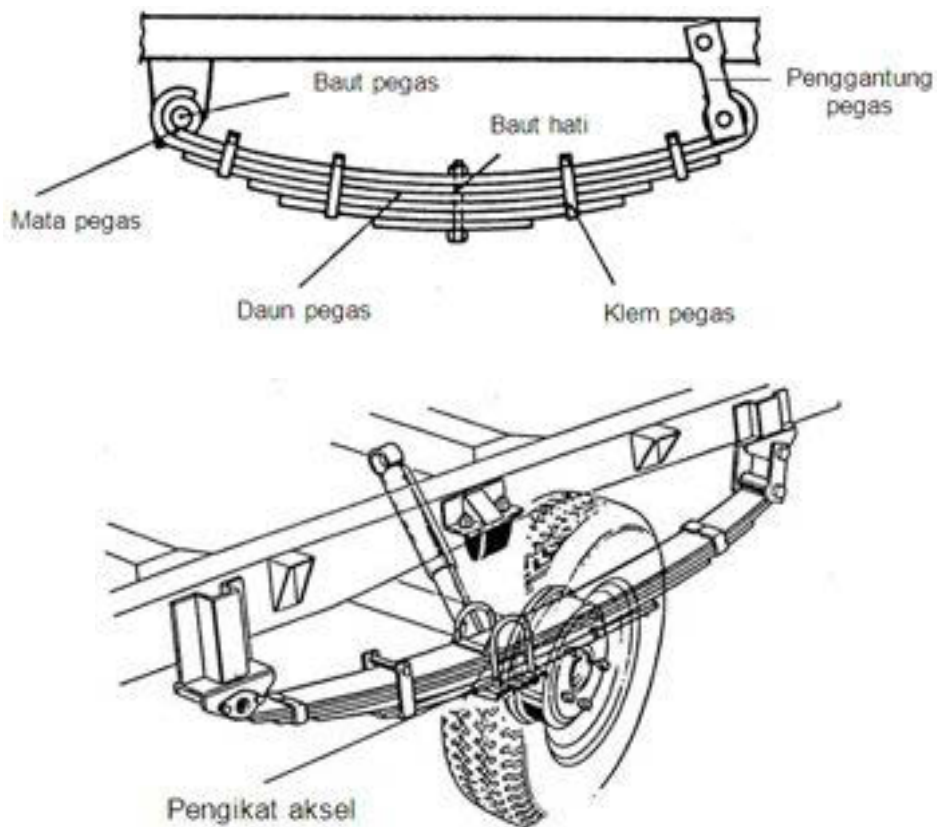


Gambar 5.39. Prinsip pemegasan

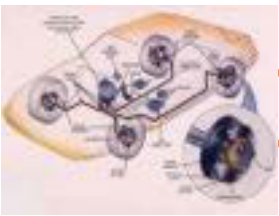
Kendaraan semakin nyaman jika massa tak terpegas semakin ringan

### Macam – Macam Pegas

#### *Pegas Daun*



Gambar 5.40. Pegas daun



## Chassis Management System (CMS)

Sifat – Sifat :

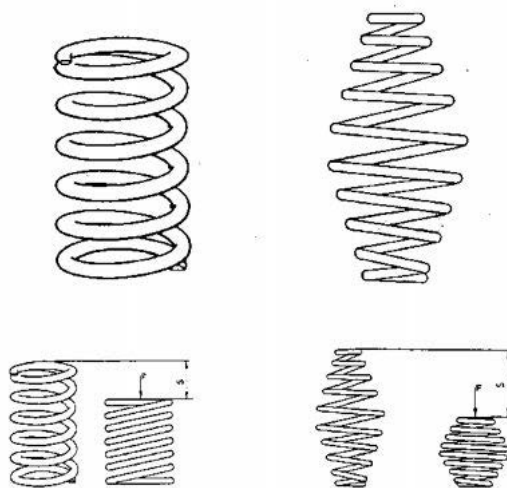
- ✓ Konstruksi sederhana
- ✓ Dapat meredam getaran sendiri ( gesekan antara daun pegas )
- ✓ Berfungsi sebagai lengan penyangga ( tidak memerlukan lengan memanjang dan melintang )

Penggunaan :

Aksel depan / belakang, tanpa / dengan penggerak roda

### ***Pegas Koil***

Pada saat pemegasan, batang pegas koil menerima beban puntir dan lengkung



Gambar 5.41. Pegas koil

Sifat – Sifat :

- ✓ Langkah pemegasan panjang
- ✓ Tidak dapat meredam getaran sendiri
- ✓ Tidak dapat menerima gaya horisontal ( perlu lengan – lengan )
- ✓ Energi beban yang diabsorpsi lebih besar daripada pegas daun
- ✓ Dapat dibuat pegas lembut

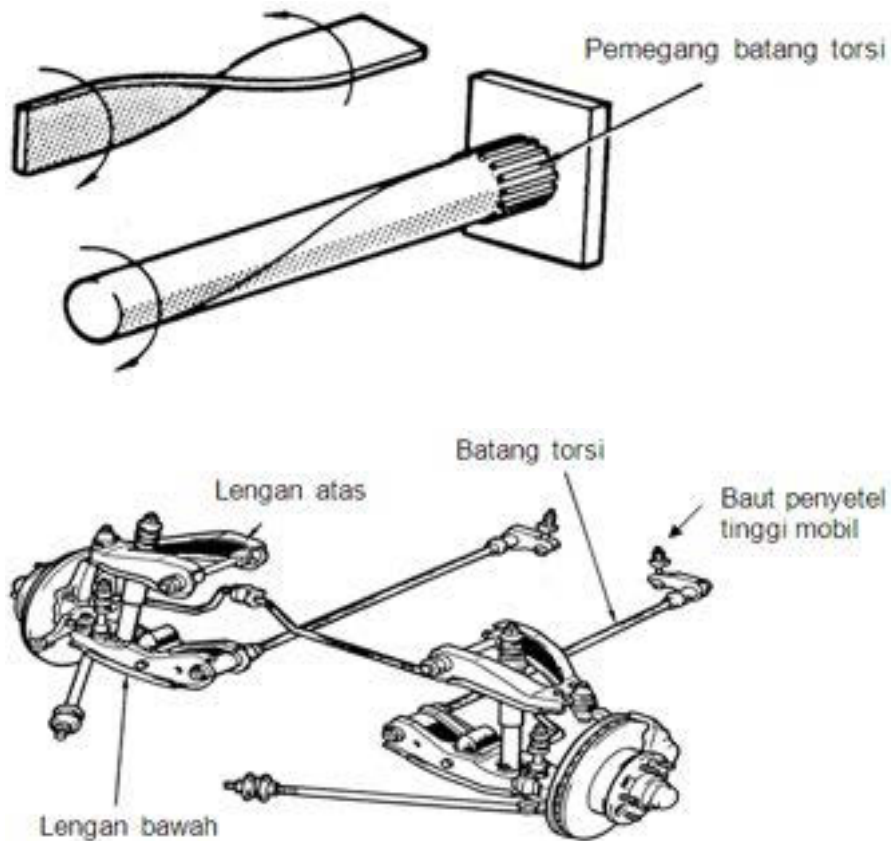
Penggunaan :

Pada suspensi independen dan aksel rigid



### Pegas Batang Torsi ( Puntir )

Pada saat pemegasan, pegas menerima beban puntir



Gambar 5.42. Pegas batang torsi

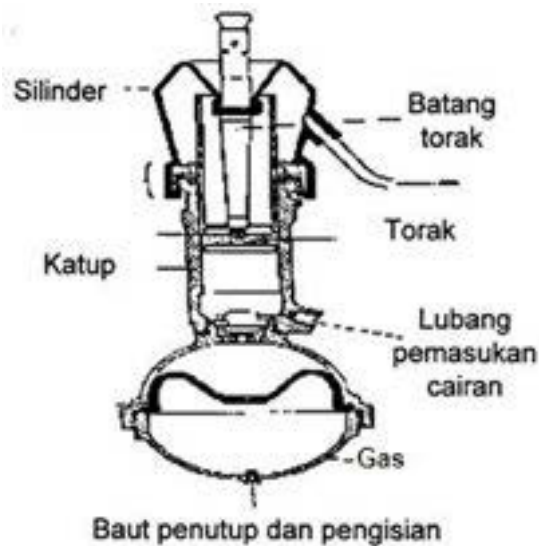
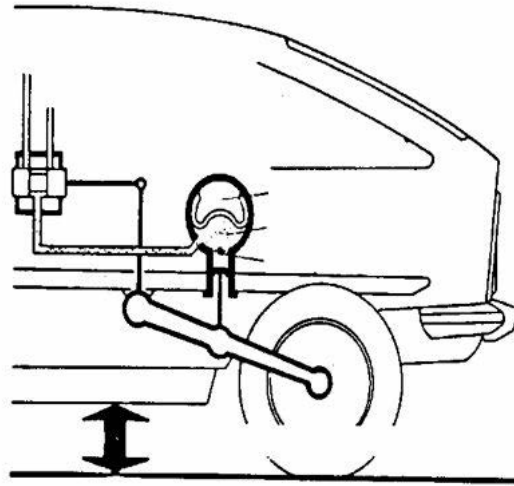
Sifat – Sifat :

- ✓ Memerlukan sedikit tempat
- ✓ Energi yang diabsorpsi lebih besar daripada pegas lain
- ✓ Tidak mempunyai sifat meredam getaran sendiri
- ✓ Dapat menyetel tinggi bebas mobil
- ✓ Langkah pemegasan panjang
- ✓ Mahal

Penggunaan :

Suspensi Independen

### Pegas Hidropneumatis



Gambar 5.43. Pegas Pneumatic

Sifat – sifat :

- ✓ Elastisitas tinggi
- ✓ Saat pemegasan tidak timbul gelembung udara pada oli
- ✓ Dapat untuk mengatur tinggi bebas kendaraan

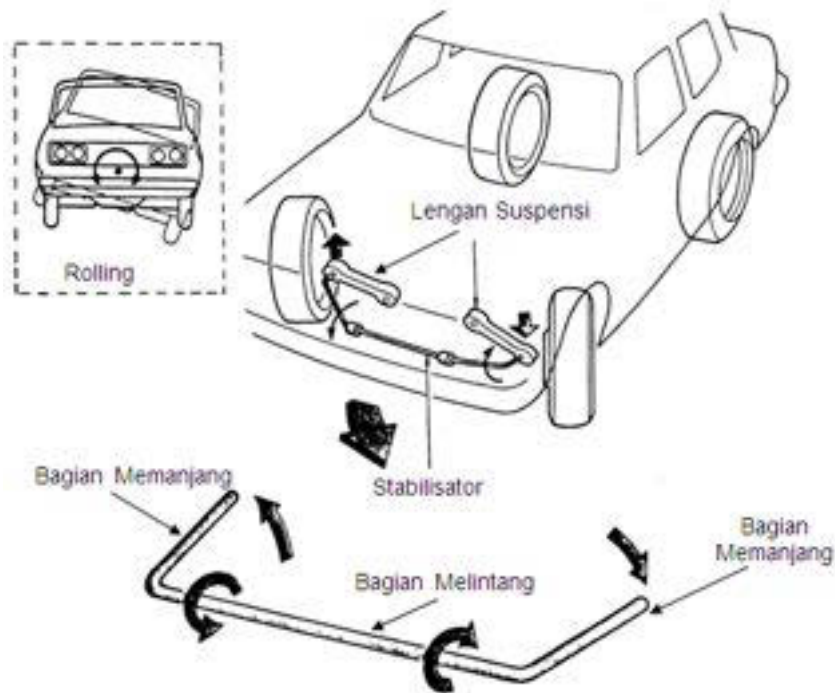
Penggunaan :

Kendaraan penumpang / sedan



### Stabilisator :

Stabilisator berfungsi untuk mengurangi efek rolling bodi kendaraan dan memperbaiki sifat jalan belok kendaraan

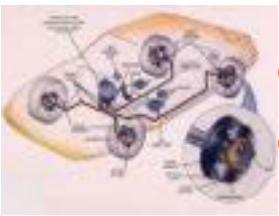


Gambar 5.44. Stabilisator

### Cara kerja :

Pada saat salah satu roda terpegas ( misal : pada saat kendaraan belok ), maka bagian melintang stabilisator menerima beban puntir karena gaya pada kedua sisi memanjang berlawanan arah.

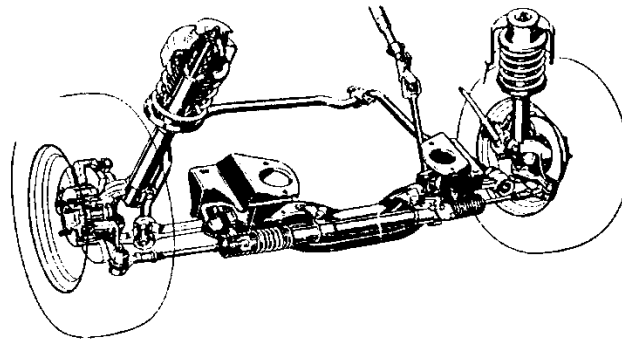
Karena salah satu sisi stabilisator berhubungan langsung dengan bodi, maka gaya  $F_a$  menarik bodi ke bawah gaya  $F_b$  mengangkat bodi ke atas, sehingga kecenderungan “ Rolling “ berkurang.



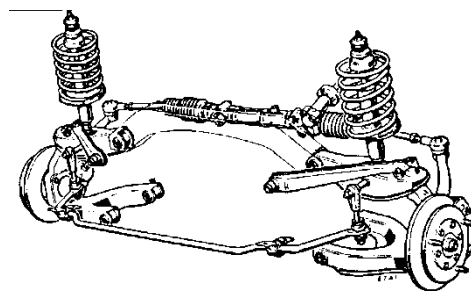
## Chasis Management System (CMS)

### Konstruksi pemasangan stabilisator

Pemasangan pada aksel depan :



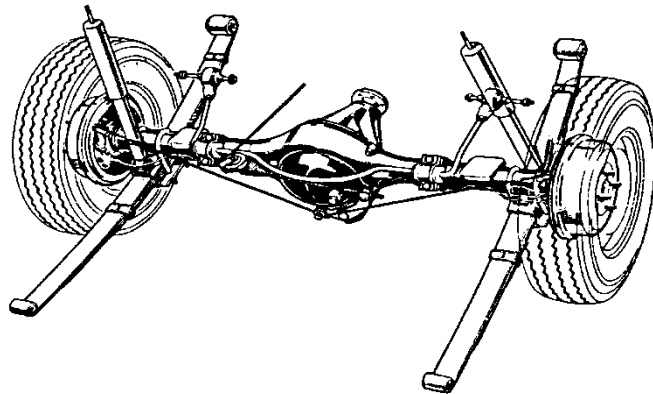
Gambar 5.45. Contoh pemasangan stabilisator (1)



Gambar 5.46. Contoh pemasangan stabilisator (2)

Lengan melintang diikat pada body dan kedua ujung lengan memanjang diikat pada aksel

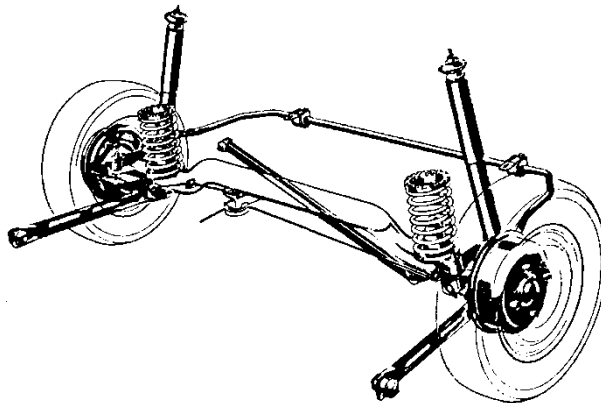
Pemasangan : pada aksel belakang



Gambar 5.47. Contoh pemasangan stabilisator (3)

Lengan melintang diikat pada aksel

Kedua ujung lengan memanjang diikat pada body

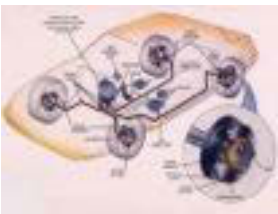


Gambar 5.48. Contoh pemasangan stabilisator (4)

Lengan melintang diikat pada body

Kedua ujung lengan memanjang diikat pada aksel

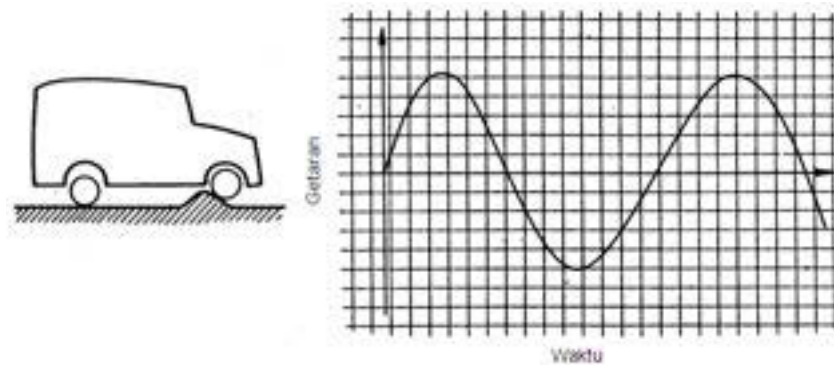




## Chassis Management System (CMS)

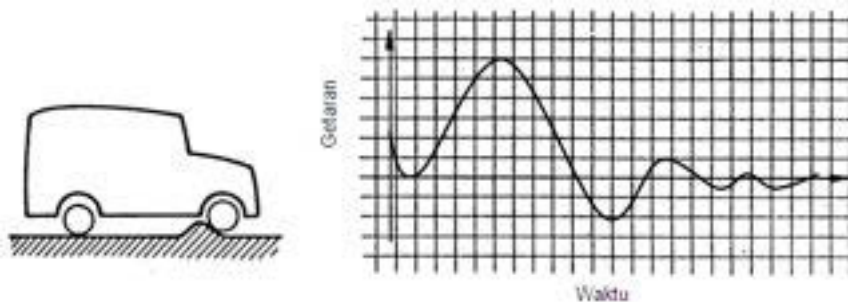
### Peredam Getaran ( Shock Absorber )

Goncangan Tanpa Peredam Getaran



Gambar 5.49. Concangan tanpa peredam getaran

### Goncangan Dengan Peredam Getaran



Gambar 5.50. Goncangan dengan peredam getaran

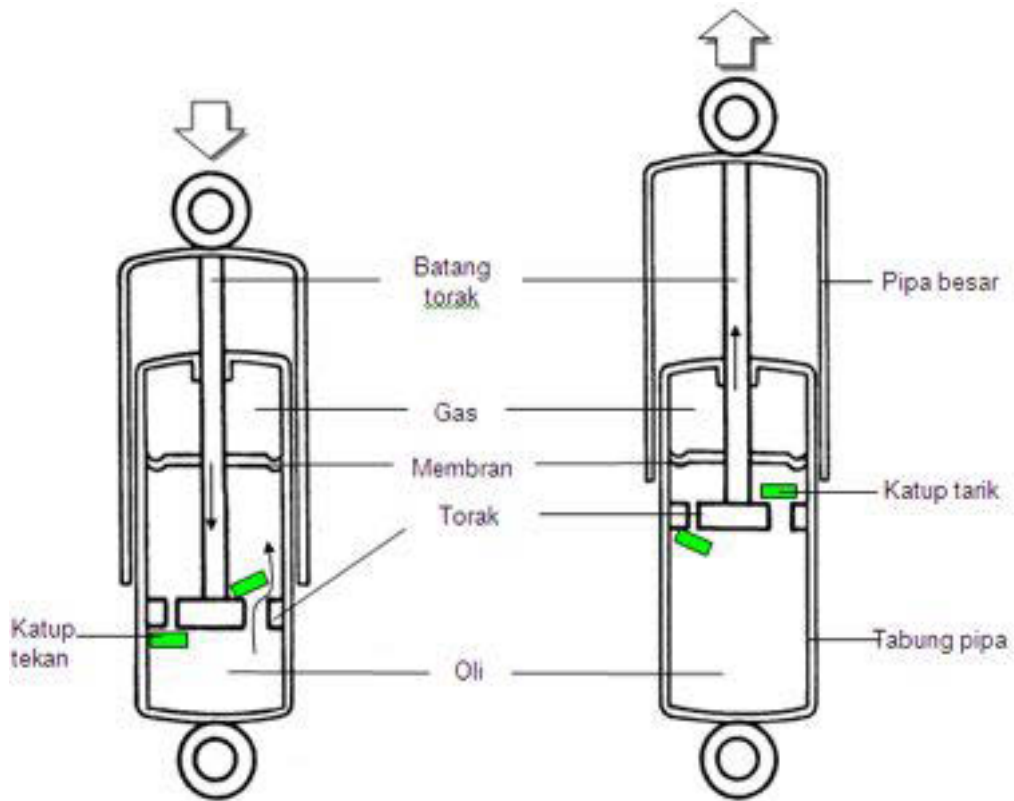
#### 1. Fungsi Peredam Getaran :

Adalah untuk meredam getaran karoseri dan aksel, sehingga jalannya kendaraan dapat memberikan kenyamanan pada penumpang. Energi gerak dari bagian yang bergetar dirubah melalui gerakan menjadi panas



### Prinsip Kerja Peredam Getaran

Pada saat terjadi pemegasan, peredam getaran menerima beban tekan dan tarik



Gambar 5.51. Prinsip kerja peredam getaran

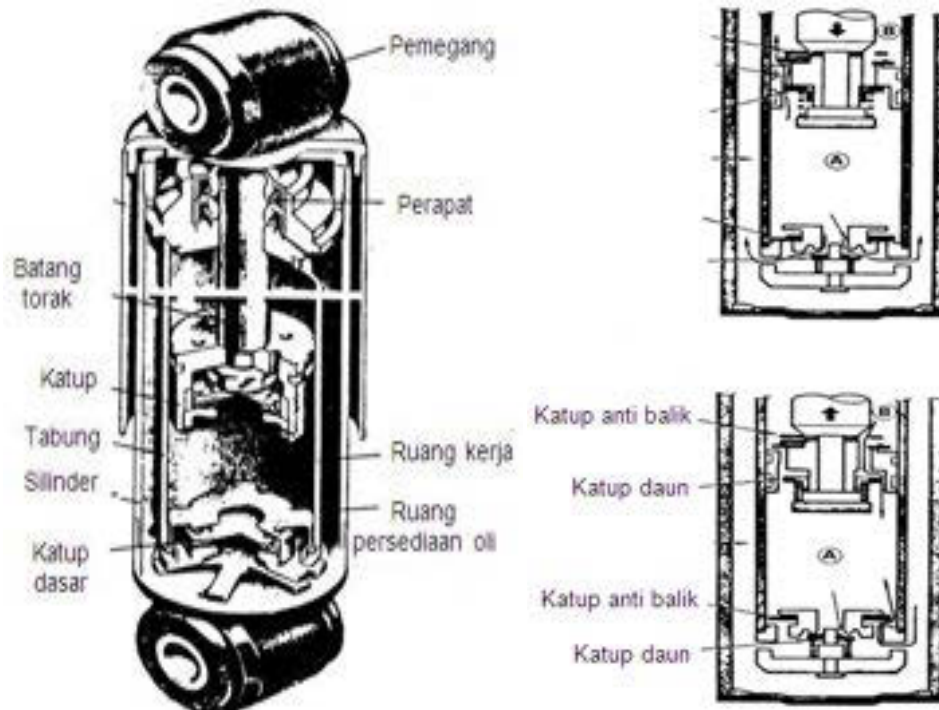
<p><b>Langkah tekan :</b></p> <p>Oli berpindah melalui lubang besar tahanan oli yang berpindah kecil</p>	<p><b>Langkah tarik :</b></p> <p>Oli berpindah melalui lubang kecil tahanan oli yang berpindah besar</p>
--	--

Kesimpulan :

Peredam getaran pada langkah tarik lebih kuat daripada langkah tekan

Peredam Getaran Jenis Dua Pipa ( Twin – Tube Type Shock Absorber )

## Chassis Management System (CMS)

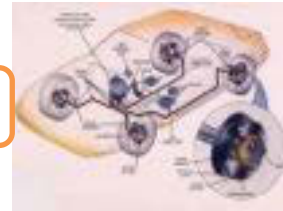


Sifat – Sifat :

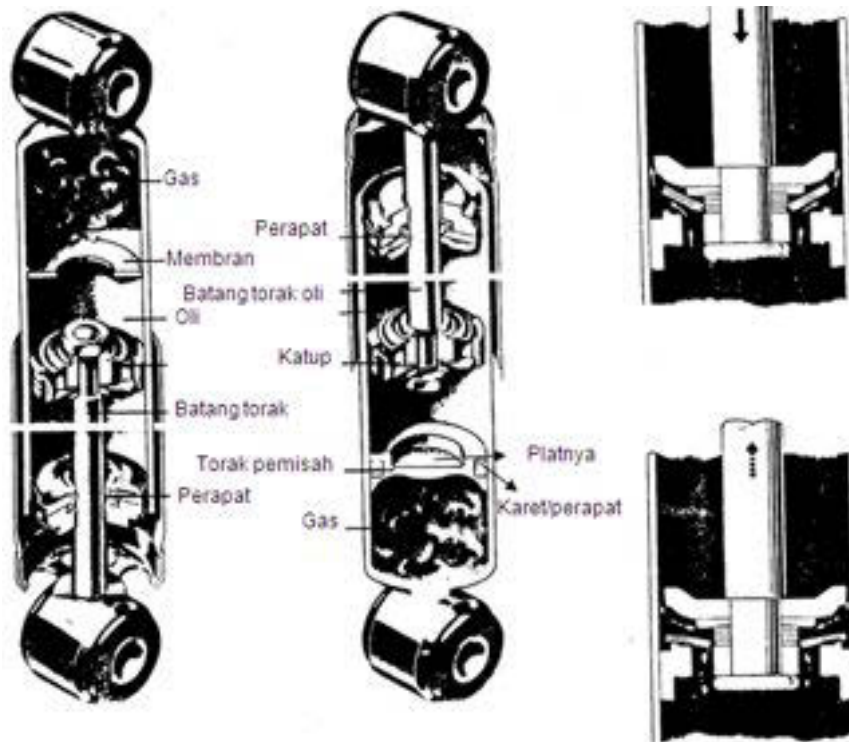
- ✓ Pemindahan panas kurang baik
- ✓ Dapat timbul gelombang udara ( kavirasi )
- ✓ Murah

Penggunaan :

Pada kebanyakan mobil sedan dan truk



Peredam Getaran Jenis Satu Pipa / Tekanan Gas ( Mono Tube Type Shock Absorber )



Gambar 5.52. Peredam getaran satu pipa

Sifat – sifat :

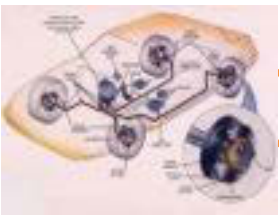
- ✓ Pemandahan panas baik
- ✓ Tidak timbul kavitasi ( gelembung udara )
- ✓ Volume oli besar pada ruang kerja
- ✓ Tekanan gas merapat = 120 bar

Penggunaan :

Mobil – mobil penumpang ( taxi )

### 5.3.3. Rangkuman :

- 1) Pegas berfungsi untuk menghilangkan getaran karoseri yang ditimbulkan oleh pukulan jalan pada roda, Selain itu juga menjamin roda tetap menapak pada jalan.



## Chasis Management System (CMS)

- 2) Macam-macam pegas :
  - ✓ Pegas Daun
  - ✓ Pegas Koil
  - ✓ Pegas Batang Torsi ( Puntir )
  - ✓ Pegas Hidropneumatis
- 3) Stabilisator berfungsi untuk mengurangi efek rolling bodi kendaraan dan memperbaiki sifat jalan belok kendaraan
- 4) Cara kerja Stabilisator :

Pada saat salah satu roda terpegas ( misal : pada saat kendaraan belok ), maka bagian melintang stabilisator menerima beban puntir karena gaya pada kedua sisi memanjang berlawanan arah.

Karena salah satu sisi stabilisator berhubungan langsung dengan bodi, maka gaya  $F_a$  menarik bodi ke bawah gaya  $F_b$  mengangkat bodi ke atas, sehingga kecenderungan “ Rolling “ berkurang.
- 5) Fungsi Peredam Getaran :

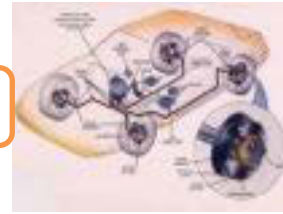
Adalah untuk meredam getaran karoseri dan aksel, sehingga jalannya kendaraan dapat memberikan kenyamanan pada penumpang. Energi gerak dari bagian yang bergetar dirubah melalui gerakan menjadi panas.
- 6) Prinsip Kerja Peredam Getaran  
Pada saat terjadi pemegasan, peredam getaran menerima beban tekan dan tarik.

### 5.3.4. Tugas :

Lakukan identifikasi jenis-jenis pegas disertai dengan gambar/foto pada kendaraan disekitar anda !

### 5.3.5. Tes Formatif :

- 1) Jelaskan fungsi pegas !
- 2) Sebutkan macam-macam pegas !
- 3) Jelaskan fungsi stabilisator !
- 4) Jelaskan prinsip kerja stabilisator !
- 5) Jelaskan fungsi kerja peredam getaran !



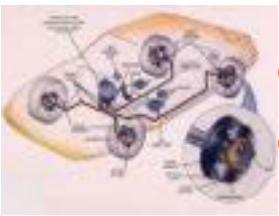
### 5.3.6. Lembar Jawaban Tes Formatif :

- 1) Pegas berfungsi untuk menghilangkan getaran karoseri yang ditimbulkan oleh pukulan jalan pada roda, Selain itu juga menjamin roda tetap menapak pada jalan.
- 2) Macam-macam pegas :
  - ✓ Pegas Daun
  - ✓ Pegas Koil
  - ✓ Pegas Batang Torsi ( Puntir )
  - ✓ Pegas Hidropneumatis
- 3) Stabilisator berfungsi untuk mengurangi efek rolling bodi kendaraan dan memperbaiki sifat jalan belok kendaraan
- 4) Cara kerja Stabilisator :

Pada saat salah satu roda terpegas ( misal : pada saat kendaraan belok ), maka bagian melintang stabilisator menerima beban puntir karena gaya pada kedua sisi memanjang berlawanan arah.

Karena salah satu sisi stabilisator berhubungan langsung dengan bodi, maka gaya  $F_a$  menarik bodi ke bawah gaya  $F_b$  mengangkat bodi ke atas, sehingga kecenderungan “ Rolling “ berkurang.
- 5) Fungsi Peredam Getaran :

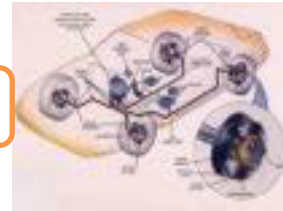
Adalah untuk meredam getaran karoseri dan aksel, sehingga jalannya kendaraan dapat memberikan kenyamanan pada penumpang. Energi gerak dari bagian yang bergetar dirubah melalui gerakan menjadi panas.



## Chasis Management System (CMS)

### 5.3.7. Lembar Kerja Siswa :

Jenis Kendaraan	Jenis pegas yang digunakan	Gambar/foto



## BAB 6 GEOMETRI RODA

### 6.1. Kegiatan Pembelajaran :PendahuluanGeometriRoda



Dengan mengamati Gambar di atas diskusikan jawaban dari pertanyaan berikut ini :

Unsur geometri roda apa yang  
pengendaranya mandalam mengendalikan kendaraan di perjalanan yang  
banyak terdapat belokan ?

---

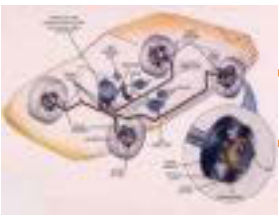
---

---

---

---





## Chasis Management System (CMS)


### 6.1.1. Tujuan Pembelajaran :

Setelah selesai proses pembelajaran siswa dapat :

- ✓ Menerangkan tujuan dan fungsi geometri rodakendaraan
- ✓ Menjelaskan macam-macam sikap geometri rodakendaraan

### 6.1.2. Uraian Materi :


Ukuran luarkendaraan sangat penting sebagai dasar besaran geometri rodakendaraan untuk tujuan kenyamanan, keamanan pengendalian kendaraan.



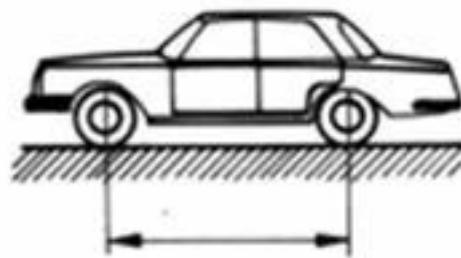
Gambar 6.1. Panjang kendaraan



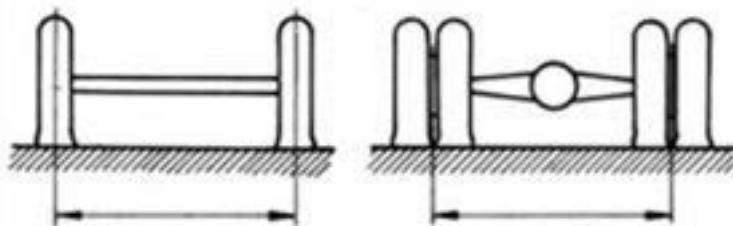
Gambar 6.2. Tinggi kendaraan



Gambar 6.3. Lebar kendaraan



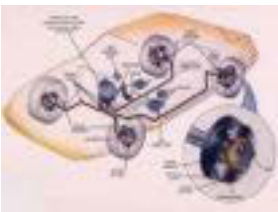
Gambar 6.4. Jarak sumbu roda (roda depan dengan roda belakang)



Gambar 6.5. Jarak roda (rodakan dan engkiri)



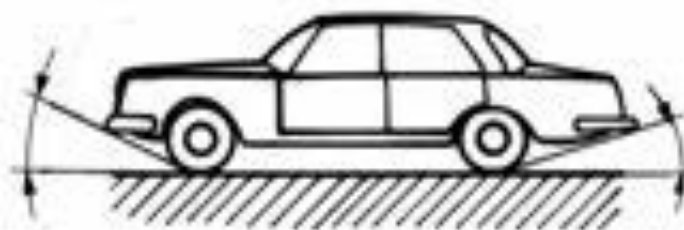
Gambar 6.6.  
Jarak bebas kendaraan antar bagian kendaraan terendah dengan permukaan jalan.



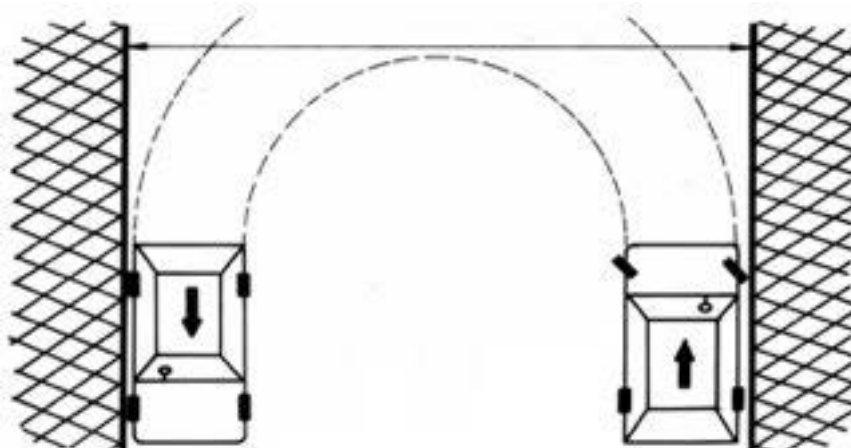
## Chassis Management System (CMS)



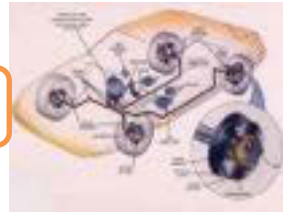
Gambar 6.7. Sudutbebas kendaraan




Gambar 6.8. Sudutbebasdepanbelakang kendaraan



Gambar 6.9. Sudutputarmaksimum kendaraan



## Geometri roda



Gambar 6.10. Sikap geometri roda

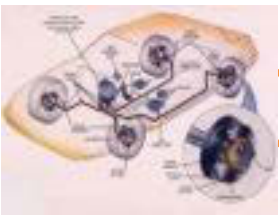
Sudut-sudut roda terhadap aksis horizontal, vertikal, memanjang, melintang, disebut "**Geometriroda**".

Kedudukan roda pada prinsipnya harus tegak lurus dengan jalan dan lurus dengan arah jalannya kendaraan, hal ini untuk memperoleh jalannya kendaraan dapat dengan lurus, bermanuver dengan stabil.

Sehingga bias umum memenuhi aspek kenyamanan mengendalikan kendaraan

Pada praktek, geometri roda bisa sedikit berbeda dengan prinsip dasar, karena untuk mencapai :

- ✓ Kendaraan dapat berjalan lurus dengan stabil
- ✓ Kendaraan dapat bermanuver dengan nyaman
- ✓ Roda dapat melindungi dengan baik dan pamenimbulkan keausan yang besar

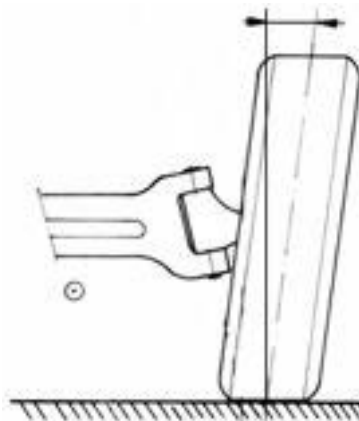


## Chasis Management System (CMS)

Geometri rodapada kendaraan adalah sikap roda/king-pin terhadap aksis vertical, horizontal memanjang dan melintang yang terdiri dari :

Camber :

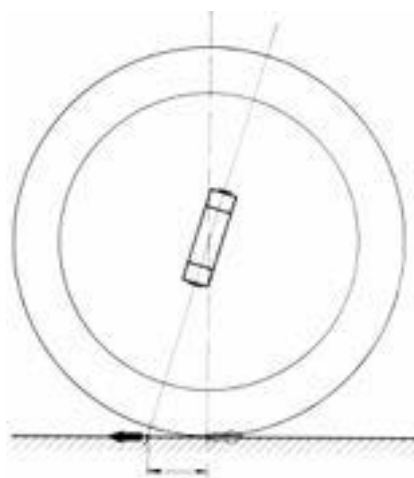
Kemiringan roda terhadap aksis vertical dilihat dari depan kendaraan, menyebabkan gaya pengemudian menjadi riringan.



Gambar 6.11. Camber

Caster :

Kemiringan king-pin terhadap aksis vertical dilihat dari samping kendaraan menyebabkan roda menggelinding lurus dengan stabil sehingga kendaraan dapat jalan lurus dengan stabil walaupun roda kemudi dilepas



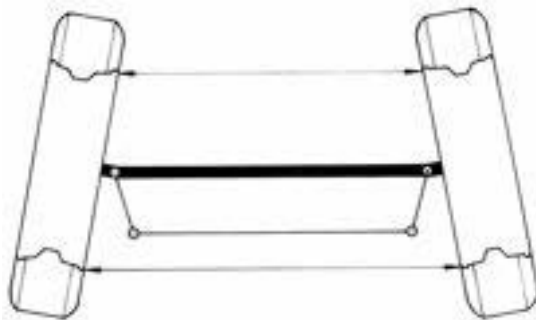
Gambar 6.12. Caster



Toe-in :

Sikap rodaterhadapaksismemanjangdilihatdariataskendaraan.  
sebagaikoreksi rolling camber saatjalanlurus  
rodadapatmenggelingdengandenganbaiktanpatimbul  
menggosokpadapermukaanjalan

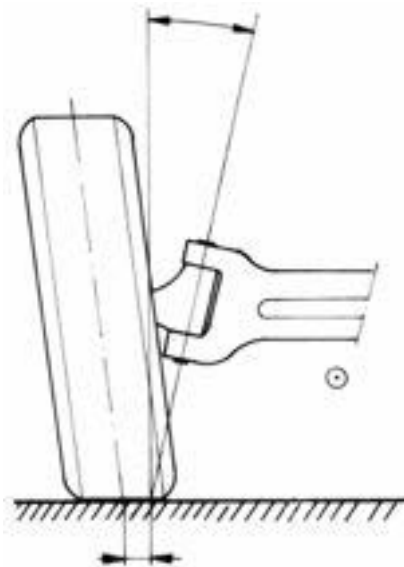
Berfungsi  
sehingga  
ban



Gambar 6.13. Toe

Inclinasi King-pin :

Kemiringansumbu king-pin terhadapaksis vertical dilihatdaridepankendaraan  
sehingga rodakembalikesikaplurussetelahdibelokkan



Gambar 6.14. Inclinasi king-pin



## Chassis Management System (CMS)

### 6.1.3. Rangkuman :

- 1) Tujuan dan fungsi geometri roda adalah :
  - ✓ Kendaraan dapat berjalan lurus dengan stabil
  - ✓ Kendaraan dapat bermanuver dengan nyaman
  - ✓ Roda dapat melindungi dengan baik dan menimbulkan keausan yang besar
- 2) Macam-macam sikap geometri roda kendaraan :
  - 1) Camber :

Kemiringan roda terhadap aksis vertical dilihat dari depan kendaraan menyebabkan gaya pengemudian menjadi rindingan.
  - 2) Caster :

Kemiringan king-pin terhadap aksis vertical dilihat dari samping kendaraan menyebabkan roda melindungi lurus dengan stabil sehingga kendaraan dapat jalan lurus dengan stabil walaupun roda kemudi dilepas
  - 3) Toe-in :

Sikap roda terhadap aksis memanjang dilihat dari atas kendaraan. Berfungsi sebagai koreksi rolling camber saat jalan lurus sehingga roda dapat melindungi dengan baik dan menimbulkan keausan ban menggosok pada permukaan jalan
  - 4) Inclinasi King-pin :

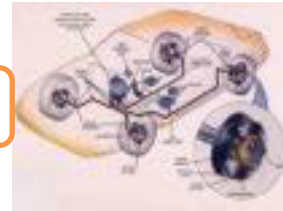
Kemiringan sumbu king-pin terhadap aksis vertical dilihat dari depan kendaraan menyebabkan roda kembali ke sikap lurus setelah dibelokkan

### 6.1.4. Tugas :

Lakukan pengukuran dan penyetelan geometri roda pada kendaraan yang disediakan !

### 6.1.5. Tes Formatif :

- 1) Jelaskan tujuan dan fungsi geometri roda !
- 2) Jelaskan pengertian camber !



- 3) Jelaskan pengertian caster !
- 4) Jelaskan pengertian Toe-in !
- 5) Jelaskan pengertian Inklinasi King-pin !

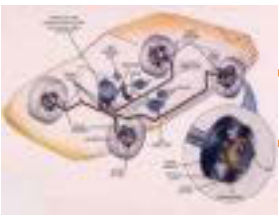
**6.1.6. Lembar Jawaban Tes Formatif :**

- 1) Tujuan dan fungsi geometri roda adalah supaya :
  - ✓ Kendaraan dapat berjalan lurus dengan stabil
  - ✓ Kendaraan dapat bermanuver dengan nyaman
  - ✓ Roda dapat menggelinding dengan baik dan tidak menimbulkan keausan yang besar
- 2) Camber :  
Kemiringan roda terhadap aksis vertical dilihat dari depan kendaraan.
- 3) Caster :  
Kemiringan king-pin terhadap aksis vertical dilihat dari samping kendaraan.
- 4) Toe-in :  
Sikap roda terhadap aksis memanjang dilihat dari atas kendaraan.
- 5) Inclinasi King-pin :  
Kemiringan sumbu king-pin terhadap aksis vertical dilihat dari depan kendaraan.

**6.1.7. Lembar Kerja Siswa :**

Geometri roda	Data Pengukuran	Standar	Data Penyetelan
Camber			
Caster			
Toe-in			
Inklinasi King-pin			





## Chassis Management System (CMS)

### 6.2. Kegiatan Pembelajaran : Pengertiandan Fungsi Geometri Roda



Dengan mengamati Gambar di atas diskusikan jawaban dari pertanyaan berikut ini :

Pada roda kiri apakah geometri roda apa dan berikan penjelasan fungsinya ?

---

---

---

---

#### 6.2.1. Tujuan Pembelajaran :

Setelah selesai proses pembelajaran siswa dapat :

- ✓ Menerangkan pengertian dan fungsi macam-macam sika geometri rodakendaraan
- ✓ Menjelaskan besaran penyeteran macam-macam sika geometri rodakendaraan


#### 6.2.2. Uraian Materi :



### Camber

Kemiringan roda bagian atas ke dalam atau keluar terhadap garis vertikal jika dilihat dari depan kendaraan


Camber Positif ( + )



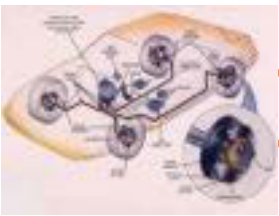
Gambar 6.15. Camber positif

Bagian atas miring keluar jika dilihat dari depan kendaraan, sehingga garis vertikal dengan garis tengah roda membentuk sudut  $\alpha$  ( sudut camber “ + ” )

Camber negatif ( - )



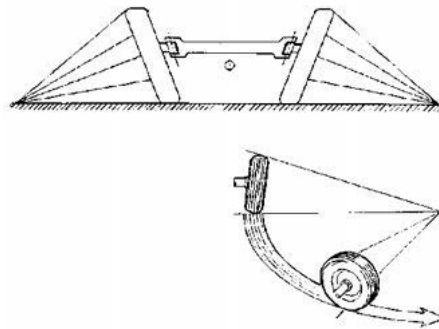
Gambar 6.16. Camber negatif



## Chassis Management System (CMS)

Bagian roda miring ke dalam jika dilihat dari depan kendaraan , sehingga garis vertikal dengan garis tengah roda membentuk sudut  $\alpha$  ( sudut “ - “ )

### Fungsi Camber



Gambar 6.17. Fungsi camber

Perpanjangan garis tengah roda akan bertemu pada permukaan jalan “0” sehingga roda akan cenderung menggelinding mengelilingi titik “0” ( rolling camber )

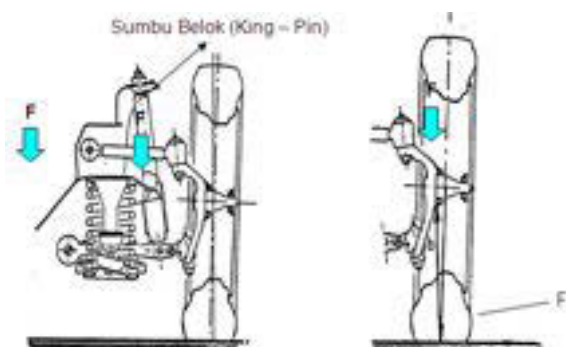
Dengan adanya rolling camber, gaya untuk memutar kemudi menjadi lebih ringan. *Camber positif* menyebabkan pengemudian menjadi ringan

Penggunaan :

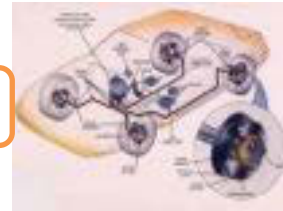
Hampir semua jenis kendaraan

### Letak Beban Pada Spindel

*Camber positif*



Gambar 6.18. Letak beban spindel camber positif



Keterangan :

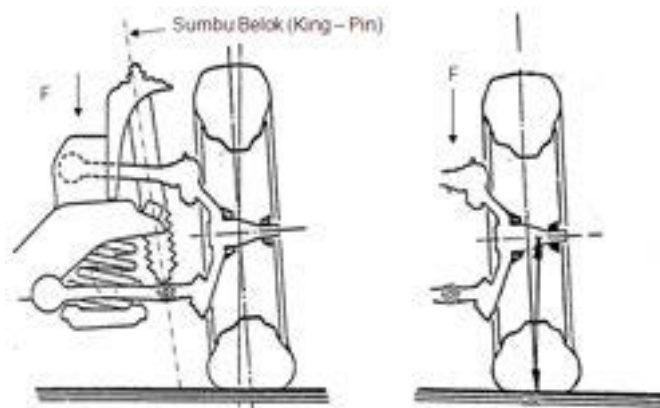
$F$  = Gaya berat kendaraan

$F_r$  = Gaya reaksi ( gaya tegak lurus )

Pada camber positif gaya reaksi ( gaya tegak lurus ) pada poros roda ( spindel ) mendekati sumbu belok kendaraan ( king - pin )

*Camber positif dapat memperkecil momen bengkok spindel*

*Camber Negatif*



Gambar 6.19. Letak beban spindel camber negatif

Keterangan :

$F$  = Gaya berat kendaraan

$F_r$  = Gaya reaksi ( gaya tegak lurus )

Pada camber negatif gaya reaksi ( gaya tegak lurus ) pada poros roda ( spindel ) menjauhi sumbu belok roda ( king – pin )

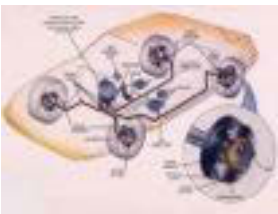
**Camber negatif dapat memperbesar momen bengkok spindel**

Besar Sudut dan Perbedaan Sudut Camber

**Besar Sudut Camber :**

Besar sudut camber umumnya :  $-1^{\circ} \div 3^{\circ}$

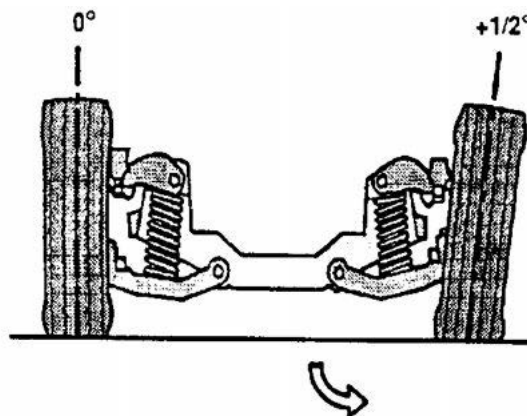
Besar sudut camber yang sering dipakai :  $0^{\circ} \div 1^{\circ}$



## Chassis Management System (CMS)

### Perbedaan Sudut Camber :

Yang dimaksud perbedaan sudut camber adalah perbedaan sudut camber kiri dan kanan. Perbedaan sudut camber yang diijinkan biasanya  $\pm \frac{1}{2}^\circ$  (30 menit).



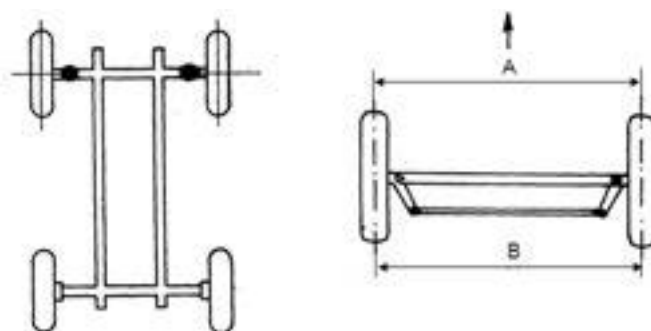
Gambar 6.20. Perbedaan camber kanan dan kiri

Rolling camber roda kiri menarik lebih kuat sehingga kendaraan berjalan cenderung ke arah kiri

### Toe Dan Sudut Belok

Selisih jarak antara roda bagian depan dengan roda bagian belakang jika dilihat dari atas kendaraan

### Toe – Nol ( 0 )



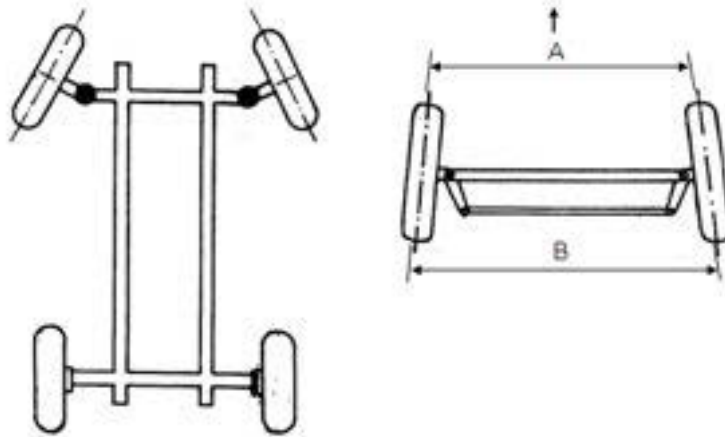
Gambar 6.21. Toe nol

Toe nol, roda kiri dan kanan pada posisi paralel

Jarak A = B



**Toe – In ( ToePositif )**



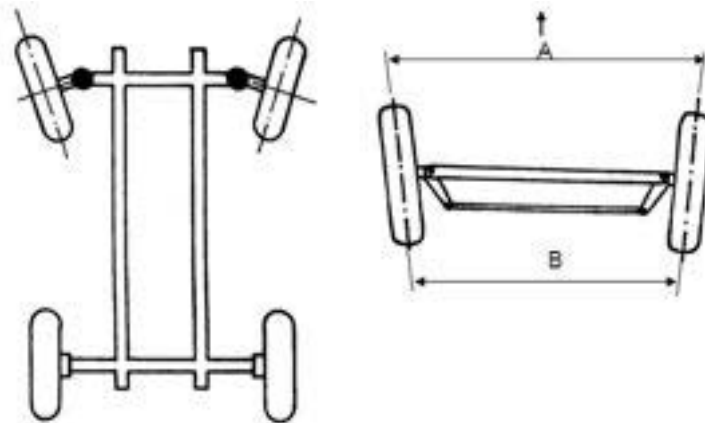
Gambar 6.22. Toe in (positif)

Roda bagian depan berada pada posisi saling mendekat

$$\text{Toe-in : } A < B$$

Disebut juga toe positif

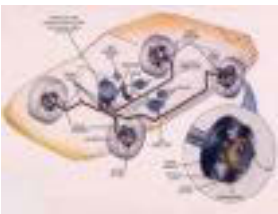
**Toe-Out ( Toe-Negatif )**



Gambar 6.23. Toe out (negatif)

Roda bagian depan berada pada posaisi saling menjauh

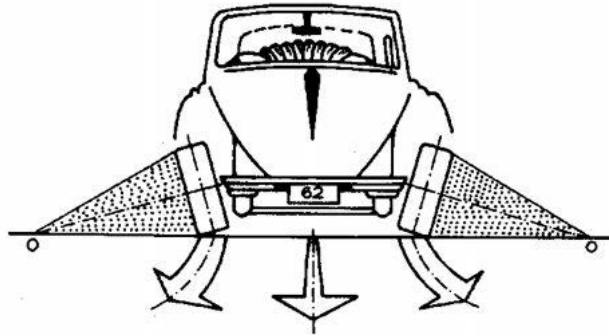
$$\text{Toe-out : } A > B$$



## Chassis Management System (CMS)

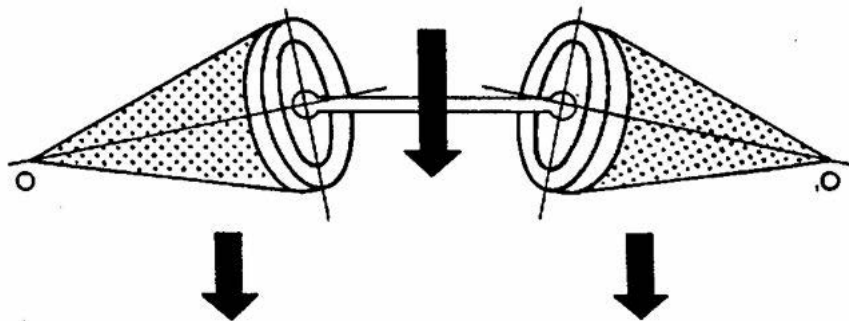
### Fungsi Toe

Sebagai Koreksi Camber ( Saat Jalan Lurus )



Gambar 6.24. Koreksi camber saat lurus

Reaksi rolling camber menyebabkan roda menggelinding ke arah luar oleh sambungan kemudi roda dipaksa bergerak lurus ke arah jalannya kendaraan. Akibatnya roda menggelinding dengan ban menggosok pada permukaan jalan



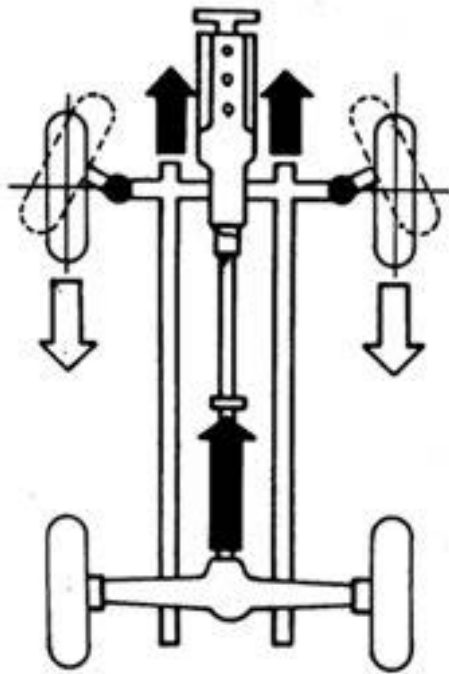
Gambar 6.25. Efek rolling camber

Reaksi toe-in mengakibatkan roda menggelinding ke arah dalam, sehingga efek rolling camber ke arah luar dapat diatasi sehingga roda dapat menggelinding lurus tanpa terjadi ban menggosok pada permukaan jalan, sehingga dapat :

- Menghemat ban / keausan ban merata
- Pengemudian stabil / tidak timbul getaran



**Sebagai Koreksi Gaya Penggerak**



⇒ **Mobil dengan penggerak roda belakang**

Gaya penggerak dari aksel belakang diteruskan ke aksel depan melalui rangka

Reaksi tahanan gelinding ban roda depan yang mengarah ke belakang menyebabkan roda bagian depan cenderung bergerak ke arah luar

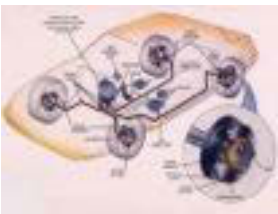
Untuk mengatasi reaksi roda bagian depan cenderung bergerak ke arah luar perlu penyetelan

**Toe in ( Toe positif )**

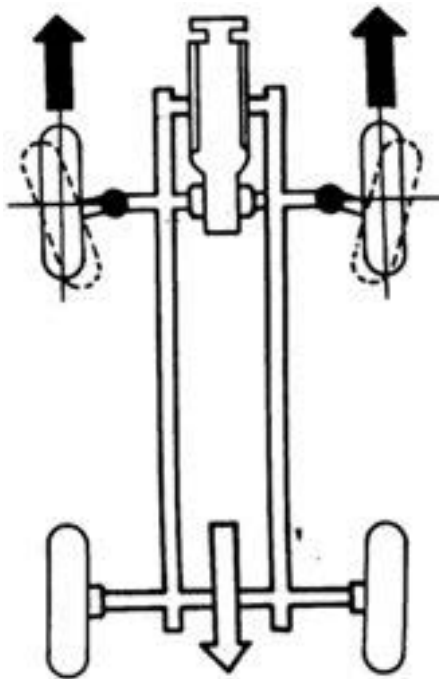
**Penyetelan toe-in umumnya :**

**0 + 5 mm**





## Chassis Management System (CMS)



⇒ **Mobil dengan penggerak roda depan**

Gaya penggerak diteruskan ke aksel belakang melalui rangka

Reaksi tahanan gelinding roda belakang yang mengarah ke belakang menyebabkan roda depan bagian depan cenderung bergerak ke arah dalam

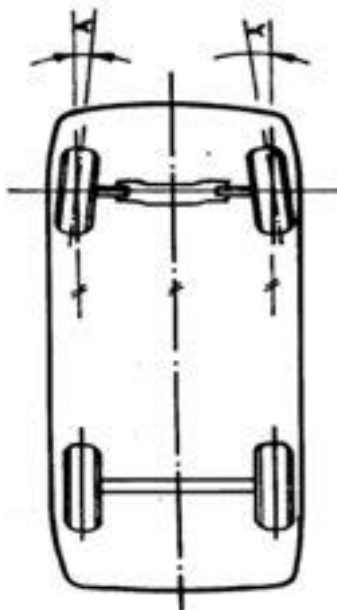
Untuk mengatasi reaksi roda depan bagian depan cenderung bergerak ke arah dalam perlu penyetelan :

**Penyetelan toe – out umumnya :**

**0 ÷ 2 mm**

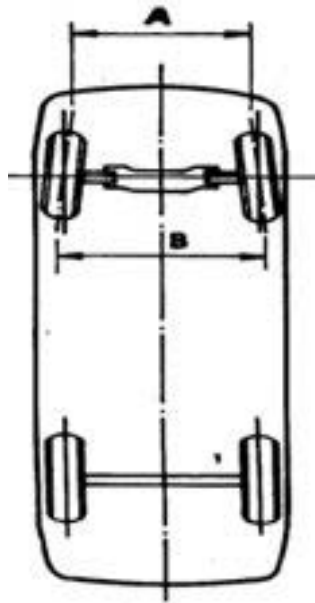
Gambar 6.26. Penggerak roda belakang dan depan

### Ukuran Toe



### Ukuran Toe Dalam Derajat

Toe diukur dari sudut roda terhadap aksis memanjang kendaraan ( $\alpha$ )



### Ukuran Toe Dalam mm Dan Inchi

Toe diukur / diperhitungkan dalam satuan jarak

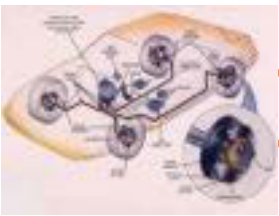
Yaitu selisih jarak roda bagian depan dengan jarak roda bagian belakang (  $A < B$  )

Gambar 6.26. Ukuran toe dalam derajat dan milimeter

Ukuran Toe tiap – tiap kendaraan berbeda ( lihat buku manual )

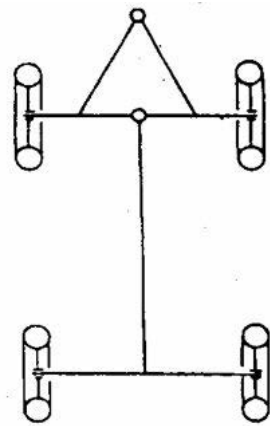
### Sudut Belok

Sudut belok adalah sudut roda untuk membelokkan kendaraan, dalam hal ini dilayani oleh sistem sambungan kemudi



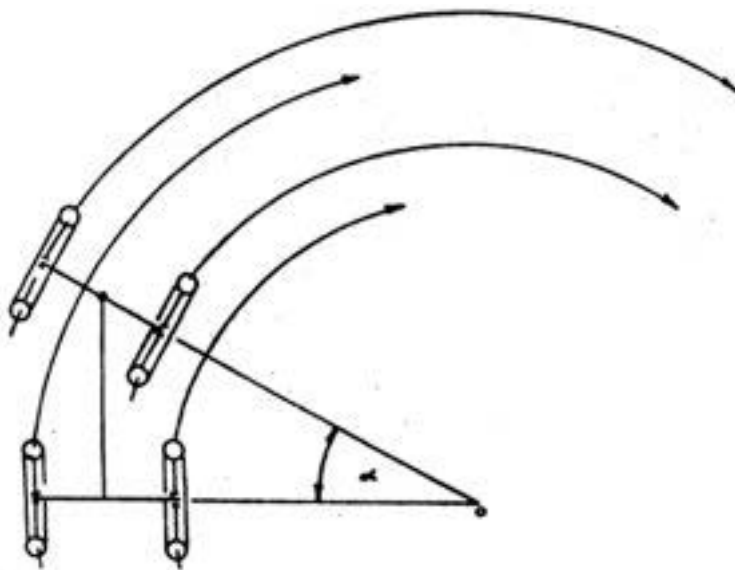
## Chassis Management System (CMS)

Ada berapa permasalahan pada konstruksi sistem sambungan kemudi :



### Kemudi kling-pin

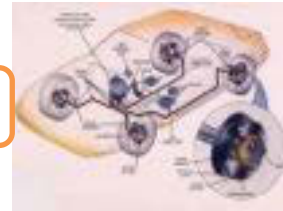
Lengan kemudi menggerakkan aksel berputar pada titik pusatnya



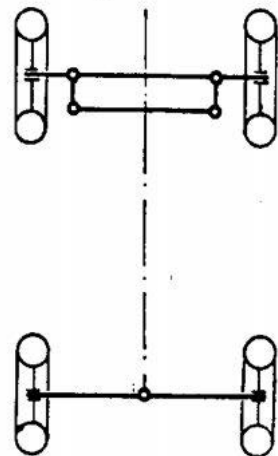
Gambar 6.27. Kemudi King-pin

Sudut belok roda kiri sama dengan sudut belok roda kanan

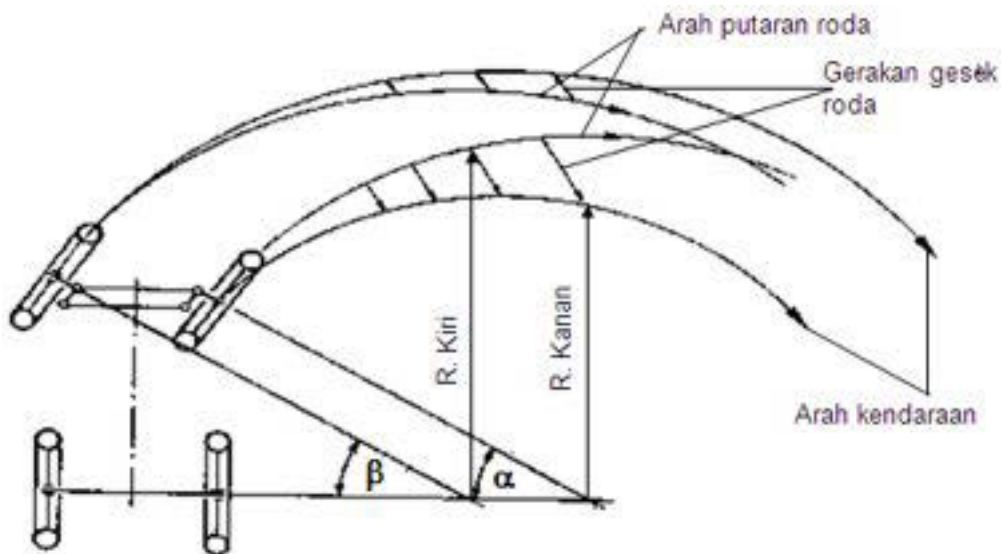
- Tidak digunakan pada mobil penumpang karena konstruksi, kendaraan menjadi tinggi
- Biasa digunakan pada kereta gandeng ( truk gandeng )



Kemudi Lengan Paralel



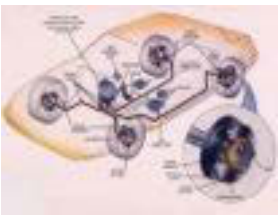
Lengan kemudi paralel :



Gambar 6.28. Sambungan kemudi lengan paralel

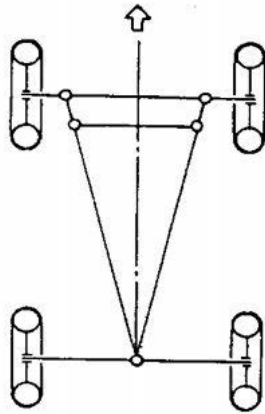
Sudutbelokrodakiri ( $\beta$ ) samadengansudutbelokrodakanan ( $\alpha$ )

Dengan sudut belok yang sama tidak didapatkan titik pusat lingkaran belok yang terpusat akibatnya terjadi gesekan antara ban dengan permukaan jalan



## Chassis Management System (CMS)

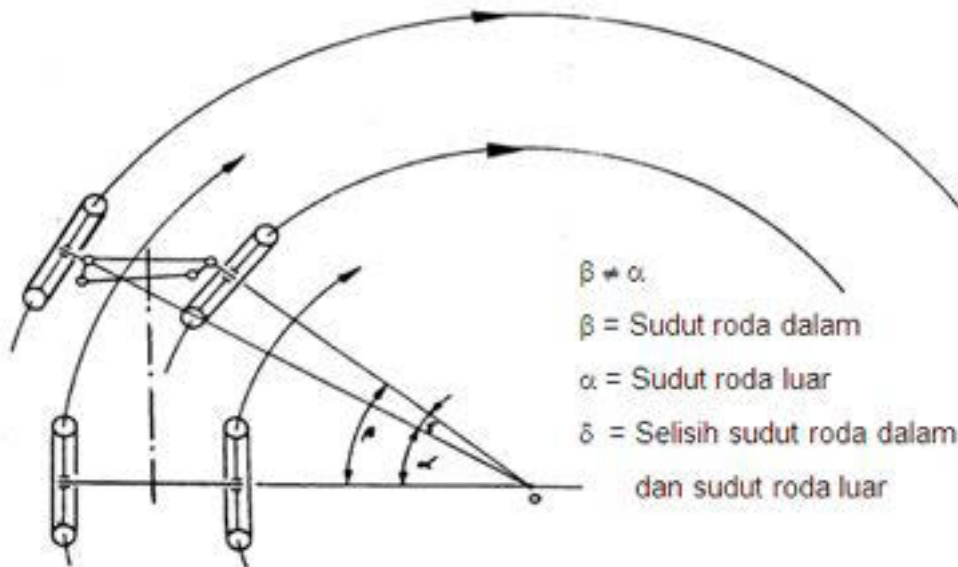
### Kemudi Lengan Trapesium



Lengan kemudi Trapesium ( prinsip Acherman Janteau )

Saat belok :

Sudut belok roda kiri  $f$  sudut belok roda kanan



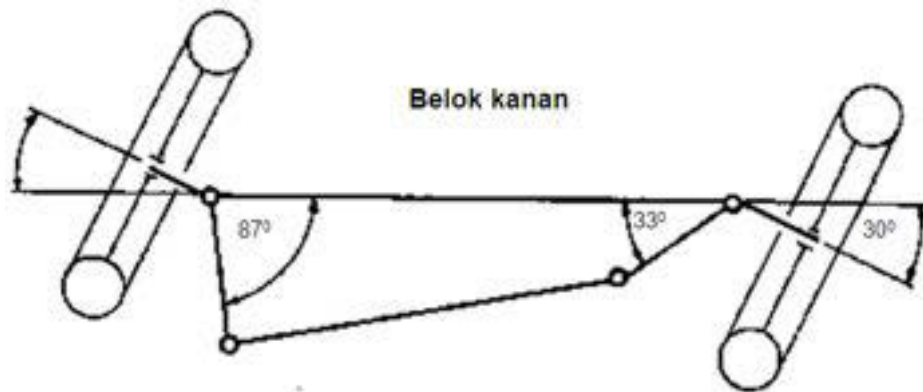
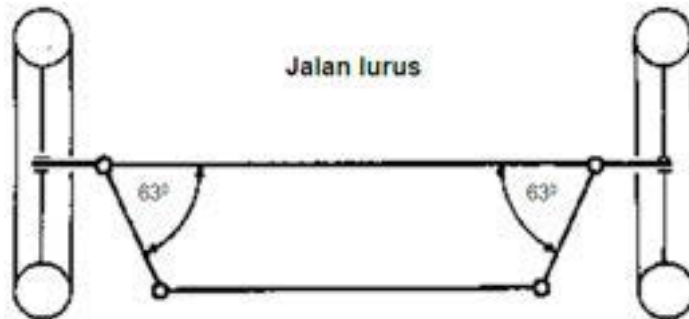
Gambar 6.29. sambungan kemudi lengan trapesium

Dengan prinsip Acherman Janteau didapatkan titik pusat lingkaran belok semua roda yang terpusat sehingga kendaraan dapat membelok dengan baik tanpa menimbulkan gesekan antara ban dengan permukaan jalan.

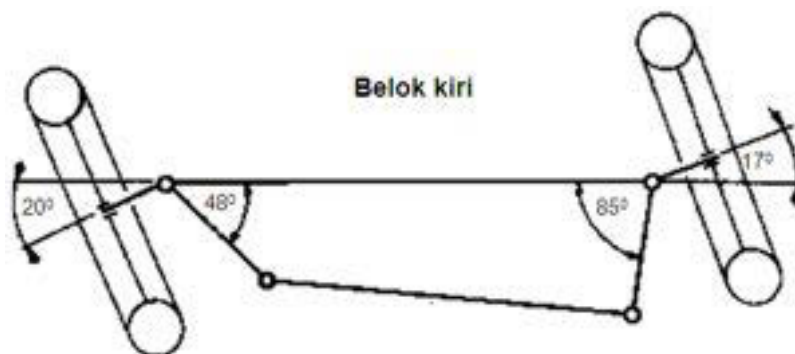
Konstruksi ini digunakan pada setiap kendaraan



Contoh Perbedaan Sudut Belok ( Lengan Trapesium )

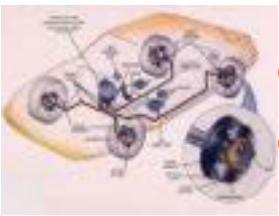


Sudut belok kanan > sudut belok kiri



Sudut belok kiri > sudut belok kanan

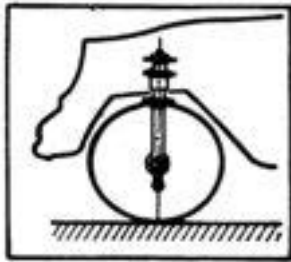
Gambar 6.30. Perbedaan belok kemudi lengan trapesium



## Chassis Management System (CMS)

### Caster

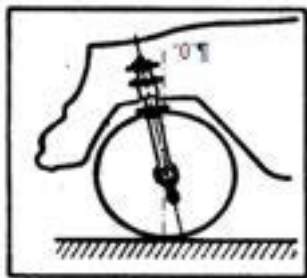
Kemiringan sumbu putar kemudi ( king pin ) terhadap garis tengah roda vertikal jika dilihat dari samping kendaraan



Gambar 6.31. Caster nol

### Caster Nol

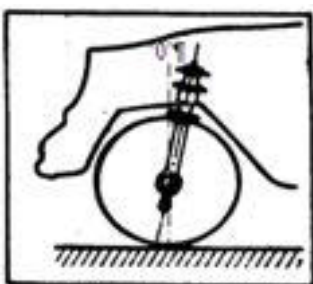
Tidak ada kemiringan pada sumbu king-pin terhadap garis tengah roda vertikal "0"



Gambar 6.32 Caster negatif

### Caster Negatif ( - )

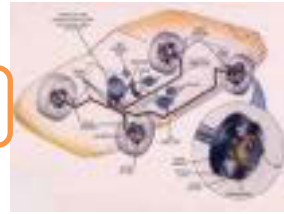
Bagian atas sumbu king-pin berada di depan garis tengah roda vertikal " 0 " dan bagian bawah sumbu king pin berada di belakang



Gambar 6.33. Caster positif

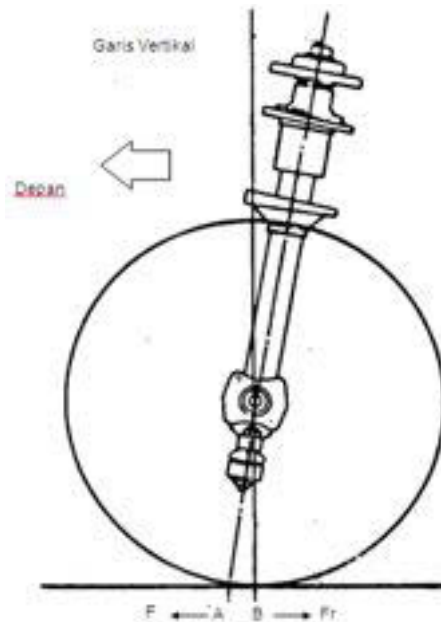
### Positif ( + )

Bagian atas sumbu king-pin berada di belakang garis tengah roda vertikal " 0 " dan bagian bawah sumbu king-pin berada di depan



### Fungsi Caster

Saat Jalan Lurus



Gambar 6.34. Fungsi caster saat lurus

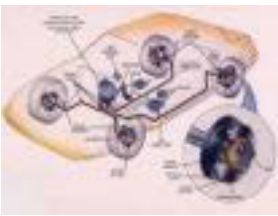
$F$  = Gaya penggerak

$Fr$  = Gaya reaksi ( yang digerakkan )

Gaya penggerak  $F$  bekerja pada titik A dan menarik roda ( yang digerakkan ) di titik B. Tahanan gelinding roda memberikan perlawanan (reaksi) yang arahnya berlawanan ( $Fr$ ). Dengan demikian reaksi gaya gelinding roda yang ditarik akan selalu segaris dan arahnya berlawanan dengan arah gaya, penggerak.


*Saat jalan lurus, caster berfungsi menggerakkan roda tetap stabil dalam posisi lurus walau roda kemudi dilepas*





## Chassis Management System (CMS)

Saat belok



Gambar 6.35. Fungsi caster saat belok

### **Spindel bergerak naik**

Badan mobil kanan bergerak turun dan camber berubah ke arah negatif

### **Spindel bergerak turun**

Badan mobil kiri bergkerak naik camber berubah ke arah positif

*Dengan berubahnya camber roda luar ke arah negatif → ban menopang pada permukaan jalan dengan baik. ( Tidak mudah slip keluar radius jalan ).*

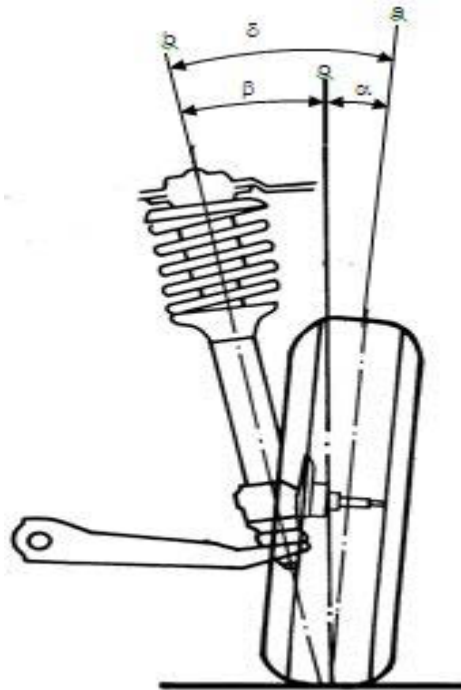
Besar sudut caster dan perbedaan yang diijinkan

Sudut caster umumnya :  $3^{\circ} - 8^{\circ}$  (  $1^{\circ} - 10^{\circ}$  )

Perbedaan yang diijinkan antara roda kiri dan kanan :  $30'$  ( 30 menit )



**Sudut King – Pin Dan Offset**



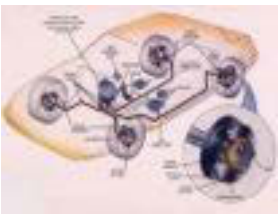
Gambar 6.36. Sudut King-pin dan Offset

Keterangan :

- $\underline{0}$  = Garis vertikal
- $\underline{\beta}$  = Sudut king-pin
- $\underline{\alpha}$  = Sudut camber
- $b$  = Sumbu king-pin
- $a$  = Sumbu roda
- $\delta$  = Sudut camber ditambah

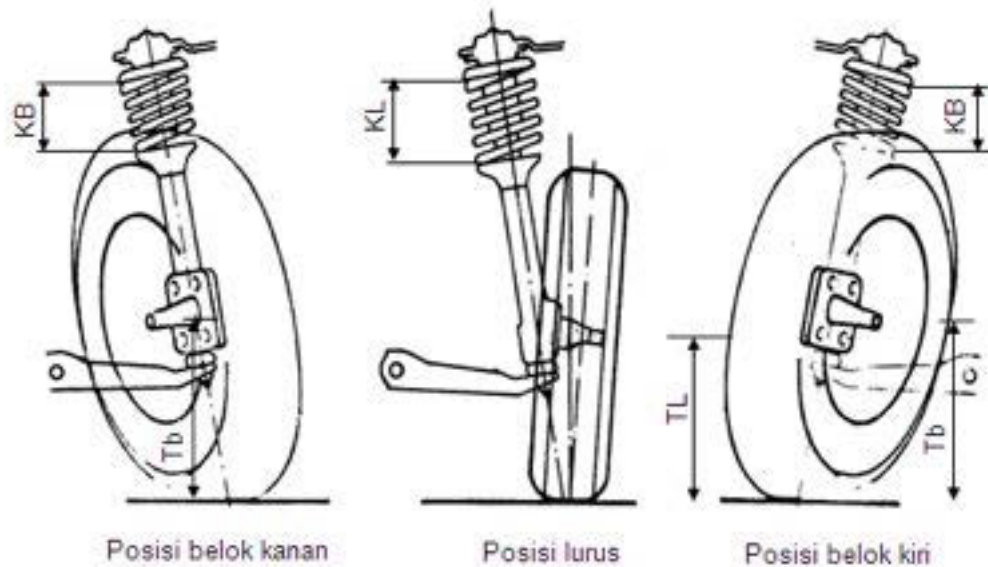
Sudut king-pin  
(Included engle)

Sudut king-pin adalah : Kemiringan sumbu king – pin terhadap garis vertikal jika dilihat dari depan kendaraan



## Chassis Management System (CMS)

### Fungsi Sudut King – Pin



Gambar 6.37. Fungsi sudut kingpin

TL = Tinggi saat posisi lurus

KL = Panjang pegas saat lurus

Tb = Tinggi saat belok

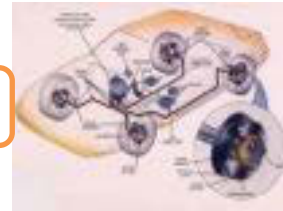
KB = Panjang pegas saat belok

Perhatikan pada gambar pada saat belok kanan king – pin terangkat ke atas dan saat belok kiri juga naik

Goresan ke atas king – pin diteruskan ke pegas dan body kendaraan ( melepas gaya berat kendaraan FW )

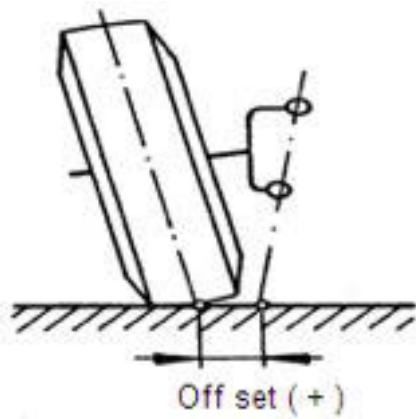
Perubahan tinggi king – pin menyebabkan gaya balik kemudi ke posisi lurus

**Sudut king – ping berfungsi untuk mengembalikan sikap roda ke posisi lurus setelah membelok**

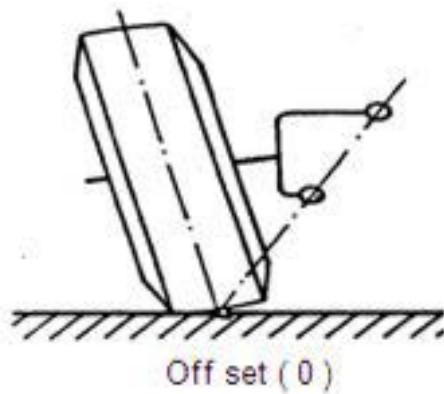


**Difinisi Offset :**

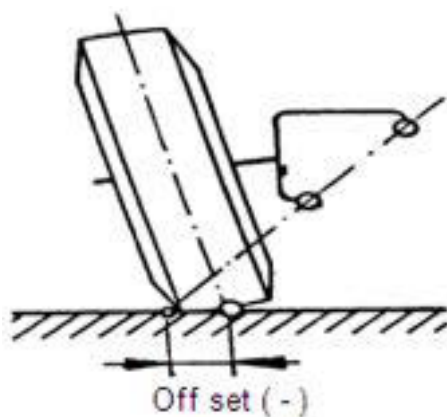
Jarak antara titik temu, garis tengah roda terhadap permukaan jalan dengan titik temu perpanjangan garis sumbu king – pin terhadap permukaan jalan disebut “ Off Set “



Offset positif

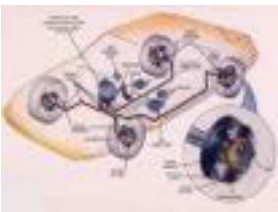


Off set nol



Off set negatif

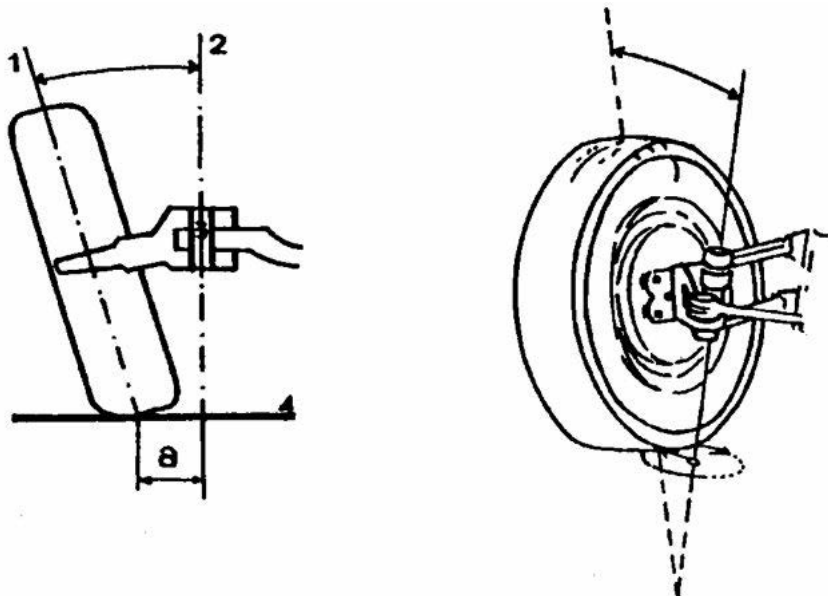
Gambar 6.38. Offset nol, negatif dan positif



## Chassis Management System (CMS)

### Pengaruh jarak offset

Offset positif

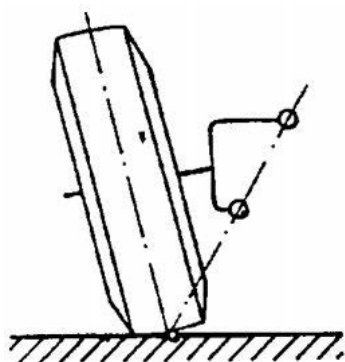


Gambar 6.39. Pengaruh jarak offset

Jarak offset diperlukan saat roda dibelokkan tidak terjadi ban menggosok pada permukaan jalan, karena roda akan bergerak mengelilingi sumbu king – pin.

Pada kendaraan hanya diperlukan sedikit offset, jika offset besar pengemudian terasa berat dan getaran cukup kuat

Offset nol

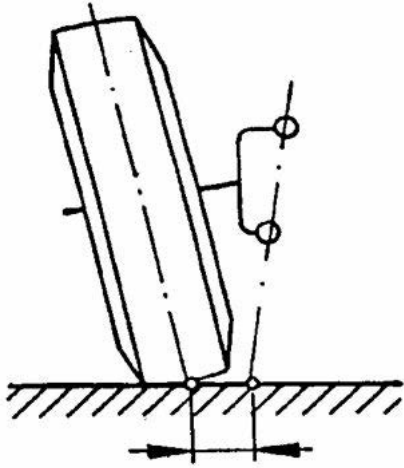


Jika offset nol, pada saat roda dibelokkan terjadi ban menggosok pada permukaan jalan, karena sumbu putar kemudi ( king – pin ) tepat pada garis simetris ban

Gambar 6.40. Offset nol



Offset Positif Saat Di Rem

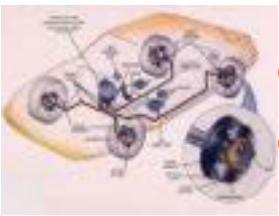


Offset “ + “ ( positif )

Gambar 6.41. Offset positif

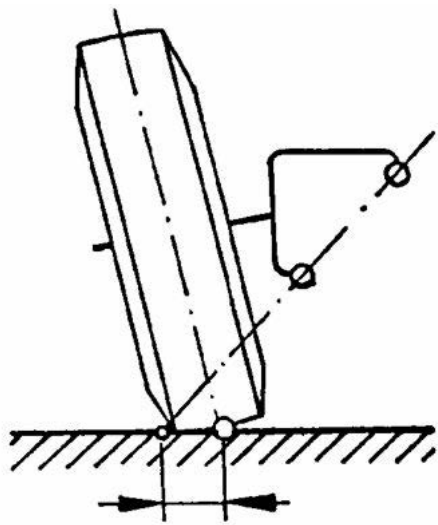
Pada kondisi jalan yang jelek / koefisien gesek roda kiri dan kanan tidak sama, kendaraan akan cenderung membelok saat di rem

	Daya rem Roda depan	Reaksi pengereman	Reaksi roda depan	Reaksi ke- daraan
Jalan Kering	$\mu$ Besar ←			
Offset Positif				
Jalan Basah	$\mu$ Kecil ←			



## Chassis Management System (CMS)

Offset Negatif Saat Di Rem



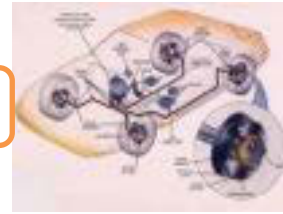
Offset " - " ( negatif )

Gambar 6.42. Offset negatif

	Daya rem Roda depan	Reaksi pengereman	Reaksi roda depan	Reaksi ke daraan
Jalan Kering	$\mu$ Besar ←			
Offset Negatif				
Jalan Basah	$\mu$ Kecil ←			

Sifat pengereman dapat dikurangi biasanya bila koefisien gesek tidak sama atau lewat pada jalan yang jelek

Kendaraan tetap berjalan lurus saat di rem



### 6.2.3. Rangkuman :

- ✓ *Fungsi Camber* adalah menyebabkan pengemudi menjadi ringan dan memperkecil momen bengkok spindle.
- ✓ *Besar Sudut Camber* :  
Besarnya sudut camber umumnya :  $-1^{\circ} \div 3^{\circ}$   
Besarnya sudut camber yang sering dipakai :  $0^{\circ} \div 1^{\circ}$
- ✓ *Fungsi caster* adalah untuk menggerakkan roda tetap stabil dalam posisi lurus walau roda kemudi dilepas dan untuk menjaga ban menopang pada permukaan jalan dengan baik. ( Tidak mudah slip keluar radius jalan ).
- ✓ Besarnya sudut caster dan perbedaan yang diijinkan :  
Sudut caster umumnya :  $3^{\circ} - 8^{\circ}$  (  $1^{\circ} - 10^{\circ}$  )  
Perbedaan yang diijinkan antara roda kiri dan kanan :  $30'$  ( 30 menit )
- ✓ *Fungsi Toe* adalah sebagai koreksi terhadap camber sehingga efek rolling camber ke arah luar dapat diatasi dan roda dapat menggelinding lurus tanpa terjadi ban menggosok pada permukaan jalan serta sebagai koreksi terhadap gaya penggerak.
- ✓ Penyetelan toe-in umumnya :  $0 + 5$  mm dan penyetelan toe – out umumnya :  $0 \div 2$  mm
- ✓ *Fungsi Sudut king – ping* untuk mengembalikan sikap roda ke posisi lurus setelah membelok

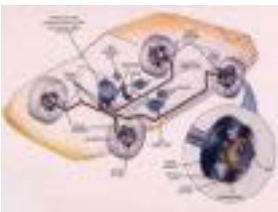
### 6.2.4. Tugas :

Amati unjuk kerja dari sikap geometri roda pada kendaraan. Diskusikan pengaruh/fungsi dari sikap geometri roda tersebut !

### 6.2.5. Tes Formatif :

- 1) Jelaskan fungsi camber !
- 2) Jelaskan fungsi caster !
- 3) Jelaskan fungsi toe !
- 4) Jelaskan fungsi Inklinasi King-pin !
- 5) Berapa besaran secara umum untuk sudut caster dan perbedaan yang diperbolehkan !





## Chasis Management System (CMS)

### 6.2.6. Lembar Jawaban Tes Formatif :

- 1) *Fungsi Camber* adalah menyebabkan pengemudi menjadi ringan dan memperkecil momen bengkok spindle.
- 2) *Fungsi caster* adalah untuk menggerakkan roda tetap stabil dalam posisi lurus walau roda kemudi dilepas dan untuk menjaga ban menopang pada permukaan jalan dengan baik. ( Tidak mudah slip keluar radius jalan ).
- 3) *Fungsi Toe* adalah sebagai koreksi terhadap camber sehingga efek rolling camber ke arah luar dapat diatasi dan roda dapat menggelinding lurus tanpa terjadi ban menggosok pada permukaan jalan serta sebagai koreksi terhadap gaya penggerak.
- 4) *Fungsi Sudut king – ping* untuk mengembalikan sikap roda ke posisi lurus setelah membelok
- 5) Besar sudut caster dan perbedaan yang diijinkan :  
Sudut caster umumnya :  $3^{\circ} - 8^{\circ}$  (  $1^{\circ} - 10^{\circ}$  )

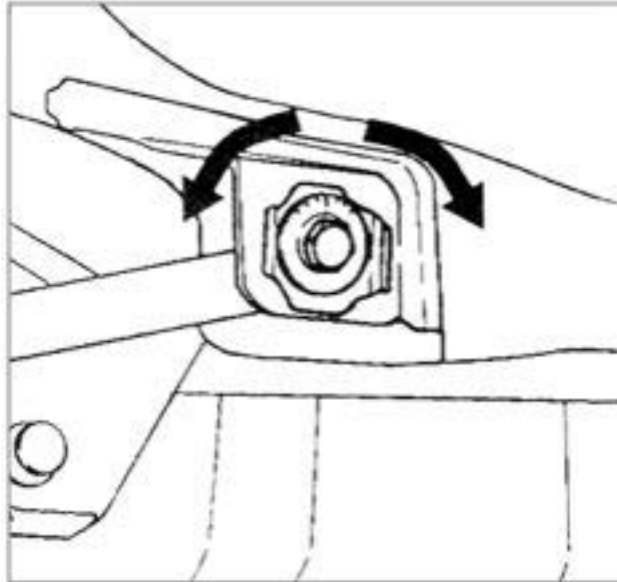
### 6.2.7. Lembar Kerja Siswa :

Catatan hasil pengamatan :

Sikap Geometri Roda	Pengaruh/Fungsi
Camber	
Caster	
Toe	
Inklinasi King-pin	



### 6.3. Kegiatan Pembelajaran : Letak Penyetelan Geometri Roda



Dengan mengamati gambar di atas, diskusikan jawaban dari pertanyaan berikut ini :

Untuk tujuan apa lengan suspensi dilengkapi baut pengikat yang memiliki konstruksi posisi kepala baut dapat disetel? Berikan penjelasan ?

---

---

---

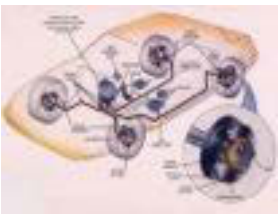
---

#### 6.3.1. Tujuan Pembelajaran :

Setelah selesai proses pembelajaran, siswa dapat :

- ✓ Menerangkan letak penyetelan sikap geometri rodakendaraan
- ✓ Menjelaskan prosedur penyetelan macam-macam sikap geometri rodakendaraan

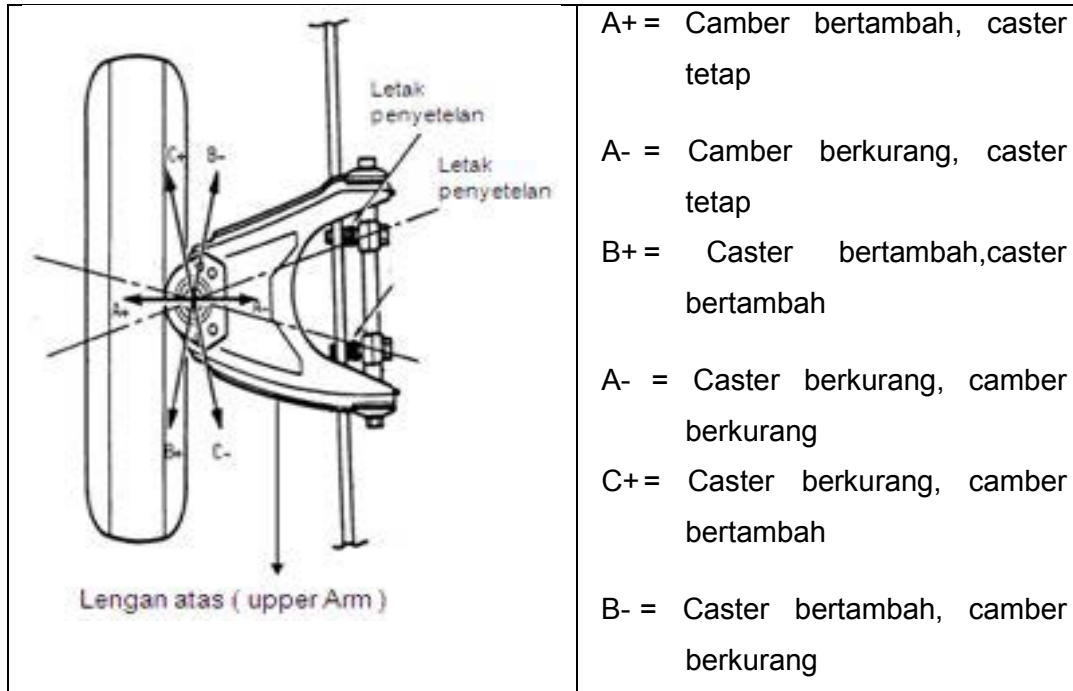
#### 6.3.2. Uraian Materi :



## Chassis Management System (CMS)

### Letak Penyetelan Geometri Roda

Penyetelan camber dan caster pada Suspensi Wishbone



Gambar 6.43. Penyetelan camber dan caster pada suspensi wishbone

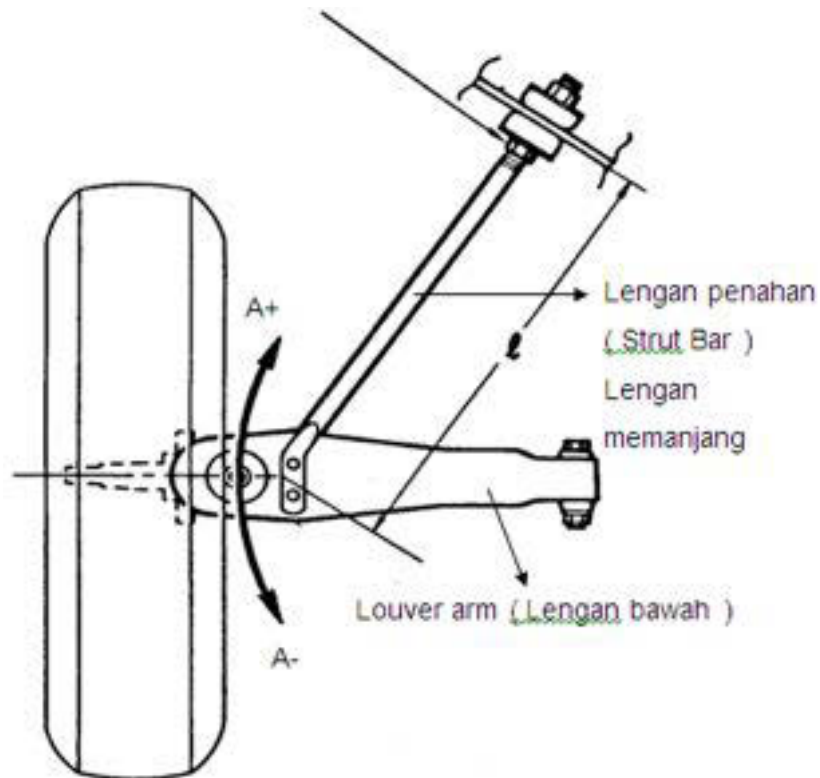
**Penyetelan camber:** dengan menggunakan shim. Caranya dengan menambah atau mengurangi shim depan dan belakang yang tebalnya sama.

**Penyetelan caster :** Dengan menambah atau mengurangi shim depan dan belakang yang tebalnya berbeda.

*Contoh :*

Toyota Kijang, Colt L-300, Toyota Hiace

Penyetelan caster pada lengan penahan Suspensi Mac Pherson



Gambar 6.44. Penyetelan caster pada suspensi Mc. Pherson

Penyetelan camber tidak ada, hanya ada penyetelan caster

*Caranya :*

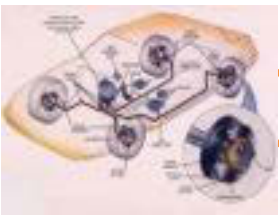
Dengan memendekkan atau menjangkan lengan penahan

A+ = Caster bertambah

A- = Caster berkurang

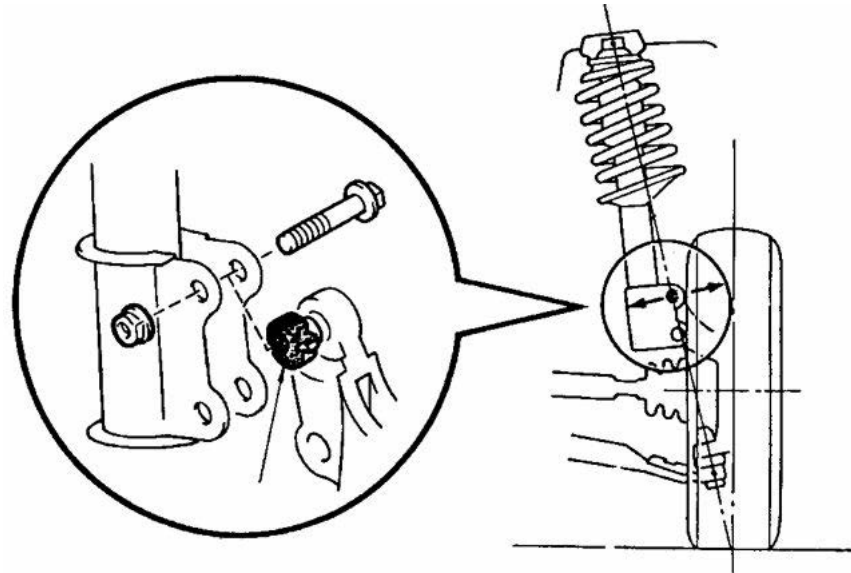
*Contoh :*

Honda Civic, Suzuki Carry, Daihatsu Zebra



## Chasis Management System (CMS)

Penyetelan camber pada pengikat nakel kemudi



Gambar 6.45. Penyetelan camber pada nakel kemudi

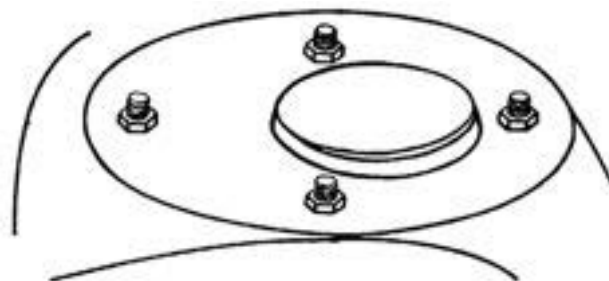
Penyetelan camber dilakukan dengan jalan memutar baut eksentrik pada pengikat nakel kemudi

*Contoh :*

Toyota Corolla GL, Corons dan Carina II

Penyetelan caster pada pengikatudukan sok absorber bagian atas

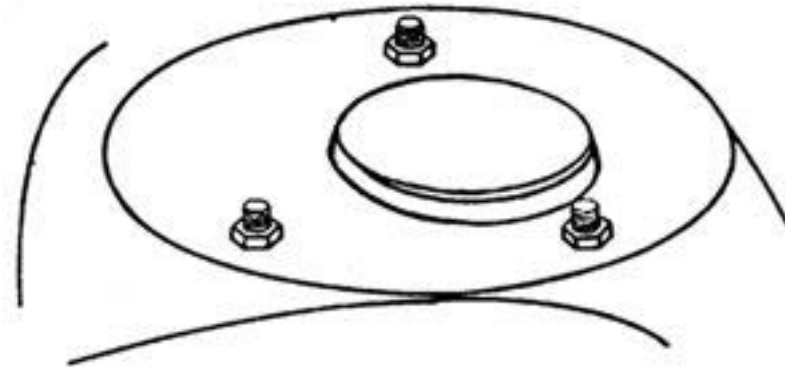
Camber dan Caster (Mazda)



Gambar 6.46. Letak penyetelan caster dan camber 4 baut

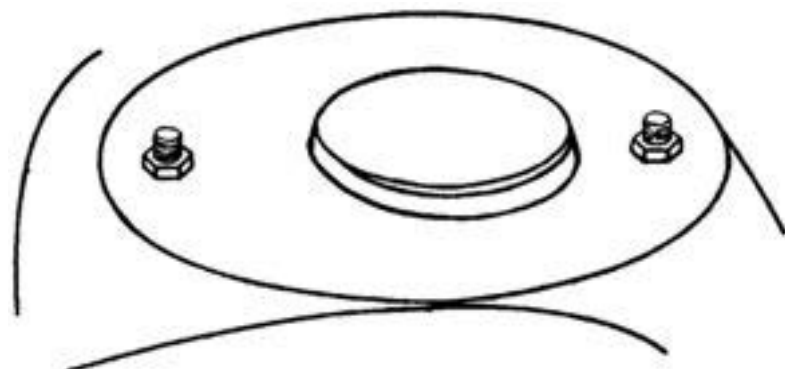


Caster (Starlet, Corolla GL)



Gambar 6.47. Letak penyetelan caster 3 baut

Camber (FORD Lazer)



Gambar 6.48. Letak penyetelan caster 2 baut

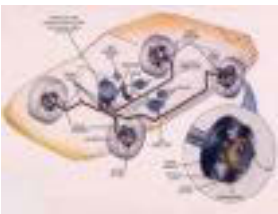
*Contoh* :Mazda, Penyetelan caster dapat dilakukan dengan jalan memutar atau memindah posisi baut pengikat sok breker pada dudukannya

### **Sistem Kemudi**

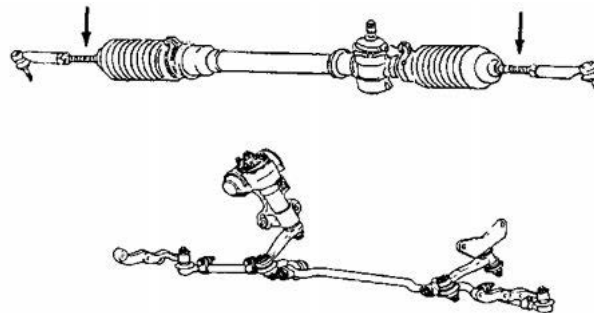
Letak penyetelan geometri roda pada sistem kemudi di bagian tie-rod ( Penyetelan Toe – in/Toe out )

*Cara penyetelan :*

Memutar tie rod kiri dan kanan serta penyetelannya pada dua Sambungan kemudi untuk suspensi independen

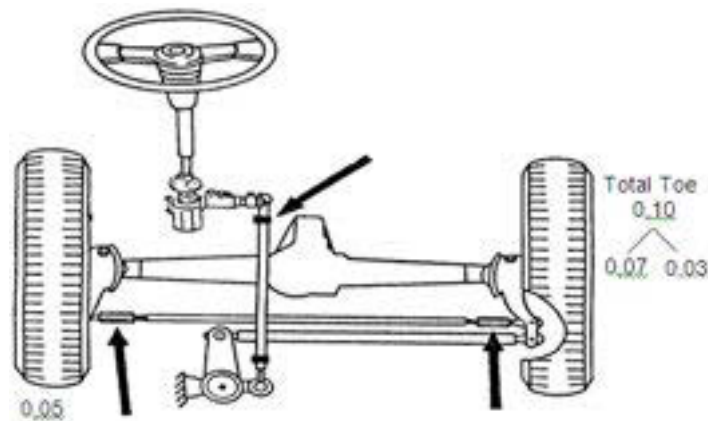


## Chassis Management System (CMS)



Gambar 6.49. Penyetelan toe pada suspensi independen

Sambungan kemudi pada aksel rigid

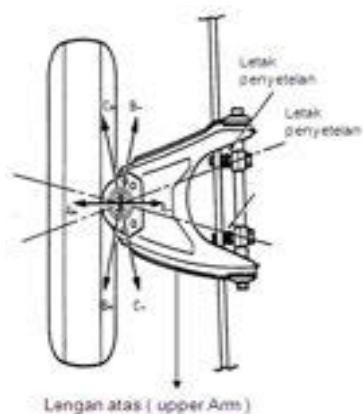


Gambar 6.50. Penyetelan toe pada suspensi rigid

### 6.3.3. Rangkuman :

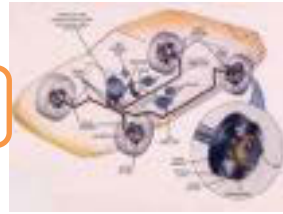
Letak penyetelan sikap geometri rod kendaraan

- 1) Penyetelan camber dan caster pada Suspensi Wishbone

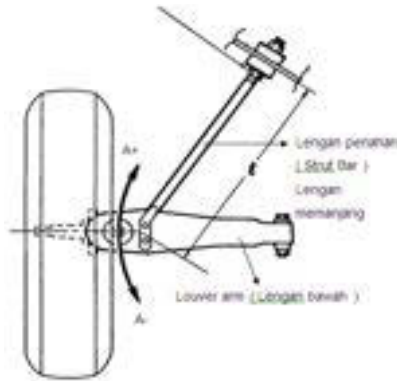


**Penyetelan camber:** dengan menggunakan shim. Caranya dengan menambah atau mengurangi shim depan dan belakang yang tebalnya sama

**Penyetelan caster :** Dengan menambah atau mengurangi shim depan dan belakang yang tebalnya berbeda



2) Penyetelan caster pada lengan penahan Suspensi Mac Pherson

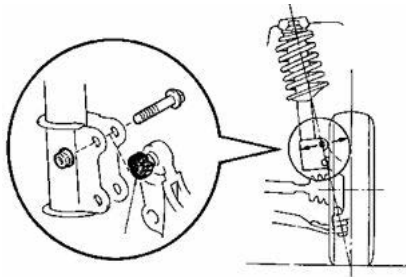


Prosedur penyetelan dengan memendekkan atau menjangkan lengan penahan.

A+ = Caster bertambah

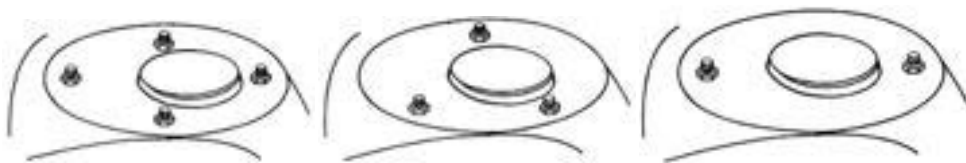
A- = Caster berkurang

3) Penyetelan camber pada pengikat nakel kemudi



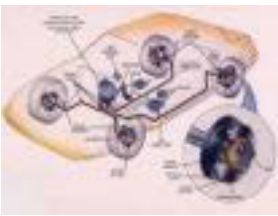
Penyetelan camber dilakukan dengan jalan memutar baut eksentrik pada pengikat nakel kemudi

4) Penyetelan caster pada pengikat dudukan sok absorber bagian atas



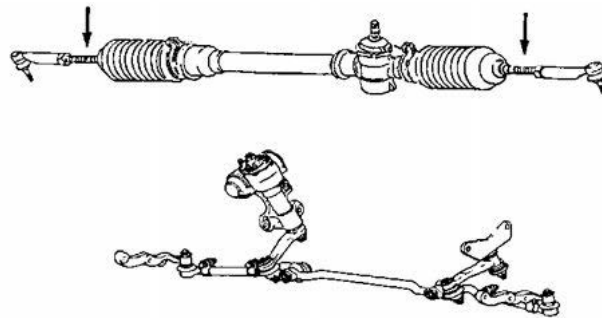
Penyetelan caster dapat dilakukan dengan jalan memutar atau memindah posisi baut pengikat sok breker padaudukannya.





## Chassis Management System (CMS)

### 5) Penyetelan Toe pada sistem kemudi



Penyetelan dilakukan dengan memutar tie rod kiri dan kanan serta penyetelannya pada dua Sambungan kemudi untuk suspensi independen

### 6.3.4. Tugas :

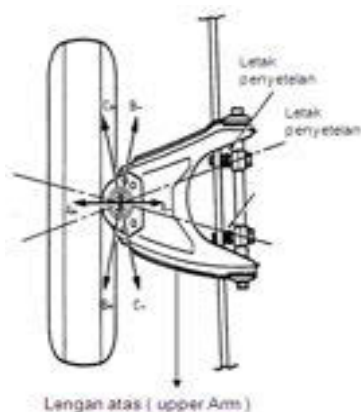
Lakukan pengamatan geometri roda pada kendaraan. Diskusikan letak-letak penyetelan sikap geometri roda dan jelaskan prosedur penyetelannya.

### 6.3.5. TesFormatif :

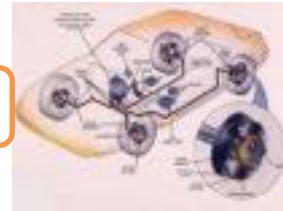
- 1) Jelaskan penyetelan camber dan caster pada Suspensi Wishbone !
- 2) Jelaskan penyetelan caster pada lengan penahan Suspensi Mac Pherson
- 3) Jelaskan penyetelan camber pada pengikat nakel kemudi !
- 4) Jelaskan penyetelan caster pada pengikat dudukan sok absorber bagian atas !
- 5) Jelaskan penyetelan Toe pada sistem kemudi !

### 6.3.6. Lembar Jawaban TesFormatif :

- 1) Penyetelan camber dan caster pada Suspensi Wishbone



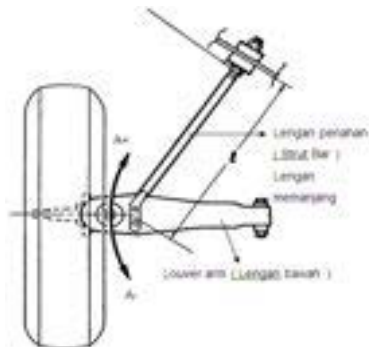
**Penyetelan camber:** dengan menggunakan shim. Caranya dengan menambah atau mengurangi shim depan dan belakang yang tebalnya sama



**Penyetelan caster :** Dengan menambah atau mengurangi shim depan dan belakang yang tebalnya berbeda

2) Penyetelan caster pada lengan penahan Suspensi Mac Pherson

Prosedur penyetelan dengan memendekkan atau menjangkan lengan penahan.

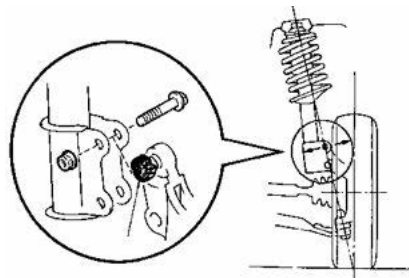


A+ = Caster bertambah

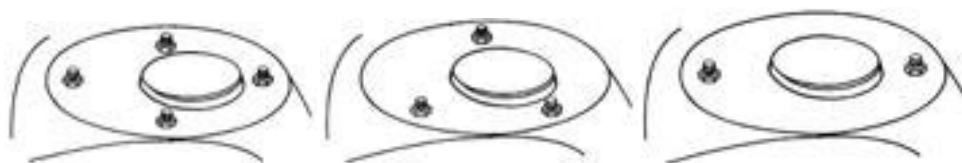
A- = Caster berkurang

3) Penyetelan camber pada pengikat nakel kemudi

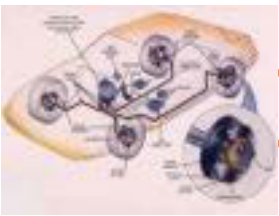
Penyetelan camber dilakukan dengan jalan memutar baut eksentrik pada pengikat nakel kemudi



4) Penyetelan caster pada pengikatudukan sok absorber bagian atas

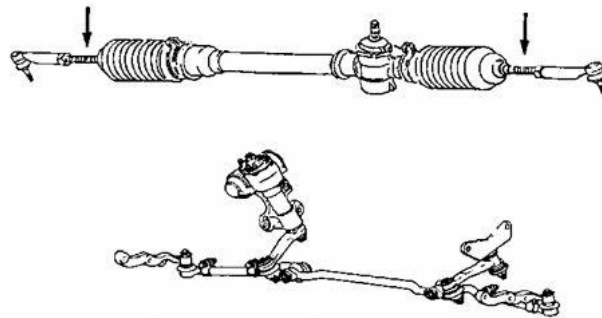


Penyetelan caster dapat dilakukan dengan jalan memutar atau memindah posisi baut pengikat sok breker padaudukannya.



## Chassis Management System (CMS)

### 5) Penyetelan Toe pada sistem kemudi



Penyetelan dilakukan dengan memutar tie rod kiri dan kanan serta penyetelannya pada dua Sambungan kemudi untuk suspensi independen

### 6.3.7. LembarKerjaSiswa :

Gambar Letak Penyetelan	Prosedur penyetelan



**BAB 7**  
**BAN**

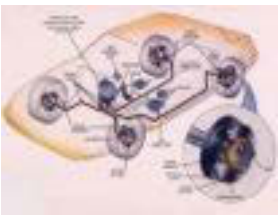
**7.1. Kegiatan Belajar : Ban**

Amatilah gambar berikut ini kemudian diskusikan apa arti kode yang tertera pada gambar potongan ban !




Amatilah gambar berikut ini kemudian diskusikan jenis kerusakan dan penyebabnya !

NO	JENIS KERUSAKAN	PENYEBAB KERUSAKAN
1	<p>.....</p>	
2	<p>.....</p>	



## Chassis Management System (CMS)

3		
---	---	--

### 7.1.1. Tujuan Pembelajaran

Setelah mempelajari materi ini siswa diharapkan dapat memahami tentang ban dan menyajikan data hasil pengamatan tentang jenis-jenis kerusakan ban dan penyebabnya.

### 7.1.2. Uraian Materi

#### A. Fungsi dan tuntutan ban

Ban merupakan bagian dari kendaraan yang langsung berhubungan dengan jalan. Dan berfungsi untuk menjamin kendaraan berjalan nyaman dan aman dengan mengurangi hambatan – hambatan gelinding roda.

Fungsi ban yang lain adalah sebagai berikut :


- Ban menopang seluruh berat yang ada pada kendaraan.
- Ban melakukan kontak langsung dengan permukaan jalan sehingga berfungsi menyalurkan tenaga dan menahan permukaan jalan melalui pengeran, juga dalam mengontrol awal start, akselerasi, berhenti dan berbelok arah.
- Ban meredam kejutan yang disebabkan oleh permukaan jalan yang tidak rata.

Karena pentingnya ban maka banyak sekali tuntutan – tuntutan yang harus dipenuhi oleh ban, antara lain :

1. Tuntutan dasar ( utama )




- a. Mampu menahan berat kendaraan dan muatan (arah atas dan bawah )



Gambar 7.1. Ban menahan beban kendaraan

- b. Mampu menahan gaya ( dorongan ) dari samping kiri dan kanan  
Contoh : Saat belok, zig – zag



Gambar 7.2. Ban menahan gaya samping

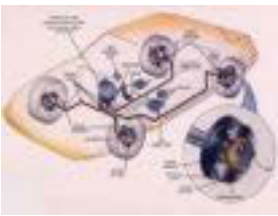
- c. Mampu menahan gaya memanjang  
Contoh : Saat pengereman



Gambar 7.3. Ban menahan gaya pengereman

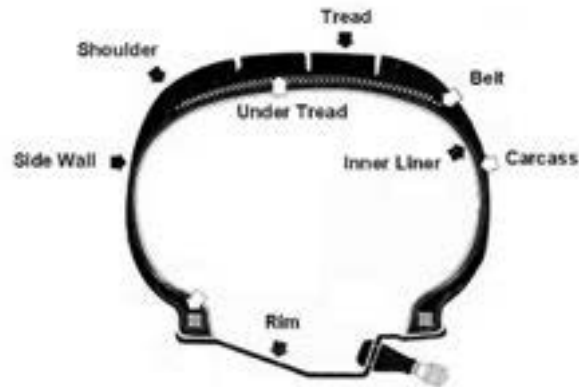
2. Tuntutan lain :

- a. Kemampuan traksi ( cengkram ) besar
- b. Tahanan gelinding kecil
- c. Dapat meredam getaran



## Chassis Management System (CMS)

### B. Nama-nama Bagian/Konstruksi :



Gambar 7.4. Bagian-bagian ban

#### **CARCASS**

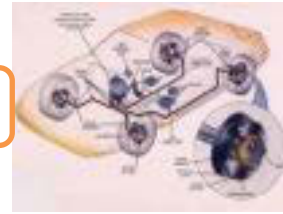
Adalah kawat yang dipasang dibagian dalam ban yang fungsinya untuk menahan berat dan menyerab benturan. Terdiri dari lapisan kawat ban yang dibungkus menyatu dengan karet. Kawat untuk ban bus dan truck biasanya terbuat dari bahan nylon atau baja, sedangkan untuk ban kendaraan penumpang yang dipakai adalah polyester atau nylon. Ban umumnya digolongkan berdasarkan arah kawat ban, ban radian dan ban bias.

#### **TREAD**

Tread atau biasa disebut tapak adalah bagian luar lapisan ban yang melindungi bagian kawat ban agar tidak rusak atau cepat. Bagian ini adalah daerah yang langsung kontak dengan permukaan jalam dan menghasilkan tahanan gesek yang menyalurkan laju kendaraan dan gaya pengereman ke jalan.

#### **SIDE WALL**

Side wall adalah lapisan karet yang melindungi sisi samping ban serta melindungi bagian kawat ban agar tidak rusak. Tanda yang ada disamping ban memuat informasi tentang ban yang digunakan beserta kapasitas daya angkutnya.



### **BREAKER**

Breaker, adalah lapisan fabrik antara lapisan kawat dan tapak ban, untuk memperkuat lapisan diantara keduanya, disamping untuk membantu mengurangi kejutan dari permukaan jalan ke lapisan kawat. Breaker biasanya digunakan untuk ban bias. Ban untuk bus, truck dan truck ringan menggunakan breaker bahan nylon, sedangkan untuk mobil penumpang menggunakan polyester.

### **BELT**

Ada jenis breaker yang digunakan untuk ban badial. Yang berputar mengelilingi ban antara carcass dan tread rubber, komponen ini terpasang dengan kuat pada carcass. Ban yang dipakai untuk mobil penumpang menggunakan rigid breakers yang terbuat dari baja, kawat rayon atau polyester, sedangkan untuk bus dan truck terbuat dari kawat baja.

### **BEADS**

Beads atau butiran pada ban mobil penumpang terbuat dari kawat baja kaku yang kuat. Pada saat ban berputar di jalan raya, ada gaya putar dari ban yang mencoba keluar lingkarannya. Untuk itulah bead ini berfungsi untuk menahan dengan kuat fixes the tyre to the rim by winding the end of cord. It is composed of bead wire and core rubber.

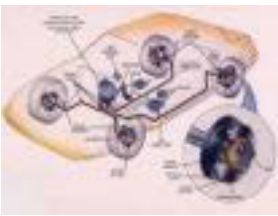
### **SHOULDER**

Shoulder atau bahu adalah bagian ujung dari tapak sampai ke bagian atas dinding samping ban.

### **INNER LINER**

Inner liner adalah lapisan karet anti air yang dipasang dibagian dalam ban fungsinya mirip sebagai tabung.






## Chasis Management System (CMS)

### C. Tread Pattern (Pola Tapak)

#### 1) Bentuk RIB



Gambar 7.5. Tapak ban bentuk RIB

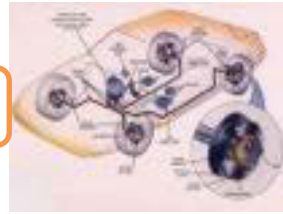
Bentuk polanya dibuat pada sekeliling lingkaran ban

- Tahanannya rendah terhadap putaran.
- Stabilitas dan laju kendaraan baik karena ban tidak menarik ke kanan dan ke kiri.
- Cocok untuk kecepatan tinggi karena panas yang ditimbulkannya rendah.
- Pengereman & tenaga putar kemudi lemah.
- Ban mudah pecah oleh adanya tekanan.
- Cocok untuk jalan beraspal, ban depan truck -bus.

#### 2) Bentuk LUG



Gambar 7.6. Tapak ban bentuk LUG



Pola bentuknya menudut ke arah kanan di sekeliling ban.

- Unggul dalam hal pengereman dan tenaga putar kemudi
- Noise pada kecepatan tinggi
- Tidak cocok untuk kecepatan tinggi karena tahanannya cukup kuat terhadap putaran.
- Cocok untuk jalan jelek, roda belakang bus, kendaraan industri, dump trucks.

### 2) Bentuk RIB-LUG

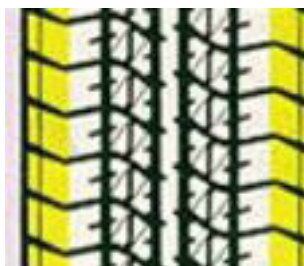


Gambar 7.7. Tapak ban bentuk RIB-LUG

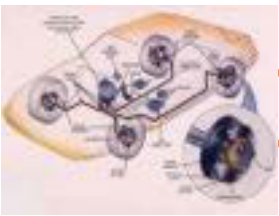
Adalah kombinasi bentuk RIB & LUG

- Tulang yang dipasang ditengah-tengah ban berfungsi untuk mencegah selip dan meningkatkan stabilitas kendaraan.
- Rug pada bahu ban membuat pengereman dan tenaga putar kemudi tetap baik.
- Cocok untuk jalan beraspal dan jelek. Biasanya dipakai untuk ban depan dan belakang truck dan bus.

### 3) Bentuk Blok



Gambar 7.8. Tapak ban bentuk blok



## Chassis Management System (CMS)

Berbentuk blok tersendiri dimana alur lekukannya berhubungan satu sama lainnya

- Sangat bagus dalam hal handling dan stabilitas di jalan yang dipenuhi air hujan dan salju.
- Mudah aus karena area bidang bannya cukup luas dan ditopang oleh groove (alur).
- Cocok untuk dipakai motorcar pada musim dingin dan semi. Cocok untuk roda belakang radial mobil biasa.

#### 4) Bentuk Pola Arah

Bentuk pola menyilang pada kedua sisi luar arah menghadapnya adalah sama.

- Tenaga pengereman baik.
- Dikarenakan adanya negative hydrotropic yang baik, maka pada saat hujan tingkatkestabilannya baik.
- Cocok untuk kecepatan tinggi.
- Ban motorcar untuk kecepatan tinggi.
- Tanda arah putaran ke depan dicap pada ban.

### D. Jenis-jenis Ban

1. Berdasarkan penggunaan ban dalam

#### a. Ban dengan ban dalam



Gambar 7.9. Tapak ban bentuk blok

Ciri-ciri :

- Mempunyai kode tube – type
- Pentil melekat pada ban dalam



**b. Ban tanpa ban dalam**



Gambar 7.10. Tapak ban bentuk blok

Ciri-ciri :

- Mempunyai kode tube less
- Pentil melekat pada pelek

2. Berdasarkan konstruksinya (Struktur Karkasnya)

**a. Ban Bias / Diagonal**

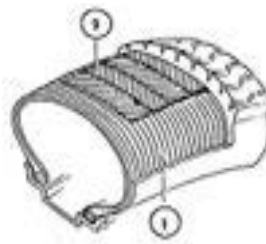


Gambar 7.11. Ban bias/diagonal

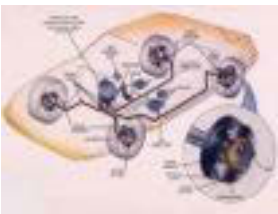
Ban bias atau ban diagonal disebut juga ban konvensional

Terdiri dari beberapa lapisan lilitan karkas yang ditenun  $30^{\circ}$   $\neq$   $60^{\circ}$  terhadap garis tengah ban

**b. Ban Radial**



Gambar 7.12. Tapak ban bentuk blok



## Chassis Management System (CMS)

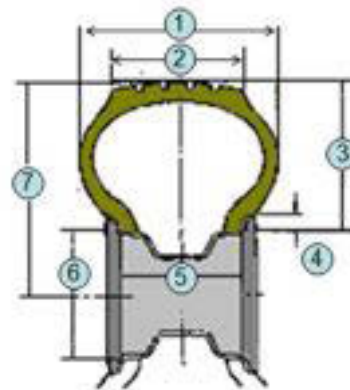
Konstruksi terdiri dari dua bagian pokok yaitu :

- Lilitan karkas ( 1 ) yang ditenun  $90^0$  terhadap garis tengah ban.
- Sabuk ban ( belt ) yang terdiri beberapa lapis, ditenun  $25^0 - 40^0$  terhadap garis tengah ban

### E. Ukuran Ban dan Aspek Ratio

#### 1. Ukuran Ban

- 1 = Lebar ban ( W )
- 2 = Leba telapak ban
- 3 = Tinggi ban ( H )
- 4 = Tinggi tanduk pelek
- 5 = Lebar pelek
- 6 =  $\varnothing$  Pelek
- 7 = Jari – jari roda

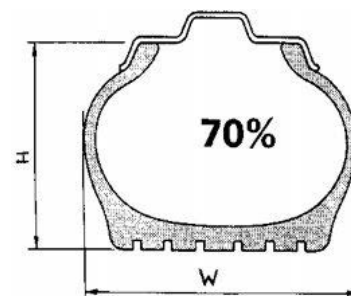


Gambar 7.13. Ukuran Ban

#### 2. Aspek Ratio

Aspek ratio adalah perbandingan tinggi ( H ) dan lebar ban ( W )

$$\text{Aspek ratio ( \% )} = \frac{\text{H ( tinggi ban )}}{\text{W ( lebar ban )}}$$



Gambar 7.14. Aspek Rasio

Besar aspek ratio sandart adalah  $\approx 80$

Saat ini aspek ratio telah dibuat sampai 45, tetapi pabrik ban di Indonesia baru memproduksi ratio ban sampai 60. Untuk aspek ratio rendah akan berdampak pengendalian kemudi lebih baik, kontak ban lebih besar, kontrol kemudi lebih baik , tetapi kurang nyaman.

Untuk aspek ratio besar akan berdampak pengendalian kemudi kurang baik, kontak ban lebih kecil, kontrol kemudi kurang baik , tetapi lebih nyaman.



## F. Kode ban (Tire Marking)

### 1. Ban Radial

Kode ban ditunjukkan pada dinding samping ban, kode-kode ini mempunyai arti. Berikut salah satu contohnya :



Gambar 7.15. Kode Ban Radial

Keterangan :

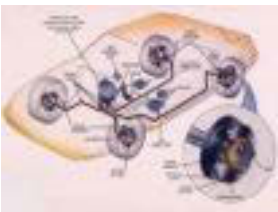
Lebar ban	: 185 mm
Aspek ratio	: 75%
Jenis Ban	: Radial
Diameter dalam ban	: 14 Inchi
Index Kecepatan	: S
Index Beban	: 82

### INDEX KECEPATAN (Speed Index)

Simbol kecepatan adalah tanda kecepatan aman yang bisa dicapai dengan syarat kondisi bandalam keadaan baik.

Umumnya rating kecepatan yang ditunjukkan dengan simbol huruf adalah sebagai berikut:

INDEX	SPEED	INDEX	SPEED
Q	160 Km/jam	U	200 Km/jam
R	170 Km/jam	H	210 Km/jam
S	180 Km/jam	V	240 Km/jam
T	190 Km/jam	W	270 Km/jam

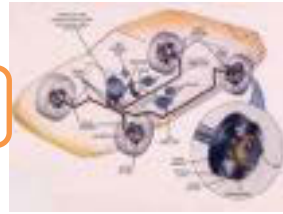


## Chasis Management System (CMS)

### INDEX BEBAN (Load Index)

Banyak ban yang memberikan informasi yang ditempatkan diakhir ukuran ban. Informasi ini terdiri dari suatu angka yang disebut dengan load index, dan huruf yang mengartikan speed rating. Load index adalah beban maksimal yang dapat ditopang oleh ban.

LOAD INDEX	KG	LOAD INDEX	KG	LOAD INDEX	KG
65	290	80	450	95	690
66	300	81	462	96	710
67	307	82	475	97	730
68	315	83	487	98	750
69	325	84	500	99	775
70	335	85	515	100	800
71	345	86	530	101	825
72	355	87	545	102	850
73	365	88	560	103	875
74	375	89	580	104	900
75	387	90	600	105	925
76	400	91	615	106	950
77	412	92	630	107	975
78	425	93	650	108	1000
79	437	94	670		



## 2. Ban Diagonal/Bias



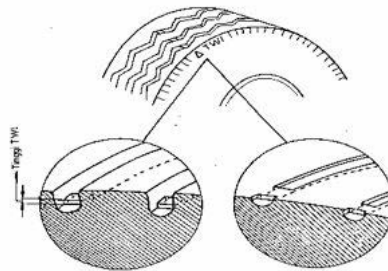
Gambar 7.16. Kode Ban Diagonal

### G. Fly Rating

Angka yang ditulis di depan Ply Rating bukan menunjukkan jumlah lapisan yang sebenarnya, tetapi menunjukkan angka kekuatan dari ban. Hal ini tergantung dari jenis bahan yang digunakan sebagai lapisannya

**Contoh :** Tertulis 16 PR, bahan dari baja yang terdiri satu lapisan (satu ply), kekuatannya sama dengan 16 plies ( ply ), jika bahannya terbuat dari cotton

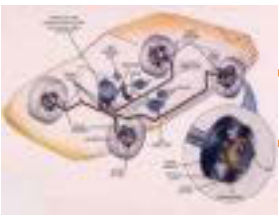
### H. Thread Wear Indicator (TWI)



Gambar 7.17. Thread wear Indicator

TWI adalah tanda atau indikator yang dipakai untuk menentukan tingkat keausan telapak ban. Tinggi TWI umumnya 1,5 s/d 2 mm diukur dari dasar telapak ban ( seperti gambar).





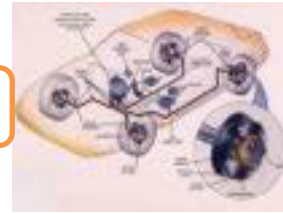
### I. INFORMASI TAMBAHAN

#### **PANAS YANG DITIMBULKAN OLEH BAN**

Selama karet, lapisan kawat dan bahan campuran lainnya yang dipakai pada ban tidak cukup elastis, maka ban akan lebih besar kehilangan topangan karena ban menyerap energi selama melentur sehingga menimbulkan panas. Selama bahan material ban yang dipakai mempunyai konduktor panas yang kurang, maka panas akan cepat timbul dan menumpuk di dalam material ban, sehingga menyebabkan temperatur di dalam ban menjadi tinggi. Panas yang tinggi dapat memperlemah balutan antara lapisan karet dan kawat ban, nantinya dapat menimbulkan lapisan menjadi terpisah atau ban meletus. Panas yang timbul di dalam ban bervariasi dipengaruhi oleh faktor tekanan ban, beban, kecepatan kendaraan, kedalaman kembang ban dan konstruksi ban. Untuk dapat selalu mengontrol kondisi tekanan ban, maka diperlukan peralatan yang disebut Tire Monitoring, sehingga setiap saat tekanan ban dapat dilihat.

#### 7.1.3. Rangkuman

1. Fungsi untuk menjamin kendaraan berjalan nyaman dan aman dengan mengurangi hambatan – hambatan gelinding roda
2. Tuntutan terhadap ban :
  - Mampu menahan berat kendaraan dan muatan (arah atas dan bawah )
  - Mampu menahan gaya ( dorongan ) dari samping kiri dan kanan
  - Mampu menahan gaya memanjang
  - Kemampuan traksi ( cengkram ) besar
  - Tahanan gelinding kecil
  - Dapat meredam getaran
3. Jenis ban berdasarkan penggunaan ban dalam dibagi menjadi dua yaitu : tube type dan tubeless type.
4. Jenis ban berdasarkan struktur karkasnya dibagi dua yaitu : ban radial dan ban diagonal (bias).



5. Ukuran yang dapat dilihat pada konstruksi ban antara lain : Lebar ban (  $W$  ), Lebar telapak ban, Tinggi ban (  $H$  ), Tinggi tanduk pelek, Lebar pelek,  $\varnothing$  Pelek, Jari – jari roda.
6. Aspek ratio adalah perbandingan tinggi ( $H$ ) dan lebar ban ( $W$ ).
7. Ply Rating bukan menunjukkan jumlah lapisan yang sebenarnya, tetapi menunjukkan angka kekuatan dari ban.
8. TWI adalah tanda atau indikator yang dipakai untuk menentukan tingkat keausan telapak ban.

### 7.1.4. Tugas

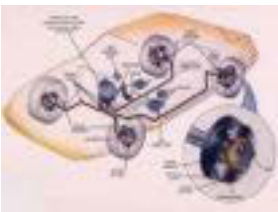
1. Lakukan pengamatan kode ban (ban diagonal dan ban radial) yang ada di kendaraan kemudian jelaskan apa maksudnya !
2. Lakukan pengamatan terhadap berbagai macam kerusakan ban dan simpulkan penyebabnya !

### 7.1.5. Tes Formatif

1. Jelaskan fungsi ban !
2. Berdasarkan fungsinya, sebutkan tuntutan ban !
3. Sebutkan klasifikasi ban berdasarkan konstruksi karkasnya !
4. Jelaskan pengertian aspek ratio !
5. Jelaskan pengertian Thread Wear Indicator (TWI) !

### 7.1.6. Lembar Jawaban Tes Formatif

1. Fungsi ban adalah untuk menjamin kendaraan berjalan nyaman dan aman dengan mengurangi hambatan – hambatan gelinding roda.
2. Tuntutan terhadap ban :
  - Mampu menahan berat kendaraan dan muatan (arah atas dan bawah )
  - Mampu menahan gaya ( dorongan ) dari samping kiri dan kanan
  - Mampu menahan gaya memanjang
  - Kemampuan traksi ( cengkram ) besar
  - Tahanan gelinding kecil
  - Dapat meredam getaran



## Chasis Management System (CMS)

3. Ban radial dan ban diagonal (bias).
4. Aspek ratio adalah perbandingan tinggi (H) dan lebar ban (W)
5. TWI adalah tanda atau indikator yang dipakai untuk menentukan tingkat keausan telapak ban.

### 7.1.7. Lembar Kerja Siswa

Catatan hasil identifikasi kode ban :

#### BAN RADIAL

<b>Kode ban</b>	.....		
Lebar ban	.....	mm	
Aspek rasio	.....	%	
Jenis ban	.....	-	
Diameter dalam ban	.....	Inchi	
Index Kecepatan	.....	Km/jam	
Index Beban	.....	Kg	

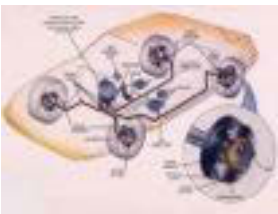
#### BAN DIAGONAL

<b>Kode ban</b>	.....		
Lebar ban	.....	Inchi	
Jenis ban	.....	-	
Diameter pelek	.....	Inchi	
Tingkat lapisan ban	.....	PR	



Catatan hasil identifikasi kerusakan ban :

NO	JENIS KERUSAKAN	PENYEBABNYA
1	Gambar :	
2	Gambar :	
3	Gambar :	
4	Gambar :	



## Chassis Management System (CMS)

# BAB 8 SISTEM REM DENGAN KONTROL ELEKTRONIK ( ABS, ESP, ASR )

### 8.1. Kegiatan Pembelajaran :Pendahuluan SRKE



Dengan mengamati Gambar diatas diskusikan jawaban dari pertanyaan berikut ini :

Apa yang terjadi jika kendaraan melaksanakan pengereman diatas permukaan jalan dilintasi roda kiri permukaan basah dan dilintasi roda kanan permukaan basah beri penjelasan ?

---

---

---

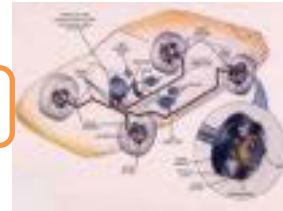
---

---

---

---

---



### 8.1.1. Tujuan Pembelajaran :

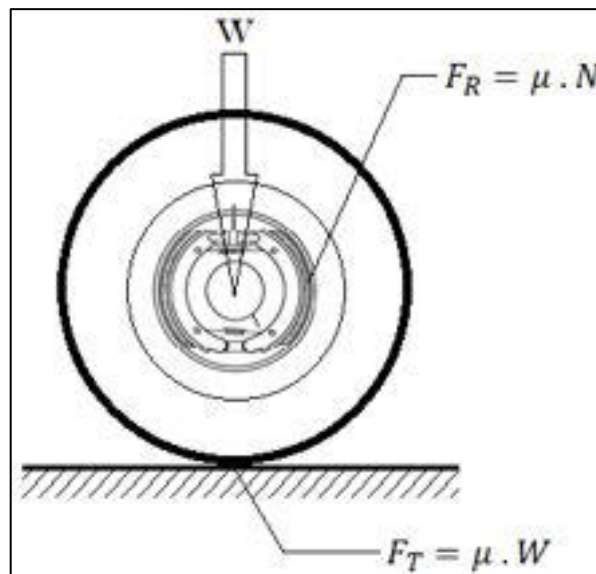
Setelah selesai proses pembelajaran siswa dapat :

- ✓ Menerangkan faktor yang mempengaruhi unjuk kerja system rem kendaraan
- ✓ Menjelaskan pengereman statis dan pengereman dinamis
- ✓ Menerangkan macam-macam konsep regulasi tekanan rem pada system ABS

### 8.1.2. Uraian Materi :

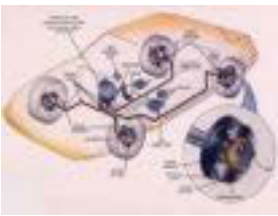
Unjuk kerja system rem

Secara keseluruhan system rem akan membuat perlambatan mobil sesuai injakan pedal rem oleh sopir yang besarnya tergantung dari ;



Gambar 8.1 Unjuk Kerja Sistem Rem

- |                  |                   |
|------------------|-------------------|
| 1. Kemampuan rem | → $F_R$           |
| 2. Traksi        | → $F_T$           |
| 3. W             | → Berat kendaraan |



## Chasis Management System (CMS)

Dimana dalam berbagai kondisi pengereman terdapat beberapa kemungkinan yang terjadi akibat dari saling ketergantungan antara Rem dan Traksi. Hal tersebut dapat diilustrasikan sebagai berikut :

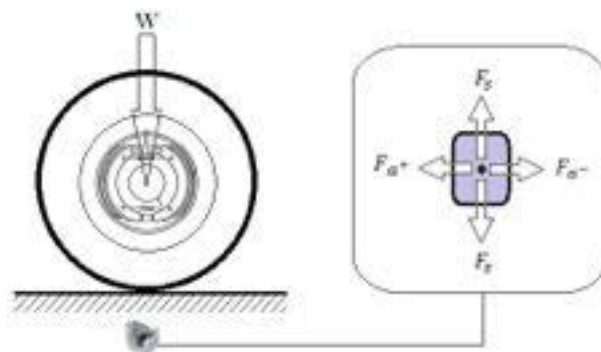
- Kemungkinan 1 →  $F_R < F_T$  Jarak pengereman panjang
- Kemungkinan 2 →  $F_R = F_T$  Pengereman optimal
- Kemungkinan 3 →  $F_R > F_T$  Terjadi slip

$$F_R = F_T \quad \rightarrow \quad \mu_{kanfas} \cdot N = \mu_{jalan} \cdot W$$

$$N = \frac{\mu_{jalan}}{\mu_{kanfas}} \cdot W$$

Traksi :

Dapat diartikan sebagai kemampuan mengalirkan gaya gerak kendaraan ke permukaan jalan yang arahnya sejajar atau melintang terhadap arah gerak kendaraan (arah memanjang).

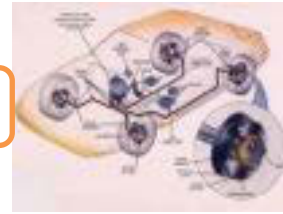


Gambar 8.2 Traksi Roda

$F_{a+}$  = Gaya arah memanjang → Percepatan (mesin penggerak)

$F_{a-}$  = Gaya arah memanjang → Perlambatan (pengereman)

$F_s$  = Gaya arah melintang (samping) → sentrifugal (efek manufer)



Pada proses pengereman gaya rem maksimum sangat tergantung dari besarnya gaya traksi maka :

$$F_{R. max} = F_T = \mu \cdot W$$

Jika besarnya  $F_{Rem} > F_{Traksi}$  akan terjadi slip sehingga kecepatan roda " $V_r$ " menjadi lebih kecil dibandingkan kecepatan kendaraannya " $V_k$ " dan slip biasanya dinyatakan dengan " $s$ " dan besarnya dalam %.

$$s = \frac{V_k - V_r}{V_k} \cdot 100 \%$$

$s$  = Slip

$V_r$  = Kecepatan roda

$V_k$  = Kecepatan kendaraan

Slip adalah perbedaan kecepatan roda dibandingkan dengan kecepatan kendaraan dinyatakan dalam %

Perlambatan Kendaraan

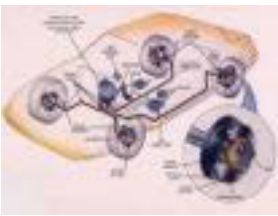
Selama proses pengereman terjadi, maka kecepatan kendaraan turun untuk menghitungnya, kita memakai perlambatan ( $a$ )

$$a = \frac{\Delta V}{t} = \frac{\text{Perubahan kecepatan}}{\text{waktu yg ditempuh}}$$

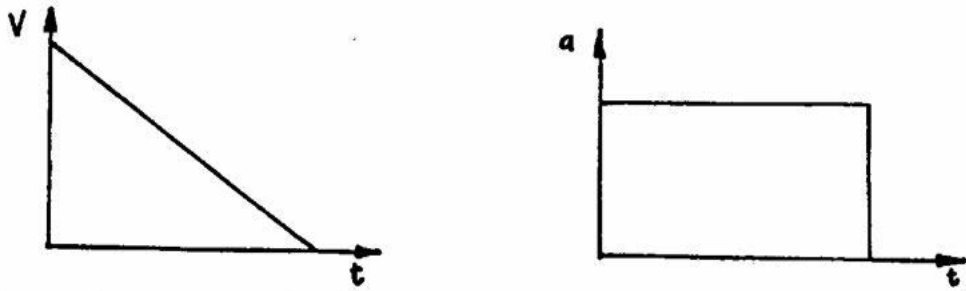
Jika :

$\Delta V = \text{konstan} \rightarrow a = \text{Konstan}$



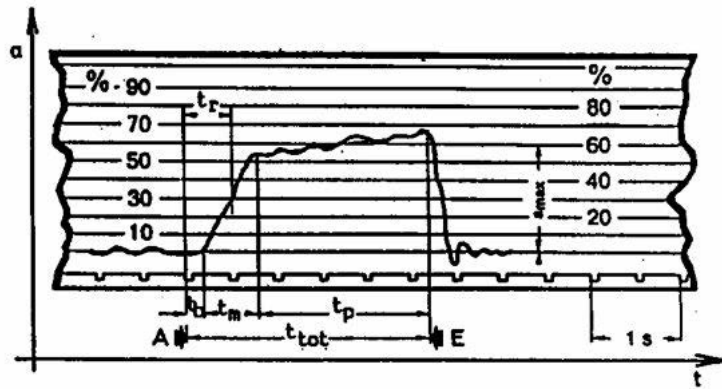


## Chassis Management System (CMS)



Gambar 8.3 Grafik Perlambatan

Pada kenyataannya perlambatan itu tidak konstan, seperti ditunjukkan pada gambar di bawah ini yang didapat dari pesawat diagram perlambatan.



Gambar 8.4 Grafik Hasil Pengukuran Perlambatan

Untuk perhitungan diagram seperti di atas tidak mempunyai pengaruh, kita dapat menggunakan  $a_{rata-rata}$

$t_r$  = waktu reaksi

$t_b$  = waktu pada gerak bebas torak

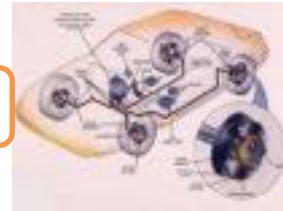
$t_m$  = waktu membangun pengereman

$t_p$  = waktu pengereman

$t_{tot}$  = Jumlah waktu pengereman teknis

A = Saat akan menekan pedal rem

L = Saat melepas pedal rem



Untuk perhitungan kita hanya memerlukan  $a$  rata-rata

$$a_{rata-2} < a_{max}$$

Karena waktu yang diperlukan untuk membangun gaya pengereman

Dalam perhitungan, kita masih memperhitungkan Faktor waktu ( $e$ ), ( $e$ ) adalah kecepatan untuk membangun tekanan di dalam sistem rem, makin besar harga ( $e$ ), makin baik sistem rem tersebut

$$e \text{ untuk rem hidraulis } 0,8$$

Jadi :  $a_{rata-2} = a_{max} \cdot e$

$$a_{rata-2} = 9,81 \cdot 0,8 \rightarrow \text{Untuk sistem rem hidraulis yang baik}$$

Perlambatan maksimum ;

Dalam proses pengereman perlambatan maksimum dapat dicapai jika besarnya gaya rem " $F_R$ " sama dengan gaya gerak kendaraan " $F_k$ " sehingga  $a_{max}$  adalah sebesar :

$$F_R = F_T = \mu \cdot W \quad \text{dan} \quad F_k = m \cdot a \quad (\text{hukum Newton II})$$

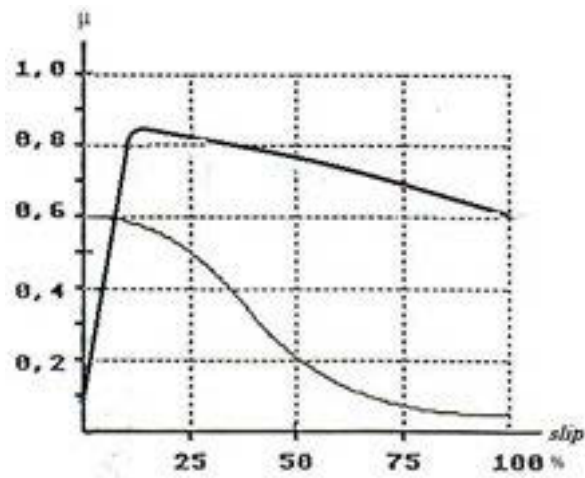
$$\mu \cdot W = m \cdot a \quad \rightarrow \quad \mu \cdot m \cdot g = m \cdot a$$

$$a = \frac{\mu \cdot m \cdot g}{m} = \mu \cdot g$$

Maka besarnya  $a_{max} = \mu \cdot g$

Hubungan slip dan  $\mu$  :

Dari hasil percobaan diperoleh gambar grafik hubungan s dg  $\mu$  bahwa ;



Gambar 8.5 Grafik Hubungan Slip dan Koefisien Gesek

Pada saat slip 100 % ( Blockiert ) maka :

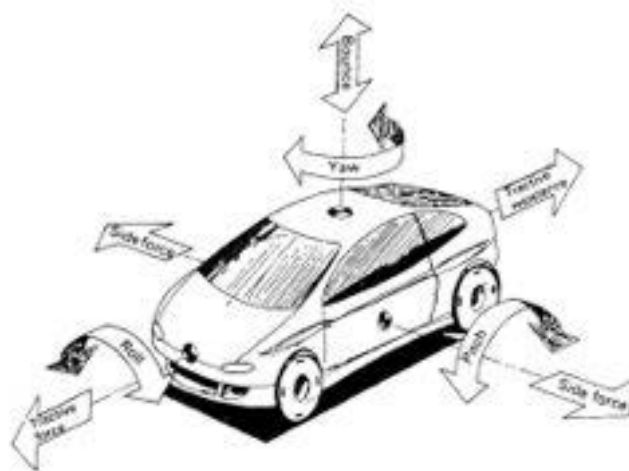
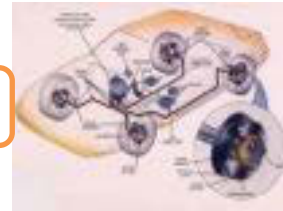
- Gaya pengereman mengecil → jarak pengereman panjang
- Gaya samping kecil hampir 0

Slip antara 10-30% :

- Pengereman optimal
- Gaya samping masih baik

Pengereman statis dan dinamis :

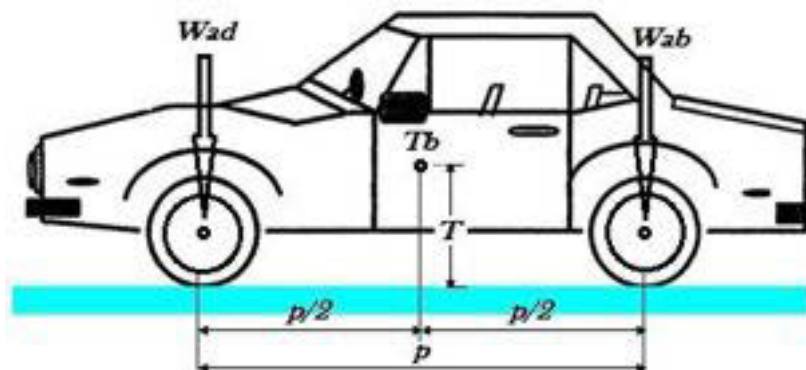
- 1) Pengereman saat mobil diam → Tidak ada perubahan traksi pada roda depan dan belakang
- 2) Pengereman saat mobil bergerak → Terdapat perubahan traksi pada roda depan dan belakang akibat guncangan mobil



Gambar 8.6 Guncangan Kendaraan

Perubahan beban aksel " $W$ " :

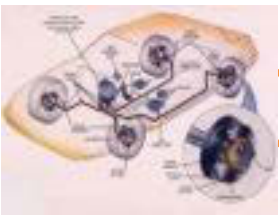
Beban aksel statis



Gambar 8.7 Beban Aksel Statis

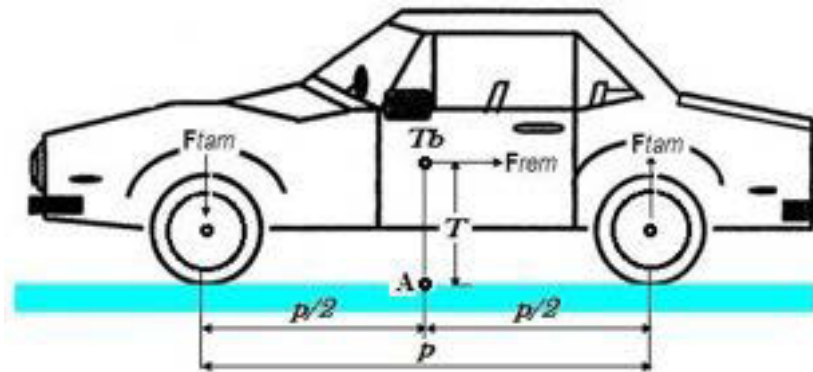
- $Tb$**  = Titik berat kendaraan
- $Wad$**  = Beban aksel depan (Kg)
- $Wab$**  = Beban aksel belakang (Kg)
- $m$**  =  $Wad + Wab$  = massa kendaraan (Kg)
- $T$**  = Tinggi titik berat kendaraan (m)
- $P$**  = Jarak sumbu roda (m)

Dengan asumsi penyebaran beban merata kesemua roda maka  **$Wad = Wab$**



## Chassis Management System (CMS)

Beban aksel dinamis (pengereman saat mobil berjalan)



Gambar 8.8 Beban Aksel Dinamis

Rumus dasar :

$$F = m \cdot a$$

$$M_A = F \cdot T$$

$F$  = Gaya gerak kendaraan

$m$  = Massa kendaraan

$a$  = Perlambatan kendaraan

$T$  = Tinggi titik berat

$M_A$  = Momen di titik A

Gaya pengereman menimbulkan momen pengereman pada titik MA yang besarnya :

$$M_A = F_{rem} \cdot T \quad \rightarrow \quad M_A = m \cdot a \cdot T$$

Karena ,

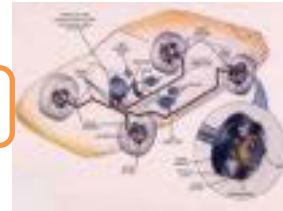
$m$  = tetap

$T$  = tetap

Maka ,

“a” = besar  $\rightarrow$  momen pengereman besar

“a” = kecil  $\rightarrow$  momen pengeremen kecil



Dengan pendekatan keseimbangan momen di titik A diperoleh ,

$$\sum M_A = 0$$

$$M_{rem} - M_{tam} - M_{tam} = 0$$

$$F_{rem} \cdot T - F_{tam} \cdot \frac{1}{2} \cdot p - F_{tam} \cdot \frac{1}{2} \cdot p = 0$$

$$F_{rem} \cdot T = F_{tam} \cdot \frac{1}{2} \cdot p + F_{tam} \cdot \frac{1}{2} \cdot p$$

$$F_{rem} \cdot T = F_{tam} \cdot p$$

$$F_{tam} = \frac{F_{rem} \cdot T}{p} \quad \rightarrow \quad F_{tam} = F_{rem} \cdot \frac{T}{p}$$

$$W_{ad} = m_{ad} \cdot g + F_{rem} \cdot \frac{T}{p} \quad \rightarrow \quad \text{Penambahan beban aksel depan}$$

$$W_{ab} = m_{ab} \cdot g - F_{rem} \cdot \frac{T}{p} \quad \rightarrow \quad \text{Pengurangan beban aksel belakang}$$



Gambar 8.9 Contoh perubahan Beban Aksel

“ Terjadi guncangan pitching saat pengereman dinamis “

Perubahan beban aksel (pitching) tergantung :

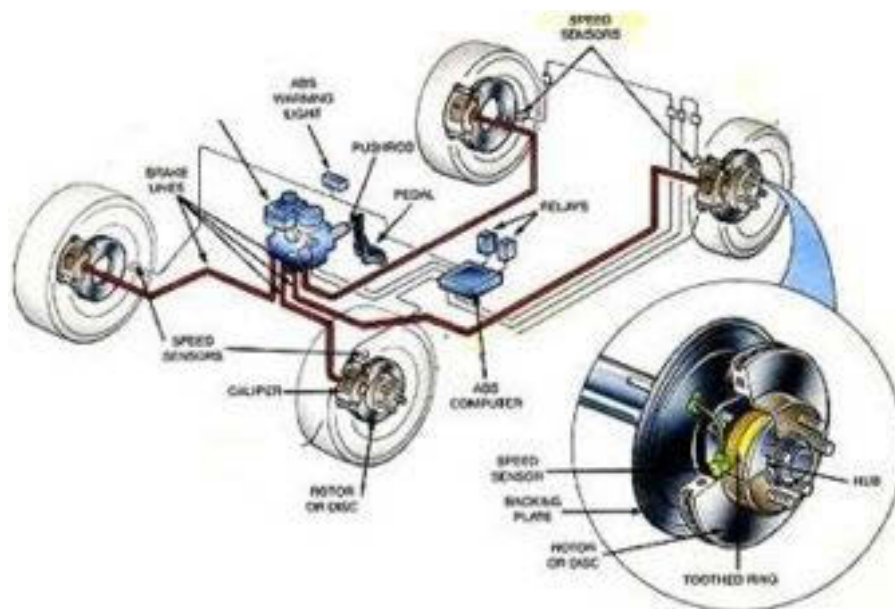
- Perlambatan yang terjadi  $\rightarrow$  “  $a$  “
- Ketinggian titik berat  $\rightarrow$  “  $T$  “
- Jarak sumbu roda  $\rightarrow$  “  $p$  “

## Chasis Management System (CMS)

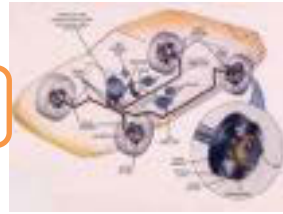
Berat kendaraan secara keseluruhan tidak berubah, jika tekanan rem pada aksel belakang penuh, tetapi berat aksel berkurang maka roda belakang memblokir (tidak stabil).

Pengereman dinamis dalam kenyataannya merupakan permasalahan utama yang harus dipertimbangkan untuk mencapai unjuk kerja system rem yang optimal dan stabil, hal terpenting ialah dengan memperhatikan slip sebagai masalah utama dan traksi adalah sebagai sumber permasalahannya maka Anti Lock-brake System (ABS) dengan konsep kerja meniadakan slip selama proses pengereman berlangsung menjadi solusi dalam mengatasi permasalahan pengereman dinamis tersebut.

Sistem ABS adalah suatu sistem yang merupakan pengembangan dari sistem rem pada kendaraan yang dilengkapi dengan sistem kontrol, dengan pemasangan sensor putaran roda maka dapat diketahui apakah roda dalam keadaan slip akibat perlambatan, kelengkapan lain dipasang juga unit aktuator serta elektronik kontrol unit (ECU), sehingga sensor dapat memberikan sinyal ke ECU untuk diolah sedemikian rupa dan menghasilkan sinyal output ke aktuator guna mengkondisikan roda tidak terjadi slip.



Gambar 8.10 Sistem Rem dengan ABS

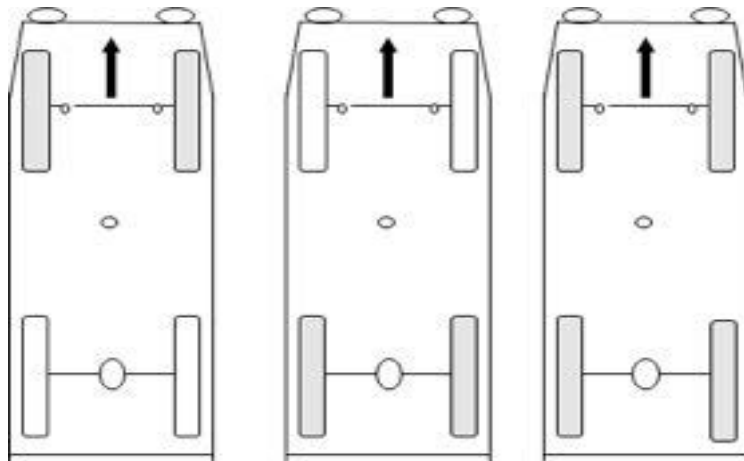


Dengan penerapan sistem kontrol tersebut pengereman optimal dapat dipertahankan selama proses pengereman berlangsung dalam berbagai keadaan (**panik**) dan kondisi jalan ( **$\mu$  jelek**), sehingga perlambatan tetap optimal dan kendaraan bergerak stabil serta kemampuan kendali berjalan normal.

Sifat pengereman pada koefisien jalan **simetris** dan aksel blokir :

Blokir pada aksel :

( $\mu$  kiri =  $\mu$  kanan)



Gambar 8.11 Blokir Pada Jarak Sumbu Roda Yang Sama

Sifat :

– Gaya samping

<i>Aksel depan</i>	<i>Kecil sekali</i>	<i>Besar</i>	<i>Kecil</i>
--------------------	---------------------	--------------	--------------

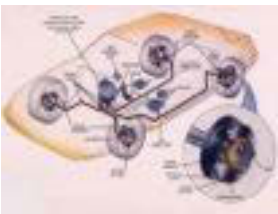
<i>Aksel belakang</i>	<i>Besar</i>	<i>Kecil</i>	<i>Kecil</i>
-----------------------	--------------	--------------	--------------

– Bahaya melanting	<i>Kecil</i>	<i>Besar</i>	<i>Kecil</i>
--------------------	--------------	--------------	--------------

– Kemampuan kendali	<i>Kecil/ 0</i>	<i>Sangat kecil</i>	<i>0</i>
---------------------	-----------------	---------------------	----------

– Tingkat bahaya	<i>Kecil</i>	<i>Besar</i>	<i>Menengah</i>
------------------	--------------	--------------	-----------------

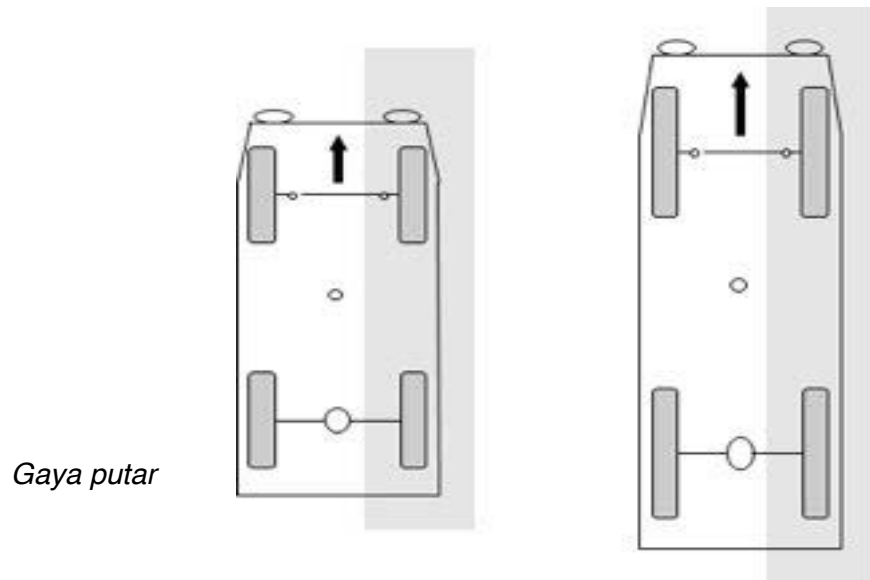




## Chassis Management System (CMS)

Sifat pengereman koefisien jalan *asimetris* dan gaya rem besar :

***Jika sumbu roda :***



Gambar 8.12 Blokir Pada Jarak Sumbu Roda Yang Berbeda

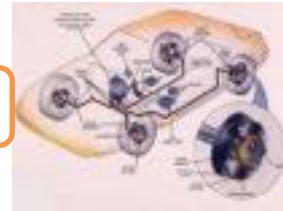
$\mu =$	0,8	0,1	0,8	0,1
	$\mu - split$		$\mu - split$	

Sifat :

- |                         |                        |                    |
|-------------------------|------------------------|--------------------|
| – Perubahan beban aksel | <i>Besar</i>           | <i>Kecil</i>       |
| – Gaya putar            | <i>Besar</i>           | <i>Kecil</i>       |
| – Koreksi kemudi        | <i>Besar dan cepat</i> | <i>Kecil</i>       |
| – Pengendalian          | <i>Sulit</i>           | <i>Lebih mudah</i> |

Perbaikan :

- Gaya rem roda belakang dengan  $\mu = 0,8$  *diperkecil (SLR)*
- Gaya rem roda depan dengan  $\mu = 0,8$  *dibatasi (MIR)*
- Gaya rem roda depan dengan  $\mu = 0,8$  dinaikkan *bertahap-tahap*  
batasi (GMA)

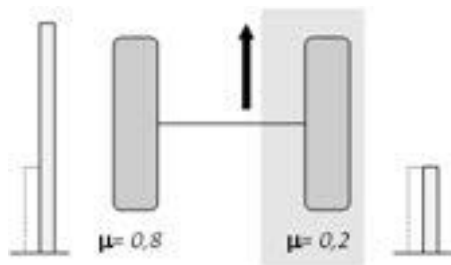


### Kesimpulan :

Sifat pengereman yang optimal terbatas dari

- Kompromis antara *jarak pengereman* dan *pengendalian mobil*
- Perbaikan gaya putar pada kendaraan tergantung dari *kecepatan* dan *jarak sumbu rodanya*.

### Macam-macam pengaturan tekanan rem pada aksel



Gambar 8.13 Konsep Regulasi SLR

#### - SLR "Select Low Regulator"

##### Definisi :

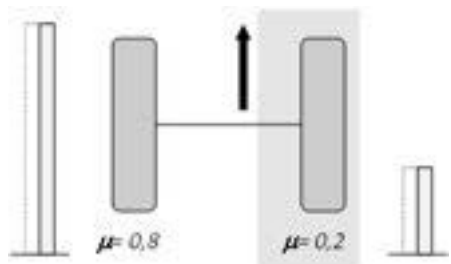
$\mu$  roda yang *lebih kecil* menentukan besarnya gaya pengereman *maksimal* kedua roda.

##### Akibat :

- \* Menghindari blokir *ada*
- \* Gaya samping *baik*
- \* Momen putar *tidak ada*
- \* Jarak pengereman *sedikit panjang*

##### Penggunaan :

Semua kendaraan sedan dan truk ringan pada aksel belakang.



Gambar 8.14 Konsep Regulasi IR

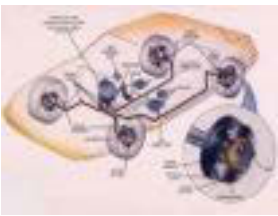
#### - IR "Individual Regulation"

##### Definisi :

Tekanan rem diatur pada *setiap roda* sesuai dengan  $\mu$  masing-masing roda.

##### Akibat :

- \* Menghindari blokir *ada*



## Chassis Management System (CMS)

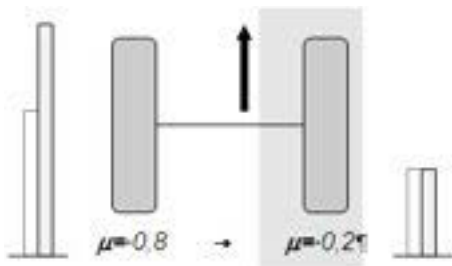
- \* Gaya samping *baik*
- \* Momen putar *besar*
- \* Jarak pengereman *pendek*

### Penggunaan :

Aksel depan dengan jarak sumbu roda panjang

Gaya rem maksimum

Gaya rem regulasi



Gambar 8.15 Konsep Regulasi MIR

– MIR “Modified Individual Regulation”

### Definisi :

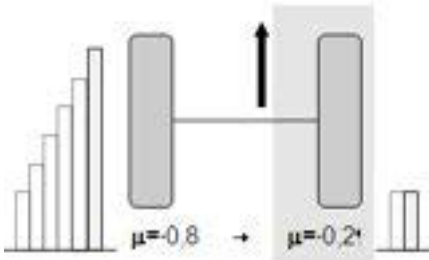
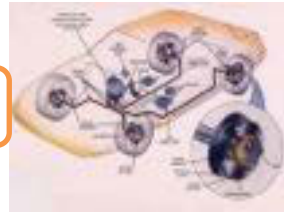
Gaya pengereman pada roda yang  $\mu$  besar dibatasi.

### Akibat :

- \* Menghindari blokir *ada*
- \* Gaya samping *baik sekali*
- \* Momen putar *menengah*
- \* Jarak pengereman *sedikit panjang*

### Penggunaan :

Aksel depan dengan jarak sumbu roda pendek (jarak offset besar +).



Gambar 8.16 Konsep Regulasi GMA

– GMA “Gier Moment Aufbauverzögerung”

Definisi :

Gaya pengereman pada roda dengan  $\mu$  besar dinaikkan *bertahap-tahap*.

Akibat :

- \* Menghindari blokir *ada*
- \* Gaya samping *baik*
- \* Momen putar *kecil → besar (ditunda)*
- \* Jarak pengereman *sedikit panjang*

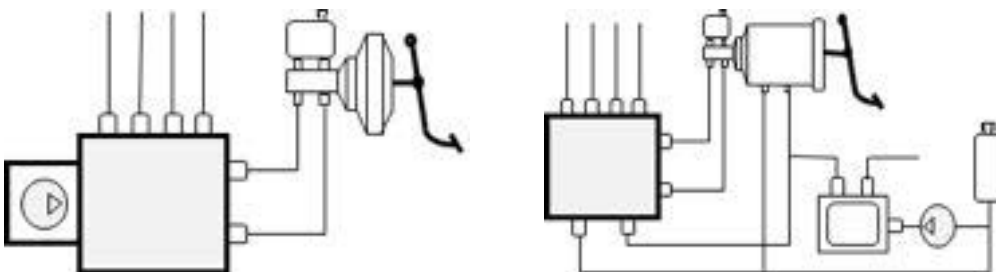
Penggunaan :

Kendaraan sedan dengan jarak sumbu roda pendek

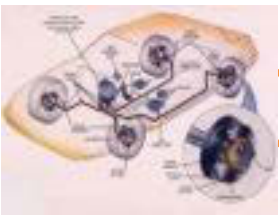
Gaya rem maksimum

Gaya rem regulasi

Sistem terpisah (Add-on)



Gambar 8.17 ABS dengan *pompa tekan tersendiri* dan ABS dengan pompa tekan sentral (*contoh Citroen*)

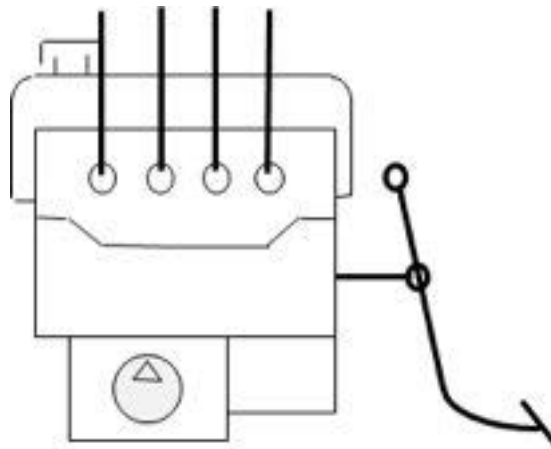


## Chassis Management System (CMS)

### Sifat :

- Relatif *sederhana*
- Kemungkinan gangguan *kecil*
- Mudah *penempatannya*

### Sistem terpadu



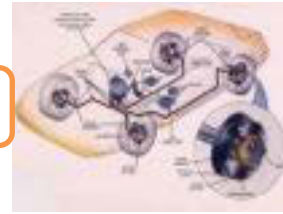
Gambar 8.18 ABS Sistem Terpadu

### Sifat :

- Perakitan *mudah dan cepat*
- Penguat gaya kaki besar (*dengan faktor penguat besar*)
- Tekanan cadangan pada waktu mesin mati besar  $\pm$  cukup untuk 25 kali pengereman penuh
- Getaran pedal saat ABS bekerja *kecil*

### **8.1.3. Rangkuman :**

- 1) Faktor-faktor yang mempengaruhi unjuk kerja system rem kendaraan antara lain :
  - ✓ Kemampuan rem (Gaya rem)
  - ✓ Traksi



- 2) Pengereman Statis adalah pengereman saat mobil diam sehingga tidak ada perubahan traksi pada roda depan dan belakang.
- 3) Pengereman dinamis adalah pengereman saat mobil bergerak sehingga terdapat perubahan traksi pada roda depan dan belakang akibat guncangan mobil.
- 4) Macam-macam konsep regulasi tekanan rem pada system ABS yaitu :
  - ✓ SLR "Select Low Regulator"
  - ✓ IR "Individual Regulation"
  - ✓ MIR "Modified Individual Regulation"
  - ✓ GMA "Gier Moment Aufbauverzögerung"

#### 8.1.4. Tugas :

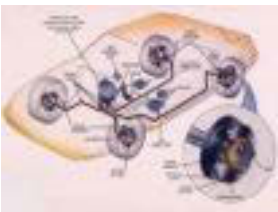
Lakukan uji coba pengereman dinamis pada kendaraan, diskusikan apa yang terjadi terhadap perubahan beban aksel dan apa solusinya supaya pengereman bisa optimal !

#### 8.1.5. Tes Formatif :

- 1) Jelaskan Faktor-faktor yang mempengaruhi unjuk kerja system rem kendaraan !
- 2) Jelaskan pengertian pengereman statis !
- 3) Jelaskan pengertian pengereman dinamis !
- 4) Sebutkan macam-macam konsep regulasi tekanan rem pada system ABS !

#### 8.1.6. Lembar Jawaban Tes Formatif :

- 1) Faktor-faktor yang mempengaruhi unjuk kerja system rem kendaraan antara lain :
  - ✓ Kemampuan rem (Gaya rem)
  - ✓ Traksi
- 2) Pengereman Statis adalah pengereman saat mobil diam sehingga tidak ada perubahan traksi pada roda depan dan belakang.



## Chassis Management System (CMS)

- 3) Pengereman dinamis adalah pengereman saat mobil bergerak sehingga terdapat perubahan traksi pada roda depan dan belakang akibat guncangan mobil.
- 4) Macam-macam konsep regulasi tekanan rem pada system ABS yaitu :
  - ✓ SLR "Select Low Regulator"
  - ✓ IR "Individual Regulation"
  - ✓ MIR "Modified Individual Regulation"
  - ✓ GMA "Gier Moment Aufbauverzögerung"

### 8.1.7. Lembar Kerja Siswa :

Hasil uji coba :
Solusi :



## 8.2. Kegiatan Pembelajaran :Anti Lock-Brake System



Dengan mengamati Gambar diatas diskusikan jawaban dari pertanyaan berikut ini :

Apa yang terjadi jika kendaraan melaksanakan pengereman penuh diatas permukaan jalan licin dan bisakah menghindari rintangan didepannya beri penjelasan ?

---

---

---

---

---

---

---





## Chassis Management System (CMS)

### 8.2.1. Tujuan Pembelajaran :

Setelah selesai proses pembelajaran siswa dapat :

- 1) Menerangkan nama komponen dan fungsinya pada konstruksi system ABS
- 2) Menjelaskan siklus kerja system ABS
- 3) Menjelaskan macam-macam ABS

### 8.2.2. Uraian Materi :

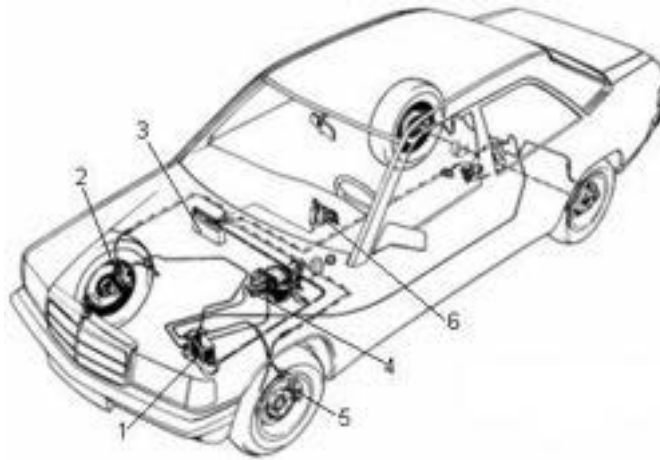
Pengertian Dasar ABS

Kestabilan jalan kendaraan saat pengereman sangat dipengaruhi oleh beberapa hal :

- Kondisi koefisien jalan “ $\mu$ ” (*simetris/asimetris*)
- Pada *akselerasi* mana roda blokir
- Jarak sumbu roda

Konstruksi Anti Lock Brake System (ABS)

ABS merupakan sistem tambahan pada sistem rem kendaraan terpasang secara terpadu (*integrated*), dalam fungsi kerjanya keduanya bekerja bersama mencapai tujuan sistem dan bila ABS terdapat gangguan/rusak tidak mengganggu fungsi utama sistem rem sehingga ABS hanya sebagai fungsi tambahan untuk meregulasi tekanan pada kondisi dan keadaan pengereman tertentu.



Gambar 8.19 Kontruk Sistem Rem Dengan ABS

Nama Komponen :

- |                     |                        |
|---------------------|------------------------|
| 1. Unit hidraulis   | 2. Sensor putaran roda |
| 3. Kontrol unit ABS | 4. Silinder master     |
| 5. Kaliper          | 6. Lampu kontrol ABS   |


Tujuan Anti Lock Brake System (ABS)

Ada beberapa tujuan yang dicapai pada kendaraan yang dilengkapi dengan sistem ABS antara lain :

- Kemampuan pengendalian stir baik saat pengereman penuh
- Stabilitas kendaraan tetap baik saat pengereman pada semua kondisi jalan.
- Jarak pengereman sekecil mungkin dapat tercapai.

Fungsi Komponen ABS

Komponen ABS memiliki fungsi masing-masing sehingga sistem dapat bekerja sesuai dengan tujuan yang akan dicapai :

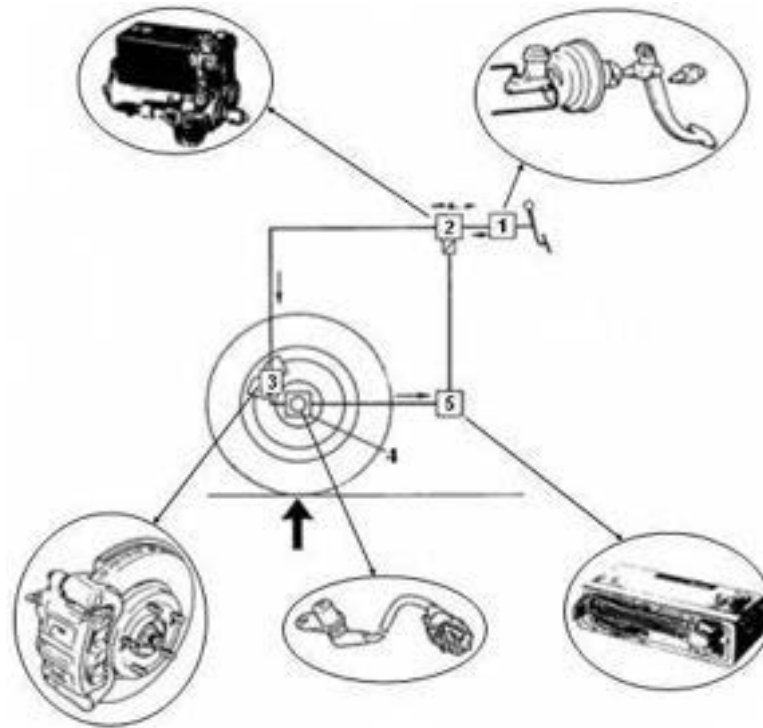


Gambar 8.20. Fungsi Komponen ABS

- Sensor putaran dan roda gigi, membangkitkan sinyal listrik dengan menginduksikan arus bolak balik berdasarkan putaran roda.
- Kontrol unit, berfungsi :
  - Menghitung percepatan / perlambatan roda, menghitung besaran slip dan menentukan kecepatan reverensi kendaraan.
  - Menetapkan sinyal listrik untuk mengendalikan katup regulator tekanan
  - Rangkaian keamanan memeriksa fungsi dari sinyal input sebelum dan selama katup regulator tekanan bekerja → fungsi ABS berhenti dan lampu menyala.
- ✓ Unit hidraulis berfungsi :
  - Meregulasi tekanan rem umumnya pada tiga posisi kerja di setiap roda :
  - Mempertahankan tekanan pada silinder roda.
  - Menurunkan tekanan pada silinder roda walaupun pedal rem tetap diinjak
  - Menaikkan tekanan pada silinder roda



### Siklus kerja ABS



Gambar 8.21 Siklus Kerja ABS

Proses pengaturan dalam sistem anti blokir (ABS) merupakan rangkaian proses tertutup yang berlangsung berulang-ulang.

- ✓ Tekanan dari silinder (1), mengalir melalui katup elektro magnetis (2) ke kaliper (3)
- ✓ Sensor putaran roda (4) mengukur putaran dan mengirim sinyal putaran tersebut ke kontrol unit ABS (5)
- ✓ Kontrol unit ABS (5) mengolah sinyal putaran dan menetapkan sinyal out put dan mengirim ke katup elektro magnetis (2)
- ✓ Katup elektro magnetis (2) berdasarkan sinyal out put dari kontrol unit mengatur tekanan rem dari silinder master ke kaliper sesuai dengan kebutuhan (menaikkan, menahan dan menurunkan tekanan)



## Chassis Management System (CMS)

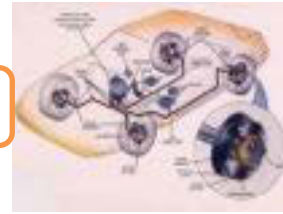
### Macam-macam sistem ABS

Sistem ABS berdasarkan aliran hidrolis, penggunaan katup dan cara kerjanya ada beberapa macam :

- ✓ Sistem Anti Blokir Aliran Tertutup dengan Katup Magnet 2/2 (2 saluran/2 fungsi)
- ✓ Sistem Anti Blokir Aliran Tertutup dengan Katup Magnet 3/3 (3 saluran/ 3 fungsi)
- ✓ Sistem Anti Blokir (ABS) Aliran Terbuka Katup Magnet 2/2 (2 saluran/2 fungsi)
- ✓ Sistem Anti Blokir (ABS) Aliran Terbuka Katup Magnet 3/3 (3 saluran/3 fungsi)

### 8.2.3. Rangkuman :

- 1) Macam-macam komponen sistem ABS dan fungsinya :
  - ✓ Sensor putaran dan roda gigi, membangkitkan sinyal listrik dengan menginduksikan arus bolak balik berdasarkan putaran roda.
  - ✓ Kontrol unit , berfungsi :
    - Menghitung percepatan / perlambatan roda, menghitung besaran slip dan menentukan kecepatan reverensi kendaraan.
    - Menetapkan sinyal listrik untuk mengendalikan katup regulator tekanan
    - Rangkaian keamanan memeriksa fungsi dari sinyal in put sebelum dan selama katup regulator tekanan bekerja → fungsi ABS berhenti dan lampu menyala.
  - ✓ Unit hidraulis berfungsi :
    - Meregulasi tekanan rem umumnya pada tiga posisi kerja di setiap roda :
    - Mempertahankan tekanan pada silinder roda.
    - Menurunkan tekanan pada silinder roda walaupun pedal rem tetap diinjak
    - Menaikkan tekanan pada silinder roda



### 2) Siklus kerja ABS

Proses pengaturan dalam sistem anti blokir (ABS) merupakan rang-kaian proses tertutup yang berlang-sung berulang-ulang.

- ✓ Tekanan dari silinder (1), mengalir melalui katup elektro magnetis (2) ke kaliper (3)
- ✓ Sensor putaran roda (4) mengukur putaran dan mengirim sinyal putaran tersebut ke kontrol unit ABS (5)
- ✓ Kontrol unit ABS (5) mengolah sinyal putaran dan menetapkan sinyal out put dan mengirim ke katup elektro magnetis (2).
- ✓ Katup elektro magnetis (2) berdasarkan sinyal out put dari kontrol unit mengatur tekanan rem dari silinder master ke kaliper sesuai dengan kebutuhan (menaikkan, menahan dan menurunkan tekanan)

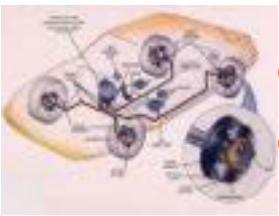
### 3) Macam-macam sistem ABS , antara lain :

Sistem ABS berdasarkan aliran hidrolis, penggunaan katup dan cara kerjanya ada beberapa macam :

- ✓ Sistem Anti Blokir Aliran Tertutup dengan Katup Magnet 2/2 (2 saluran/2 fungsi)
- ✓ Sistem Anti Blokir Aliran Tertutup dengan Katup Magnet 3/3 (3 saluran/ 3 fungsi)
- ✓ Sistem Anti Blokir (ABS) Aliran Terbuka Katup Magnet 2/2 (2 saluran/2 fungsi)
- ✓ Sistem Anti Blokir (ABS) Aliran Terbuka Katup Magnet 3/3 (3 saluran/3 fungsi)

#### 8.2.4. Tugas :

Lakukan pengamatan pada kendaraan dengan sistem rem ABS, kemudian sebutkan komponennya dan cara kerja sistem tersebut !



## Chassis Management System (CMS)

### 8.2.5. Tes Formatif :

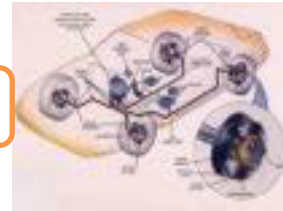
- 1) Jelaskan komponen sistem ABS dan fungsinya !
- 2) Jelaskan siklus kerja sistem rem ABS !
- 3) Sebutkan macam-macam sistem ABS !

### 8.2.6. Lembar Jawaban Tes Formatif :

- 1) Macam-macam komponen sistem ABS dan fungsinya :
  - ✓ Sensor putaran dan roda gigi, membangkitkan sinyal listrik dengan menginduksikan arus bolak balik berdasarkan putaran roda.
  - ✓ Kontrol unit , berfungsi :
    - Menghitung percepatan / perlambatan roda, menghitung besaran slip dan menentukan kecepatan reverensi kendaraan.
    - Menetapkan sinyal listrik untuk mengendalikan katup regulator tekanan
    - Rangkaian keamanan memeriksa fungsi dari sinyal in put sebelum dan selama katup regulator tekanan bekerja → fungsi ABS berhenti dan lampu menyala.
  - ✓ Unit hidraulis berfungsi :
    - Meregulasi tekanan rem umumnya pada tiga posisi kerja di setiap roda :
    - Mempertahankan tekanan pada silinder roda.
    - Menurunkan tekanan pada silinder roda walaupun pedal rem tetap diinjak
    - Menaikkan tekanan pada silinder roda
- 2) Siklus kerja ABS

Proses pengaturan dalam sistem anti blokir (ABS) merupakan rangkaian proses tertutup yang berlangsung berulang-ulang.

  - ✓ Tekanan dari silinder (1), mengalir melalui katup elektro magnetis (2) ke kaliper (3)



- ✓ Sensor putaran roda (4) mengukur putaran dan mengirim sinyal putaran tersebut ke kontrol unit ABS (5)
- ✓ Kontrol unit ABS (5) mengolah sinyal putaran dan menetapkan sinyal out put dan mengirim ke katup elektro magnetis (2).
- ✓ Katup elektro magnetis (2) berdasarkan sinyal out put dari kontrol unit mengatur tekanan rem dari silinder master ke kaliper sesuai dengan kebutuhan (menaikkan, menahan dan menurunkan tekanan)

3) Macam-macam sistem ABS

Sistem ABS berdasarkan aliran hidrolis, penggunaan katup dan cara kerjanya ada beberapa macam :

- ✓ Sistem Anti Blokir Aliran Tertutup dengan Katup Magnet 2/2 (2 saluran/2 fungsi)
- ✓ Sistem Anti Blokir Aliran Tertutup dengan Katup Magnet 3/3 (3 saluran/ 3 fungsi)
- ✓ Sistem Anti Blokir (ABS) Aliran Terbuka Katup Magnet 2/2 (2 saluran/2 fungsi)
- ✓ Sistem Anti Blokir (ABS) Aliran Terbuka Katup Magnet 3/3 (3 saluran/3 fungsi)

**8.2.7. Lembar Kerja Siswa :**

Komponen sistem rem ABS :

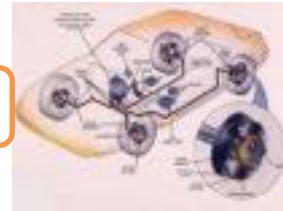
Komponen sistem rem ABS :





## Chasis Management System (CMS)

Cara kerja sistem rem ABS :



### Daftar Pustaka

<http://web.ipb.ac.id/~tepfeta/elearning/media/Bahan%20Ajar%20Motor%20dan%20Tenaga%20Pertanian/sistem%20transmisi%20tenaga-1.htm>

<http://www.wardautomotive.net/blog/bid/183763/The-top-5-things-that-can-go-wrong-with-your-car-s-clutch>

<http://www.wardautomotive.net/blog/bid/183763/The-top-5-things-that-can-go-wrong-with-your-car-s-clutch>

[http://www.learneasy.info/MDME/MEMmods/MEM30009A/shaft\\_drives/shaft\\_drives.html](http://www.learneasy.info/MDME/MEMmods/MEM30009A/shaft_drives/shaft_drives.html)

<http://houston superbikes.com/i-8575726-barnett-ducatti-dry-clutch-pack-1098-hpm-1100-monster-1100.html>

<http://www.rimmerbros.co.uk/Item--i-RH5009>

<http://www.made-in-china.com/showroom/zoewan/product-detailsKBQSyjPSxVe/China-Auto-AC-Magnetic-Clutch-for-Honda-CRV-2-0-1204002-.html>

<http://businesslocalarticles.com/2012/01/torque-converters-why-do-we-need-to-customize-them/>

<http://www.kseriesparts.com/cr/CC-2-800-ST.html>

Toyibu, Drs, 1987, **Modul Pelatihan Sistem Pemindah Tenaga**, Dept. Automotive VEDC, Malang,

Farid, M, Drs, 2000, **Modul Pelatihan Sistem Kemudi**, Dept. Automotive VEDC, Malang,

Training Support & Development, 2003, **Steering & Suspension**, Hyundai Motor Company, Korea,

Ketut Suminta, Drs, 2000, **Modul Pelatihan Geometri Roda**, Dept. Automotive VEDC, Malang,

Farid, M, Drs, 2000, **Modul Pelatihan Sistem Rem**, Dept. Automotive VEDC, Malang,

Team Fakultas Teknik UNY, 2004, **Perbaikan Kopling dan Komponen-komponennya**, Direktorat PSMK, Jakarta

Diunduh dari BSE.Mahoni.com

